



وزارة التعليم
Ministry of Education



رؤية
VISION 2030
الوزارة
MINISTRY OF EDUCATION
KINGDOM OF SAUDI ARABIA

قياس أداء طالب/ة للصف الأول ابتدائي لمادة العلوم للعام
الدراسي 1443هـ (نموذج 1)

10

اسم الطالب/ة..... الدرجة الكلية

المملكة العربية السعودية
وزارة التعليم
الإدارة العامة للتعليم في منطقة القصيم
الشؤون التعليمية (بنات)
مكتب التعليم جنوب
قسم الصفوف الأولية

4

السؤال الأول:

اختر الإجابة الصحيحة من بين الخيارات الآتية

1. أي من المخلوقات التالية تعتبر من المخلوقات الحية؟

- صخور ○ حيوانات ○ تربة

2. البحار من مواطن المياه..... ويعيش فيها الثدييات والاسماك؟

- المالحة ○ غير المالحة ○ العذبة

3. من خصائص المادة الصلبة انها؟

- شكلها ثابت ○ سريعة الانتشار ○ تأخذ شكل الوعاء

4. أي مما يلي يعتبر من موارد الطبيعة؟




السؤال الثاني

2

ضع اسم كل جزء من أجزاء النبات تحت الصورة المناسبة:

جذور ساق أوراق زهرة



السؤال الثالث

2

صل بين الصورة والكلمة المناسبة

(أ) الصحراء



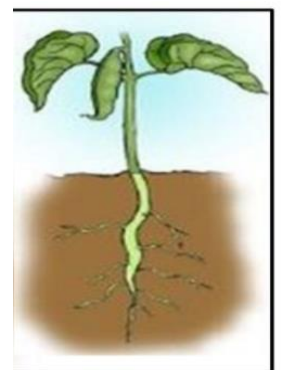
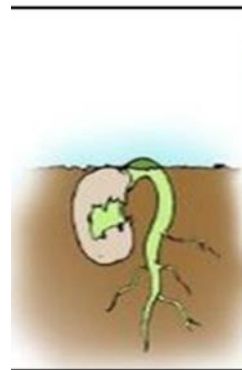

(ب) الغابة



السؤال الرابع: رتب مراحل حياة الفاصوليا بوضع الرقم المناسب تحت الصورة

2

(1) بذرة (2) بذرة لها جذور (3) بادره (4) نبات مكتمل النمو



تصنيف المستوى:

المستوى	المستوى فوق المتوسط	المستوى المتوسط	المستوى دون المتوسط
<u>الدرجة</u>	<u>8-10</u>	<u>5-7</u>	<u>1-4</u>
تصنيف الطالب/ة			