

**إجابة تدريبات و تطبيقات**  
**نهاية الفصل الدراسي الأول**  
**مادة / الجغرافيا**  
**الصف / الحادي عشر**  
**المسار / أدبي**  
**العام الدراسي 2020/2019 م**



**إعداد قسم /**  
**العلوم الاجتماعية**

**لا تغني عن الكتاب المدرسي**

## أولاً : الأسئلة الموضوعية

السؤال الأول : اختر الإجابة الصحيحة من بين الإجابات التالية :

- 1) أكبر قارات العالم مساحة :  
أ- آسيا . ب- أوروبا . ج- أفريقيا . د- أستراليا .
- 2) تبلغ مساحة قارة آسيا :  
أ- 24.5 مليون كم<sup>2</sup> . ب- 34.5 مليون كم<sup>2</sup> . ج- 44.5 مليون كم<sup>2</sup> . د- 54.5 مليون كم<sup>2</sup> .
- 3) تمتد قارة آسيا بين دائرتي عرض :  
أ- 10 جنوباً و81 شمالاً . ب- 20 جنوباً و81 شمالاً . ج- 30 جنوباً و81 شمالاً . د- 40 جنوباً و81 شمالاً .
- 4) تمتد قارة آسيا بين خطي طول :  
أ- 16 شرقاً و170 غرباً . ب- 26 شرقاً و170 غرباً . ج- 36 شرقاً و170 غرباً . د- 46 شرقاً و170 غرباً .
- 5) يفصل بين قارتي آسيا وأمريكا الشمالية مضيق :  
أ- ملقا . ب- بيرنج . ج- البسفور . د- الدردنيل .
- 6) تطل قارة آسيا من جهة الجنوب على المحيط :  
أ- الهندي . ب- القطبي . ج- الهادي . د- الأطلنطي .
- 7) المحيط الذي يحد قارة آسيا من جهة الشمال :  
أ- الهندي . ب- القطبي . ج- الهادي . د- الأطلنطي .
- 8) من الدول الآسيوية التي ليس لها سواحل على البحار والمحيطات :  
أ- تايلاند . ب- باكستان . ج- أفغانستان . د- تركمانستان .
- 9) تمتد المرتفعات في القارة الآسيوية في شكل محور عرضي من :  
أ- الشرق للغرب . ب- الجنوب للشمال . ج- الغرب للجنوب . د- الشرق للشمال .
- 10) أعلى قمم الجبال ارتفاعاً في العالم :  
أ- طوروس . ب- زاجروس . ج- كردستان . د- إيفرست .
- 11) الجبال التي تصل الخليج العربي تعرف باسم :  
أ- أورال . ب- سليمان . ج- هندكوش . د- الهيمالايا .
- 12) أعلى هضاب العالم وأكبرها مساحة هي :  
أ- إيران . ب- الدكن . ج- التبت . د- الأناضول .
- 13) تقع في شمال شبه الجزيرة العربية هضبة :  
أ- نجد . ب- التبت . ج- حضرموت . د- بادية الشام .
- 14) من أبرز أنهار قارة آسيا نهر :  
أ- الجانج . ب- النيل . ج- النيجر . د- السنغال .
- 15) تتصف سهول البحر الأسود بالضييق بسبب :  
أ- اتساع الهضاب . ب- اقتراب الجبال منها . ج- كثرة المستنقعات المحيطة بها . د- انتشار الرواسب الرملية فيها .
- 16) يسمى مناخ المناطق الساحلية بالمناخ :  
أ- القاري . ب- الجزري . ج- الإعصاري . د- الانقلابي .

17) من الأقاليم المناخية الحارة الإقليم :

أ- المداري ب- الموسمي ج- الصيني د- البحر المتوسط

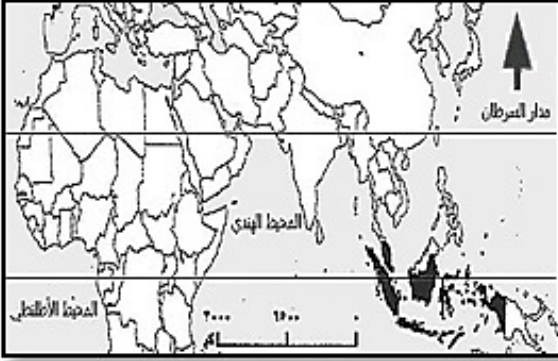
18) تتنوع الأقاليم المناخية في قارة آسيا نتيجة :

أ- كبر مساحة القارة .  
ب- وجود مرتفعات جوية .  
ج- هبوب أنواع مختلفة من الرياح .  
د- كثرة الأعاصير التي تمر بالقارة .

19) إقليم يمتد بين دائرتي عرض (0-8) هو :

أ- المداري ب- الصيني ج- الاستوائي د- الصحراوي

20) من خلال الخريطة التي أمامك ، نوع الإقليم الطبيعي الذي يشير إليه الجزء المظلل هو الإقليم :



أ- القطبي .

ب- الاستوائي .

ج- الصحراوي .

د- المعتدل القاري .

21) تنمو حشائش السافانا في الإقليم :

أ- المداري ب- الموسمي ج- الاستوائي د- الصحراوي

22) الإقليم الذي يقع بين دائرتي عرض (30 : 40) شرق القارات هو :

أ- الاستوائي . ب- المداري . ج- القطبي . د- الصيني .

23) الإقليم الذي يقع بين دائرتي عرض (30 : 40) غرب القارات هو :

أ- الصيني . ب- القطبي . ج- الاستوائي . د- البحر المتوسط .

24) تنمو حشائش الأستبس في الإقليم :

أ- المداري . ب- الاستوائي . ج- الصحراوي . د- المعتدل البارد القاري .

25) تنمو الغابات النفضية في الإقليم :

أ- المداري . ب- الصيني . ج- الصحراوي . د- المعتدل البارد الموسمي .

26) الإقليم الذي يقع بين دائرتي عرض (60 : 90) هو :

أ- الاستوائي . ب- المداري . ج- القطبي . د- الصيني .

27) تنمو حشائش التندرا في الإقليم :

أ- القاري . ب- القطبي . ج- الاستوائي . د- البحر المتوسط .

28) يحدث عندما لا يتمكن مجرى النهر من احتواء كل المياه المنصرفة إليه :

أ- الفيضان . ب- الزلزال . ج- الرطوبة . د- الاحتباس الحراري .

29) حدثت فيضانات الهند وبنجلادش بسبب تدمير الغطاء النباتي في جبال :

أ- الحجاز . ب- كردستان . ج- الهيمالايا . د- بنطس .

30) من أهم الأخطار الطبيعية التي تواجهها قارة آسيا :

أ- البراكين . ب- الفيضانات . ج- الزلازل . د- التصحر .

31) أكثر قارات العالم من حيث السكان :

أ- آسيا . ب- أوروبا . ج- استراليا . د- أمريكا الشمالية .

32) أقل قارات العالم من حيث السكان :

أ- آسيا . ب- أوروبا . ج- استراليا . د- أمريكا الشمالية .

33) تبلغ نسبة سكان قارة آسيا بالنسبة للعالم عام 2018م حوالي :  
أ- 49.3 % . ب- 59.3 % . ج- 69.3 % . د- 79.3 % .

34) تمثل نسبة سكان الهند والصين بالنسبة لسكان العالم نحو :  
أ- السدس . ب- الخمس . ج- الربع . د- الثلث .

35) أكثر دول العالم سكاناً عام 2018م :  
أ- الصين . ب- الهند . ج- روسيا . د- باكستان .

36) يتسم معدل المواليد في قارة آسيا بـ :  
أ- الزيادة . ب- الاستقرار . ج- التذبذب . د- الانخفاض .

37) أدى اتباع السياسات السكانية في قارة آسيا إلى :  
أ- ارتفاع الكثافة السكانية . ب- إعادة توزيع السكان . ج- انخفاض مستوى المعيشة . د- انخفاض معدل المواليد .

38) تتمثل الزيادة غير الطبيعية للسكان في :  
أ- الهجرة . ب- المواليد . ج- الوفيات . د- النمو السكاني .

39) الفئة التي تمثل منتصف الهرم السكاني لقارة آسيا :  
أ- الذكور . ب- الشباب . ج- صغار السن . د- كبار السن .

40) الفئة التي تمثل قاعدة الهرم السكاني لقارة آسيا :  
أ- الإناث . ب- الأطفال . ج- كبار السن . د- متوسطي السن .

41) من المناطق ذات الكثافة السكانية القليلة في قارة آسيا :  
أ- الصحاري . ب- السهول الفيضية . ج- السهول الساحلية . د- المناطق المعتدلة .

42) من المناطق ذات الكثافة السكانية العالية في قارة آسيا :  
أ- الصحاري . ب- السهول الفيضية . ج- سهول سيبيريا . د- المناطق الجبلية .

43) مجموعة الخطط والبرامج والإجراءات التي تستهدف التأثير في المتغيرات السكانية لإحداث رفاهية الفرد ، يشير هذا المصطلح إلى :

أ- الهرم السكاني . ب- الكثافة السكانية . ج- المشكلات السكانية . د- السياسات السكانية .

44) من الدول الآسيوية التي تتبع سياسة الوصول إلى العدد الأمثل للسكان :  
أ- الهند . ب- الصين . ج- ماليزيا . د- سلطنة عمان .

45) من الدول الآسيوية التي تتبع سياسة الحد من الزيادة السكانية الكبيرة :  
أ- الصين . ب- تايلاند . ج- ماليزيا . د- الكويت .

46) من الدول الآسيوية التي تتبع سياسة الحد من الانخفاض السكاني للمواطنين :  
أ- قطر . ب- الهند . ج- الصين . د- ماليزيا .

47) تمتلك قارة آسيا بالنسبة لمساحة الأراضي الزراعية في العالم نحو :  
أ- الربع . ب- الثلث . ج- النصف . د- الثلثين .

48) أهم نشاط اقتصادي يعمل به معظم سكان قارة آسيا :  
أ- الزراعة . ب- الصناعة . ج- التجارة . د- السياحة .

49) تبتكر قارة آسيا الإنتاج العالمي في محصول :  
أ- الأرز . ب- المطاط . ج- القطن . د- الكاسافا .

50) من أهم محاصيل الزراعة البسيطة البدائية :  
أ- الشاي . ب- المطاط . ج- القطن . د- الكاسافا .

51) أولى دول العالم إنتاجاً للقطن :

أ- الصين . ب- روسيا . ج- الهند . د- إندونيسيا .

52) من أهم الدول المنتجة للمطاط الطبيعي في قارة آسيا :

أ- بنجلادش . ب- روسيا . ج- الهند . د- إندونيسيا .

53) أولى دول قارة آسيا في تربية الإبل :

أ- العراق . ب- سوريا . ج- الهند . د- إندونيسيا .

54) أكثر الدول امتلاكاً للأبقار في العالم :

أ- الهند . ب- الصين . ج- أفغانستان . د- كازاخستان .

55) أولى دول قارة آسيا في تربية الأغنام :

أ- سوريا . ب- الصين . ج- روسيا . د- إندونيسيا .

56) أكبر دول قارة آسيا إنتاجاً للأسماك :

أ- العراق . ب- سوريا . ج- الهند . د- الصين .

57) تمتلك قارة آسيا العديد من الثروات المعدنية بسبب :

أ- اتساع المساحة . ب- تشابه أنواع الصخور . ج- تنوع الأقاليم المناخية . د- تشابه مظاهر السطح .

58) يبلغ إنتاج قارة آسيا من الحديد :

أ- 46.6 % . ب- 56.6 % . ج- 66.6 % . د- 76.6 % .

59) يعد الخام الرئيس لإنتاج معدن الألمنيوم هو :

أ- الحديد . ب- النحاس . ج- البوكسيت . د- الفضة .

60) أكبر حقول الغاز الطبيعي غير المصاحب في العالم :

أ- الشمال . ب- الغوار . ج- دخان . د- سيبريا .

61) توجد أكبر محطات للطاقة الشمسية في العالم بـ :

أ- العراق . ب- سوريا . ج- الهند . د- الصين .

62) من أهم الصناعات الهندسية في قارة آسيا :

أ- السيارات . ب- الأدوية . ج- المنسوجات . د- تكرير البترول .

63) الدولة الآسيوية الأولى في صناعة الحديد والصلب :

أ- الهند . ب- اليابان . ج- ماليزيا . د- إندونيسيا .

64) أولى الدول الآسيوية في صناعة المنسوجات الحريرية :

أ- اليابان . ب- باكستان . ج- أفغانستان . د- كازاخستان .

65) توجد أكبر شبكة للسكك الحديدية فائقة السرعة في العالم في :

أ- اليابان . ب- الهند . ج- روسيا . د- الصين .

66) من أكبر الدول السياحية في قارة آسيا :

أ- الهند . ب- الصين . ج- منغوليا . د- أفغانستان .

67) تبلغ مساحة قارة إفريقيا :

أ- 30.3 مليون كم<sup>2</sup> . ب- 35.3 مليون كم<sup>2</sup> . ج- 40.3 مليون كم<sup>2</sup> . د- 45.3 مليون كم<sup>2</sup> .

68) تمتد قارة إفريقيا بين دائرتي عرض :

أ- 24.5 جنوباً و37.5 شمالاً . ب- 34.5 جنوباً و37.5 شمالاً . ج- 44.5 جنوباً و37.5 شمالاً . د- 54.5 جنوباً و37.5 شمالاً .

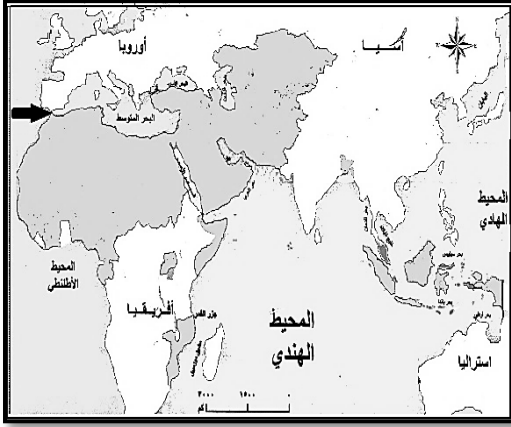
69) تمتد قارة إفريقيا بين خطي طول :

أ- 31 شرقاً و17 غرباً . ب- 41 شرقاً و17 غرباً . ج- 51 شرقاً و17 غرباً . د- 61 شرقاً و17 غرباً .

70) يفصل بين قارتي إفريقيا وأوروبا مضيق :

أ- ملقا . ب- بيرنج . ج- البسفور . د- جبل طارق .





71) من خلال الخريطة التي أمامك ، يشير السهم الموضح إلى موقع مضيق :

أ- هرمز .

ب- البوسفور .

ج- جبل طارق .

د- باب المندب .

72) يفصل بين قارتي إفريقيا وآسيا مضيق :

أ- هرمز . ب- الدردنيل .  ج- باب المندب . د- جبل طارق .

73) تطل قارة إفريقيا من جهة الغرب على المحيط :

أ- الهندي . ب- القطبي . ج- الهادي .

74) البحر الذي يحد قارة إفريقيا من جهة الشمال :

أ- الأحمر . ب- الأسود . ج- الميت .

75) أكبر الدول الإفريقية مساحة :

أ- مصر . ب- السودان .  ج- الجزائر . د- الكونغو .

76) من الدول الإفريقية التي ليس لها سواحل على البحار والمحيطات :

أ- المغرب . ب- ليبيا .  ج- تشاد . د- أنجولا .

77) من الجبال الالتوائية في قارة إفريقيا جبال :

أ- أطلس . ب- الحجاز . ج- البحر الأحمر . د- كلمنجارو .

78) من الجبال الانكسارية في قارة إفريقيا جبال :

أ- الكاب . ب- كينيا . ج- هندكوش .

79) من الجبال البركانية في قارة إفريقيا جبال :

أ- سليمان . ب- هندكوش .  ج- كلمنجارو . د- داركنزبرج .

80) أوسع صحاري العالم :

أ- نجد . ب- النفود . ج- كهاري .

د- الصحراء الكبرى .

81) الهضبة التي تشغل وسط القارة الإفريقية :

أ- إثيوبيا . ب- الشطوط .  ج- البحيرات . د- حضرموت .

82) يرجع ضيق السهول الساحلية للبحر الأحمر إلى :

أ- اقتراب الجبال منها . ب- انتشار المستنقعات فيها . ج- وجود السبخات بها . د- انتشار الخلجان والأخوار فيها .

83) أطول أنهار العالم :

أ- النيل . ب- النيجر . ج- الكونغو . د- الزمبيزي .

84) يصب نهر النيل في البحر :

أ- الميت . ب- الأسود . ج- الأحمر .  د- المتوسط .

85) يصعب الملاحة في نهر النيجر بسبب :

أ- كثرة الجنادل . ب- كثرة المساقط . ج- جفاف مياهه . د- وجود مستنقعات .

86) يتميز نهر الكونغو بالقدرة العالية في إنتاج الكهرباء نتيجة :

أ- غزارة مياهه . ب- كثرة المساقط . ج- وجود الشلالات . د- كثرة تفرعاته .

87) ترجع أهمية رواسب نهر الأوراج إلى :

أ- كثرة الطمي والطين فيها . ب- ارتفاع نسبة الحديد فيها . ج- انتشار اليورانيوم فيها .  د- احتوائها على ذرات الذهب والألماس .

88) تنوع الخصائص المناخية في قارة إفريقيا لامتدادها في :

أ- 62 دائرة عرضية . **ب- 72 دائرة عرضية** . ج- 82 دائرة عرضية . د- 92 دائرة عرضية .

89) تختلف فصول السنة بين نصفى قارة إفريقيا الشمالي والجنوبي بسبب :

أ- اختلاف تضاريسها . **ب- مرور خط الاستواء بمنتصفها** . ج- اتساع مساحة الصحاري بها . د- مرور مدار الجدي بأراضيها .

90) تمثل الصحاري من مساحة قارة إفريقيا نسبة :

أ- 20 % . ب- 30 % . **ج- 40 %** . د- 50 % .

91) من الأقاليم الحارة في قارة إفريقيا الإقليم :

أ- القاري . ب- الصيبي . **ج- الاستوائي** . د- البحر المتوسط .

92) من الأقاليم المعتدلة في قارة إفريقيا الإقليم :

أ- المداري . ب- الصيبي . **ج- القطبي** . د- الاستوائي .

93) يتركز الإقليم المداري الموسمي في قارة إفريقيا فوق هضبة :

أ- بوتشي . **ب- إثيوبيا** . ج- الأحجار . د- جنوب إفريقيا .

94) ظاهرة طبيعية تتجلى في نقص تساقط الأمطار الذي يتبعه شح الغطاء النباتي :

**أ- الجفاف** . ب- المجاعة . ج- الفيضان . د- الاحتباس الحراري .

95) تحتل قارة إفريقيا بالنسبة لقارات العالم من حيث عدد السكان المركز :

أ- الأول . **ب- الثاني** . ج- الثالث . د- الرابع .

96) أولى دول قارة إفريقيا من حيث عدد السكان :

أ- مصر . ب- الكونغو . ج- إثيوبيا . **د- نيجيريا** .

97) يؤدي ارتفاع نسبة متوسطي السن في قارة إفريقيا إلى :

**أ- ارتفاع قوة العمل** . ب- زيادة نسبة الإعالة . ج- ارتفاع الكثافة السكانية . د- زيادة معدلات الهجرة .

98) يتركز السكان في هضبة إثيوبيا بسبب :

**أ- اعتدال المناخ** . ب- انتشار الغابات . ج- ارتفاع الرطوبة . د- ارتفاع الضغط الجوي .

99) يعمل (59٪) من القوى العاملة في قارة إفريقيا في مجال :

**أ- الزراعة** . ب- التجارة . ج- الصناعة . د- السياحة .

100) أولى دول قارة إفريقيا في إنتاج الأرز :

**أ- مصر** . ب- الكونغو . ج- السودان . د- إثيوبيا .

101) يزرع الأرز بكميات قليلة في قارة إفريقيا بسبب :

أ- ضعف التكنولوجيا . ب- انخفاض الرطوبة . ج- قلة الأيدي العاملة . **د- قلة التربة الطينية** .

102) أولى دول قارة إفريقيا في إنتاج القمح :

أ- غانا . **ب- مصر** . ج- السنغال . د- موزمبيق .

103) أولى دول قارة إفريقيا في إنتاج الذرة :

أ- توجو . **ب- مصر** . ج- كينيا . د- غينيا .

104) أولى دول قارة إفريقيا في إنتاج القطن متوسط وقصير التيلة :

أ- مصر . **ب- مالي** . ج- تنزانيا . د- الكاميرون .

105) أولى دول قارة إفريقيا في إنتاج القطن طويل التيلة :

أ- مالي . ب- غانا . **ج- مصر** . د- غينيا .

106) تحتل قارة إفريقيا المركز الأول في إنتاج :

أ- الأرز . ب- القمح . **ج- الكاكو** . د- قصب السكر .

107) **أولى دول قارة إفريقيا في إنتاج الكاكو :**

أ- غانا . ب- غينيا . ج- كينيا . د- تنزانيا .

108) **أولى دول قارة إفريقيا في إنتاج البن :**

أ- الكونغو . ب- كينيا . ج- تنزانيا . د- إثيوبيا .

109) **أولى دول قارة إفريقيا في إنتاج الشاي :**

أ- توجو . ب- كينيا . ج- تنزانيا . د- السنغال .

110) **أولى دول قارة إفريقيا في إنتاج قصب السكر :**

أ- مصر . ب- المغرب . ج- تونس . د- موريتانيا .

111) **لا يزرع سوى 10% من إجمالي المساحة القابلة للزراعة في قارة إفريقيا :**

أ- تذبذب المناخ . ب- انتشار الغابات . ج- تحقق الكفاية الذاتية الزراعية . د- زيادة الإمكانيات المادية .

112) **تنمو مراعي السافانا في الأقاليم :**

أ- الباردة . ب- الحارة . ج- المعتدلة . د- القطبية .

113) **تنمو مراعي الاستبس في الأقاليم :**

أ- الباردة . ب- الحارة . ج- المعتدلة . د- القطبية .

114) **تحتل قارة إفريقيا المركز الأول في تربية :**

أ- الإبل . ب- الأبقار . ج- الماعز . د- الأغنام .

115) **تعد الأبقار ذات قيمة اقتصادية منخفضة في قارة إفريقيا بسبب :**

أ- قلة المراعي . ب- ضعف إنتاجها . ج- المعتقدات الدينية . د- انتشار المزارع الحيوانية .

116) **أولى دول قارة إفريقيا في تربية الماعز :**

أ- مصر . ب- مالي . ج- تنزانيا . د- نيجيريا .

117) **أولى دول قارة إفريقيا في تربية الأغنام :**

أ- غانا . ب- نيجيريا . ج- جنوب إفريقيا . د- بوركينا فاسو .

118) **من أهم الدول الإفريقية في الإنتاج السمكي :**

أ- المغرب . ب- غينيا . ج- موزمبيق . د- الكاميرون .

119) **يصدر معظم إنتاج الحديد في قارة إفريقيا كمادة خام بسبب :**

أ- قلة الإنتاج المحلي . ب- قلة حجم السوق المحلي . ج- عدم الحاجة إلى تصنيعه . د- ضعف القدرة على تصنيعه محلياً .

120) **يدخل المنجنيز في صناعة :**

أ- الصلب . ب- الأسمدة . ج- الإلكترونيات . د- الأجهزة الكهربائية .

121) **أولى دول قارة إفريقيا في إنتاج الذهب :**

أ- غانا . ب- كينيا . ج- تنزانيا . د- جنوب إفريقيا .

122) **أولى دول قارة إفريقيا في إنتاج الفوسفات :**

أ- توجو . ب- مصر . ج- كينيا . د- المغرب .

123) **أولى دول قارة إفريقيا في إنتاج الألبان :**

أ- غانا . ب- مالي . ج- تنزانيا . د- بتسوانا .

124) **أولى دول قارة إفريقيا في إنتاج اليورانيوم :**

أ- مالي . ب- غانا . ج- تونس . د- ناميبيا .

125) **أولى الدول الإفريقية في إنتاج الحديد :**

أ- غانا . ب- الكونغو . ج- السنغال . د- ليبيريا .



126) توجد أضخم حقول الفحم في قارة إفريقيا بدولة :

أ- غانا . ب- الكاميرون . ج- موريتانيا . د- جنوب إفريقيا .

127) أولى الدول الإفريقية في إنتاج البترول :

أ- الكونغو . ب- كينيا . ج- إثيوبيا . د- نيجيريا .

128) أولى دول قارة إفريقيا في إنتاج الغاز الطبيعي :

أ- توجو . ب- المغرب . ج- الجزائر . د- السنغال .

129) توجد أكبر محطة للطاقة الشمسية في العالم بدولة :

أ- ليبيا . ب- المغرب . ج- الجزائر . د- موريتانيا .

130) توجد محطة "نزيم" للطاقة الشمسية في دولة :

أ- غانا . ب- غينيا . ج- النيجر . د- السنغال .

131) توجد محطة "جاسبر" للطاقة الشمسية في دولة :

أ- مالي . ب- نيجيريا . ج- موزمبيق . د- جنوب إفريقيا .

132) تعاني قارة إفريقيا من نقص الخبرة الفنية بسبب :

أ- قلة الأيدي العاملة . ب- قلة حجم السوق المحلي . ج- كثرة الشركات المحلية . د- حرص الشركات الأجنبية على عدم توفير كوادرات فنية داخل القارة .

133) تعاني قارة إفريقيا من ضعف القدرة الشرائية بسبب :

أ- الفقر . ب- جودة المنتج المحلي . ج- قلة جودة المنتج الأجنبي . د- ارتفاع مستوى المعيشة .

134) تقل أهمية النقل النهري في قارة إفريقيا نتيجة :

أ- وجود الشلالات . ب- كثرة التعرجات . ج- سرعة جريان المياه . د- عدم وجود أنهار دولية .

135) تعاني قارة إفريقيا من قلة الموانئ الطبيعية بسبب :

أ- استقامة السواحل . ب- كثرة الأخوار . ج- كثرة المرافئ الطبيعية . د- قلة المسطحات المائية .

136) يوجد عجز في الميزان التجاري لقارة إفريقيا بسبب :

أ- كثرة الصادرات . ب- ارتفاع قيمة الواردات . ج- كثرة المواد الخام والمصنعة . د- وجود قيود على الرسوم الجمركية .

137) من أشهر المواقع السياحية في قارة إفريقيا :

أ- محمية ماساي . ب- برج إيفيل . ج- الحدائق المعلقة . د- سور الصين العظيم .

138) تبلغ مساحة قارة أوروبا :

أ- 10.5 مليون كم<sup>2</sup> . ب- 20.5 مليون كم<sup>2</sup> . ج- 30.5 مليون كم<sup>2</sup> . د- 40.5 مليون كم<sup>2</sup> .

139) تمتد قارة أوروبا بين دائرتي عرض :

أ- 36 شمالاً و61 شمالاً . ب- 46 شمالاً و71 شمالاً . ج- 36 شمالاً و71 شمالاً . د- 36 شمالاً و81 شمالاً .

140) تمتد قارة أوروبا بين خطي طول :

أ- 25 غرباً و66 شرقاً . ب- 35 غرباً و66 شرقاً . ج- 25 غرباً و76 شرقاً . د- 25 غرباً و86 شرقاً .

141) يفصل بين قارتي أوروبا وآسيا جبال :

أ- الألب . ب- الأورال . ج- البرانس . د- الأنديز .

142) تطل قارة أوروبا من جهة الجنوب على البحر :

أ- الأحمر . ب- الميت . ج- الأسود . د- المتوسط .

143) تطل قارة أوروبا من جهة الشمال على المحيط :

أ- الهندي . ب- القطبي . ج- الهادي . د- الأطلنطي .

144) المحيط الذي يحد قارة أوروبا من جهة الغرب :

أ- الهندي . ب- القطبي . ج- الهادي . د- الأطلنطي .

- 145) من الدول الأوروبية الحبيسة التي لا تطل على مسطحات مائية :  
أ- النمسا . ب- بولندا . ج- السويد . د- النرويج .
- 146) توجد هضبة الميزيتا في دولة :  
أ- فرنسا ب- ألمانيا ج- إسبانيا د- الدانمارك
- 147) توجد هضبة بافاريا في دولة :  
أ- فرنسا ب- ألمانيا ج- إيطاليا د- لوكسمبورج
- 148) يصب نهر الدانوب في :  
أ- بحر الشمال ب- البحر الأسود ج- المحيط الأطلسي د- البحر المتوسط
- 149) أطول أنهار قارة أوروبا :  
أ- الرون ب- السون ج- الراين د- الفولجا
- 150) يصب نهر الراين في :  
أ- بحر الشمال ب- البحر المتوسط ج- المحيط الأطلسي د- المحيط المتجمد الشمالي
- 151) تقع معظم قارة أوروبا ضمن المناخ :  
أ- الحار ب- القاري ج- المداري د- المعتدل
- 152) يسود المناخ الجزري في معظم أنحاء قارة أوروبا بسبب :  
أ- كبر مساحة القارة ب- انتشار الجبال بأراضيها ج- توغل المؤثرات البحرية فيها د- بعدها عن خط الاستواء.
- 153) يطلق على قارة أوروبا القارة العجوز بسبب :  
أ- كبر حجم الأسرة ب- ارتفاع نسبة الإعالة ج- انخفاض معدل الوفيات د- ارتفاع نسبة كبار السن
- 154) أولى دول قارة أوروبا في عدد السكان :  
أ- روسيا ب- ألمانيا ج- فرنسا د- بريطانيا
- 155) يرجع ارتفاع نسبة الوفيات في قارة أوروبا إلى :  
أ- تدني مستوى المعيشة ب- ارتفاع نسبة كبار السن ج- ارتفاع نسبة وفيات الأطفال د- انتشار أمراض سوء التغذية
- 156) يتوجه معظم المهاجرين إلى غرب قارة أوروبا بسبب :  
أ- سيادة المناخ المداري ب- اتساع مساحة المراعي ج- ارتفاع مستوى المعيشة د- انخفاض الكثافة السكانية
- 157) ينتشر السكان في المناطق الريفية بشمال غرب وجنوب غرب قارة أوروبا بسبب :  
أ- وعورة السطح ب- ارتفاع مساحة المراعي ج- ارتفاع مستوى المعيشة د- وفرة مقومات الزراعة
- 158) تبلغ نسبة مساحة الأراضي الزراعية في قارة أوروبا بالنسبة لإجمالي مساحة القارة :  
أ- السدس ب- الربع ج- الثلث د- النصف
- 159) المحصول الغذائي الرئيسي للسكان في قارة أوروبا :  
أ- الأرز ب- الذرة ج- القمح د- الشعير
- 160) تتركز زراعة الذرة في سهل الدانوب بسبب :  
أ- خصوبة التربة ب- توفر المياه ج- ملائمة المناخ د- توفر الأيدي العاملة
- 161) أولى الدول الأوروبية في إنتاج بنجر السكر :  
أ- فرنسا ب- ألمانيا ج- إيطاليا د- بريطانيا
- 162) أولى الدول الأوروبية في إنتاج الكتان :  
أ- النمسا ب- التشيك ج- أوكرانيا د- بولندا
- 163) من أهم الدول الأوروبية المنتجة للأسماك :  
أ- النمسا ب- التشيك ج- النرويج د- سويسرا

- 164) زاد استيراد قارة أوروبا من المعادن نتيجة :  
أ- قلة الإنتاج ب- كبر المساحة ج- التقدم الصناعي د- تنوع التركيب الجيولوجي
- 165) أولى الدول الأوروبية في إنتاج الحديد :  
أ- اليونان ب- بلغاريا ج- إيطاليا د- أوكرانيا
- 166) أولى الدول الأوروبية في إنتاج النحاس :  
أ- بلجيكا ب- المجر ج- ألبانيا د- بولندا
- 167) أولى الدول الأوروبية في إنتاج البوتاس :  
أ- هولندا ب- الدنمارك ج- النرويج د- بريطانيا
- 168) يدخل معدن البوتاس في صناعة :  
أ- الأسمدة ب- المجوهرات ج- الأجهزة الكهربائية د- البطاريات الجافة
- 169) يدخل معدن البوكسيت في صناعة :  
أ- الصلب ب- الرصاص ج- الألمونيوم د- الكيماويات
- 170) تستورد قارة أوروبا كميات كبيرة من البترول بسبب :  
أ- كبر الإنتاج ب- كبر المساحة ج- تقدم الصناعة د- رخص أسعاره
- 171) تتركز محطات توليد الطاقة من المد والجزر في أوروبا بمنطقة :  
أ- بحر الشمال ب- بحر البلطيق ج- السهل الأوروبي د- البحر المتوسط
- 172) تقع أكبر محطة طاقة مد وجزر في العالم في :  
أ- اليونان ب- فرنسا ج- إيطاليا د- بريطانيا
- 173) تواجه طاقة الرياح مشكلة :  
أ- ارتفاع الرطوبة ب- ثبات اتجاه الرياح ج- سرعة الرياح الزائدة د- اختلاف سرعة الرياح
- 174) كانت بداية الثورة الصناعية في :  
أ- التشيك ب- فنلندا ج- النرويج د- بريطانيا
- 175) أولى الدول الأوروبية في صناعة الحديد والصلب :  
أ- ألبانيا ب- ألمانيا ج- أوكرانيا د- بريطانيا

## ثانياً : الأسئلة المقالية

### السؤال الثاني : أجب عن الأسئلة التالية :

1) ما أهمية الموقع الفلكي والجغرافي لقارة آسيا ؟

أ- تنوع الأقاليم المناخية والنباتية . ب- تنوع الثروات المعدنية . ج- التحكم في طرق التجارة والمواصلات .

2) أجب عما يلي .

( أ ) ما الدليل على تشعب المرتفعات من عقدة البامير في قارة آسيا ؟

1- وجود مرتفعات سليمان وهندكوش والهمالايا .

( ب ) ما الدليل على وجود أجزاء من قارة آسيا غير مستقرة جيولوجياً ؟

1- وجود الزلازل والبراكين فيها .

3) عدد أبرز الجبال في قارة آسيا .

أ- جبال سليمان . ب- جبال هندكوش .

ج- جبال الهمالايا . د- جبال طوروس .

4) عدد أبرز الهضاب في قارة آسيا .

أ- هضبة إيران . ب- هضبة الأناضول .

ج- هضبة التبت . د- هضبة الدكن .

5) ما خصائص هضبة شبه الجزيرة العربية ؟

أ- تتكون من كثير الهضاب الفرعية .

ب- تكثر بها المنخفضات .

6) بم تفسر ؟

( أ ) لا تجذب هضبة إيران الكثير من السكان ؟

1- تكثر بها المستنقعات .

( ب ) تتصف السهول الساحلية للبحر المتوسط بحر قزوين بالضيق ؟

1- بسبب اقتراب الجبال منها .

7) عدد أبرز السهول الفيضية في قارة آسيا ؟

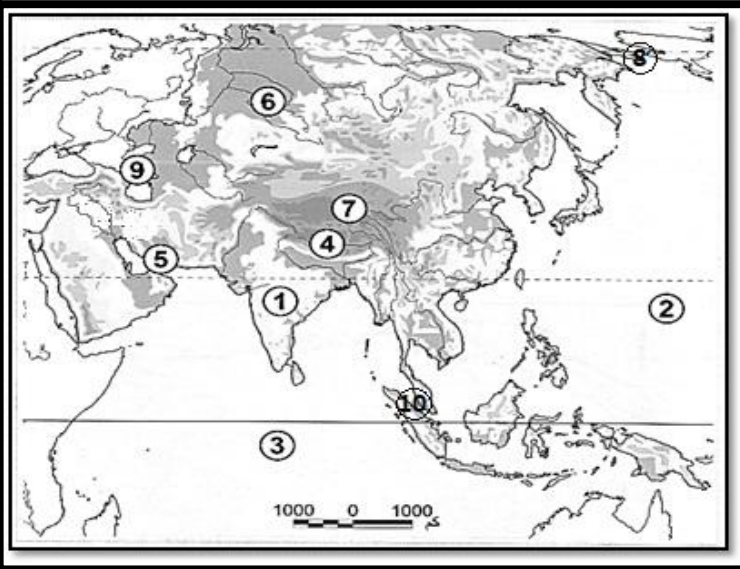
أ- سهول الصين . ب- سهل الجانج .

ج- سهول دجلة والفرات . د- سهول السند .

8) قارن بين السهول الفيضية والساحلية في قارة آسيا من حيث (الخصائص والأمثلة).

وجه المقارنة	السهول الفيضية	السهول الساحلية
الخصائص	(أ) تتميز بخصوبة التربة وقيام الزراعة فيها .	(أ) تختلف في خصوبة تربتها وتكوينها واتساعها .
الأمثلة	(ب) سهول الصين والسند والجانج .	(ب) سهول البحر المتوسط والمحيط الهندي .

9) من خلال خريطة قارة آسيا الصماء التي أمامك ، اكتب في المستطيل أدناه مدلولات الأرقام التالية .



- يدل الرقم ( 1 ) على هضبة : **الدكن**  
يدل الرقم ( 2 ) على المحيط : **الهادي**  
يدل الرقم ( 3 ) على المحيط : **الهندي**  
يدل الرقم ( 4 ) على جبال : **الهيملايا**  
يدل الرقم ( 5 ) على مضيق : **هرمز**  
يدل الرقم ( 6 ) على سهول : **سيبيريا**  
يدل الرقم ( 7 ) على هضبة : **التبت**  
يدل الرقم ( 8 ) على مضيق : **بيرنج**  
يدل الرقم ( 9 ) على بحر : **قزوين**  
يدل الرقم ( 10 ) على مضيق : **ملقا**

10) ما المقصود بكلاً من ؟

( أ ) المناخ القاري :

1- يسود في المناطق الداخلية ويتميز باتساع المدى الحراري اليومي والسنوي .

( ب ) المناخ الجزري :

1- يسود في المناطق الساحلية ويتميز بصغر المدى الحراري اليومي والسنوي .

11) أجب عما يلي .

( أ ) ما النتائج المترتبة على اتجاه الجبال في وسط آسيا من الشرق إلى الغرب ؟

1- منع وصول المؤثرات المناخية بين شمال وجنوب القارة .

( ب ) ما العلاقة بين اتساع القارة الآسيوية والمناخ ؟

1- كلما اتسعت المساحة كلما تنوعت الأقاليم المناخية .

## 12) ما العوامل المؤثرة في المناخ ؟

- أ- الموقع الفلكي .  
ب- التضاريس .  
ج- التيارات البحرية .  
د- مساحة القارة وشكل سواحلها (الموقع بالنسبة للمسطحات المائية).

## 13) عدد أنواع الأقاليم المناخية في قارة آسيا .

- أ- الأقاليم الحارة .  
ب- الأقاليم المعتدلة الدفيئة .  
ج- الأقاليم المعتدلة الباردة .  
د- الأقاليم الباردة .  
14) قارن بين الإقليم الاستوائي والمداري في قارة آسيا من حيث (الموقع الفلكي والمناخ والنبات الطبيعي) .

وجه المقارنة	الإقليم الاستوائي	الإقليم المداري
الموقع الفلكي	من 0 إلى 8 شمال وجنوب خط الاستواء	من 8 إلى 18 شمال خط الاستواء
الخصائص المناخية	حرارة مرتفعة وأمطار غزيرة طوال العام	صيف طويل حار ممطر وشتاء جاف
النبات الطبيعي	الغابات الاستوائية الكثيفة	شجيرات مدارية وحشائش السافانا

## 15) قارن بين الإقليم الصيني وإقليم البحر المتوسط في قارة آسيا من حيث (التشابه والاختلاف) .

وجه المقارنة	الإقليم الصيني	إقليم البحر المتوسط
التشابه	يقع بين دائرتي عرض (30-40)	يقع بين دائرتي عرض (30-40)
الاختلاف	ممطر طوال العام	ممطر شتاءً

## 16) قارن بين الإقليم المعتدل البارد الموسمي والقاري في قارة آسيا من حيث (الموقع الفلكي والمناخ) .

وجه المقارنة	الإقليم المعتدل البارد الموسمي	الإقليم المعتدل البارد القاري
الموقع الفلكي	من 40 إلى 60 شمال خط الاستواء	من 30 إلى 60 شمال خط الاستواء
المناخ	حار صيفاً وبارد شتاءً وأمطار كثيرة طوال العام	حار صيفاً وبارد شتاءً وأمطار قليلة طوال العام

## 17) ما خصائص الإقليم البارد القطبي من حيث (الموقع الفلكي والمناخ والنبات) ؟

- أ- يقع بين دائرتي عرض 60 و 90 .  
ب- شتاء طويل شديد البرودة وصيف قصير دافئ .  
ج- تنمو فيه حشائش التندرا .



18) بم تفسر : حدوث الفيضانات في قارة آسيا ؟

أ- هطول الأمطار الغزيرة في فترة زمنية قصيرة .  
ب- قطع الغابات .  
ج- تكسر الجسور والسدود .

19) عدد جهود قارة آسيا لمواجهة الفيضانات

أ- بناء السدود والخزانات ذات الطاقة الاستيعابية الكبيرة .  
ب- بناء الحواجز البحرية لتقليل أثر الأمواج .  
ج- تفعيل أنظمة الرصد وتحديد قوة الفيضانات .

20) ما النتائج المترتبة على :

( أ ) هطول الأمطار الغزيرة في فترة زمنية قصيرة ؟  
1- حدوث الفيضانات .

( ب ) تفعيل أنظمة الرصد وتحديد قوة الفيضانات ؟  
1- الحد من مخاطر الفيضانات .

21) ما أهم المبادرات والمساعدات التنموية والإنسانية التي تسعى دولة قطر لتقديمها للدول التي تواجه أزمات اقتصادية

وإنسانية وكوارث طبيعية ؟

أ- تقديم مساعدات للمتضررين .  
ب- تنظيم حملات لجمع التبرعات .  
ج- الدعم المادي والإيواء وتوفير الاحتياجات الأساسية .

22) اذكر أعلى دول في العالم من حيث السكان .

أ- الصين .  
ب- الهند .  
ج- الولايات المتحدة الأمريكية .

23) بم تفسر : انخفاض معدل الوفيات بقارة آسيا ؟

أ- تقدم الرعاية الصحية .  
ب- ارتفاع المستوى المعيشي والاجتماعي .

24) ما النتائج المترتبة على الزيادة السكانية في قارة آسيا ؟

أ- قلة نصيب الفرد من الدخل القومي .  
ب- ارتفاع الكثافة السكانية .  
ج- نقص الغذاء وانتشار الأمراض .

25) ما النتائج المترتبة على :

( أ ) زيادة نسبة الفئة العمرية الأكثر من 65 عام في الهرم السكاني لقارة آسيا .  
1- زيادة نسبة الإعاقة .

( ب ) زيادة نسبة الشباب في الهرم السكاني لقارة آسيا .  
1- زيادة القوة العاملة .

2- القدرة على تحقيق معدلات تنموية مرتفعة .

( ج ) زيادة نسبة الأطفال في الهرم السكاني لقارة آسيا.  
1- زيادة نسبة الإعالة .

26) بم تفسر: تعد السهول مناطق ذات كثافة سكانية عالية ؟

أ- خصوبة التربة . ب- وفرة المياه . ج- استواء السطح .

27) عدد المناطق ذات الكثافة السكانية القليلة في قارة آسيا .

أ- الصحاري الحارة . ب- الصحاري الجليدية . ج- المناطق الجبلية .

28) ما أهداف السياسات السكانية في قارة آسيا ؟

أ- تحقيق التوازن بين النمو السكاني والموارد .

ب- تحسين مستوى معيشة السكان . ج- تقليل الهجرة نحو المدن .

29) اذكر أنواع السياسات السكانية .

أ- الوصول إلى العدد الأمثل . ب- الحد من الزيادة السكانية الكبيرة .

ج- الحد من الانخفاض السكاني للمواطنين .

30) ما أهداف السياسة السكانية في قطر ؟

أ- التحكم في معدلات النمو السكاني . ب- الارتقاء بالصحة العامة للسكان .

ج- دعم المشاركة المجتمعية للمرأة .

31) عدد أنواع الزراعة في قارة آسيا .

أ- البسيطة ( البدائية ) . ب- الكثيفة . ج- العلمية الواسعة .

32) قارن بين أنواع الزراعة في قارة آسيا من حيث الخصائص ومناطق الانتشار وأهم المحاصيل .

وجه المقارنة	الزراعة البسيطة (البدائية)	الزراعة الكثيفة	الزراعة العلمية الواسعة
الخصائص	أ- يعمل بها عدد قليل من السكان .	أ- زراعة الأرض أكثر من مرة في العام .	أ- تتم في المزارع الواسعة وتعتمد الأساليب العلمية .
مناطق الانتشار	ب- أطراف الغابات (منغوليا)	ب- الصين - الهند .	ب- إندونيسيا .
أهم المحاصيل	ج- الكاسافا .	ج- الأرز - القطن .	ج- الشاي - المطاط .

33) صنف في الجدول التالي المحاصيل الآتية حسب النوع .

( القمح - الشاي - الأرز - المطاط - القطن - الجوت - الذرة - قصب السكر - الكتان ) .

المحاصيل التجارية	محاصيل الألياف	المحاصيل الغذائية
الشاي المطاط قصب السكر	القطن الجوت الكتان	القمح الأرز الذرة

34) ما المشكلات التي تواجه التنمية الزراعية في قارة آسيا ؟

- أ- قلة المساهمة في التجارة الدولية .  
ب- ضعف الإمكانيات المادية .  
ج- الفيضانات .  
د- الجفاف .

35) وضح أساليب تحقيق الأمن الغذائي والزراعة المستدامة في آسيا .

- أ- تخزين مياه الفيضانات والاستفادة منها .  
ب- استخدام تقنيات حديثة للري .  
ج- استخدام الأسمدة العضوية .

36) ما أسباب ارتفاع إنتاج قارة آسيا من الثروة الحيوانية ؟

- أ- اتساع مساحة المراعي وتنوعها .  
ب- توافر الرعاية البيطرية .  
ج- توافر أعلاف الحيوانات .

37) قارن بين أنواع الرعي في قارة آسيا .

الرعي التجاري	الرعي البدائي ( التقليدي )	وجه المقارنة
أ- يعتمد على توفير الأعلاف .	أ- يعتمد على الحشائش الطبيعية .	الخصائص

38) ما المشكلات التي تواجه المراعي والثروة الحيوانية في قارة آسيا ؟

- أ- غياب السياسات الرعوية الهادفة إلى تطوير المراعي .  
ب- التوسع في الزراعات المروية على حساب المراعي .  
ج- التغيرات المناخية وتناقص معدلات الأمطار .

39) ما جهود قارة آسيا لتحقيق التنمية المستدامة للمراعي والثروة الحيوانية ؟

- أ- توفير الأعلاف والاهتمام بالمراعي الطبيعية .  
ب- توفير الرعاية البيطرية .  
ج- إنشاء المحميات الرعوية .

40) ما أسباب ارتفاع إنتاج قارة آسيا من الأسماك ؟

أ- التقاء التيارات البحرية الباردة والدافئة .

ب- وفرة الموائ الطبيعية . ج- التوسع في إنشاء المزارع السمكية .

41) عدد مصادر الطاقة غير المتجددة في قارة آسيا .

أ- البترول . ب- الغاز الطبيعي . ج- الفحم .

42) فسر الأهمية الاقتصادية لمعدن الحديد .

أ- كثرة الاستخدام . ب- قلة التكلفة . ج- سهولة الاستخراج .

43) يتميز الغاز الطبيعي عن غيره من مصادر الطاقة بعدة مزايا ، اذكرها .

أ- أنظف أنواع الوقود . ب- سهولة الاستخراج . ج- تنوع الاستخدامات .

44) عدد مصادر الطاقة المتجددة في قارة آسيا .

أ- الطاقة الشمسية . ب- الطاقة المائية .

ج- طاقة الرياح . د- الطاقة الحيوية .

45) اذكر مميزات الطاقة الشمسية .

أ- متوفرة في معظم دول العالم . ب- صديقة للبيئة .

ج- اقتصادية في كثير من الاستخدامات .

46) وضح أساليب تنمية القطاع الصناعي في قارة آسيا .

أ- اتباع الأساليب العلمية في التصنيع . ب- تطوير برامج التعليم والتدريب .

ج- ترشيد الاستهلاك لدى الأفراد .

47) بم تفسر : التوسع السريع في شبكات النقل والمواصلات بقارة آسيا ؟

أ- استغلال الموارد الاقتصادية . ب- ربط مناطق الإنتاج بعضها ببعض .

ج- تصريف السلع والبضائع في الأسواق العالمية .

48) ما مميزات النقل البحري ؟

أ- الطاقة الاستيعابية الكبيرة . ب- رخيص الثمن .

49) بم تفسر : تسهم قارة آسيا بجزء كبير في حركة التجارة العالمية ؟

أ- وفرة الإنتاج .

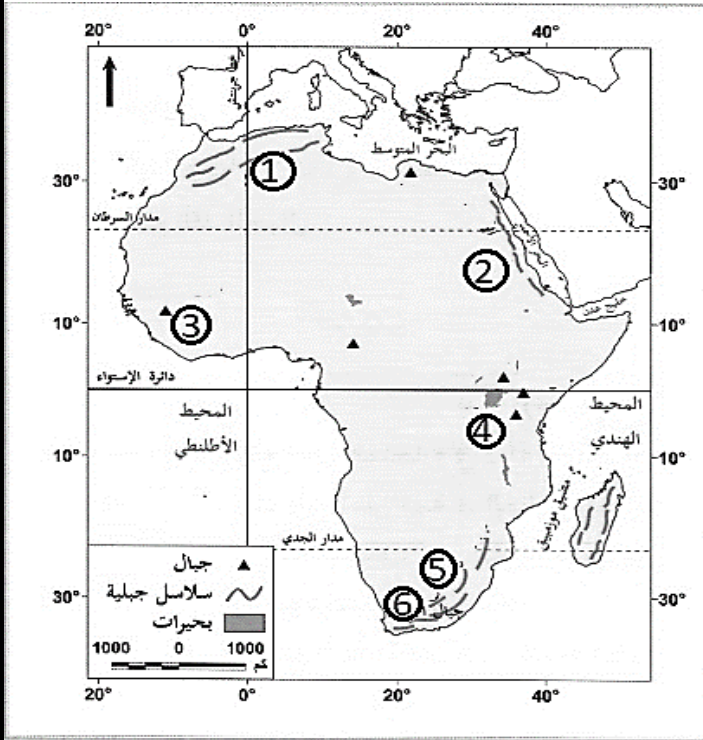
ب- تعدد أكبر أسواق العالم في تصريف السلع .

50) ما الأهمية الاستراتيجية لموقع قارة إفريقيا ؟

أ- تشغل موقعا مميزا في قلب العالم .  
ب- تتصف بقربها من قارتي آسيا وأوروبا .

ج- تطل على أهم الممرات الملاحية مثل مضيق باب المندب، جبل طارق .

51) من خلال خريطة قارة إفريقيا الصماء التي أمامك ، اكتب في المستطيل أدناه مدلولات الأرقام التالية .



- يدل الرقم ( 1 ) على جبال : أطلس  
يدل الرقم ( 2 ) على جبال: البحر الأحمر  
يدل الرقم ( 3 ) على جبال: فوتاجالون  
يدل الرقم ( 4 ) على جبل: كلمنجارو  
يدل الرقم ( 5 ) على جبال: داركنزبرج  
يدل الرقم ( 6 ) على جبال: الكاب

52) قارن بين أهم السلاسل الجبلية في قارة إفريقيا من حيث النوع والأمثلة .

وجه المقارنة	جبال شمال القارة	جبال شرق القارة	جبال وسط القارة	جبال جنوب القارة
النوع	جبال التوائية	جبال انكسارية	جبال بركانية	جبال التوائية
مثال	جبال أطلس	جبال البحر الأحمر	جبل كلمنجارو	جبال الكاب

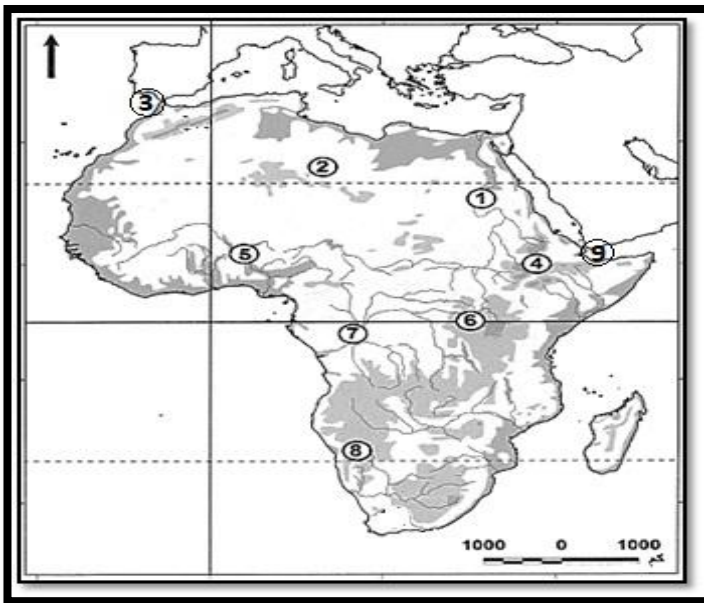
53) قارن بين هضبة إثيوبيا وهضبة البحيرات من حيث الموقع والخصائص الجغرافية .

وجه المقارنة	هضبة إثيوبيا	هضبة البحيرات
الموقع	شرق القارة	وسط القارة
الخصائص الجغرافية	كتلة قديمة بركانية تضم بحيرة تانا	كتلة قديمة بركانية تضم بحيرة فكتوريا

54) قارن بين نهر النيل ونهر الكونغو في قارة إفريقيا من حيث الترتيب والمصب والمميزات الجغرافية .

وجه المقارنة	نهر النيل	نهر الكونغو
الترتيب في الطول	الأول	الثاني
المصب	البحر المتوسط	المحيط الأطلنطي
المميزات الجغرافية	ينبع من هضبة البحيرات ويجري في عشر دول	أكثر الأنهار تدفقا وغازة في العالم بعد نهر الأمازون

55) من خلال خريطة قارة إفريقيا الصماء التي أمامك ، اكتب في المستطيل أدناه مدلولات الأرقام التالية .



- يدل الرقم ( 1 ) على نهر : النيل .  
 يدل الرقم ( 2 ) على هضبة : شمال إفريقيا .  
 يدل الرقم ( 3 ) على مضيق : جبل طارق .  
 يدل الرقم ( 4 ) على هضبة : أثيوبيا .  
 يدل الرقم ( 5 ) على نهر : النيجر .  
 يدل الرقم ( 6 ) على هضبة : البحيرات .  
 يدل الرقم ( 7 ) على نهر : الكونغو .  
 يدل الرقم ( 8 ) على صحراء : كلهاري .  
 يدل الرقم ( 9 ) على مضيق : باب المندب .

56) اذكر العوامل المؤثرة في مناخ قارة إفريقيا .

- أ- الموقع الفلكي . ب- الموقع الجغرافي . ج- مظاهر السطح .

57) ما النتائج المترتبة على :

( أ ) امتداد قارة إفريقيا في 72 دائرة عرضية ؟

1- تنوع المناخ .

( ب ) استقامة سواحل قارة إفريقيا وقلّة تعرجاتها ؟

1- قلّة تأثير المؤثرات البحرية في داخل القارة .

( ج ) ارتفاع الأجزاء الشرقية من قارة إفريقيا ؟

1- انخفاض درجة الحرارة بهذه الأجزاء .



58) بم تفسر : حدوث ظاهرة الجفاف في قارة إفريقيا ؟

- أ- تقلبات دورة الغلاف الجوي .  
ب- الري المفرط وإزالة الغطاء النباتي .

59) ما الآثار المترتبة على الجفاف ؟

- أ- تدهور التربة وزيادة تصحرها .  
ب- القحط وهلاك المواشي وموت الإنسان .  
ج- المجاعات .

60) اقترح حلول لمواجهة الجفاف في قارة إفريقيا .

- أ- الحفاظ على المراعي الطبيعية والابتعاد عن الري الجائر .  
ب- إقامة السدود لتخزين مياه الأمطار .  
ج- التوسع في إقامة محطات التحلية في المناطق الساحلية .

61) اذكر جهود دولة قطر لإغاثة متضرري الجفاف والمجاعات في إفريقيا .

- أ- توفير الإمدادات الغذائية .  
ب- حفر آبار المياه العميقة .  
ج- بناء مراكز الإيواء والمراكز العلاجية للمتضررين .  
د- بناء المراكز العلاجية .

62) ما أسباب ارتفاع معدل المواليد في قارة إفريقيا ؟

- أ- الزواج المبكر .  
ب- ارتفاع معدل الخصوبة .  
ج- انخفاض الوعي بمسؤولية تربية الأطفال .  
د- ارتفاع نسبة الأمية والفقير .

63) ما أسباب ارتفاع معدل الوفيات في قارة إفريقيا ؟

- أ- انتشار الأمراض .  
ب- انتشار ذبابة تسي تسي .  
ج- سوء الأحوال الاقتصادية والاجتماعية .

64) فسر ما يلي :

- ( أ ) ارتفاع الكثافة السكانية في وادي النيل ودلتاه .  
1- خصوبة التربة ووفرة المياه .  
( ب ) ندرة السكان في الغابات الاستوائية .  
1- انتشار الأمراض .

65) اذكر المناطق متوسطة الكثافة السكانية في قارة إفريقيا .

- أ- سواحل البحر المتوسط .  
ب- سواحل جنوب إفريقيا .  
ج- هضبة إثيوبيا .  
د- هضبة البحيرات .

66) اذكر المناطق نادرة السكان في قارة إفريقيا .

أ- الغابات الاستوائية . ب- الصحراء الكبرى - صحراء كلهاري .

67) ما أهداف السياسة السكانية في قارة إفريقيا ؟

أ- خفض معدل المواليد . ب- السيطرة على معدل الوفيات .  
ج- الاتجاه نحو التصنيع . د- الاهتمام بالتعليم .

68) بم تفسر : تنوع أنماط الزراعة في قارة إفريقيا ؟

أ- اختلاف المساحات المزروعة . ب- اختلاف الإمكانيات التكنولوجية . ج- اختلاف نسبة تركيز السكان .

69) قارن بين أنواع الزراعة في قارة إفريقيا من حيث الخصائص ومناطق الانتشار وأهم المحاصيل .

وجه المقارنة	الزراعة البسيطة (البدائية)	الزراعة الكثيفة	الزراعة العلمية الواسعة
الخصائص	أ- زراعة الأرض حتى تفقد خصوبتها .	أ- تعتمد على مياه الأنهار والأمطار والمياه الجوفية .	أ- تعتمد على الآلات الحديثة .
مناطق الانتشار	ب- أطراف الغابات الاستوائية.	ب- وادي النيجر - نهر الأورنج - السواحل الشمالية .	ب- غرب ووسط وشرق القارة.
أهم المحاصيل	ج- الذرة - قصب السكر .	ج- القمح - الذرة .	ج- المطاط - الكاكاو - الشاي .

70) ما المشكلات التي تواجه التنمية الزراعية في قارة إفريقيا ؟

أ- ضعف الإمكانيات المادية . ب- عدم وفرة رؤوس الأموال . ج- التغيرات المناخية .

71) ما احتياجات تحقيق التنمية الزراعية المستدامة في قارة إفريقيا في ظل تغير المناخ ؟

أ- زيادة الإنتاجية الزراعية . ب- تقليل الاحتباس الحراري . ج- التكيف مع آثار تغير المناخ .

72) ما المشكلات التي تواجه الثروة الحيوانية في قارة إفريقيا ؟

أ- تدهور المراعي . ب- ضعف الحيوانات وهزالها .  
ج- انتشار الأمراض . د- بعض العادات الاجتماعية .

73) اقترح أساليب تنمية الثروة الحيوانية في قارة إفريقيا ؟

أ- توفير الأعلاف . ب- توفير الرعاية البيطرية .  
ج- استخدام الوسائل الحديثة . د- تحسين السلالات .

74) بم تفسر : قلة الإنتاج السمكي في قارة إفريقيا ؟

أ- عمق المياه الساحلية . ب- استقامة السواحل . ج- طرق الصيد التقليدية . د- قلة المزارع السمكية .

75) ما المشكلات التي تواجه تنمية الثروة المعدنية في قارة إفريقيا ؟

أ- تصدير الإنتاج خام .  
ب- ضعف الإمكانيات المادية .

76) ما أسباب ضعف استغلال الطاقة الكهرومائية في قارة إفريقيا ؟

أ- عدم الاستقرار السياسي .  
ب- ضعف الاستثمارات .  
ج- محدودية السوق .  
د- ضعف التنسيق بين الدول .

77) عدد أبرز الصناعات في قارة إفريقيا .

أ- الصناعات الاستخراجية .  
ب- الصناعات الكيماوية .  
ج- الصناعات الثقيلة .  
د- الصناعات النسيجية .

78) ما المشكلات التي تواجه الإنتاج الصناعي في قارة إفريقيا ؟

أ- نقص الخبرة الفنية .  
ب- نقص رأس المال .  
ج- ارتفاع الديون الخارجية .  
د- هجرة الأيدي العاملة .

79) بم تفسر : تعاني قارة إفريقيا ضعفاً في شبكة الطرق البرية ؟

أ- انتشار الصحاري والغابات .  
ب- الظروف المناخية كالعواصف والأتربة .  
ج- ارتفاع تكاليف الإنشاء .

80) ما التحديات الاقتصادية في قارة إفريقيا ؟

أ- ضعف استغلال الموارد .  
ب- الفقر .  
ج- المجاعات .

81) ما الجهود التي تبذلها منظمة الاتحاد الإفريقي لتنمية القارة الإفريقية ؟

أ- تحقيق النهضة للقارة .  
ب- تعزيز دور التكتلات الاقتصادية .  
ج- المساهمة في بناء السلام العالمي .

82) ما الأهمية الاستراتيجية لقارة أوروبا ؟

أ- موقعها المتوسط في قلب العالم .  
ب- الإشراف على مسطحات ومضايق بحرية مهمة .

83) عدد أبرز الجبال في قارة أوروبا .

أ- جبال القوقاز .  
ب- جبال الألب .  
ج- جبال البرانس .  
د- جبال الأبنين .

84) عدد أبرز الهضاب في قارة أوروبا .

- أ- هضبة الميزيتا .  
ب- هضبة فرنسا الوسطى .  
ج- هضبة بافاريا .

85) أجب عما يلي .

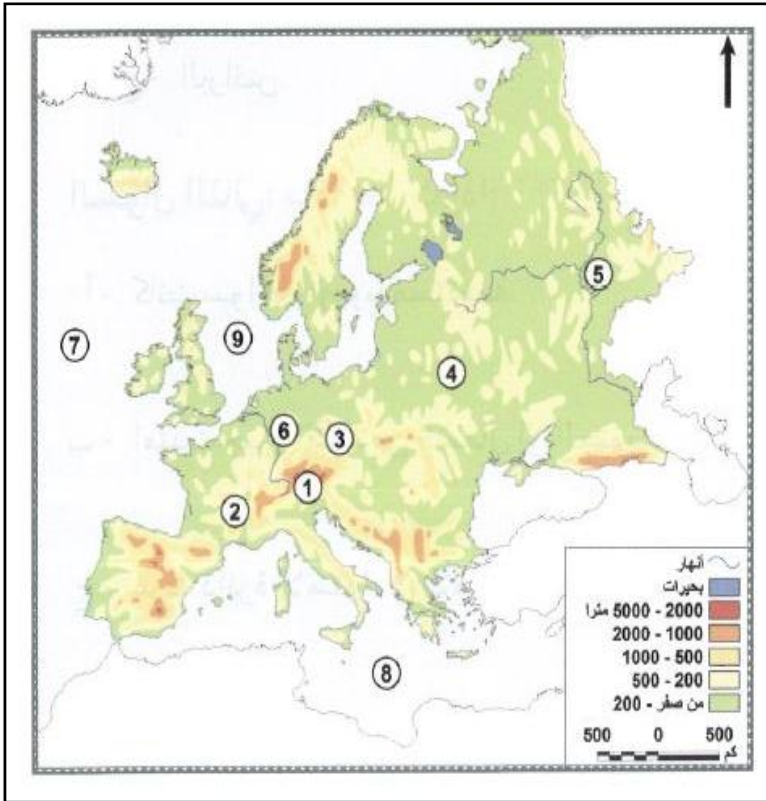
( أ ) ما الدليل على عدم استقرار مرتفعات الألب بقارة أوروبا ؟  
1- كثرة الزلازل والبراكين .

( ب ) ما الدليل على كثرة تعرجات سواحل قارة أوروبا ؟  
1- تغلغل عدة أدرع بحرية في اليابس .

86) اذكر أبرز السهول الفيضية في قارة أوروبا .

- أ- نهر الفولجا .  
ب- نهر الدانوب .  
ج- نهر الراين .  
د- نهر الرون .

87) من خلال خريطة قارة أوروبا الصماء التي أمامك ، اكتب في المستطيل أدناه مدلولات الأرقام التالية .



- يدل الرقم ( 1 ) على جبال : الألب  
يدل الرقم ( 2 ) على هضبة : فرنسا الوسطى  
يدل الرقم ( 3 ) على هضبة : بافاريا  
يدل الرقم ( 4 ) على السهل : الأوروبي العظيم  
يدل الرقم ( 5 ) على نهر : الفولجا  
يدل الرقم ( 6 ) على نهر : الراين  
يدل الرقم ( 7 ) على المحيط : الأطلسي  
يدل الرقم ( 8 ) على البحر : المتوسط  
يدل الرقم ( 9 ) على بحر : الشمال

88) ما العوامل المؤثرة في مناخ قارة أوروبا ؟

- أ- الموقع الفلكي .  
ب- الموقع الجغرافي .  
ج- التضاريس .  
د- التيارات البحرية .

89) ما النتائج المترتبة على :

( أ ) تعرج سواحل قارة أوروبا ؟

1- وفرة الموانئ الطبيعية .

( ب ) مرور التيارات الدفيئة على سواحل شمال غرب قارة أوروبا ؟

1- عدم تجمد المياه واعتدال المناخ .

( ج ) امتداد جبال الألب من الغرب إلى الشرق ؟

1- منع اختلاط المؤثرات المناخية .

2- توغل الرياح الغربية الممطرة إلى وسط القارة .

90) عدد أنواع الأقاليم المناخية في قارة أوروبا ؟

أ- إقليم البحر المتوسط . ب- الإقليم المعتدل البارد القاري .

ج- إقليم مناخ غرب أوروبا . د- الإقليم القطبي .

91) ما الخصائص المناخية لإقليم غرب أوروبا ؟

أ- انخفاض الحرارة شتاء واعتدالها صيفا .

ب- الأمطار طول العام .

92) اذكر أعلى دول قارة أوروبا من حيث عدد السكان .

أ- روسيا . ب- ألمانيا .

ج- تركيا . د- فرنسا .

93) ما أسباب انخفاض معدل المواليد في قارة أوروبا ؟

أ- انخفاض معدل الخصوبة . ب- ارتفاع مستوى المعيشة .

ج- عمل المرأة . د- تأخر سن الزواج .

94) بم تفسر : تركز معظم السكان في غرب قارة أوروبا ؟

أ- تركز المناطق الصناعية . ب- وفرة مقومات الزراعة .

95) بم تفسر : انخفاض الكثافة السكانية في شبه جزيرة البلقان وأيبيريا ؟

أ- انتشار المرتفعات . ب- وعورة التضاريس .

96) فسر ندرة السكان في أقصى شمال قارة أوروبا .

أ- شدة البرودة . ب- صعوبة المواصلات .

97) اذكر الإجراءات التي تقوم بها قارة أوروبا لتحقيق السياسة السكانية .

أ- زيادة معدل المواليد . ب- توفير فرص عمل لكبار السن . ج- التوسع في الهجرة

98) قارن بين أنواع الزراعة في قارة أوروبا من حيث الموقع والخصائص وأهم المحاصيل .

وجه المقارنة	زراعة البحر المتوسط	الزراعة المختلطة
الموقع	أ- ساحل البحر المتوسط .	أ- ساحل المحيط الأطلنطي .
الخصائص	أ- استخدام الآلات الزراعية البسيطة . ب- تتبع دورات زراعية خاصة .	أ- استخدام الأساليب الحديثة . ب- ترتبط بتربية الحيوانات .
أهم المحاصيل	أ- الزيتون - الكروم .	أ- الذرة - البنجر .

99) لماذا يعد القمح المحصول الغذائي الرئيسي للسكان في قارة أوروبا ؟

أ- مناخ أوروبا المعتدل البارد . ب- استخدام الأساليب الحديثة .

100) ما المشكلات الزراعية المتوقع حدوثها في قارة أوروبا ؟

أ- انتشار الآفات الزراعية . ب- الاحتباس الحراري وتغير المناخ .

101) ما السياسة الزراعية التي تتبعها دول أوروبا لتحقيق التنمية الزراعية المستدامة ؟

أ- الاتجاه نحو الزراعة العضوية . ب- استخدام الأساليب الحديثة .

102) ما أسباب تفوق قارة أوروبا في الإنتاج الحيواني ؟

أ- اتساع المراعي وتنوعها . ب- وفرة الأعلاف .  
ج- استخدام الأساليب الحديثة . د- تصنيع المنتجات الحيوانية .

103) ما أسباب ارتفاع الإنتاج السمكي في قارة أوروبا ؟

أ- تعدد مصايد الأسماك . ب- كثرة تعاريج السواحل .  
ج- التقاء التيارات البحرية . د- كثرة الفيوردات والخلجان .

104) ما أساليب قارة أوروبا لتحقيق التنمية المستدامة في الثروة السمكية ؟

أ- بناء أساطيل الصيد المجهزة . ب- ترشيد الصيد .  
ج- مكافحة الصيد غير القانوني .

105) لماذا تتميز قارة أوروبا بمحطات توليد الطاقة من المد والجزر ؟

أ- طول السواحل . ب- كثرة الخلجان والفيوردات . ج- مصبات الأنهار .

106) اذكر أهم الأقاليم الصناعية في قارة أوروبا .

أ- إقليم شرق القارة . ب- إقليم وسط وغرب القارة .



107) ما العوامل التي ساعدت على تعدد وترايط شبكة النقل في قارة أوروبا؟

أ- صغر مساحة القارة . ب- التقدم التكنولوجي والاقتصادي .

ج- وجود عامل المصالح المشتركة .

108) عدد أهم الصادرات الأوروبية .

أ- السيارات . ب- الأجهزة الإلكترونية .

ج- منتجات الألبان . د- الفواكه .

109) ما عوامل ازدهار السياحة في قارة أوروبا؟

أ- الطبيعة الخلابة . ب- متحف اللوفر .

ج- المدن القديمة . د- المدن الساحلية والترفيهية .



مع أطيب التمنيات بالنجاح والتفوق ...