

حل المصدر للصف الخامس
من صفحة 4 إلى صفحة 9



آكلة لحوم

تُسَمَّى الْحَيَوَانَاتُ الَّتِي تَتَغَذَّى فَقَطُّ عَلَى لُحُومِ حَيَوَانَاتٍ أُخْرَى

آكلة عشب

تُسَمَّى الْحَيَوَانَاتُ الَّتِي تَتَغَذَّى فَقَطُّ عَلَى النَّبَاتَاتِ

بَعْضُ الْحَيَوَانَاتِ تَعُدُّ مِنَ الْقَوَارِتِ، مِمَّا يَعْنِي أَنَّهَا تَتَغَذَّى عَلَى كُلِّ مِنْ لُحُومِ

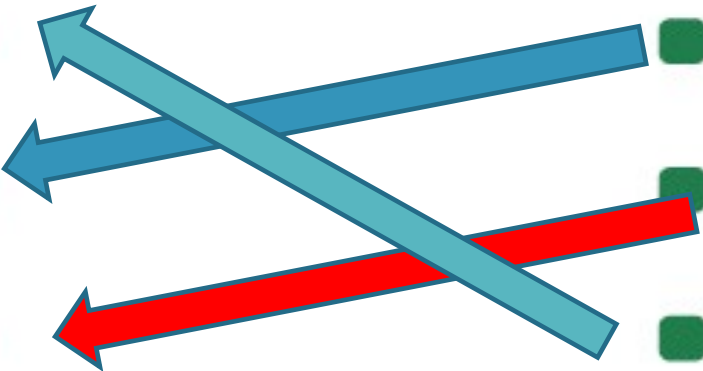
الْحَيَوَانَاتِ الْأُخْرَى وَالنَّبَاتَاتِ.



أَصِلْ بِخَطِّ بَيْنَ الْحَيَوَانَ وَالْمَجْمُوعَةِ الَّتِي يَنْتَمِي إِلَيْهَا.



آكِلُ اللَّحْمِ ■
قَارِتٌ ■
آكِلُ الْعُشْبِ ■



دُبٌّ ■
أَرْنَبٌ صَحْرَاوِيٌّ ■
تَمْسَاحٌ ■

صفحة [5]

إلى أي مجموعة تنتمي الحيوانات المختلفة؟

أصنّف الحيوانات إلى آكلة اللحوم أو آكلة العشب أو القوارب.

الوحدة 1 : السلاسل الغذائية



سأحتاج إلى:

- صور لحيوانات مختلفة
- مقص
- لاصق



الشكل 1.12

صوَّص



الشكل 1.11

سمكة القرش



الشكل 1.10

أرنب




الشكل 1.15

صقّر



الشكل 1.14

سلحفاة بحرية



الشكل 1.13

زرافة



الشكل 1.18

غزال



الشكل 1.17

فهد




الشكل 1.16

قرود

صفحة [8] يتم قص الصور من الكتاب المدرسي صفحة 151 ولصقها في المكان المناسب بالجدول

آكل العشب قارت

آكل اللحوم



4 أختارُ أحدَ الحيواناتِ مِنَ الجدولِ وأشرحُ لماذا صنفته في المجموعة التي ينتمي إليها.

الصقر : يصنف آكل لحوم لأنه يتغذى على اللحوم فقط

