

الدراسات الاجتماعية

مراجعة وحل تدريبات الوحدة الأولى ج4

الصف العاشر



السؤال الأول : اختر الإجابة الصحيحة من بين البدائل التالية

- 1 - تقع دولة قطر في منتصف ساحل الخليج العربي من الجهة:
- أ- الشمالية.
 - ب- الجنوبية.
 - ج- الشرقية.
 - د - الغربية.

السؤال الأول : اختر الإجابة الصحيحة من بين البدائل التالية

1 - تقع دولة قطر في منتصف ساحل الخليج العربي من الجهة:

أ- الشمالية.

ب- الجنوبية.

ج- الشرقية.

د - الغربية.

2 - ترتبط دولة قطر بحدود برية مع:

أ- الإمارات.

ب- السعودية.

ج- إيران.

د- البحرين.

عزيزي الطالب الكتاب المدرسي صفحة 29 واجب علي الاسئلة التالية

3- تبلغ مساحة دولة قطر:

أ- 12600 كم².

ج- 17600 كم².

ب- 15600 كم².

د - 11610 كم².

عزيزي الطالب الكتاب المدرسي صفحة 29 واجب علي الاسئلة التالية

3- تبلغ مساحة دولة قطر:

أ- 12600 كم².

ج- 17600 كم².

ب- 15600 كم².

د - 11610 كم².

4 - أي من الأشكال الآتية عبارة عن طية مقعّرة؟

أ- دوحة الحصين.

ج- سبخة الخفوس.

ب- تلال دخان.

د - رأس أبروق.

عزيزي الطالب الكتاب المدرسي صفحة 29 واجب علي الاسئلة التالية

3- تبلغ مساحة دولة قطر:

أ- 12600 كم².

ج- 17600 كم².

ب- 15600 كم².

د - 11610 كم².

4 - أي من الأشكال الآتية عبارة عن طية مقعّرة؟

أ- دوحة الحصين.

ج- سبخة الخفوس.

ب- تلال دخان.

د - رأس أبروق.

عزيزي الطالب الكتاب المدرسي صفحة 29 واجب علي الاسئلة التالية

3- تبلغ مساحة دولة قطر:

أ- 12600 كم².

ج- 17600 كم².

ب- 15600 كم².

د - 11610 كم².

4 - أي من الأشكال الآتية عبارة عن طية مقعّرة؟

أ- دوحة الحصين.

ج- سبخة الخفوس.

ب- تلال دخان.

د - رأس أبروق.

5 - تشكّلت المنخفضات في دولة قطر بفعل:

أ- الثلوج.

ج- الضباب.

ب- الأمطار.

د - الحرارة.

عزيزي الطالب الكتاب المدرسي صفحة 29 واجب علي الاسئلة التالية

3- تبلغ مساحة دولة قطر:

أ- 12600 كم 2.

ج- 17600 كم 2.

ب- 15600 كم 2.

د - 11610 كم 2.

4 - أي من الأشكال الآتية عبارة عن طية مقعّرة؟

أ- دوحة الحصين.

ج- سبخة الخفوس.

ب- تلال دخان.

د - رأس أبروق.

5 - تشكّلت المنخفضات في دولة قطر بفعل:

أ- الثلوج.

ج- الضباب.

ب- الأمطار.

د - الحرارة.

السؤال الثاني: ما الفرق بين كل من:

1 - الخلجان والدوحات؟

2 - الدحول والخراسيع؟

السؤال الثاني: ما الفرق بين كل من:

1 - الخلجان والدوحات؟

الخلجان : السنة من مياه البحر أكثر اتساعاً من الأخوار تتوغل داخل اليابس.

الدوحات: عبارة عن تداخل ساحل البحر في اليابس على شكل مقوس أو شبه دائري.

2 - الدحول والخراسيع؟

السؤال الثاني: ما الفرق بين كل من:

1 - الخلجان والدوحات؟

الخلجان : السنة من مياه البحر أكثر اتساعاً من الأخوار تتوغل داخل اليابس.

الدوحات: عبارة عن تداخل ساحل البحر في اليابس على شكل مقوس أو شبه دائري.

2 - الدحول والخراسيع؟

الدحول: هي الكهوف الأرضية التي انهارت الأجزاء العليا منها؛ فكوّنت فتحات على سطح الأرض
مثل: دحل الحمام

الخراسيع: فهي كهوف مخفية تحت سطح الأرض، تكوّنت نتيجة ذوبان الصخور الجيرية بفعل المياه الجوفية والأمطار.

السؤال الثالث: عرّف المصطلحات الآتية:

1 - السبغات:

السؤال الثالث: عرّف المصطلحات الآتية:

1 - السبخات:

هي أراضٍ منخفضة ومستوية السطح تتعرض لمعدلات عالية من تبخر مياه البحر ينتج عنها طبقة ملحية صلبة إلى السطح

2 - الأودية الجافة:

السؤال الثالث: عرّف المصطلحات الآتية:

1 - السبخات:

هي أراضٍ منخفضة ومستوية السطح تتعرض لمعدلات عالية من تبخر مياه البحر ينتج عنها طبقة ملحية صلبة إلى السطح

2 - الأودية الجافة: هي مجارٍ مائية تمّ حفرها بواسطة الأمطار الغزيرة في العصر المطير ثم جفّت في العصر الجاف.

3 - الشواطئ الرملية:

السؤال الثالث: عرّف المصطلحات الآتية:

1 - السبخات:

هي أراضٍ منخفضة ومستوية السطح تتعرض لمعدلات عالية من تبخر مياه البحر ينتج عنها طبقة ملحية صلبة إلى السطح

2 - الأودية الجافة: هي مجارٍ مائية تمّ حفرها بواسطة الأمطار الغزيرة في العصر المطير ثم جفّت في العصر الجاف.

3 - الشواطئ الرملية: عبارة عن إرسابات رملية أرسبّتها التيارات البحرية والأمواج.

4 - التركيب الجيولوجي:

السؤال الثالث: عرّف المصطلحات الآتية:

1 - السبخات:

هي أراضٍ منخفضة ومستوية السطح تتعرض لمعدلات عالية من تبخر مياه البحر ينتج عنها طبقة ملحية صلبة إلى السطح

2 - الأودية الجافة: هي مجارٍ مائية تمّ حفرها بواسطة الأمطار الغزيرة في العصر المطير ثم جفّت في العصر الجاف.

3 - الشواطئ الرملية: عبارة عن إرسابات رملية أرسبّتها التيارات البحرية والأمواج.

4 - التركيب الجيولوجي: الوحدات الصخرية المكوّنة لطبقات القشرة الأرضية.

السؤال الرابع: بم تفسّر:

1 - امتلاك دولة قطر أكثر من 700 كم من السواحل؟

السؤال الرابع: بم تفسّر:

1 - امتلاك دولة قطر أكثر من 700 كم من السواحل؟

بسبب أ- طبيعتها كشبه جزيرة
ب- كثرة تعاريج سواحلها.

2 - صلاحية الروضات للزراعة؟

السؤال الرابع: بم تفسّر:

1 - امتلاك دولة قطر أكثر من 700 كم من السواحل؟

بسبب أ- طبيعتها كشبه جزيرة ب- كثرة تعاريج سواحلها.

2 - صلاحية الروضات للزراعة؟

بسبب أ- وفرة المياه الجوفية. ب- خصوبة التربة فيها.

3 - انتهاء أغلب الأودية الجافة في دولة قطر إلى المنخفضات؟

السؤال الرابع: بم تفسّر:

1 - امتلاك دولة قطر أكثر من 700 كم من السواحل؟

بسبب أ- طبيعتها كشبه جزيرة ب- كثرة تعاريج سواحلها.

2 - صلاحية الروضات للزراعة؟

بسبب أ- وفرة المياه الجوفية. ب- خصوبة التربة فيها.

3 - انتهاء أغلب الأودية الجافة في دولة قطر إلى المنخفضات؟

بسبب قلة المياه المتدفقة.

السؤال الرابع: بم تفسّر:

4 - تشكيل المنخفضات بدولة قطر؟

السؤال الرابع: بم تفسّر:

4 - تشكيل المنخفضات بدولة قطر؟

- أ- توقّر الصخور القابلة للذوبان مثل: الحجر الجيري.
ب- الشقوق والفواصل المنتشرة بالحجر الجيري.

5 - أهمية دراسة التركيب الجيولوجي لدولة قطر؟

السؤال الرابع: بم تفسّر:

4 - تشكيل المنخفضات بدولة قطر؟

- أ- توفر الصخور القابلة للذوبان مثل: الحجر الجيري.
ب- الشقوق والفواصل المنتشرة بالحجر الجيري.

5 - أهمية دراسة التركيب الجيولوجي لدولة قطر؟

- أ - معرفة مناطق تجمع النفط.
ب - معرفة مناطق تجمع المياه الجوفية.

6 - أهمية الفشوت؟

السؤال الرابع: بم تفسّر:

4 - تشكيل المنخفضات بدولة قطر؟

- أ- توفر الصخور القابلة للذوبان مثل: الحجر الجيري.
ب- الشقوق والفواصل المنتشرة بالحجر الجيري.

5 - أهمية دراسة التركيب الجيولوجي لدولة قطر؟

- أ - معرفة مناطق تجمع النفط.
ب - معرفة مناطق تجمع المياه الجوفية.

6 - أهمية الفشوت؟

- أ- تُعدُّ مقصدًا للسياحة. ب- يكمنُ في بعضها النفط، والغاز الطبيعي. ج- حماية الشواطئ من التآكل

السؤال الخامس: صنف أشكال السطح الآتية بدولة قطر في الجدول المقابل.

الفشوت

خور العُديد

دحل المسفر

رأس أبروق

جزيرة حالول

سبخة مسيعيد

الكتبان الهلالية

الروضات

أشكال السطح الساحلية	أشكال السطح الصحراوية
.....
.....
.....
.....
.....

السؤال الخامس: صنف أشكال السطح الآتية بدولة قطر في الجدول المقابل.

أشكال السطح الساحلية	أشكال السطح الصحراوية
رأس أبروق	الروضات
خور العُديد	دحل المسفر
سبخة مسيعيد	الكتبان الهلالية
الفشوت
جزيرة حالول

السؤال السادس: بَرِّهِن على صحة العبارة التالية:

- تتمتع دولة قطر بموقع استراتيجي مهم.

السؤال السادس: بَرِّهِن على صحة العبارة التالية:

- تتمتع دولة قطر بموقع استراتيجي مهم.

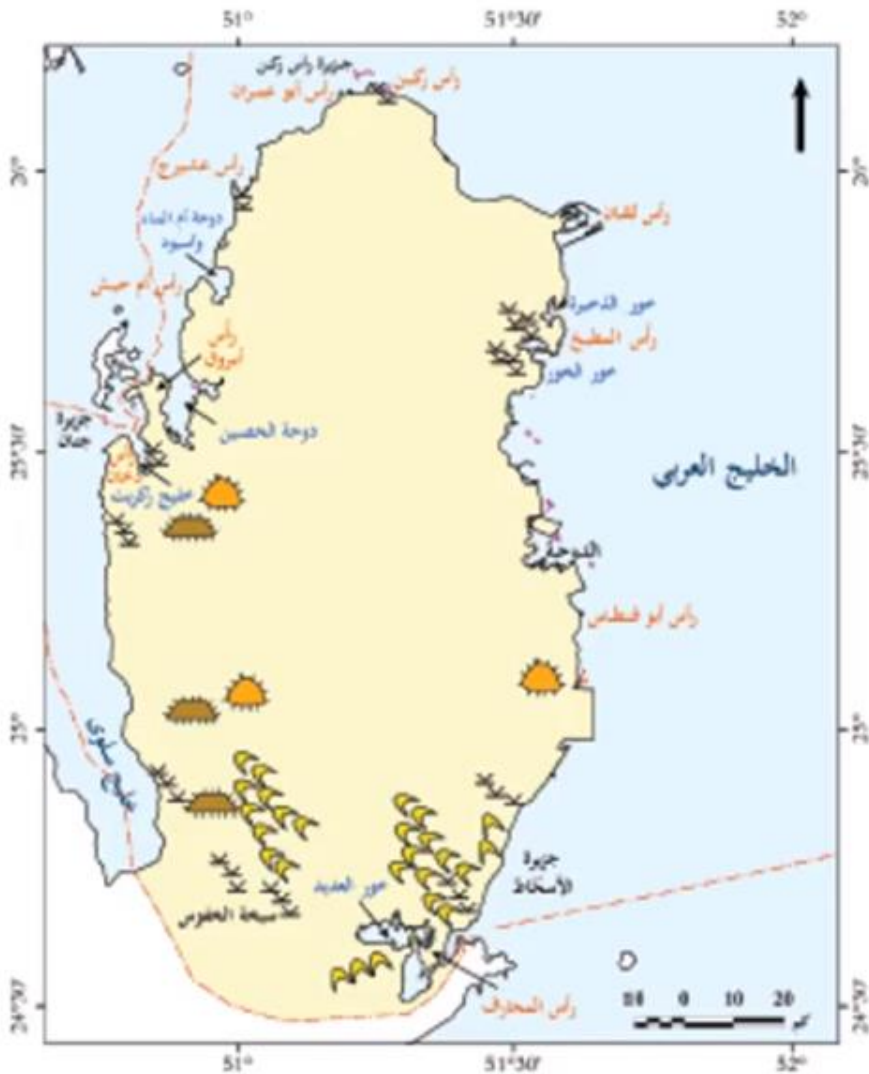
أ- أصبحت قطر مَعْبَرًا مِلاحيًّا للعديد من السفن التي تَعْبُر مياه الخليج العربي والعالم الخارجي.


ب- ساعدَ الموقع الجغرافي لدولة قطر على الاستفادة من مغاصات اللؤلؤ ومصائد الأسماك قديمًا، والاستفادة من حقول النفط والغاز البحرية حديثًا.

ج- سهولة الاتصال بشمال وجنوب منطقة الخليج العربي.

السؤال السابع:

لاحظ خريطة أشكال سطح الأرض بدولة قطر التي أمامك،
وحاول أن تتعرف مواقعها من خلال الرموز
الجغرافية الموجودة بالخريطة، ودون إجابتك في الجدول
التالي:

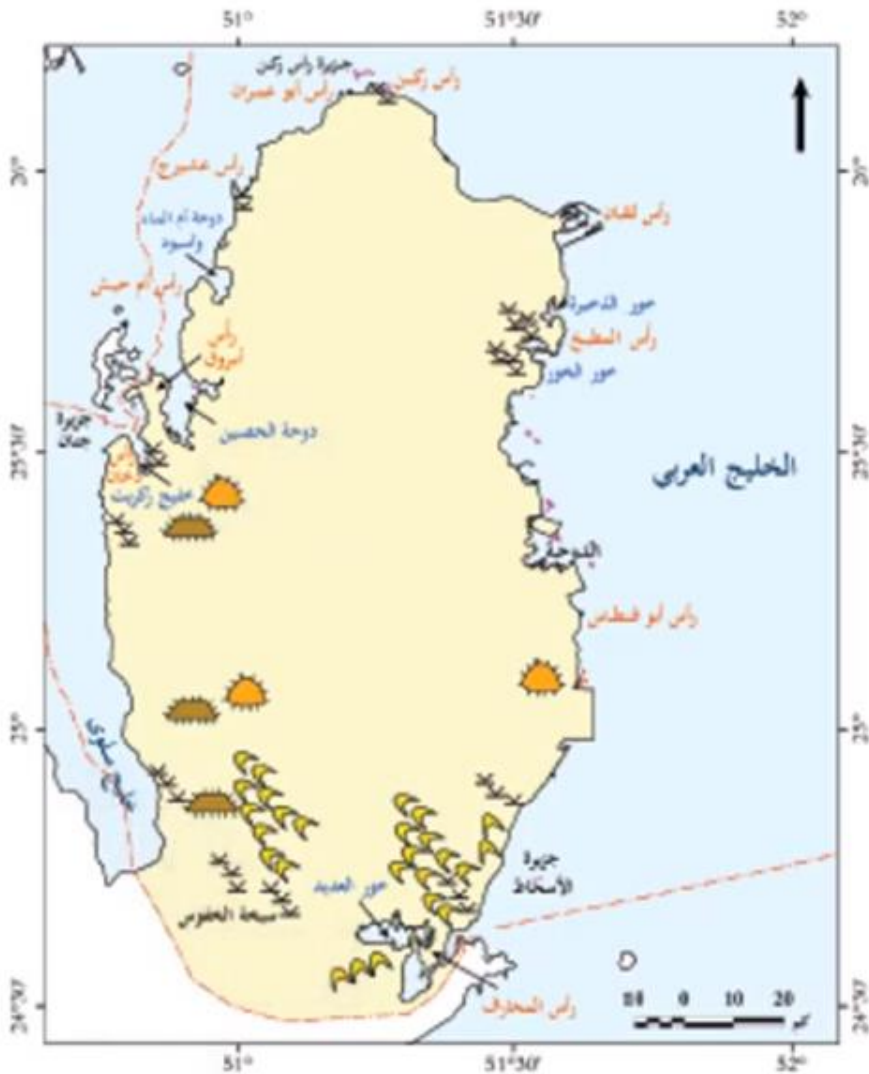


الرمز	اسم الظاهرة	مثال




السؤال السابع:

لاحظ خريطة أشكال سطح الأرض بدولة قطر التي أمامك،
وحاول أن تتعرف مواقعها من خلال الرموز
الجغرافية الموجودة بالخريطة، ودون إجابتك في الجدول
التالي:



الرمز	اسم الظاهرة	مثال
	تلال قبابية	تلال دخان
	كثبان رملية	خور العديد
	سبخات	سبخة الخفوس

عزيزي الطالب الكتاب المدرسي **صفحة 51** واجب علي الاسئلة التالية

السؤال الأول : اختر الإجابة الصحيحة من بين البدائل التالية

- 1 - تُصنَّف رياح الكوس في دولة قطر ضمن الرِّياح:
- أ- التجارية.
 - ب- الموسمية.
 - ج- العكسية.
 - د - المحلية.



عزيزي الطالب الكتاب المدرسي **صفحة 51** واجب علي الاسئلة التالية

السؤال الأول : اختر الإجابة الصحيحة من بين البدائل التالية



1 - تُصنَّف رياح الكوس في دولة قطر ضمن الرِّياح:
أ- التجارية.
ب- الموسمية.
ج- العكسية.
د - المحلية.

2 - ترتفع درجة الحرارة في دولة قطر إلى أعلى معدّلاتها في شهر:
أ- مايو.
ب- يونيو.
ج- يوليو.
د - أغسطس.

عزيزي الطالب الكتاب المدرسي صفحة 51 واجب علي الاسئلة التالية

السؤال الأول : اختر الإجابة الصحيحة من بين البدائل التالية



1 - تُصنَّف رياح الكوس في دولة قطر ضمن الرِّياح:
أ- التجارية.
ب- الموسمية.
ج- العكسية.
د - المحلية.

2 - ترتفع درجة الحرارة في دولة قطر إلى أعلى معدّلاتها في شهر:
أ- مايو.
ب- يونيو.
ج- يوليو.
د - أغسطس.

3 - من نباتات الروضات:

أ- السمر.

ب- القرمل.

ج- القرم.

د - الثمام.

3 - من نباتات الروضات:

أ- السمر.

ج- القرم.

ب- القرمل.

د - الثمام.

4 - يقتصرُ تأثيرُ الخليج العربي في مُناخ دولة قطر على عنصر:

أ- الرطوبة.

ج- الضغط الجوي.

ب- الحرارة.

د - الرّيح.

3 - من نباتات الروضات:

أ- السمر.

ب- القرمل.

ج- القرم.

د - الثمام.

4 - يقتصرُ تأثيرُ الخليج العربي في مُناخ دولة قطر على عنصر:

أ- الرطوبة.

ب- الحرارة.

ج- الضغط الجوي.

د - الرّيح.

عزيزي الطالب الكتاب المدرسي صفحة 51 واجب علي الاسئلة التالية

5 - تنمو نباتات السبخات في دولة قطر مثل:

أ- القرممل.

ج- القرم.

ب- السممر.

د - الثمام.

الكتاب المدرسي **صفحة 52** واجب علي الاسئلة التالية

السؤال الثاني: عرّف المفاهيم الآتية:

1- النباتات الحولية.

2 - المياه الجوفية.

3 - المياه المُحلّاة.

السؤال الثاني: عرّف المفاهيم الآتية:

1- النباتات الحولية.

هي النباتات التي تنبُتُ بعد موسم سقوط الأمطار مباشرة، وتموت بعد انتهاء الأمطار أو تتغذى عليها الحيوانات، وتتميّز بجذورها السطحية الصغيرة، مثل: الكحل، والقريص.

2 - المياه الجوفية.

هي المياه التي تُوجدُ تحت سطح الأرض على أعماق مختلفة سطحية وعميقة.

3 - المياه المُحلّاة.

عبارة عن تحلية مياه البحر، وهي المصدر الأول للمياه في دولة قطر، وتُغطّي حاليًا أغلب احتياجات السكان من المياه.

الكتاب المدرسي **صفحة 52** واجب علي الاسئلة التالية

السؤال الثالث: وَضِّحْ أَهْمِيَةَ الْآتِي:

1- مياه الصرف الصحي المعالجة في دولة قطر.

2 - المياه المُحلاة في دولة قطر.

السؤال الثالث: وَضِّحْ أهمية الآتي:

1- مياه الصرف الصحي المعالجة في دولة قطر.

تُستعمل لري الحدائق العامّة، وبعض الأراضي الزراعية - تُسهّم في الحدّ من تلوث المياه.

2 - المياه المُحلاة في دولة قطر.

مواجهة النمو السكاني السريع - تنفيذ المشاريع التنموية الكبيرة العمرانية والصناعية

الكتاب المدرسي **صفحة 52** واجب علي الاسئلة التالية

السؤال الثالث: وَضِّحْ أَهْمِيَةَ الْآتِي:

3 - النبات الطبيعي بدولة قطر.

4 - تنوُّع الخصائص الطبيعية بدولة قطر.

السؤال الثالث: وَضِّحْ أهمية الآتي:

3 - النبات الطبيعي بدولة قطر.

أ- يستخدم كوقود ب- يُستفاد منه في رعي الحيوانات ج- يُستعمل كمصدّات للرياح.

4 - تنوّع الخصائص الطبيعية بدولة قطر.

استواء السطح: ساعد على سهولة الحركة.
وجود الدوحات: أدّى إلى إنشاء الموانئ.
أشكال سطح الأرض بأشكالها المتنوعة: يعد مقوما من مقومات السياحة الطبيعية



السؤال الرابع:

عدد المشكلات التي تتعرض لها أحواض المياه الجوفية في دولة قطر

.....

.....



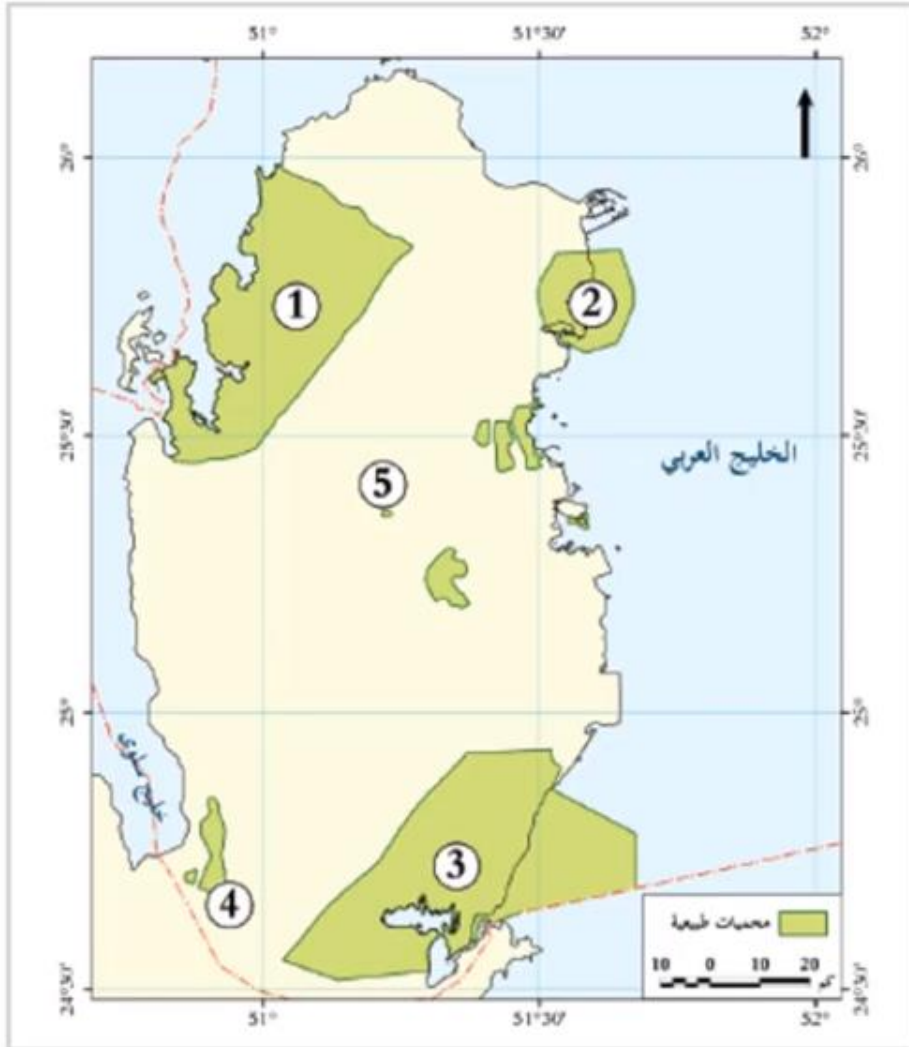
السؤال الرابع:

عدد المشكلات التي تتعرض لها أحواض المياه الجوفية في دولة قطر

أ- الاستنزاف الجائر للمياه الجوفية غير المتجددة.

ب- انخفاض منسوب المياه الجوفية.

السؤال الخامس: من الخريطة المقابلة لدولة قطر، وضّح ما تُشير إليه الأرقام الآتية



(1) محمية

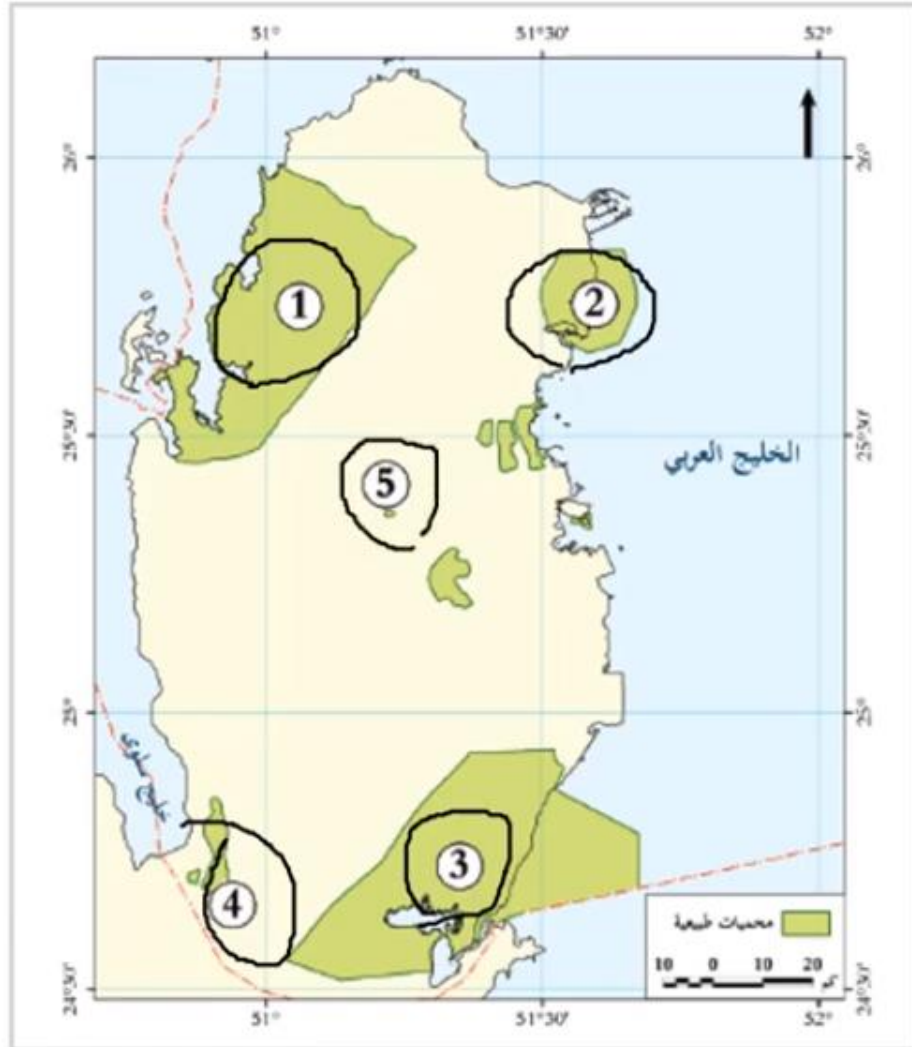
(2) محمية

(3) محمية

(4) محمية

(5) محمية

السؤال الخامس: من الخريطة المقابلة لدولة قطر، وضّح ما تُشير إليه الأرقام الآتية



الريم

(1) محمية

الذخيرة

(2) محمية

خور العديد

(3) محمية

العريق

(4) محمية

الشحانية

(5) محمية

الكتاب المدرسي **صفحة 53** واجب علي الاسئلة التالية

السؤال السادس: قارن بين كل من:

1 - مياه الحوض الجوفي الشّمالي والجنوبي بدولة قطر

الحوض الجوفي الجنوبي:

الحوض الجوفي الشّمالي:

السؤال السادس: قارن بين كل من:

1 - مياه الحوض الجوفي الشّمالي والجنوبي بدولة قطر

الحوض الجوفي الجنوبي:

ترتفع فيه نسبة الملوحة؛ بسبب
التكوينات الكبريتية المالحة في
صخوره؛ لذا لا تصلح للزراعة.

الحوض الجوفي الشّمالي:

يُعدُّ المورد الرئيس للمياه الجوفية
ذات الجودة المناسبة للشرب،
والاستهلاك الزراعي.

الكتاب المدرسي **صفحة 53** واجب علي الاسئلة التالية

السؤال السادس: قارن بين كل من:

2 - الرياح العكسية والرياح المحلية

الرياح المحلية:

الرياح العكسية:

الكتاب المدرسي **صفحة 53** واجب علي الاسئلة التالية

السؤال السادس: قارن بين كل من:

2 - الرياح العكسية والرياح المحلية

الرياح المحلية:

وهي رياح حارة ورطبة تُثير الغبار
والأتربة
وتعرف باسم رياح الكوس

الرياح العكسية:

تهب على دولة قطر في فصل
الشتاء.
وتتسم بأنها رياح باردة وتُسهم في
سقوط الأمطار الشتوية

السؤال السابع: بم تُفسِّر:

1- التأثير المحدود للخليج العربي في مُناخ دولة قطر؟

- أ- صِغَر مساحته بالنسبة لحجم اليابس المُحيط به
- ب- قلة عمقه؛ مما أدى إلى ارتفاع درجة حرارة مياهه

2 - يُعدّ فصل الصيف أشد فصول السنة حرارة في دولة قطر؟

- بسبب أ- تعامد الشمس على مدار السرطان
- ب- تركُّز اشعة الشمس على نصف الكرة الشمالي

3 - اتجاه دولة قطر لتحلية مياه البحر؟

- أ- مواجهة النمو السُّكَّاني السريع.
- ب- تنفيذ المشاريع التنموية الكبيرة العمرانية والصناعية.

الكتاب المدرسي **صفحة 54** واجب علي الاسئلة التالية

السؤال الثامن: ما الفرق بين كل من:

1 - الأمطار الإعصارية وأمطار العواصف الرعدية؟

أمطار العواصف الرعدية:

الأمطار الإعصارية:

الكتاب المدرسي **صفحة 54** واجب علي الاسئلة التالية

السؤال الثامن: ما الفرق بين كل من:

1 - الأمطار الإعصارية وأمطار العواصف الرعدية؟

أمطار العواصف الرعدية:

- تسقط خلال فصلي الخريف والربيع.
- تمثل حوالي 65 % من جملة
الأمطار الساقطة على دولة قطر.

الأمطار الإعصارية:

تسقط بسبب المنخفضات الجوية التي
تمرُّ على شبه جزيرة قطر القادمة
من البحر المتوسط في فصلي الشتاء
والربيع.

الكتاب المدرسي **صفحة 54** واجب علي الاسئلة التالية

السؤال الثامن: ما الفرق بين كل من:

2 - النباتات الحولية والنباتات المعمرة؟

النباتات المعمرة

النباتات الحولية

السؤال الثامن: ما الفرق بين كل من:

2 - النباتات الحولية والنباتات المعمرة؟

النباتات المعمرة

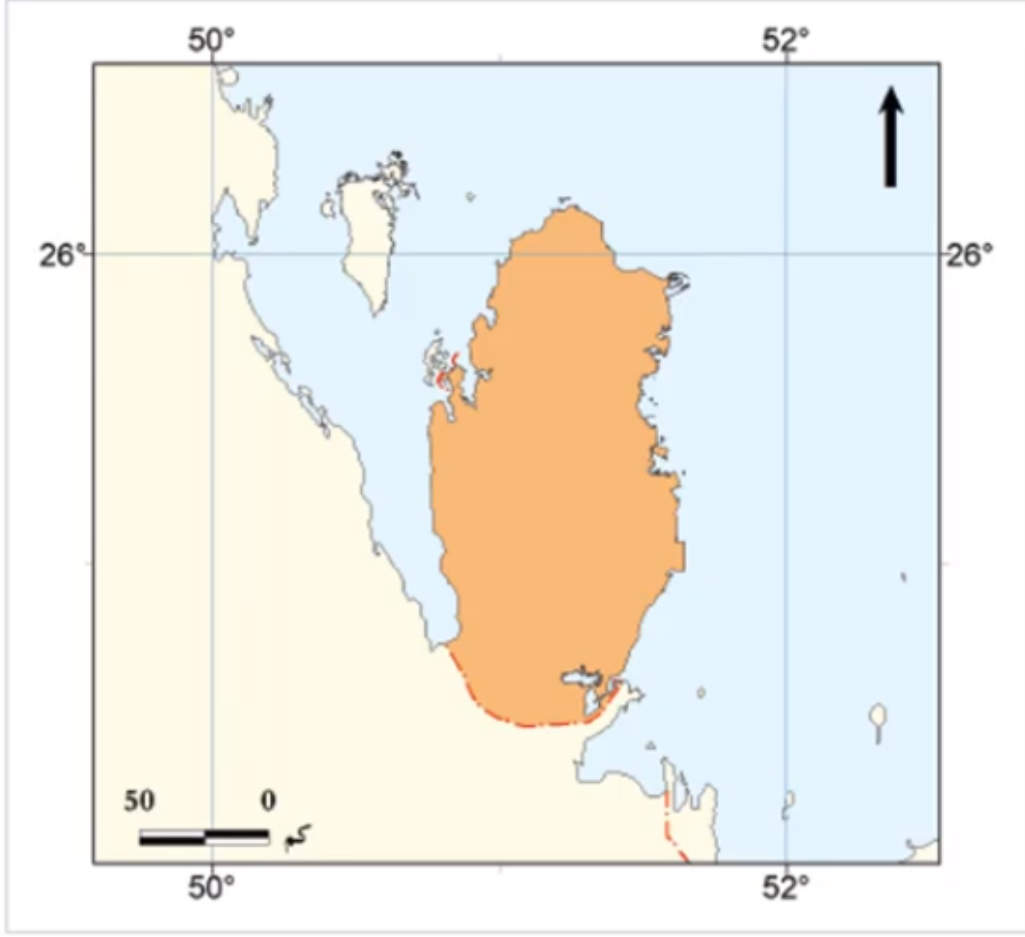
أشجار دائمة تتميز بجذورها العميقة التي تصل إلى الطبقة الرطبة، وبمقاومتها للجفاف
مثل: السمر، والغضا.

النباتات الحولية

تنبت بعد موسم سقوط الأمطار مباشرة، وتموت بعد انتهاء الأمطار او تتغذى عليها الحيوانات، وتتميز بجذورها السطحية الصغيرة،
مثل: الكحل، والقريص

الكتاب المدرسي **صفحة 54** واجب علي الاسئلة التالية

السؤال التاسع: حدّد الرياح التالية على خريطة دولة قطر:



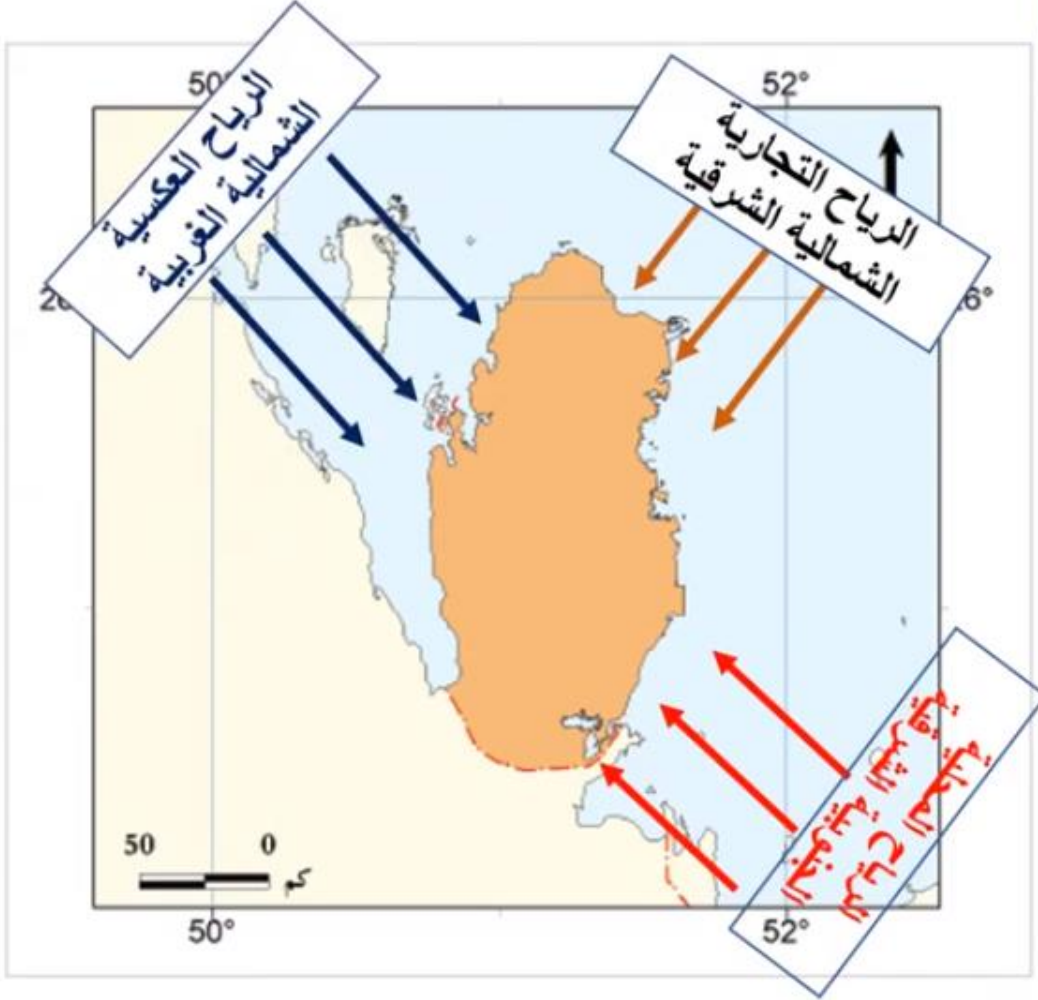
1- الرّياح التجارية.

2 - رياح الكوس.

3 - الرّياح العكسية.

الكتاب المدرسي صفحة 54 واجب علي الاسئلة التالية

السؤال التاسع: حدّد الرياح التالية على خريطة دولة قطر:



1- الرّياح التجارية.

رياح شمّالية شرقية جافة طوال العام.

2 - رياح الكوس.

ريّاح جنوبية حارة ورطوبة تُثير الغبار والأتربة،

3 - الرّياح العكسية.

رياح عكسية شمّالية وشمّالية غربية وتتسم بأنها رياح باردة، وتؤدي إلى انخفاض درجات الحرارة.



أعزائي الطلاب : من خلال تطبيق (**Microsoft Teams**)
عليكم الرجوع الى معلم الصف لمناقشة الدرس والإجابة على جميع
استفساراتكم.