

الجغرافيا

السؤال الأول : اختر الإجابة الصحيحة مما يلي

1- من الحركات الداخلية (الباطنية) البطينة :

2- تعمل الحركات الداخلية الباطنية البطينة :

3- من جبال الوطن العربي الانكسارية :

4- من أمثلة الجبال الالتوائية الكبرى في أمريكا الشمالية :

5- من أمثلة الجبال الالتوائية في قارة أمريكا الجنوبية :

4- اذكر مبادئ الديمقراطية .

5- بم تفسر : أهمية الدستور الدائم في دولة قطر ؟

6- بم تفسر : تعرف الديمقراطية غير المباشرة بالنيابية

7- بين أهمية الديمقراطية للمجتمع .

8- عدد أنواع الحرية .

9 - اذكر أشكال الديمقراطية .

10 - قارن بين المجلس البلدي ومجلس الشورى من حيث عدد الأعضاء وتاريخ التأسيس .

11- كيف يمكن للتعددية أن تسهم في خدمة المجتمع .

5- عدد أعضاء المجلس البلدي

6- حكم الشعب لنفسه يقصد به

السؤال الثاني

1- قارن بين كل من الديمقراطية المباشرة والديمقراطية غير المباشرة :

| الديمقراطية غير المباشرة | الديمقراطية المباشرة |
|--------------------------|----------------------|
| | |

2- دلل على تطبيق الديمقراطية في دولة قطر .

3- عرف الديمقراطية

الديمقراطية

السؤال الأول : اختر الإجابة الصحيحة لكل مما يلي

1- الإقرار بالاختلاف والتعايش بين الأفراد في إطار احترام التنوع وحرية الآخر يقصد به :

2- من مظاهر التعددية :

3متى تم الاستفتاء على الدستور في دولة قطر؟

4- ساعد على حرية الرأي والتعبير في دولة قطر :

السؤال الخامس : اجب عما يلي

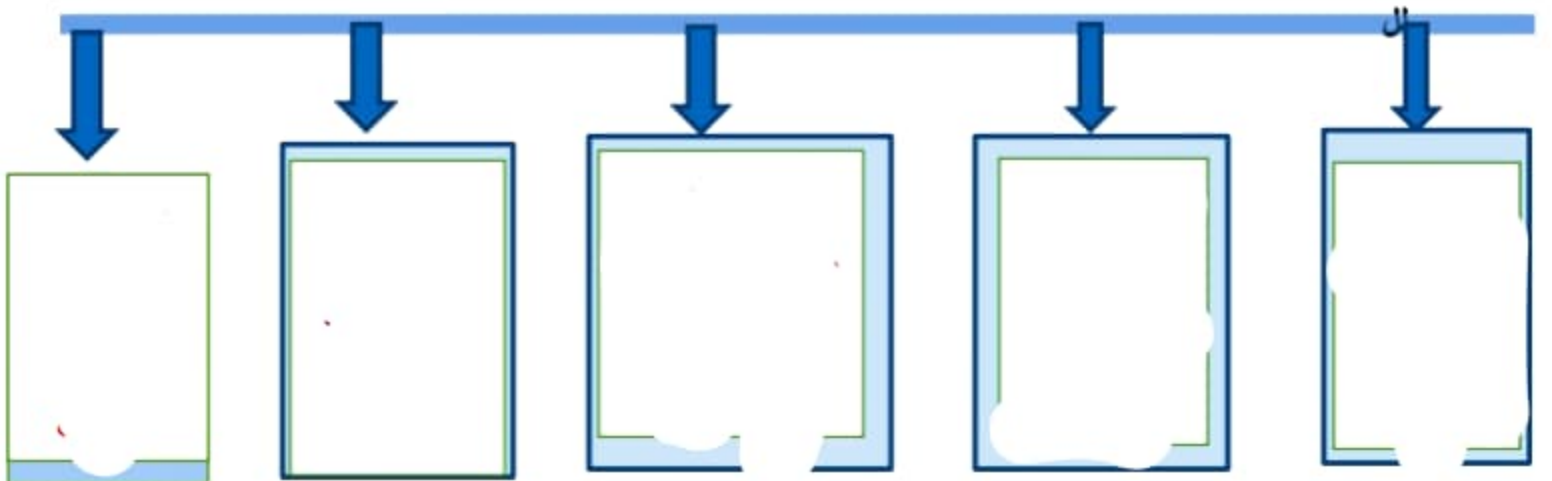
1- عدد عوامل قيام الحضارة اليونانية .

2- قارن بين حضارة اثينا واسبرطة من حيث تاريخ النشأة ونظام الحكم .

3- عدد طبقات المجتمع اليوناني :

4 - عدد مراحل نظام الحكم لدى اليونان .

السؤال السادس : ارسم خطأ زمنياً رتب عليه أهم الأحداث التاريخية في الحضارة اليونانية من الأقدم على الأحدث .



5- اهتمام اليونانيين بصناعة السفن .

السؤال الثالث : اكتب عملاً تاريخياً لكل من الشخصيات التالية :

1- الاسكندر المقدوني :

2- هيروdotس :

3- بطليموس الجغرافي :

السؤال الرابع : أيد بالأدلة التاريخية كلاً مما يلي :

1- تقدم الإغريق في علم الطب .

2- تقدم الإغريق في علم الجغرافية

6- اشتقت الحروف اليونانية من الحروف .

7- يرجع انقسام الإمبراطورية اليونانية إلى :

السؤال الثاني : بم تفسر

1- لعب الموقع الجغرافي لبلاد اليونان دوراً مهماً في قيام حضارتها .

2- لم تسهم أسيرطة بقسط كبير في الحضارة الإغريقية ؟

3- شهرة الإغريق بقدرتهم الفنية خاصة في مجال النحت ؟

4- تسمية الألعاب الأولمبية بهذا الاسم .

الحضارة اليونانية الإغريقية

السؤال الأول: اختر الإجابة الصحيحة مما يأتي:

1- الفنة التي يحق لها ممارسة الحقوق السياسية في الحضارة اليونانية :

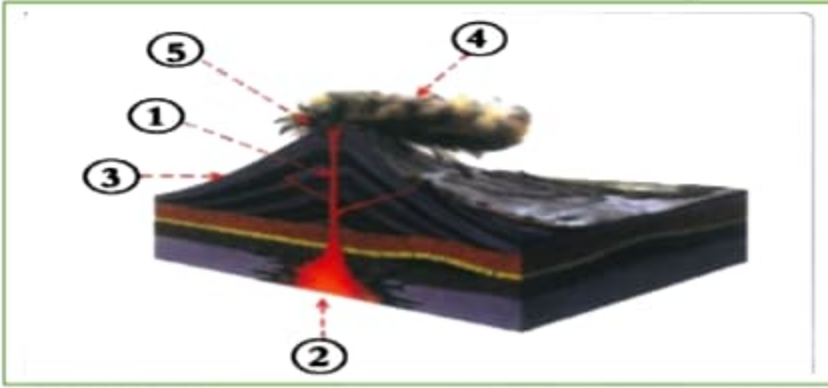
2- المدينة التي تميزت بنظامها العسكري الصارم هي :

3- من أشهر أعلام اليونان في الفلسفة :

4 لقب أبى التاريخ :

5- وضع قسماً فرضه على كل من أراد أن يمتحن الطب ولقب بأب الطب البشرى :

8- وضح ما تشير إليه الأرقام في الشكل المجاور .



9- عذد أنواع الزلازل :

10- بم تفسر تكون جبال الهيمالايا ؟

11- قارن بين الالتواءات والانكسارات من حيث المفهوم ونوع الصخر الأشكال التضاريسية الناتجة .

12- تسهم البراكين في تشكيل سطح الأرض وضح ذلك .

13- وضح طرق التصرف في حالة حدوث البراكين .

السؤال الثاني : أجب عن الأسئلة التالية

□ 1 - عَرّف المفاهيم التالية :

□ 2- عدد الآثار المترتبة على الزلازل .

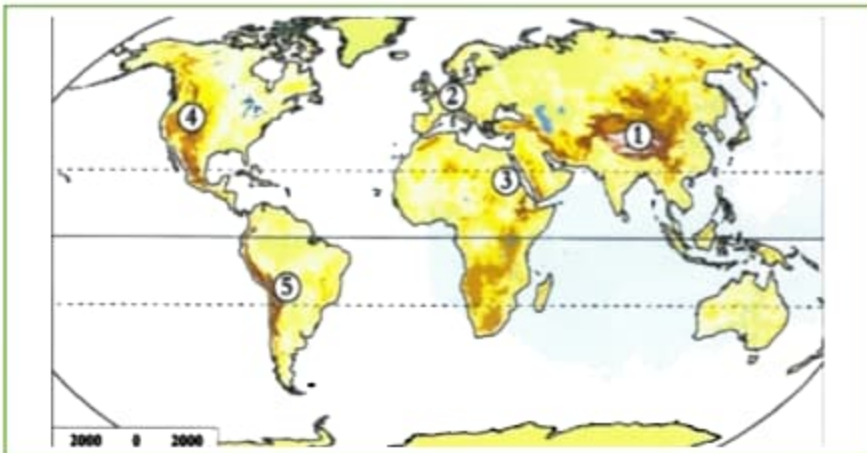
□ 3 - اذكر أنواع الالتواءات .

□ 4- اذكر أنواع الانكسارات

□ 5- عدد أنواع البراكين .

□ 6- وضح نطاقات توزيع الزلازل .

□ 7- ماهي الجبال التي تشير إليها الأرقام على خريطة العالم التالية :



1

2

3

4

5

6- من الجبال البركانية في العالم :

7- البراكين التي لا يعرف إذا كانت ستثور مرة ثانية :

8- من الهضاب البركانية

9- من الحركات الباطنية السريعة