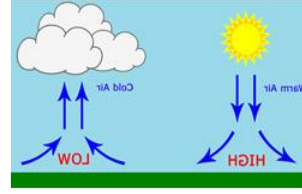


مراجعة اجتماعيات: الوحدة الأولى – الأرض من حولي

س1 : قارن بين الطقس والمناخ

الطقس	المناخ
وصف حالة الجو في منطقة معينة خلال فترة زمنية قصيرة (يوم – يومين – اسبوع)	وصف حالة الجو في منطقة معينة خلال فترة زمنية طويلة (فصل – سنة – عدة سنوات)

س2 : من خلال الصور عدد عناصر المناخ



• أذكر عناصر المناخ:

--	--	--	--

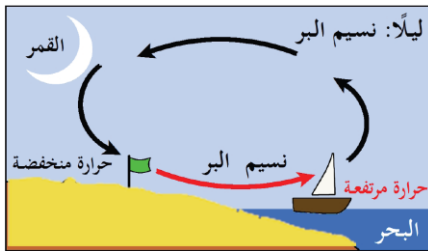
س3 : عدد أنواع الرياح

1.
2.
3.
4.

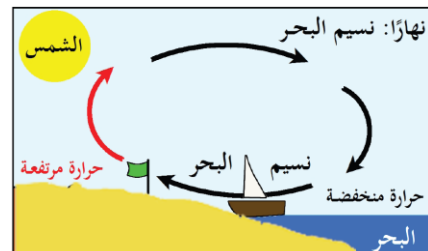
س4 : عدد أنواع الرياح الموسمية

1.
2.

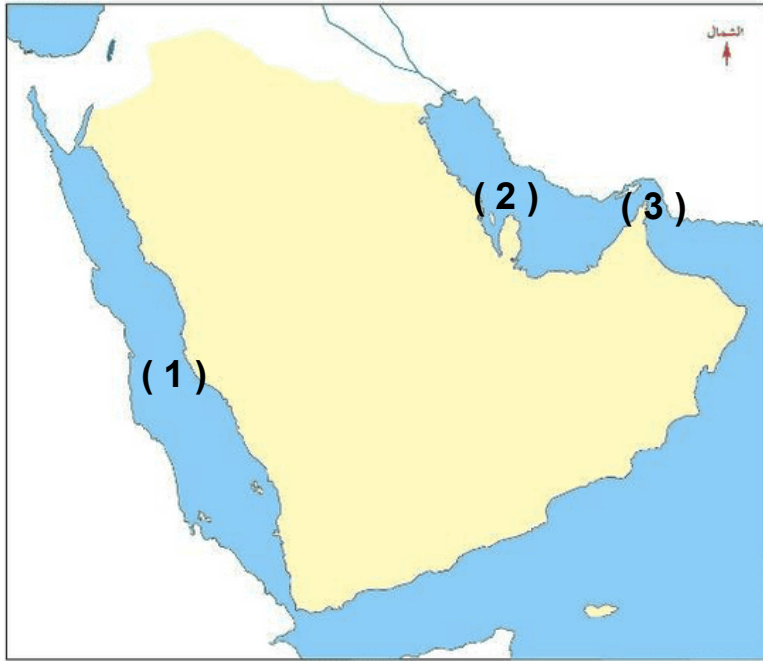
س5 : أكتب ما تشير له الصورتين



نسيم



نسيم



1. البحر
2. الخليج
3. مضيق

س7 : الموقع الفلكي والموقع الجغرافي



هو موقع المكان بالنسبة للمساحات المائية والبحار والمحيطات والدول



هو موقع المكان بالنسبة لخطوط الطول ودوائر العرض

الموقع الفلكي لشبه الجزيرة العربية

تقع شبه الجزيرة العربية بين دائرتي عرض 12° - 32° ، وبين خطي طول 34° - 60° .



الموقع الجغرافي لشبه الجزيرة العربية

تحاط شبه الجزيرة العربية بالمياه من ثلاث جهات.

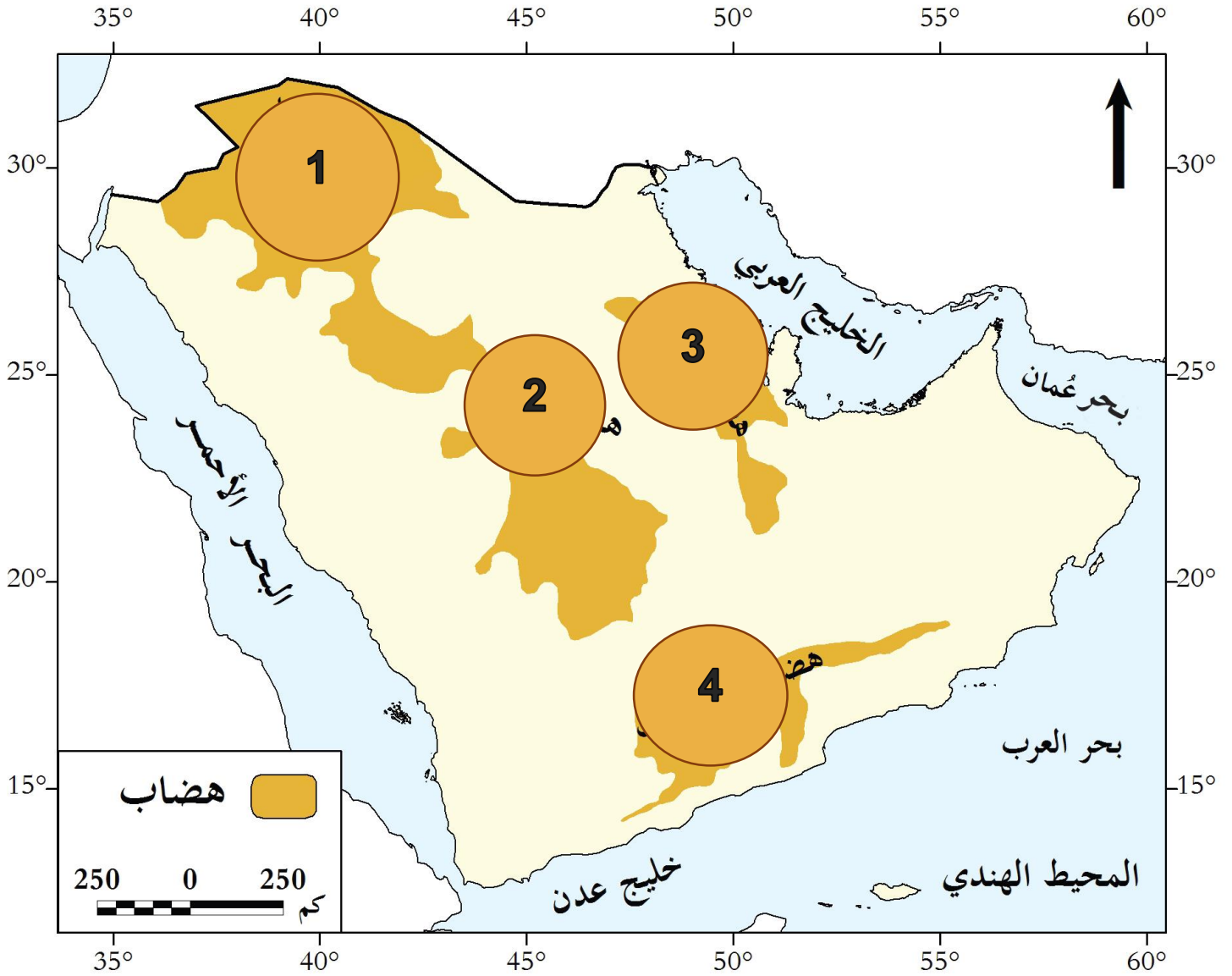


أهمية موقع شبه الجزيرة العربية

- تطل على مسطحات مائية مهمة، مثل الخليج العربي
- تشرف على مضائق بحرية مهمة، مثل مضيق هرمز
- تقع على ملتقى ثلاث قارات، آسيا وأفريقيا وأوروبا

س8 : أهم مظاهر السطح في شبه الجزيرة العربية

الكتبان الرملية	السهول	الهضاب	الجبال
- صحراء الربع الخالي	- سهول تهامة - سهل الباطنة - سهول الخليج العربي	- هضبة الصمان - هضبة نجد - هضبة الحجر والحماة - هضبة حضرموت	- مرتفعات عمان - الجبال الغربية



..... 3

..... 1

..... 4

..... 2

س9 : وضح أهمية موقع شبه الجزيرة العربية

- وجود الأماكن المقدسة (مكة والمدينة)
- المضائق الهامة (مضيق باب المندب، مضيق هرمز)
- المسطحات المائية (البحر الأحمر، الخليج العربي، بحر العرب)

س10 : ما المقصود بالموقع الفلكي؟

س11 : ما المقصود بالموقع الجغرافي؟

س12 : عدد الجبال في شبه الجزيرة العربية؟

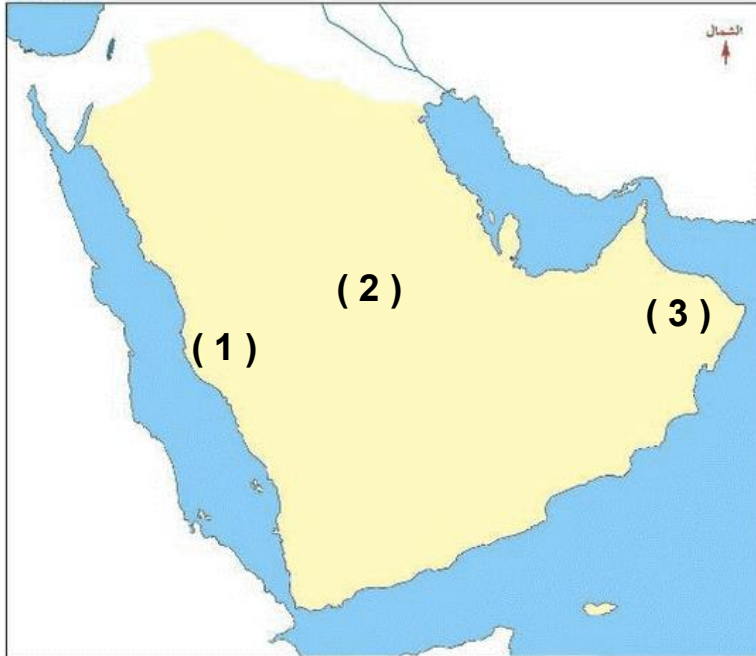
- جبال عسير
- جبال الحجاز
- جبال اليمن
- الجبل الأخضر

س13 : أذكر أهم الهضاب في شبه الجزيرة العربية؟

س14 : من خلال الخريطة التي أمامك حدد المسطحات المائية



س15 : أكتب ما تشير إليه الأرقام على الخريطة



1. سهول تهامة

2. هضبة نجد

3. مرتفعات عمان

س16 : فسر ارتفاع درجة الحرارة في شبه الجزيرة العربية.

لتعامد الشمس على مار السرطان.

س17: قارن بين الأحوال المناخية صيفا وشتاءا في شبه الجزيرة العربية

عناصر المناخ	الأحوال المناخية في فصل الصيف	الأحوال المناخية في فصل الشتاء
الحرارة	ترتفع الحرارة على معظمها، بينما تعتدل على الجبال	تنخفض الحرارة على معظمها، وتنخفض أكثر على الجبال
الأمطار	تسقط بغزارة على جبال عمان واليمن وعسير	تسقط على معظم شبه الجزيرة العربية

س18 : أذكر موارد المياه العذبة

- الأمطار
- المياه الجوفية (الآبار، العيون)
- المياه المحلاة

س19 : عدد العوامل المؤثرة في المناخ

- الموقع بالنسبة لدوائر العرض
- توزيع اليباس والماء
- مظاهر التضاريس

س20 : عدد النباتات الطبيعية في شبه الجزيرة العربية

- الحشائش المعتدلة (الإسبتس)
- الحشائش الحارة (السافانا)
- النباتات الصحراوية
- الغابات المدارية

س21 : عدد موارد المياه في شبه الجزيرة العربية

الحدة الثانية: الحضارات القديمة في شبه الجزيرة العربية

س1 : ما المقصود بالحضارة؟

هي كل ما أنجزه الانسان في جميع مجالات الحياة، ماديا أو معنويا، نتيجة تفاعله مع البيئة.

عرف الحضارة:

.....

.....

س2 : ما هي العوامل المؤثرة في الحضارة؟

- عوامل طبيعية (الموقع الجغرافي - المناخ - موارد المياه - الموارد الطبيعية)
- عوامل بشرية

أذكر العوامل الطبيعية لقيام الحضارة

.1

.2

.3

.4

س3 : ما النتائج المترتبة على:

1. سيادة المناخ الصحراوي في شبه الجزيرة العربية.

انتشار حرفة الرعي

2. كثرة تعاريج سواحل شبه الجزيرة العربية.

قيام الموانئ الطبيعية

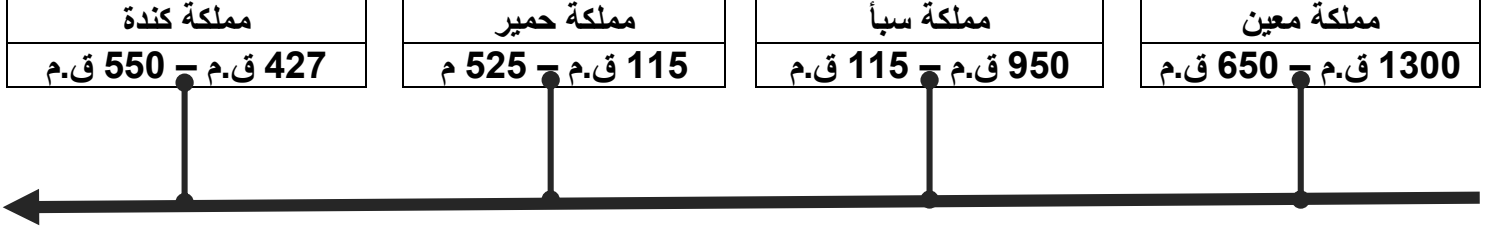
3. اعتدال المناخ فوق جبال اليمن.

- ساعد على الاستقرار البشري

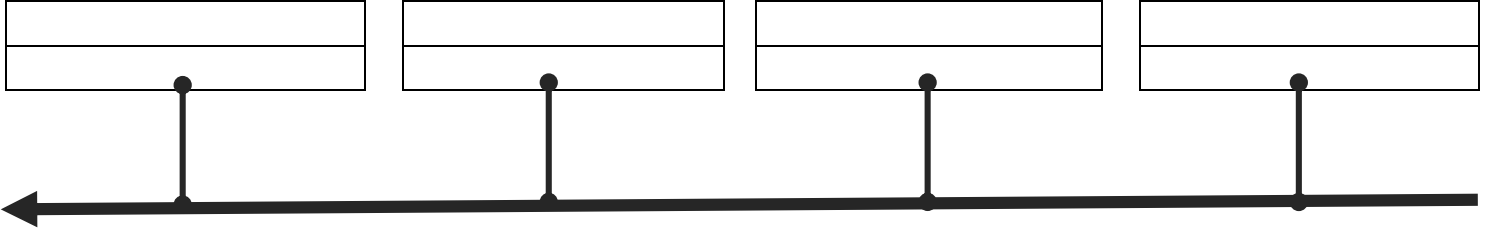
- زراعة المدرجات الجبلية

4. خلو شبه الجزيرة العربية من الأنهار الجارية

اعتماد السكان على المياه الجوفية والأمطار



س1 : رتب على الخط الزمني



س2 : قارن بين حضارتي سبأ و كندة

حضارة سبأ

الموقع: جنوب غرب اليمن.

العاصمة: مأرب.

الديانة: الوثنية.

أشهر ملوكها: الملكة بلقيس.

نهاية المملكة: سقطت عام 115 ق .م على يد دولة جُمَيْر؛ بسبب

- انهيار سد مأرب بعد سيل شديد يُسمَّى سيل العرم.
- سيطرة دولة الأنباط شمالاً على حركة التجارة البرية.

حضارة كندة

الموقع: غرب هضبة نجد، وامتدَّ نفوذها إلى الشَّمال.

العاصمة: كاهل (قرية الفاو) في السعودية حالياً.

الديانة: الوثنية.

أشهر ملوكها: الحارث بن عمرو الكندي.

نهاية المملكة: أسباب سقوط مملكة كندة:

- صراعها مع المناذرة وهزيمتها.
- ضَعْف كندة بعد ملكها الحارث بن عمرو.
- انقسام كندة إلى ممالك صغيرة انتهت بزوالها

مملكة كندة	مملكة سبأ	
		الموقع
		العاصمة
		الديانة
		أشهر ملوكها
		نهاية المملكة

مظاهر الحضارة في شبه الجزيرة العربية

مظاهر الحضارة:

- الحياة السياسية
- الحياة الاقتصادية
- الحياة الاجتماعية
- الحياة الثقافية والفنية

س3 : عدد العوامل الطبيعية لقيام الحضارة في شبه الجزيرة العربية

1. الموقع الجغرافي
2. المناخ
3. موارد المياه
4. الموارد الطبيعية

س4 : عدد الممالك في شبه الجزيرة العربية

1. معين
2. سبأ
3. حمير
4. كندة

س5 : عدد الصناعات القديمة في شبه الجزيرة العربية

1. الحلي
2. الأسلحة
3. الحرير

س6 : عدد طبقات المجتمع في شبه الجزيرة العربية

1. الطبقة العليا (الحكام وكبار الموظفين والتجار)
2. الطبقة الوسطى (صغار التجار والمزارعين)
3. الطبقة الدنيا (العمال)

مقومات المجتمع القطري

- مقومات طبيعية (الأرض، البيئة البحرية، البيئة الطبيعية)
- مقومات بشرية (السكان، الاقتصاد)
- مقومات ثقافية (الدين الإسلامي، اللغة العربية، القيم، العادات والتقاليد)

س1 : ما هي أهم المقومات البشرية للمجتمع القطري

1. السكان
2. الاقتصاد

س2 : العادات والتقاليد في المجتمع القطري

عرف الدزة

ما يقدمه الزوج للزوجة من حلى ومجوهرات وملابس قبل الزواج

(أسئلة الكتاب صفحة 76)