

Al-Andalus Private School for Girls

Primary – Preparatory -Secondary  
Under the supervision of the M.O.E  
Our vision: Inspiring modern learning with  
a national identity and Islamic values



مدرسة الأندلس الخاصة للبنات

ابتدائي – اعدادي – ثانوي  
تحت إشراف وزارة التعليم والتعليم العالي

رؤيتنا: تعلم عصري ملهم بهوية وطنية وقيم إسلامية

العام الأكاديمي ٢٠٢١-٢٠٢٢ م



أسئلة إثرائية لمادة: [العلوم]

الصّف: [الثالث الابتدائي]

منتصف الفصل الدراسي الأول للعام (٢٠٢١-٢٠٢٢) م

مُلاحظة مُهمّة:

هذه الأسئلة لا تُغني عن الكتاب المدرسيّ





السؤال الأول:

عددي أنواع الاسنان لدى الانسان؟

١-.....

٢-.....

السؤال الثاني:

ما وظيفة كل سن من الاسنان الاتية:

القاطع .....

الانياب.....

السؤال الثالث:

اذكري اثنان من الحيوانات التي تتغذى على الأعشاب .

١-.....

٢-.....

Al-Andalus Private School for Girls

Primary – Preparatory -Secondary  
Under the supervision of the M.O.E  
Our vision: Inspiring modern learning with  
a national identity and Islamic values



مدرسة الأندلس الخاصة للبنات

ابتدائي – اعدادي – ثانوي

تحت إشراف وزارة التعليم والتعليم العالي

رؤيتنا: تعلم عصري ملهم بهوية وطنية وقيم إسلامية

العام الأكاديمي ٢٠٢١-٢٠٢٢

السؤال الرابع : صنفى الحيوانات الموضحة بالصورة الى :



حيوانات لها اسنان :

حيوانات ليس لها اسنان :

Al-Andalus Private School for Girls

Primary – Preparatory -Secondary  
Under the supervision of the M.O.E  
Our vision: Inspiring modern learning with  
a national identity and Islamic values



العام الأكاديمي ٢٠٢١-٢٠٢٢

مدرسة الأندلس الخاصة للبنات

ابتدائي – اعدادي – ثانوي

تحت إشراف وزارة التعليم والتعليم العالي

رؤيتنا: تعلم عصري ملهم بهوية وطنية وقيم إسلامية

السؤال الخامس:

على ماذا يتغذى الحيوان الموضح بالصورة الآتية



السؤال السادس:

أي من اسنان الأسد الذي يعتبر أكثر حدة الأطول و الذي يساعد في تمزيق الطعام؟؟؟

السؤال السابع:

أي من الحيوانات التالية تاكل لحوم و أي منهم تاكل نباتات ؟



Al-Andalus Private School for Girls

Primary – Preparatory -Secondary  
Under the supervision of the M.O.E  
Our vision: Inspiring modern learning with  
a national identity and Islamic values



مدرسة الأندلس الخاصة للبنات

ابتدائي – اعدادي – ثانوي

تحت إشراف وزارة التعليم والتعليم العالي

رؤيتنا: تعلم عصري ملهم بهوية وطنية وقيم إسلامية

العام الأكاديمي ٢٠٢١-٢٠٢٢

السؤال الثامن :

ضع دائرة على جمجمة الحيوان الذي يأكل لحوم؟؟



السؤال التاسع :

أي من الأعضاء الآتية يعتبر جزء من الجهاز الهضمي ؟

a. المعدة

b. الرئتان

c. الأمعاء

d. الكليتان

السؤال العاشر :

صل كل صورة مع اسم العضو المناسب

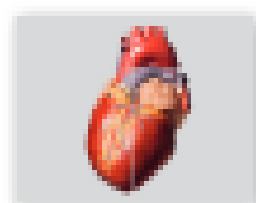
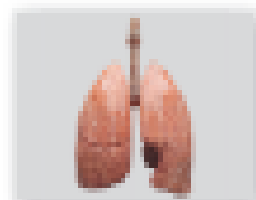

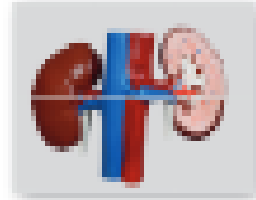
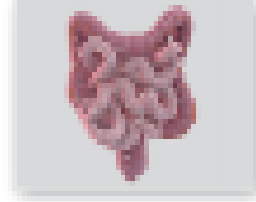
كَلْبَتَانِ

رِئَتَانِ

أَمْعَاءُ

قَلْبٌ

كَبِدٌ



السؤال الحادي عشر :

صل بين كل عضو العظام المناسبة التي تحميها.



مديرة المدرسة

يسر محمد سعيد

النائبة الأكاديمية

شيماء محمد أحمد

المنسقة

شهناز المنزلجي

المعلمة

ياسمين فاير