



1

علوم

منتصف ف 1

22-21

تدريبات دعم وإثراء



1443 هـ & 22-21 م

خطط رفع كفاءة الطلاب

الصف/1-

الاسم/

السؤال الأول :

اختر الإجابة الصحيحة بوضع علامة (X) داخل المربع:-

1 ما الحاجة التي تظهرها الصورة من حاجات الإنسان ليعيش؟



A يتنفس

B يتغذى

C يتحرك

2 الصورة التي أمامك توضح خاصية من خصائص الكائنات الحية ما هي؟




A الحركة

B النمو

C التكاثر

3 أي من الآتي من الأشياء غير الحية ؟



A



B



C

4

ما المرحلة التي توضحها الصورة التالية من دورة حياة النبات؟



A بادرة

B شتلة

C نبات بالغ

5

أي من الكائنات الحية يخرج من البيضة؟

A قطة

B سمكة

C بقرة

6

ما اسم المرحلة التالية من دورة حياة الفراشة؟



A اليرقة

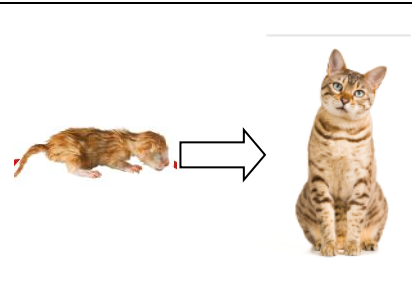
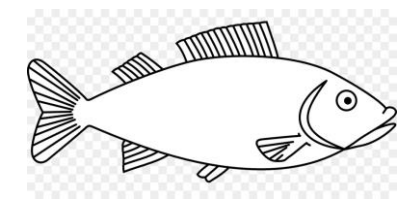

B الشرنقة

C فراشة بالغة

صل ما في العمود (1) بما يناسبه من العمود (2).

العمود (2)

العمود (1)



1- ما الصورة التي توضح أن الكائن ينمو.

2- ما الصورة التي توضح كائن حي يتحرك عن طريق الطيران.

3- الصورة التي توضح طفل رضيع في دورة حياة الإنسان.

4- الصورة التي توضح سمكة بالغة .

السؤال الثالث :

ضع علامة (\checkmark) أمام العبارة الصحيحة وعلامة (\times) أمام العبارة الخطأ.

- 1- يحتاج حيوان الجمل الهواء ليعيش. ()
- 2- العصفور ينمو داخل البيضة قبل أن يولد. ()
- 3- السيارة من الكائنات الحية . ()
- 4- في دورة حياة الإنسان ينمو المراهق إلى شاب. ()
- 5- تختلف دورة حياة الفراشة عن دورة حياة الطائر في مرحلة الشرنقة. ()

أجب عن السؤال التالي:

أ. جميع الكائنات الحية لها دورة حياة اكتب اسم كائن حي ينمو داخل جسم أمه قبل أن يولد.

ب- جميع الكائنات الحية لها دورة حياة اكتب اسم كائن حي يبدأ دورة حياته من البيضة.

نموذج (2)

السؤال الأول : اختر الإجابة الصحيحة بوضع علامة (X) داخل المربع :-

1 ما الحاجة التي تظهر في الصورة من حاجات الكائن الحي؟




A يتنفس

B يتغذى

C يتحرك

2 الصورة التي أمامك توضح خاصية من خصائص الكائنات الحية ما هي؟




A النمو

B التكاثر

C التنفس


3 أي من الآتي من الأشياء غير الحية؟



A



B



C

4

ما المرحلة التي توضحها الصورة التالية من دورة حياة الإنسان؟



A طفل

B مراهق

C شاب

5

أي من الكائنات الحية ينمو الجنين داخل أجسام أمهاتها قبل أن تولد؟

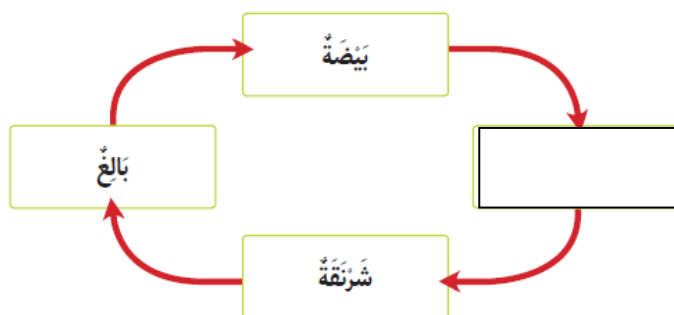
A الصقر.

B الفيل .

C البطة .

6

ما المرحلة الناقصة من دورة حياة الفراشة؟



A البالغ




B اليرقة

C البيضة

صل ما في العمود (1) بما يناسبه من العمود (2).

العمود (2)

العمود (1)



1- ما الصورة التي توضح أن الكائن الحي يتكاثر.

2- ما الصورة التي توضح شتلة .

3- الكائن الحي الذي تنمو صغاره داخل البيضة

4- الصورة التي توضح كائن حي يتنفس عن طريق الخرطوم.

السؤال الثالث :

ضع علامة (√) أمام العبارة الصحيحة و علامة (x) أمام العبارة الخطأ.

- 1- الكائنات الحية تحتاج إلى أن تتغذى لتبقى حية . ()
- 2- ينمو صغير الجمل داخل جسم أمه قبل أن يولد. ()
- 3- الطائرة من الكائنات الحية. ()
- 4- في دورة حياة الإنسان ينمو الطفل إلى شاب. ()
- 5- تبدأ دورة حياة كل من الطائر والضب من البيضة. ()

أجب عن السؤال التالي:

أ. جميع الكائنات الحية لها دورة حياة اكتب اسم كائن حي ينمو داخل جسم أمه قبل أن يولد.

ب- جميع الكائنات الحية لها دورة حياة اكتب اسم كائن حي يبدأ دورة حياته من البيضة.
