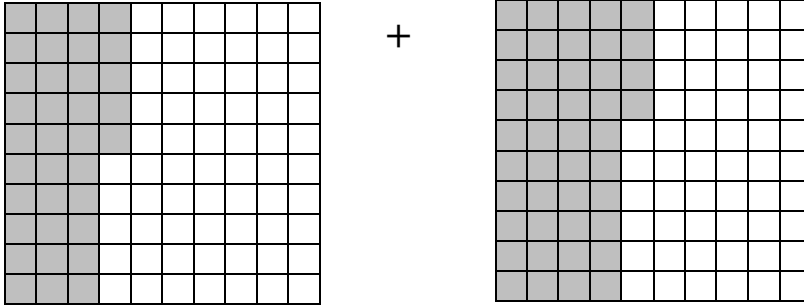


5/.....	الصف	نهاية الفصل الأول 2021/2022 تدريبات رفع الكفاءة (2)	الرياضيات	المادة
2021/ /	التاريخ			الاسم

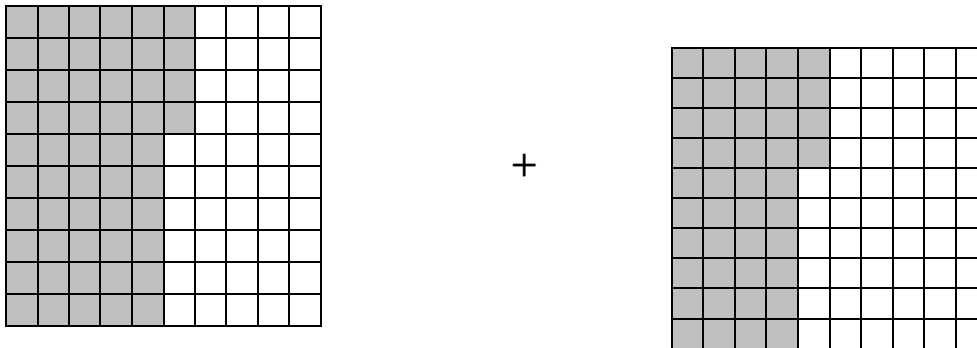
مثال 1

ما ناتج الجمع الممثل في النموذج؟



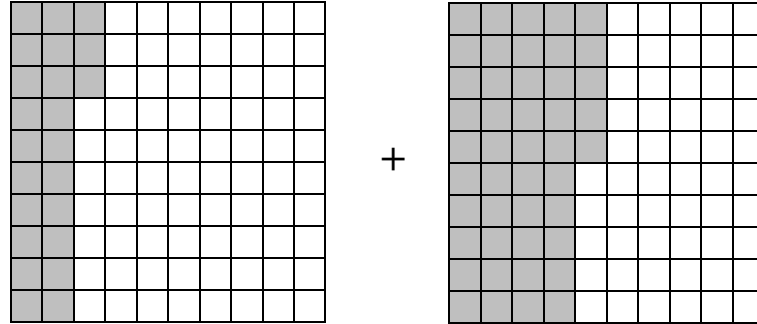
تدريب 1

ما ناتج الجمع الممثل في النموذج أدناه؟



تقويم 1

ما ناتج الجمع الممثل في النموذج؟



- A 0.32
- B 0.68
- C 0.86
- D 0.88

مثال 2

جد ناتج طرح الكسور العشرية التالية:

- A $0.16 - 0.10$
- B $0.16 - 0.09$
- C $0.12 - 0.06$
- D $0.08 - 0.04$

تدريب 2

ما هو المقدار المساوي للكسر العشري 0.05 ؟

- A $0.18 - 0.10$
- B $0.15 - 0.09$
- C $0.12 - 0.06$
- D $0.10 - 0.05$

تقويم 2

ما هو المقدار المساوي للكسر العشري 0.09 ؟

- A 0.12 – 0.06
 B 0.10 – 0.05
 C 0.16 – 0.08
 D 0.18 – 0.09

مثال (3)

إذا كان سعر المروحة كهربائية التي يرغب ماجد بشرائها $QR\ 383.9$ ، وسعر المُكَيِّف $QR\ 463.5$.

A. استخدم النموذج أدناه لتقدير سعر المروحة الكهربائية وسعر المُكَيِّف معاً.

$$\begin{array}{r}
 383.9 \quad \longrightarrow \quad \boxed{} \\
 + \quad 463.5 \quad \longrightarrow \quad + \quad \boxed{} \\
 \hline
 \boxed{}
 \end{array}$$

B. إذا كان مع ماجد $QR\ 1000$ ، هل يكفيه هذا الرقم لشراء المروحة والمُكَيِّف معاً؟
 الإجابة: _____

تدريب (3)

إذا كان سعر الثلاجة التي يرغب خالد بشرائها $QR\ 672.8$ ، وسعر الغسالة $QR\ 234.9$.

A. استخدم النموذج أدناه لتقدير سعر الثلاجة والغسالة معاً.

$$\begin{array}{r}
 672.8 \\
 + \quad 234.9 \\
 \hline
 \end{array}
 \begin{array}{l}
 \longrightarrow \\
 \longrightarrow
 \end{array}
 \begin{array}{l}
 \boxed{} \\
 \boxed{} \\
 \hline
 \boxed{}
 \end{array}$$

B. إذا كان مع خالد $QR\ 1000$ ، هل يكفي هذا الرقم لشراء الثلاجة والغسالة معاً؟
الإجابة: _____

تقويم (3)

إذا كان سعر الطابعة التي يرغب علي بشرائها $QR\ 393.6$ ، وسعر شاشة تلفاز صغيرة $QR\ 488.5$.

A. استخدم النموذج أدناه لتقدير سعر الطابعة وشاشة التلفاز معاً.

$$\begin{array}{r}
 393.6 \\
 + \quad 488.5 \\
 \hline
 \end{array}
 \begin{array}{l}
 \longrightarrow \\
 \longrightarrow
 \end{array}
 \begin{array}{l}
 \boxed{} \\
 \boxed{} \\
 \hline
 \boxed{}
 \end{array}$$

B. إذا كان مع علي $QR\ 1000$ ، هل يكفي هذا الرقم لشراء الطابعة وشاشة التلفاز معاً؟
الإجابة: _____

مثال 4

جد ناتج جمع الكسريين العشريين

$$4.4 + 3.1$$

تدريب 4

جمع حسن $1.2 + 7.4$ وحصل على الناتج 86

A. هل إجابة حسن صحيحة؟

الإجابة: _____

B. فسر اجابتك؟

الإجابة: _____

تقويم 4

جمع نايف $2.1 + 4.6$ وحصل على الناتج 67

A. هل إجابة نايف صحيحة؟

الإجابة: _____

B. فسر اجابتك؟

الإجابة: _____