

الجغرافيا

السؤال الأول : اختر الإجابة الصحيحة مما يلي

1- من الحركات الداخلية (الباطنية) البطيئة :

- الزلازل
- البراكين
- الانكسارات**
- التجوية

2- تعمل الحركات الداخلية الباطنية البطيئة :

- تسوية سطح الأرض
- تشكيل التضاريس الكبرى**
- تشكيل السهول بأنواعها
- تكوين التربة الخصبة

3- من جبال الوطن العربى الانكسارية :

- أطلس
- عمان
- زاغروس
- عسير**

4- من أمثلة الجبال الالتوائية الكبرى فى أمريكا الشمالية :

- الأنديز
- روكى**
- الهمالايا
- الألب

5- من أمثلة الجبال الالتوائية فى قارة أمريكا الجنوبية :

- الأنديز**
- روكي
- الهمالايا
- الألب

6- من الجبال البركانية فى العالم :

- الأنديز
- روكي
- كلمنجارو
- الألب

7 - البراكين التى لا يعرف إذا كانت ستثور مرة ثانية :

- الخامدة
- النشطة
- المتقطعة
- الميتة

8- من الهضاب البركانية

- التبت
- المكسيك
- الشطوط
- اليمن

9- من الحركات الباطنية السريعة

- الزلازل
- الالتواءات
- الانكسارات
- التجوية

السؤال الثاني : أجب عن الأسئلة التالية

1 - عرّف المفاهيم التالية :

- 1- الانكسار : عبارة عن كسر أو شق يحدث في الصخور الصلبة .
- 2- الزلازل : عبارة عن هزات أرضية سريعة تصيب أجزاء من القشرة الأرضية .

2- عدد الآثار المترتبة على الزلازل .

- شقوق في القشرة الأرضية .
- حدوث أمواج تسونامي .
- انهيارات جليدية .

3 - اذكر أنواع الالتواءات .

التواء مقعر

التواء محدب

4- اذكر أنواع الانكسارات

انكسار عادي – انكسار سلمى – انكسار معكوس

5- عدد أنواع البراكين .

نشطة – ميتة

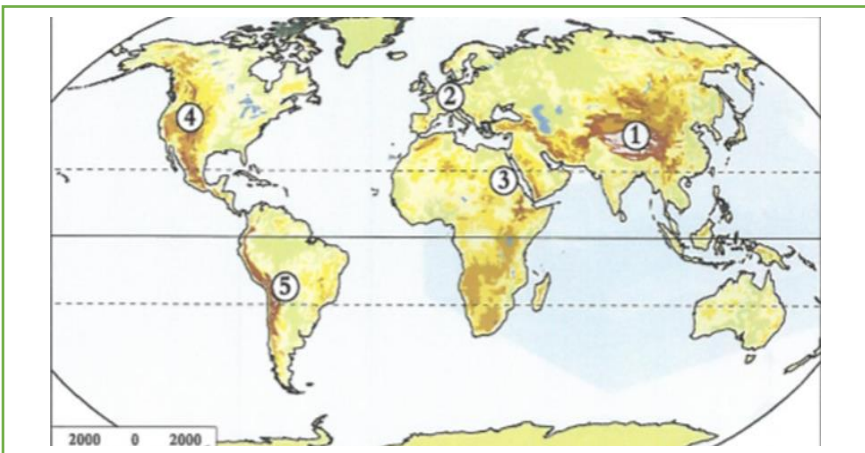
خامدة

6- وضح نطاقات توزيع الزلازل .

الحلقة النارية حول سواحل المحيط الهادي .

نطاق البحر المتوسط الآسيوي

7- ماهي الجبال التي تشير إليها الأرقام على خريطة العالم التالية :



1- الهيمالايا

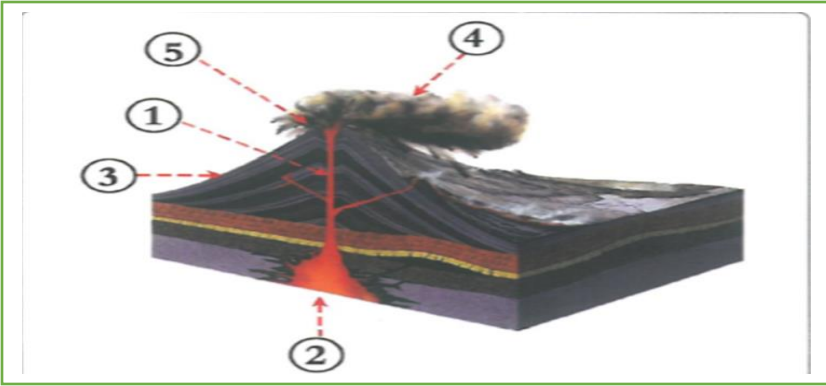
2- الألب

3- البحر الأحمر

4- الروكي

5- الأنديز

8- وضح ما تشير إليه الأرقام في لشكل المجاور .



1- قسبة البركان

2- حجرة الصهير

3-المخروط البركاني

4- الغازات والأبخرة

5فوهة البركان

9- عدد أنواع الزلازل :

بركانية

تكتونية

10- بم تفسر تكون جبال الهيمالايا ؟

بسبب الحركات الالتوائية

11- قارن بين الالتواءات والانكسارات من حيث المفهوم ونوع الصخر الأشكال التضاريسية الناتجة .

الانكسارات - المفهوم : هي كسر في الصخور الصلبة للقشرة الأرضية - نوع الصخر : صلب

الأشكال التضاريسية : جبال البحر الأحمر

الالتواءات- المفهوم : هي ثني أو طي للطبقات الصخرية اللينة - نوع الصخر : لين

الأشكال التضاريسية : جبال الهيمالايا

12- تسهم البراكين في تشكيل سطح الأرض وضح ذلك .

تكوين الجبال البركانية مثل جبل فيجي .

تكوين الهضاب البركانية مثل هضبة الحبشة .

13- وضح طرق التصرف في حالة حدوث البراكين .

الالتزام بالهدوء

مغادرة المبنى مباشرة بدون أغراض .

الحضارة اليونانية الإغريقية

السؤال الأول: اختر الإجابة الصحيحة مما يأتي:

1- الفئة التي يحق لها ممارسة الحقوق السياسية في الحضارة اليونانية :

المواطنون

الأجانب

القضاة

العبيد

2- المدينة التي تميزت بنظامها العسكري الصارم هي :

طيبة

مقدونيا

أسبرطة

أثينا

3- من أشهر أعلام اليونان في الفلسفة :

أبقراط

سقراط

هيرودوتس

بطليموس

4 لقب بأبي التاريخ :

هيزيودوس

هوميروس

هيرودوتس

أرسطو

5- وضع قسماً فرضه على كل من أراد أن يمتحن الطب ولقب بأب الطب البشري :

فيثاغورس

أبقراط

طاليس

أفلاطون

6- اشتقت الحروف اليونانية من الحروف .

اللاتينية

الصينية

الفينيقية

الهندية

7- يرجع انقسام الإمبراطورية اليونانية إلى :

قيام دولة المدينة

وفاة الإسكندر الأكبر

احتلال الرومان ليونان

تولي فيليب المقدوني الحكم

السؤال الثاني : بم تفسر

1- لعب الموقع الجغرافي لبلاد اليونان دوراً مهماً في قيام حضارتها .

ساعد الموقع على اقتباس العديد من منجزات الحضارات القديمة

2- لم تسهم أسبرطة بقسط كبير في الحضارة الإغريقية ؟

لأن نظامها كان عسكري صارم .

3- شهرة الإغريق بقدرتهم الفنية خاصة في مجال النحت ؟

تميز بالحركة والدقة وتفصيل الأشياء .

4- تسمية الألعاب الأولمبية بهذا الاسم .

لأن أقيمت على مدينة أولمبيا اليونانية

5- اهتمام اليونانيين بصناعة السفن .

لطبيعة بلادهم الساحلية .

السؤال الثالث : اكتب عملاً تاريخياً لكل من الشخصيات التالية :

1- الإسكندر المقدوني :

أسس إمبراطورية واسعة .

2- هيرودوتس :

أول من كتب في التاريخ

3- بطليموس الجغرافي :

من أفكاره أن الأرض كروية وثابتة .

السؤال الرابع : أيد بالأدلة التاريخية كلاً مما يلي :

1- تقدّم الإغريق في علم الطب .

أبقراط لقب بابو الطب البشري .

وضع قسماً لمن أراد ممارسة مهنة الطب

2- تقدّم الإغريق في علم الجغرافية

بطليموس يلقب أحياناً بابو الجغرافيا .

من أفكاره أن الأرض كروية وثابتة .

السؤال الخامس : اجب عما يلي

1- عدد عوامل قيام الحضارة اليونانية .

الموقع الجغرافي التضاريس

المناخ المعتدل حرية التفكير

2- قارن بين حضارة أثينا وأسبرطة من حيث تاريخ النشأة ونظام الحكم .

حضارة أسبرطة - تاريخ النشأة : 900 ق.م - نظام الحكم : عسكري صارم

حضارة أثينا - تاريخ النشأة : ما بين القرنين الخامس والرابع ق.م - نظام الحكم : ديمقراطي

3- عدد طبقات المجتمع اليوناني :

المواطنون

الأجانب

العبيد

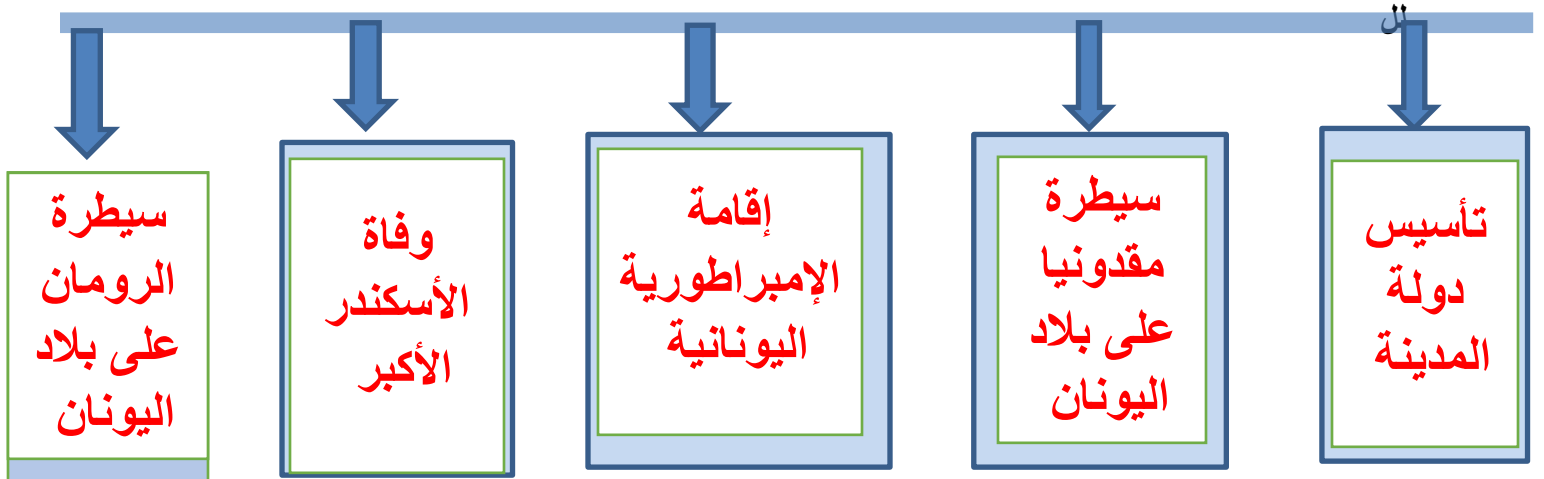
4 - عدد مراحل نظام الحكم لدى اليونان .

النظام الملكي الوراثي - النظام الديمقراطي

نظام الحكم الامبراطوري - النظام الملكي

السؤال السادس : ارسم خطأ زمنياً رتب عليه أهم الأحداث التاريخية في

الحضارة اليونانية من الأقدم على الأحدث .



الديمقراطية

السؤال الأول : اختر الإجابة الصحيحة لكل مما يلي

1- الإقرار بالاختلاف والتعايش بين الأفراد في إطار احترام التنوع وحرية الآخر يقصد به :

التعددية

الديمقراطية

الحرية

القانون

2- من مظاهر التعددية :

الفصل بين السلطات

إصدار الدستور

وجود الأحزاب

سيادة القانون

3- متى تم الاستفتاء على الدستور في دولة قطر؟

2001

2002

2003

2004

4- ساعد على حرية الرأي والتعبير في دولة قطر :

إنشاء مجلس الوزراء

إنشاء الديوان الأميري وجود الأحزاب

إنشاء مجلس الشورى

إلغاء الرقابة على وسائل الإعلام

5- عدد أعضاء المجلس البلدي

22

25

29

39

6- حكم الشعب لنفسه يقصد به

التعددية

الديمقراطية

الحرية

التشاركية

السؤال الثاني

1- قارن بين كل من الديمقراطية المباشرة والديمقراطية غير المباشرة :

الديمقراطية غير المباشرة	الديمقراطية المباشرة
يقوم الشعب بانتخاب نواب ينوبون عنه في اتخاذ القرارات	الشعب مصدر السلطات وله حق ممارستها .

2- دال على تطبيق الديمقراطية في دولة قطر .

1- الاستفتاء على الدستور

2- إصدار الدستور الدائم

3- مجلس الشورى

4- انتخابات المجلس البلدي

3- عرف الديمقراطية

كلمة إغريقية تعني حكم الشعب لنفسه

4- أذكر مبادئ الديمقراطية .

الحرية

التعددية

5- بم تفسر : أهمية الدستور الدائم في دولة قطر ؟

يرسي الدعائم الأساسية للمجتمع

ضمان الحقوق والحريات

6- بم تفسر : تعرف الديمقراطية غير المباشرة بالنيابية

لأن الشعب يقوم بانتخاب نواب ينوبون عنه في اتخاذ القرارات

7- بين أهمية الديمقراطية للمجتمع .

حماية حقوق الإنسان .

تحقيق الرخاء والتنمية .

ترسيخ قيم التعددية

تعبير المواطنين عن آرائهم

8- عدد أنواع الحرية .

حرية سياسية

حرية فردية

9 - اذكر أشكال الديمقراطية .

الديمقراطية المباشرة الديمقراطية الغير مباشرة (النيابية) الديمقراطية شبه المباشرة

10 - قارن بين المجلس البلدي ومجلس الشورى من حيث عدد الأعضاء وتاريخ التأسيس .

المجلس البلدي - عدد الأعضاء : 29 عضو - تاريخ التأسيس : 1999م

مجلس الشورى - عدد الأعضاء 45 عضو - تاريخ التأسيس 1972 م

11- كيف يمكن للتعددية أن تسهم في خدمة المجتمع .

تقديم أفضل الأفكار لخدمة المجتمع وحل قضاياها .