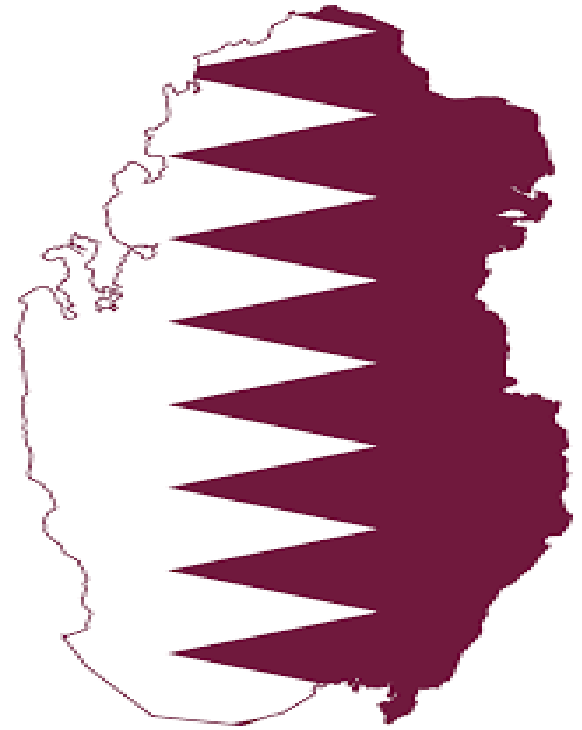


العام الأكاديمي 2021-2022م
قسم الدراسات الاجتماعية
أوراق إثرائية-منتصف الفصل الدراسي الأول

تدريبات رفع الكفاءة للصف الخامس

نسخة محلولة

هذه التدريبات لا تغني عن الكتاب المدرسي



العام الأكاديمي 2021-2022م
قسم الدراسات الاجتماعية
أوراق إثرائية-منتصف الفصل الدراسي الأول

الوحدة الأولى: الأرض من حوالي من صفحة 12 الى صفحة 41

س- ما المقصود بمفهوم الطقس؟

الطقس: وصف حالة الجو في منطقة معينة خلال فترة زمنية قصيرة (يوم – يومين-أسبوع)

س- ما المقصود بمفهوم المناخ؟

المناخ: وصف حالة الجو في منطقة معينة خلال فترة زمنية طويلة (فصل – سنة – عدة سنوات)..

س- ما المقصود بالرياح؟

حركة الهواء اليومية على سطح الأرض.

س- اذكر أنواع الرياح.

- 1- الرياح الدائمة
- 2- الرياح الموسمية
- 3- الرياح المحلية
- 4- الرياح اليومية

اذكر اسم الرياح التي تهب على دولة قطر.

الرياح التي تهب على دولة قطر هي رياح الكوس.

العام الأكاديمي 2021-2022م
قسم الدراسات الاجتماعية
أوراق إثرائية-منتصف الفصل الدراسي الأول

س- وضح الحدود الجغرافية لشبه الجزيرة العربية على الخريطة.



من جهة الشمال: دولتا العراق والأردن
من جهة الجنوب: بحر العرب وخليج عدن
من جهة الشرق: الخليج العربي
من جهة الغرب: البحر الأحمر

س- وضح أهمية موقع شبه الجزيرة العربية.

- 1- تطل شبه الجزيرة العربية على مسطحات مائية مهمة مثل الخليج العربي وبحر العرب والبحر الأحمر وخليج عدن وخليج العقبة
- 2- تشرف شبه الجزيرة العربية على مضائق بحرية مهمة مثل مضيق هرمز ومضيق باب المندب
- 3- تقع شبه الجزيرة العربية على ملتقى قارات العالم القديم
- 4- تحظى شبه الجزيرة العربية بمكانة دينية كبيرة لوجود الأماكن المقدسة

العام الأكاديمي 2021-2022م

قسم الدراسات الاجتماعية

أوراق إثرائية-منتصف الفصل الدراسي الأول

س- رتب دول شبه الجزيرة العربية ترتيباً تنازلياً من الأكبر إلى الأصغر

السعودية

اليمن

عمان

الإمارات

الكويت

قطر

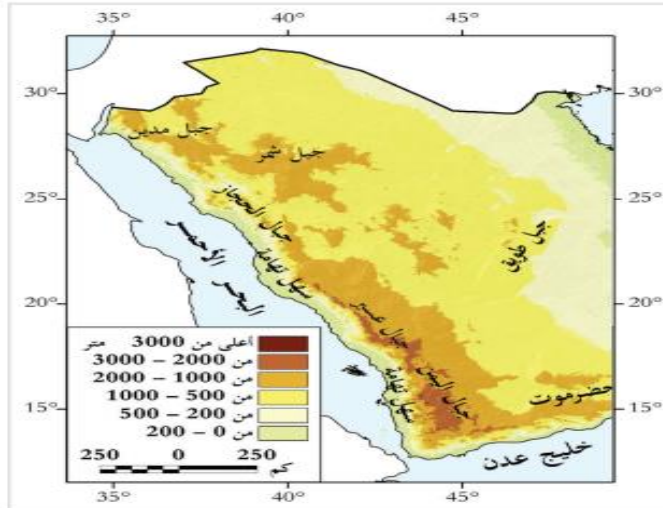
البحرين

س- اذكر أهم الجبال في شبه الجزيرة العربية موضحاً لها على الخريطة مستعيناً بالكتاب

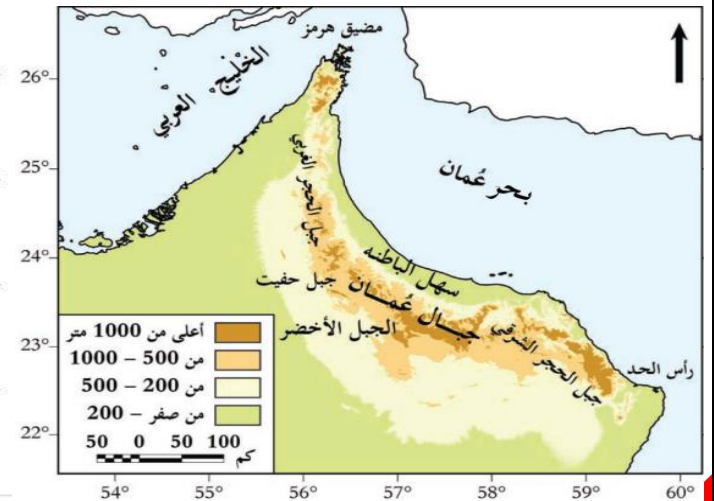
ص30 و31

1- مرتفعات عمان وتضم: الجبل الأخضر- جبل الحجر الشرقي- جبل الحجر الغربي جبل حفيت

2- الجبال الغربية وتضم: جبل عسير- اليمن - الحجاز- شمر- مدين طويق



شكل (9) الجبال الغربية



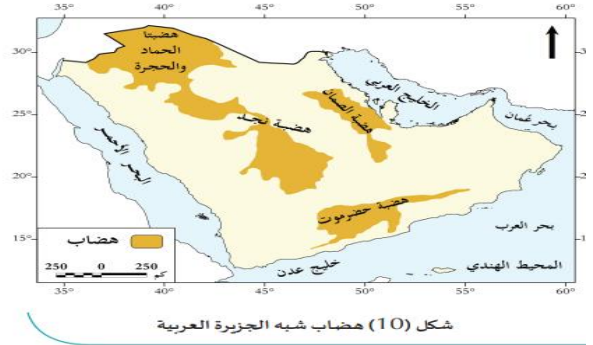
شكل (8) مرتفعات عمان

العام الأكاديمي 2021-2022م
قسم الدراسات الاجتماعية
أوراق إثرائية-منتصف الفصل الدراسي الأول

س- اذكر أهم الهضاب في شبه الجزيرة العربية موضحا لها على الخريطة مستعينا بالكتاب

ص31

هضبة نجد- الصمان- الحماد والحجرة- حضرموت



س- اذكر أهم السهول في شبه الجزيرة العربية.

سهل الباطنة – سهل تهامة

س- وضِّح الأحوال المناخية في شبه الجزيرة العربية في فصل الصيف.

- 1- الحرارة: ترتفع درجات الحرارة في فصل الصيف لتعامد الشمس على مدار السرطان
- 2- الامطار: تسقط بغزارة على جبال عمان واليمن وعسير

س- وضِّح الأحوال المناخية في شبه الجزيرة العربية في فصل الشتاء.

- 1- الحرارة: تنخفض درجات الحرارة في فصل الشتاء لأن الشمس تكون مائلة على مدار السرطان.
- 2- الأمطار: تسقط على معظم شبه الجزيرة العربية .

العام الأكاديمي 2021-2022م
قسم الدراسات الاجتماعية
أوراق إثرائية-منتصف الفصل الدراسي الأول

س: عدد أنواع النبات الطبيعي.

1-الحشائش المعتدلة (الاستبس)

2-الحشائش الحارة (السافانا)

3-النباتات الصحراوية

4-الغابات المدارية

س: عدد موارد المياه العذبة في شبه الجزيرة العربية .

1-الأمطار

2-المياه الجوفية وتنقسم الى الابار والعيون

3-المياه المُحلّاة

س: عدد محطات التحلية في دولة قطر.

1-محطة رأس أبو فنطاس

2-محطة رأس لفان

العام الأكاديمي 2021-2022م
قسم الدراسات الاجتماعية
أوراق إثرائية-منتصف الفصل الدراسي الأول

الوحدة الثانية الحضارات القديمة في شبه الجزيرة العربية من صفحة 46 الى صفحة 65

س- اذكر العوامل الطبيعية التي ساعدت على قيام الحضارة في شبه الجزيرة العربية .

1- الموقع الجغرافي

2- المناخ

3- موارد المياه

4- الموارد الطبيعية

س- ما المقصود بمفهوم الحضارة

كل ما أنجزه الانسان في جميع مجالات الحياة سواء مادياً أو معنوياً نتيجة تفاعله مع البيئة

س- رتب ممالك شبه الجزيرة العربية من الأقدم الى الاحداث.

بعض حضارات وممالك شبه الجزيرة العربية

لاحظ الخط الزمني التالي:



العام الأكاديمي 2021-2022م
قسم الدراسات الاجتماعية
أوراق إثرائية-منتصف الفصل الدراسي الأول

س-قارن بين مملكة سبأ ومملكة كندة .

وجه المقارنة	مملكة سبأ	مملكة كندة
الموقع	جنوب غرب اليمن	غرب هضبة نجد
العاصمة	مأرب	كاهل
الديانة	الوثنية	الوثنية
أشهر ملوكها	بلقيس	الحارث بن عمرو الكندي
نهاية المملكة	سقطت عام 115 ق.م بسبب انهيار سد مأرب سيطرة دولة الانباط شمالاً على حركة التجارة البرية	سقطت عام 525 م بسبب صراعها مع المناذرة ضعف كندة بعد ملكها الحارث بن عمرو انقسام كندة إلى ممالك صغيرة

س- اذكر نظام الحكم في حضارات شبه الجزيرة العربية قديماً

كان نظام الحكم ملكياً وراثياً

العام الأكاديمي 2021-2022م

قسم الدراسات الاجتماعية

أوراق إثرائية-منتصف الفصل الدراسي الأول

س- اذكر أهم المحاصيل الزراعية في حضارات شبه الجزيرة العربية.

النخيل- الخضروات – الفاكهة- القمح- الشعير

س- اذكر أهم الصناعات في حضارات شبه الجزيرة العربية.

الأسلحة

الأواني الفخارية

صناعة الحلي

العملات المعدنية

ديج الجلود

صناعة الحرير والكتان

س- عدد أهم طبقات المجتمع العربي القديم.

1- الطبقة العليا وتضم: الحكام- كبار الموظفين- كبار التجار- أصحاب الأراضي الواسعة

2- الطبقة الوسطى: وتضم صغار التجار- صغار المزارعين- أصحاب الحرف

3- الطبقة الدنيا: وتضم العبيد والفقراء

العام الأكاديمي 2021-2022م
قسم الدراسات الاجتماعية
أوراق إثرائية-منتصف الفصل الدراسي الأول

الوحدة الثالثة المجتمع القطري من صفحة 70 إلى صفحة 77

س- اذكر مقومات المجتمع القطري

مقومات طبيعية وتشمل: الأرض- البيئة البحرية- الحياة الطبيعية
مقومات ثقافية وتشمل: الدين- اللغة- القيم- العادات والتقاليد
مقومات بشرية وتشمل: السكان- الاقتصاد- السياسة

س: وضح عادات المجتمع القطري في الأعراس.

من أهم العادات والتقاليد في الأعراس: الدزة وهي ما يقدمه الزوج من حلي ومجوهرات
وملابس قبل الزواج

س- اذكر أهم أنواع الملابس التقليدية الرجالية والنسائية في قطر.

- 1- ملابس الرجال: البشت- الغترة- الثوب
- 2- ملابس النساء البخنق- ثوب النشل

س- اذكر جهود المجتمع القطري في الحفاظ على العادات والتقاليد

نقل العادات والتقاليد من جيل الآباء إلى جيل الأبناء
المشاركة في أنشطة المؤسسات التي تعني بالحفاظ على العادات والتقاليد
الترويج للعادات والتقاليد الإيجابية