

❖ مدرسة عمر بن عبد العزيز الثانوية للبنين

❖ قسم العلوم الاجتماعية



❖ مراجعة عامة

❖ الصف الحادي عشر جغرافيا



وزارة التعليم والتعليم العالي

الرؤية

”الريادة في توفير فرص تعلم دائمة ومبتكرة
وذات جودة عالية للمجتمع القطري“

قيمتنا اليوم

وزارة التعليم والتعليم العالي
قسم الدراسات الاجتماعية



الأهداف:

عنوان الدرس

تدريبات الدرس الاول

المصطلحات:

التاريخ والوقت

رؤيتنا : الريادة في توفير فرص تعلم دائمة ومبتكرة وذات جودة عالية للمجتمع القطري.

السؤال الأول: اختر الإجابة الصحيحة مما يلي:

ثانيًا: التدريبات

1- تقع معظم قارة آسيا في نصف الكرة الأرضية:

- أ - الجنوبي.
ب - الشرقي.
ج - الغربي.
د - الشمالي. X

2- المحيط الذي يحدّ قارة آسيا من جهة الجنوب:

- أ - القطبي.
ب - الهادي.
ج - الهندي. X
د - الأطلنطي.

3- تفصل جبال الأورال قارة آسيا عن قارة:

- أ - أستراليا.
ب - أمريكا الشمالية.
ج - أوروبا. X
د - إفريقيا.

4- تمتد المرتفعات في القارة الآسيوية في شكل محور عرضي:

- أ - من الشرق للغرب. X
ب - من الجنوب للشمال.
ج - من الغرب للجنوب.
د - من الشرق للشمال.

5- أعلى قمم الجبال ارتفاعًا في العالم:

- أ - هندكوش.
ب - أورال.
ج - إفرست. X
د - سليمان.

6- الإقليم الذي يمتد بين دائرتي عرض 8° : 18° شمال خط الاستواء:

- أ - الاستوائي.
ب - المداري. X
ج - الصحراوي.
د - الصيفي.

7- المضيق الذي يفصل قارة آسيا عن أمريكا الشمالية:

أ - باب المنذب.

ج بيرنج.

ب - هرمز.

د - ملقا.

8- تضم القارة دولاً من أكبر دول العالم مساحة، مثل:

أ - كازخستان.

ج - إيران.

ب الصين.

د - تركيا.

9- من الدول الآسيوية التي ليس لها سواحل على البحار والمحيطات:

أ أفغانستان.

ج - باكستان.

ب - تركمانستان.

د - تايلاند.

10- من المرتفعات المتفرعة من عقدة أرمينيا:

أ - سليمان.

ج طوروس.

ب - هندكوش.

د - الهملايا.

السؤال الثاني: بم تفسّر...؟

1- أكسب الموقع الجغرافي والفلكي قارة آسيا أهمية كبيرة.

تنوع الأقاليم المناخية ، تنوع التكوينات الجيولوجية

2- شهرة سهول الصين.

بسبب خصوبته وشهرته بزراعة القمح

3- اختلاف أهمية السهول الساحلية من مكان لآخر.

بسبب اختلاف اتساعها او تكوينها او خصوبتها

4- لا تجذب الهضبة الإيرانية السكان.

لان المستنقعات تغطي مساحات كبيرة منها

5- تنتشر تربية الأبقار في الإقليم المداري.

بسبب نمو شجيرات مدارية وحشائش السافانا

6- حدوث الفيضانات.

بسبب هطول الامطار الغزيرة بفترة قصيرة

السؤال الثالث: برهن على صحة العبارات التالية:

1- تنوع الأقاليم المناخية في قارة آسيا.

يوجد بها العديد من الأقاليم الحارة والمعتدلة والباردة

2- يوجد أجزاء من قارة آسيا غير مستقرة جيولوجيًا.

لوجود بعض البراكين والزلازل فيها

3- تلعب الجبال دورًا مهمًا في مناخ آسيا.

أدى اتجاه الجبال في آسيا من الشرق الى الغرب الى منع وصول المؤثرات الدفيئة من جنوب القارة الى شمالها

السؤال الرابع: ما النتائج المترتبة على.....؟

1- بناء الجسور الاصطناعية على الأنهار.

الحد من مشكلة الفيضانات

2- المساحة الكبيرة التي تشغلها قارة آسيا.

تنوع الأقاليم المناخية والنباتية والتضاريس

1- عِدِّد أهم الهضاب في قارة آسيا.

هضبة التبت - هضبة الداكن - هضبة الاناضول - هضبة شبه الجزيرة العربية

2- تتشعب المرتفعات من عقدة البامير في وسط آسيا، وضِّح ذلك.

: (جبال سليمان - جبال هندكوش - جبال الهيمالايا)

30

الوحدة الأولى: قارة آسيا

3- تنقسم هضبة شبه الجزيرة العربية إلى عدة أقسام، بينها.

هضبة بادية الشام- هضبة نجد- هضبة حضر موت

4- ما أوجه التشابه والاختلاف بين إقليم البحر المتوسط والصيني من حيث الموقع؟

**أوجه الشبه : الصيف الحار والشتاء الدافئ -
أوجه الاختلاف: الموقع الجغرافي غرب وشرق القارات**

5- ما أهم المبادرات والمساعدات التنموية والإنسانية التي تسعى دولة قطر لتقديمها للدول التي تواجه أزمات اقتصادية وإنسانية وكوارث طبيعية.

- تقديم مساعدات عاجلة للمتضررين.
- تنظيم حملات لجمع التبرعات لإغاثة المنكوبين

السؤال السادس: قارن بين الخصائص الطبيعية لكلّ من:

الإقليم المعتدل البارد القاري

الإقليم الاستوائي

أوجه
المقارنة

تنمو الغابات النفضية
وحشائش الاستبس

الغابات الاستوائية
الكثيفة دائمة الخضرة

النبات
الطبيعي

الحيوانات البرية آكلة
العشب مثل الغزلان
والخيول

فيها الحيوانات المتسلقة
كالقردة والزاحفة كالسحالي

الحيوانات
البرية

السؤال السابع: قارن بين خصائص السهول الفيضية التالية:

سهل الجانج

تكون بفعل الأنهار التي تجري فيه مثل الجانج وتقوم فيه زراعة الأرز والجوت

سهول سيبيريا

تكونت بفعل رواسب طينية من الجليد ومن رواسب انهار أوب وينسي وتغمره المستنقعات

السؤال الثامن: أمامك خريطة لآسيا، اكتب ما تدل عليه الأرقام التالية:

التبت

7- هضبة.

الهيمالايا

4- جبال..

الدكن

1- هضبة.

زاجروس

8- جبال..

هرمز

5- مضيق

الهادي

2- المحيط

قزوين

9- بحر..

سيبيريا

6- سهول.

الهندي

3- المحيط

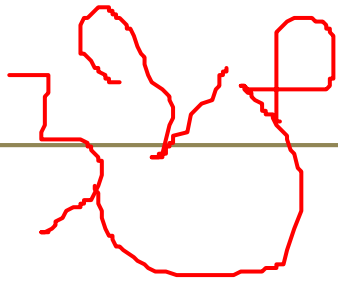
دجلة

10- نهرا.

والفرات

السؤال التاسع: ما العلاقة بين:

1- اتساع القارة الآسيوية والمناخ.



تنوع الأقاليم المناخية بالقارة

3- الخصائص المناخية للإقليم القطبي والحياة النباتية والحيوانية.

نمو حشائش التندرا وهي نباتات فقيرة ووجود الحيوانات ذات
الفراء كالديبة والرنة

4- قطع الغابات والفيضان.

يؤدي قطع الغابات الى سرعة الجريان وبالتالي الى الفيضانات
المدمرة

السؤال العاشر: اكتب ما تدل عليه الأرقام التالية على الخريطة السياسية لقارة آسيا:

اليابان

-3

الهند

-2

الصين

-1

اندونيسيا

-6

افغانستان

-5

دولة قطر

-4

ايران

-8

تركيا

-7



وزارة التعليم والتعليم العالي الرؤية

الريادة في توفير فرص تعلم دائمة ومبتكرة
و ذات جودة عالية للمجتمع القطري

ثانيًا:
التدريبات

السؤال الأول: اختر الإجابة الصحيحة مما يلي:

1- تنتج قارة آسيا نحو 28% من الإنتاج العالمي لمحصول:

أ - القمح.

ج - الأرز.

ب - القطن.

د - الكتان.

2- تنتشر الزراعة الكثيفة في بعض الدول الآسيوية، مثل:

أ - الكويت.

ج - باكستان.

ب - العراق.

د - سنغافورة.

3- من النباتات التي تدخل في صناعة المنسوجات:

أ - القطن.

ج - الجوت.

ب - الكتان.

د - الكسافا.

4- أولى دول العالم في إنتاج الكتان:

أ - إندونيسيا.

ج - الهند.

ب - الصين.

د - تايلاند.

5- الخام الرئيس لإنتاج معدن الألمنيوم:

أ - الحديد.

ج - النحاس.

ب - البوكسيت.

د - الكوبلت.

6- المحصول الذي تحتكر القارة الآسيوية إنتاجه:

أ - الأرز.

ج - القمح.

ب - الذرة.

د - الشعير.

7- من أهم الصناعات الهندسية في قارة آسيا:

أ - الأسمدة.

ج - الحديد والصلب.

ب - الأدوية.

د - السيارات.

السؤال الثاني: بم تفسّر....؟

1- تتفوق قارة آسيا في إنتاج المطاط الطبيعي.

ملأئمة الظروف الطبيعية لزراعته

2- تواجه الزراعة العديد من المشكلات الاقتصادية في قارة آسيا.

ضعف الإمكانيات المادية – قلة المساهمة في التجارة الدولية

3- امتلاك قارة آسيا ثروة حيوانية كبيرة.

اتساع مساحة المراعي – توافر الرعاية البيطرية

4- إنتاج آسيا الكبير من الأسماك.

التقاء التيارات البحرية – إنشاء المزارع السمكية

5- تُعدُّ قارة آسيا أكبر أسواق العالم لتصريف السلع.

ارتفاع الكثافة السكانية بها

6- انخفاض القيمة الاقتصادية لأبقار الهند.

تربيتها لأسباب دينية

7- الأهمية الاقتصادية لمعدن الحديد.

رخص ثمنه – سهولة استخراجِه - سهولة التحكم في صلابته

السؤال الثالث: برهن جغرافياً على:

1- تنوع الأنشطة الاقتصادية في قارة آسيا.

تنوع الموارد الطبيعية والبشرية – تنوع الصادرات الأسيوية

2- تنوع وسائل النقل والمواصلات في قارة آسيا.

كثرة شبكات الطرق والسكك الحديدية والموانئ البحرية والجوية

3- السياحة من الأنشطة الاقتصادية المهمة في قارة آسيا.

استقبال القارة أعداد كبيرة من السياح – تمثل السياحة مصدر دخل لكثير من دول القارة

السؤال الرابع: ما العلاقة بين...؟

1- الصناعة الحديثة ومصادر الطاقة.

يؤدي توافر مصادر الطاقة و تنوعها إلى ازدهار الصناعة الحديثة

2- الإنتاج السمكي في قارة آسيا والتيارات البحرية.

يؤدي التقاء التيارات البحرية إلى زيادة الإنتاج السمكي

3- التكوينات الجيولوجية والثروة المعدنية في قارة آسيا.

تنوع الثروة المعدنية في القارة بسبب تنوع التكوينات الجيولوجية

السؤال الخامس: بدأت العديد من الدول باستخدام الطاقة الشمسية.

1- ما أهم استخدامات الطاقة الشمسية؟

انتاج الكهرباء من الألواح الشمسية

2- وضح مميزات الطاقة الشمسية.

متوفرة في معظم دول العالم - اقتصادية في كثير من الاستخدامات

السؤال السادس: أجب عن ما يلي:

1- تلعب الصين دورًا مهمًا في الإنتاج الزراعي في قارة آسيا، وضح ذلك.

- ملائمة الظروف الطبيعية بها أدى إلى تنوع المحاصيل الزراعية

- تحتل المرتبة الأولى في إنتاج العديد من المحاصيل الزراعية

2- ما المقصود بالطاقة المتجددة؟

- الطاقة التي تستمد من من موارد طبيعية ولا تنفذ ما دامت الحياة

مستمرة وهي نظيفة غير ملوثة للبيئة .

السؤال السابع: ما النتائج المترتبة على...؟

1- تنوع مناخ قارة آسيا.

.....
تنوع الانتاج الزراعي والحيواني – تنوع النشاط الاقتصادي

2- كثرة تعرُّج سواحل قارة آسيا وكثرة الخلجان.

.....
كثرة المرفأئ الطبيعية – زيادة الانتاج السمكي – طول السواحل

السؤال الثامن: اكتب مدلول الأرقام على خريطة قارة آسيا:

روسيا

1- أولى دول العالم إنتاجًا للقطن..

الصين

2- أولى دول القارة إنتاجًا للفحم..

بنجلاديش

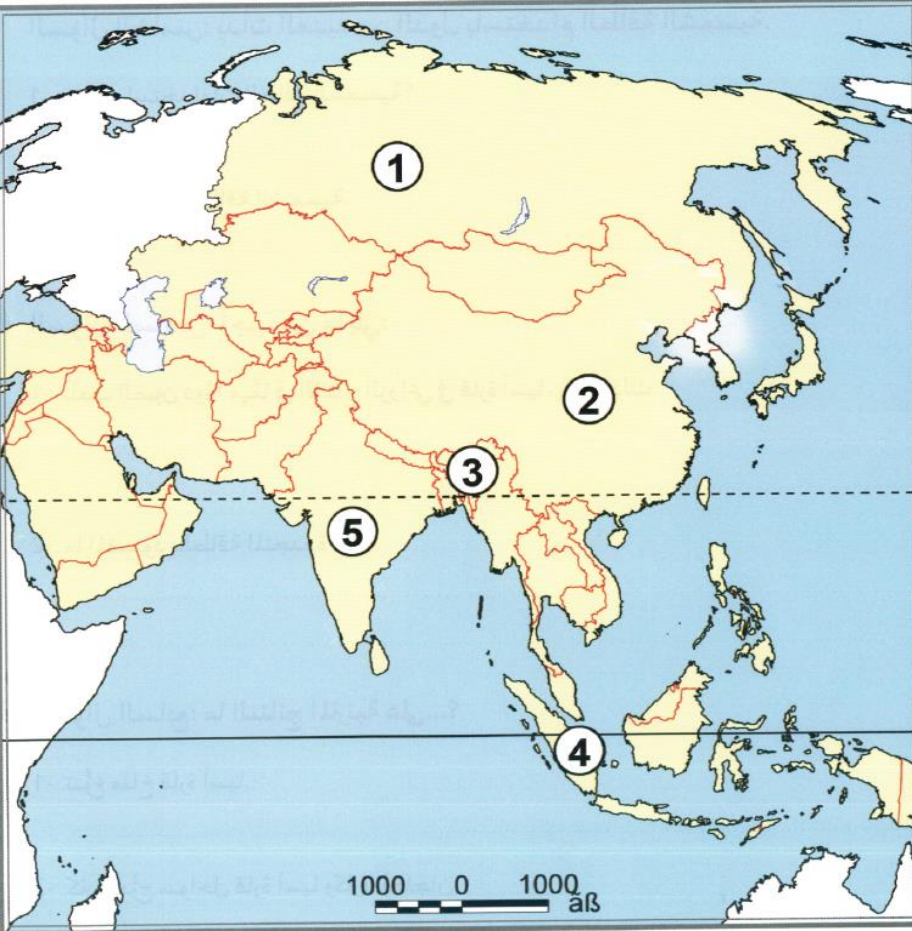
3- دولة منتجة للجوت..

إندونيسيا

4- دولة منتجة للمطاط الطبيعي..

الهند

5- أكثر الدول امتلاكًا للأبقار..



حل تدريبات درس السكان في قارة اسيا

السؤال الأول: اختر الإجابة الصحيحة مما يلي:

ثانيًا:
التدريبات

1- يعيش في قارة آسيا من سكان العالم:

ب - 59.3

أ - 49.3

د - 79.3

ج - 69.3

2- تمثل الهند والصين من سكان العالم حوالي:

أ - الثلث.

ب - الخمس.

ج - السادس.

د - الربع.

3- يتميز معدّل المواليد في قارة آسيا:

أ - بالارتفاع.

ب - بالانخفاض.

ج - بالتراجع.

د - بالاستقرار.

4- أولى دول قارة آسيا والعالم معًا من حيث عدد السكان دولة:

ب - الصين.

أ - الهند.

د - إندونيسيا.

ج - روسيا.

حل الكتاب ص 48 السؤال الثاني

السؤال الثاني: بم تفسّر....؟

1- انخفاض معدّل المواليد بقارة آسيا.

اتباع سياسات سكانية تهدف لخفض معدل المواليد

2- انخفاض معدّل الوفيات بقارة آسيا.

-تقدم الرعاية الصحية – ارتفاع المستوى المعيشي

3- زيادة نسبة الإعاقة في آسيا.

ارتفاع نسبة صغار السن وكبار السن

4- نُدرّة السكان بالمناطق الشمالية لقارة آسيا.

بسبب البرودة الشديدة والصحاري الجليدية

5- تركُّز السكان في شرق قارة آسيا.

بسبب خصوبة التربة ووفرة المياه وقيام الزراعة

1- فما المقصود بالسياسات السكانية؟

الاجراءات التي تتخذها الحكومات للتأثير على حجم السكان أو معدلات نموهم أو توزيعهم.

2- وما الهدف منها؟

- تحقيق التوازن بين النمو السكاني والموارد – تحسين مستوى المعيشة.

3- فسّر لجوء الصين عام 2016 إلى تغيير سياستها السكانية.

لضخ دماء شابة جديدة في المجتمع لتحقيق التنمية

4- اذكر أهداف السياسة السكانية في دولة قطر.

**التحكم في معدلات النمو السكاني دعم المشاركة المجتمعية للمرأة
الارتقاء بالصحة العامة للسكان**

5- ما دورك في تحقيق أهداف السياسة السكانية في دولة قطر؟

- المحافظة على الموارد – الاجتهاد في الدراسة – تأسيس أسرة صالحة

السؤال الرابع: ما النتائج المترتبة على:

1- الزيادة السكانية في قارة آسيا.

الضغط على الموارد – نقص الغذاء – ارتفاع الكثافة السكانية

2- وجود الأنهار الكبرى شرق آسيا.

وفرة المياه – خصوبة التربة – ارتفاع كثافة السكان

3- ارتفاع معدل المواليد وانخفاض معدل الوفيات.

ارتفاع معدل النمو السكاني

السؤال الخامس: قارن بين الكثافة السكانية في قارة آسيا من خلال الجدول التالي:

هضبة الدكن

سهول شرق آسيا

شمال آسيا

أوجه المقارنة

متوسطة

مرتفعة

قليلة

نوع الكثافة

المناخ المعتدل
وخصوبة التربة

وفرة الأنهار
وخصوبة التربة
وقيام الزراعة

البرودة
الشديدة

السبب

السؤال السادس: حدّد العلاقة بين المتغيّرات الجغرافية التالية:

1- التضاريس والتوزيع السكاني.

يتركز السكان في السهول ويقفون في الجبال

2- الزواج المبكر والنمو السكاني.

يؤدي الزواج المبكر إلى زيادة النمو السكاني

3- اهتمام الدولة بالرعاية الصحية والنمو السكاني.

قلة عدد الوفيات وزيادة المواليد وبالتالي ارتفاع النمو السكاني

4- الهجرة والتزوح السكاني.

الهجرة اختيارية بينما النزوح اجباري بسبب كارثة

5- المناخ والتوزيع السكاني.

يتركز السكان في المناخ المعتدل ويقفون في المناخ الحار والبارد

6- الأنشطة البشرية والكثافة السكانية.

يتركز السكان في مناطق الزراعة والصناعة ويقفون في مناطق الرعي والصيد البدائي

❖ حل تدريبات ❖ الخصائص الطبيعية لقارة أفريقيا

17/10/2020
م 11:28

الخصائص الطبيعية لقارة إفريقيا

السؤال الأول: اختر الإجابة الصحيحة مما يلي:

1- عدد الدوائر العرضية التي تمتد بها القارة الإفريقية:

ب - 70.

أ - 68.

د - 73.

ج - 72.

ثانياً:
التدريبات

2- تقرب قارة إفريقيا من قارة أوروبا عند مضيق:

أ- هرمز.

ب - جبل طارق.

ج - باب المندب.

د - ملقا.

3- الهضبة التي تشغل وسط القارة الإفريقية:

أ - الشطوط.

ب - تبستي.

ج - البحيرات.

د - إثيوبيا.

التدريبات ص 99

103- القارة

إفريقيا

1- يجيب عن

الأسئلة

الموضوعية عن

قارة إفريقيا في

تدريبات الكتاب

المدرسي .

2- يجيب عن

الأسئلة المقالية

عن قارة إفريقيا

في تدريبات الكتاب

القيمة

أهمية النجاح

الخصائص الطبيعية لقارة إفريقيا

السؤال الأول: اختر الإجابة الصحيحة مما يلي:

1- عدد الدوائر العرضية التي تمتد بها القارة الإفريقية:

ب - 70.

أ - 68.

د - 73.

ج - 72.

ثانياً:
التدريبات

2- تقرب قارة إفريقيا من قارة أوروبا عند مضيق:

أ- هرمز.

ب - جبل طارق.

ج - باب المندب.

د - ملقا.

3- الهضبة التي تشغل وسط القارة الإفريقية:

أ - الشطوط.

ب - تبستي.

ج - البحيرات.

د - إثيوبيا.

التدريبات ص 99

103- القارة

إفريقيا

1- يجيب عن

الأسئلة

الموضوعية عن

قارة إفريقيا في

تدريبات الكتاب

المدرسي .

2- يجيب عن

الأسئلة المقالية

عن قارة إفريقيا

في تدريبات الكتاب

القيمة

أهمية النجاح

الخصائص الطبيعية لقارة إفريقيا

السؤال الثاني: بم تفسّر....؟

1- الأهمية الاستراتيجية لقارة إفريقيا.

تشغل موقعاً متميزاً في قلب العالم – قربها من قارتي آسيا وأوروبا
وضيق المسافات – تطل على أهم الممرات الملاحية

2- سُميت هضبة البحيرات بهذا الاسم.

لأنها تضم المنطقة مجموعة من البحيرات منها فيكتوريا – تنجانيقا
– البرت ونياسا وغيرها ” لكثرة البحيرات فيها ”

3- ضيق السهول الساحلية المطلة على البحر الأحمر.

نظراً لاقتراب جبال البحر الأحمر منها

4- أهمية نهر الكونغو.

ثاني أكثر الأنهار تدفقاً وغازارة في العالم – قدرة عالية على إنتاج الكهرباء

5- أهمية رواسب نهر أورانج.

رواسبه تشتمل على ذرات الذهب والألماس

التدريبات ص
99- 103 لقارة

1 إفريقيا عن

الأسئلة

الموضوعية عن

قارة إفريقيا في

تدريبات الكتاب

المدرسي .

2- يجيب عن

الأسئلة المقالية

عن قارة إفريقيا

في تدريبات

الكتاب
القيمة /

أهمية النجاح

الخصائص الطبيعية لقارة إفريقيا

6- حدوث الجفاف في قارة إفريقيا.

- 1- تقلبات في دورة الغلاف الجوي .
- 2- الأنشطة البشرية كالرعي المفرط وإزالة الغطاء النباتي .

7- اتساع مساحة الصحاري في قارة إفريقيا.

فترات الجفاف الطويلة

التدريبات ص 99
103- لقارة

1- **إفريقيا عن**
الأسئلة

الموضوعية عن
قارة إفريقيا في
تدريبات الكتاب
المدرسي .

2- **يجيب عن**
الأسئلة المقالية
عن قارة إفريقيا
في تدريبات الكتاب

القيمة /

أهمية النجاح

الخصائص الطبيعية لقارة إفريقيا

السؤال الثالث: ما النتائج المترتبة على:

1- ثراء قارة إفريقيا بالموارد.

2- مرور خط الاستواء في منتصف قارة إفريقيا.

اختلاف فصول السنة بين نصفها الشمالي والجنوبي

3- كثرة المساقط المائية في نهر النيجر.

إنتاج الكهرباء – تعوق الملاحة النهرية

4- انتشار الشلالات على نهر الزمبيزي.

أقيمت العديد من السدود لإنتاج الكهرباء

التدريبات ص 99
103- لقارة

1- إفريقيا عن
الأسئلة

الموضوعية عن
قارة إفريقيا في
تدريبات الكتاب
المدرسي .

2- يجيب عن
الأسئلة المقالية
عن قارة إفريقيا
في تدريبات الكتاب

القيمة /

أهمية النجاح

الخصائص الطبيعية لقارة إفريقيا

السؤال الرابع: يُعتبر الجفاف أحد أكثر الأخطار الطبيعية تعقيداً..

1- فما المقصود بالجفاف؟

ظاهرة طبيعية تحدث في مناطق من العالم ، تتجلى في نقص تساقط الأمطار الذي يتبعه شح الغطاء النباتي

2- ما أهم الآثار المترتبة على الجفاف؟

- 1- تؤدي فترات الجفاف الطويلة إلى تدهور التربة وزيادة تصحرها .
- 2- تؤدي فترات الجفاف الطويلة إلى القحط وهلاك المواشي وموت الإنسان
- 3- الجفاف له النصيب الأكبر في حصد الأرواح والخسائر الاقتصادية

3- اقترح حلولاً لمواجهة مشكلة الجفاف في قارة إفريقيا.

- 1- تنمية قدرات الدول الإفريقية في علوم الأرصاد والمسح البيئي والتنبؤ بالجفاف .
- 2- الحفاظ على المراعي الطبيعية من الرعي الجائر .
- 3- إقامة السدود لتخزين مياه الأمطار والأنهار والاستفادة منها

التدريبات ص 99
103- لقارة

1- إفريقيا عن
الأسئلة

الموضوعية عن
قارة إفريقيا في
تدريبات الكتاب
المدرسي .

2- يجيب عن
الأسئلة المقالية
عن قارة إفريقيا
في تدريبات الكتاب

القيمة /
أهمية النجاح

الخصائص الطبيعية لقارة إفريقيا

السؤال الخامس: **قارن بين كلّ من:**

1- الأقاليم المناخية:

الإقليم الصحراوي	الإقليم الاستوائي	أوجه المقارنة
حرارة مرتفعة صيفاً ومنخفضة شتاءً والأمطار نادرة	حرارة مرتفعة و أمطار غزيرة طوال العام	الخصائص المناخية

التدريبات ص 99
103- لقارة

1- **إفريقيا** عن
الأسئلة

الموضوعية عن
قارة إفريقيا في
تدريبات الكتاب
المدرسي .

2- **يجيب** عن
الأسئلة المقالية
عن قارة إفريقيا
في تدريبات الكتاب

القيمة /

أهمية النجاح

الخصائص الطبيعية لقارة إفريقيا

2- هضاب القارة الإفريقية:

هضبة البحيرات	هضبة إثيوبيا	أوجه المقارنة
تمتد في وسط القارة وتنحدر من الجنوب نحو الشمال	تمتد في شرق القارة	الموقع
1- يوجد بها جبل كلمنجارو . 2- تتوسطها بحيرة فكتوريا	1- تغطيها الطفوح البركانية 2- تضم بحيرة تانا والتي ينبع منها احد روافد نهر النيل	الخصائص الجغرافية

التدريبات ص 99
103- لقارة

1- **إفريقيا عن**
الأسئلة

الموضوعية عن
قارة إفريقيا في
تدريبات الكتاب
المدرسي .

2- **يجيب عن**
الأسئلة المقالية
عن قارة إفريقيا
في تدريبات الكتاب

القيمة /

أهمية النجاح

الخصائص الطبيعية لقارة إفريقيا

التدريبات ص 99
103- لقارة

1- **إفريقيا عن**
الأسئلة

الموضوعية عن
قارة إفريقيا في
تدريبات الكتاب
المدرسي .

2- **يجيب عن**
الأسئلة المقالية
عن قارة إفريقيا
في تدريبات الكتاب

القيمة /
أهمية النجاح

3- أنهار إفريقيا:

نهر الكونغو	نهر النيل	أوجه المقارنة
ثاني أطول نهر في إفريقيا	أطول نهر العالم وإفريقيا	الترتيب
يصب في المحيط الأطلنطي	يصب في البحر المتوسط	المصب
1- ثاني أكثر الأنهار تدفقاً وغازة في العالم . - القدرة العالية في إنتاج الكهرباء	تعد سهوله الوحيدة التي تقطع القارة من الشمال إلى الجنوب تتميز بخصوبتها المرتفعة	المميزات الجغرافية

الخصائص الطبيعية لقارة إفريقيا

السؤال السادس: اكتب مدلول الأرقام على الخريطة التضاريسية لقارة إفريقيا:

جبال اطلس

3-

الصحراء
الكبرى

2- هضبة

نهر النيل

1-

البحيرات

6- هضبة

نهر النيجر

5-...

هضبة اثيوبيا

4-

الكاب

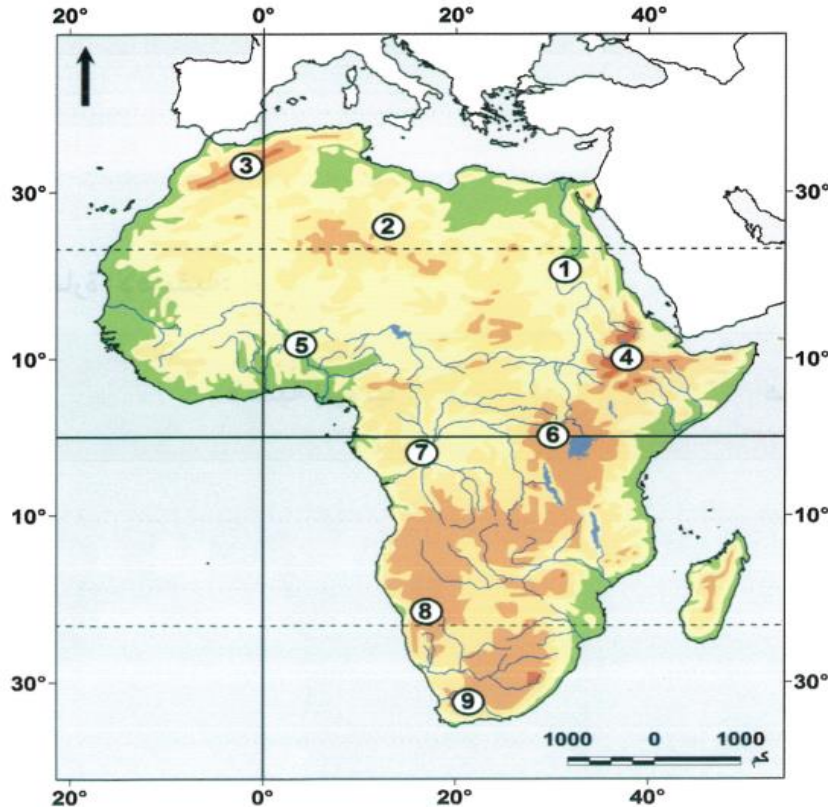
9- جبال

كلهاري

8- صحراء

نهر الكونغو

7-



التدريبات ص 99
103- لقارة

1- إفريقيا عن
الأسئلة

الموضوعية عن
قارة إفريقيا في
تدريبات الكتاب
المدرسي .

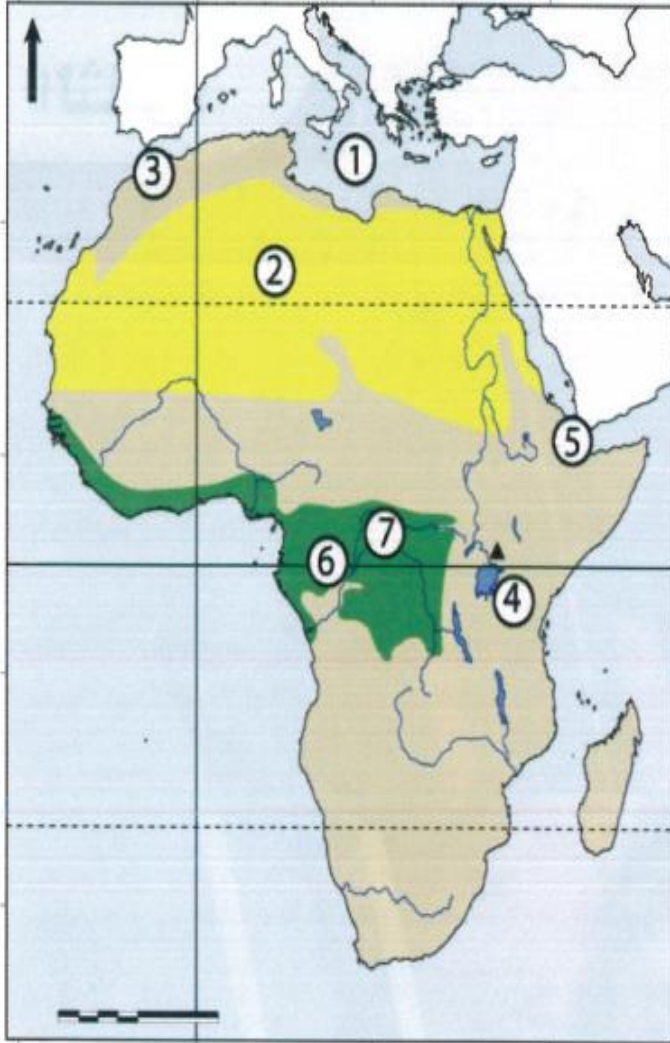
2- يجيب عن
الأسئلة المقالية
عن قارة إفريقيا
في تدريبات الكتاب

القيمة /

أهمية النجاح

الخصائص الطبيعية لقارة إفريقيا

السؤال السابع: اكتب مدلول الأرقام التالية على خريطة إفريقيا الصماء:



1. البحر..... **المتوسط**

2. إقليم مناخي..... **الصحراوي**

3. مضيق..... **جبل طارق**

4. بحيرة..... **فكتوريا**

5. مضيق..... **باب المندب**

6. خط..... **الاستواء**

7. الإقليم..... **الاستوائي**

التدريبات ص 103- لقارة إفريقيا

1- إيفيقيل عن

الأسئلة

الموضوعية عن

قارة إفريقيا في

تدريبات الكتاب

المدرسي .

2- يجيب عن

الأسئلة المقالية

عن قارة إفريقيا

في تدريبات

الكتاب
القيمة /

أهمية النجاح

الخصائص الطبيعية لقارة إفريقيا

السؤال الثامن: أجب عما يلي:

1- اذكر أهم الجبال في قارة إفريقيا.

جبال اطلس – جبال البحر الأحمر – جبل كلمنجارو – جبال دراكنزبيرج – جبال الكاب – جبال فوتاجالون – جبل كينيا

2- عيّد أهم المشروعات التي ساهمت بها دولة قطر لإغاثة متضرري الجفاف والمجاعات في قارة إفريقيا.

الهلال الأحمر القطري – جمعية قطر الخيرية ” الدعم المادي والمعنوي لعدد من المحتاجين وتحسين ظروفهم المعيشية

3- اذكر أهم الأنهار الإفريقية التي تصبّ في المحيط الأطلنطي.

نهر السنغال – نهر النيجر – نهر الكونغو – نهر الأورانج

4- ما حدود قارة إفريقيا؟

- الشمال البحر المتوسط . الغرب المحيط الأطلنطي
- الجنوب المحيط الهندي والأطلنطي – الشرق البحر الأحمر والمحيط الهندي

التدريبات ص 99

103- لقارة

1- إفريقيا عن

الأسئلة

الموضوعية عن

قارة إفريقيا في

تدريبات الكتاب

المدرسي .

2- يجيب عن

الأسئلة المقالية

عن قارة إفريقيا

في تدريبات الكتاب

القيمة /

أهمية النجاح