







مدرسه مريم بنت عمران الابتدائية
العام الأكاديمي 2020-2021

مدرسة مريم بنت عمران الابتدائية للبنات
تدريبات اثرائية
في مادة الرياضيات للصف الاول
العام الأكاديمي 2020 / 2021

السؤال الأول: اختاري الإجابة الصحيحة بوضع دائرة حولها.

| | | |
|---|---|---------------------------------------|
| | | السؤال رقم (1) |
| | | أي الأعداد التالية يمثل عدد الفراشات؟ |
|  | | |
| A | 4 | |
| B | 5 | |
| C | 6 | |

| | | |
|---|---|----------------------------|
| | | السؤال رقم (2) |
| | | أي مما يلي يمثل العدد 10 ؟ |
| A |  | |
| B |  | |
| C |  | |

| | | | | | | | |
|--|--------|---------------------------|-----|-----|-----|-----|--|
| | | السؤال رقم (3) | | | | | |
| | | ما الترتيب الصحيح للقرد ؟ | | | | | |
| | | الأول | | | | | |
|  | | | | | | | |
| <table border="0"><tr><td>بقرة</td><td>قرد</td><td>جمل</td><td>نمر</td><td>فيل</td></tr></table> | | بقرة | قرد | جمل | نمر | فيل | |
| بقرة | قرد | جمل | نمر | فيل | | | |
| A | الثاني | | | | | | |
| B | الثالث | | | | | | |
| C | الرابع | | | | | | |

السؤال رقم (4)

أي مما يلي يمثل قطة تحت الكرسي؟

A



B



C



السؤال رقم (5)

ما العدد الكلي للفراشات؟



A

4 و 2 يصبح 6

B

4 و 3 يصبح 7

C

4 و 4 يصبح 8

السؤال رقم (6)

ما جملة الجمع المناسبة؟



A

$5+3=8$

B

$4+4=8$

C

$5+4=9$

السؤال رقم (7)

لدى سالم 4 أقلام . أعطاه والده 2 قلمان إضافيان.
ما جملة الجمع التي تمثل العدد الكلي للأقلام لدى سالم ؟

A $4+2=6$

B $5+3=8$

C $3+4=7$

السؤال رقم (8)

في الحديقة 5 فراشات وانضمت إليها 3 فراشات أخرى، كم فراشة أصبحت في الحديقة الآن؟

A $5+5=10$

B $4+3=7$

C $5+3=8$

السؤال رقم (9)

في وعاء 6 كرات زجاجية. اخذ منها 4 كرات كم كرة تبقى في الوعاء؟



A 6

B 2

C 3

السؤال رقم (10)

ما جملة الطرح المناسبة للصورة؟



A $6-4=2$

B $5-3=2$

C $4-3=1$

السؤال رقم (11)

ما جملة الجمع المناسبة للصورة؟



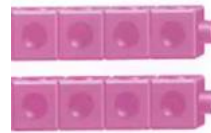
A $6+2=8$

B $6+3=9$

C $6+1=7$

السؤال رقم (12)

ما جملة الضعف الصحيحة؟



A $3+3=6$

B $4+4=8$

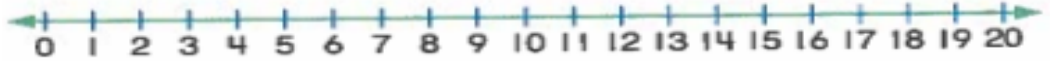
C $5+5=10$

السؤال الثاني : اوجدي الناتج بتوضيح خطوات الحل

السؤال رقم (1)

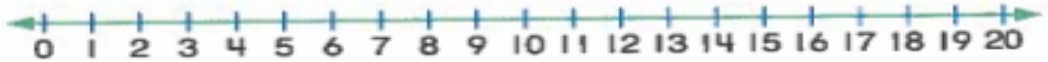
استعمل خط الاعداد ثم عد تصاعدياً لإيجاد ناتج الجمع.

$$6 + 2 = \square$$



استعمل خط الاعداد ثم عد تنازلياً لإيجاد ناتج الطرح.

$$8 - 4 = \square$$






السؤال رقم (2)

في مزرعة جاسم 4 خرفان.
انضم إليها 2 خروفان آخران.
كم خروف يوجد الآن في مزرعة جاسم؟
ارسم صورة، ثم أكتب جملي جمع مختلفتين.

$$\text{-----} + \text{-----} = \text{-----}$$
$$\text{-----} + \text{-----} = \text{-----}$$

عد الأشياء لكل مجموعة واكتب العدد الكلي.



أكمل الأعداد الناقصة.

| | | | | | |
|----|-------|-------|-------|-------|-------|
| 0 | 1 | | | | 5 |
| 6 | 7 | ----- | ----- | 10 | ----- |
| 12 | ----- | ----- | ----- | ----- | ----- |

حوظ الإجابة الصحيحة ثم اكتب جملة عددية التي تمثل المكعبات.

A



لَيْسَتْ

حَقِيقَةٌ


حَقِيقَةٌ

ضِعْفِ

ضِعْفِ

----- + ----- = -----

B



لَيْسَتْ

حَقِيقَةٌ


حَقِيقَةٌ

ضِعْفِ

ضِعْفِ

----- + ----- = -----

C



لَيْسَتْ

حَقِيقَةٌ


حَقِيقَةٌ

ضِعْفِ

ضِعْفِ

----- + ----- = -----

D



لَيْسَتْ

حَقِيقَةٌ

حَقِيقَةٌ

ضِعْفِ

ضِعْفِ


----- + ----- = -----

الأول

انظر إلى الصورة وأجب عن الأسئلة التالية:



قطة




كلب




أرنب



عصفور



زرافة



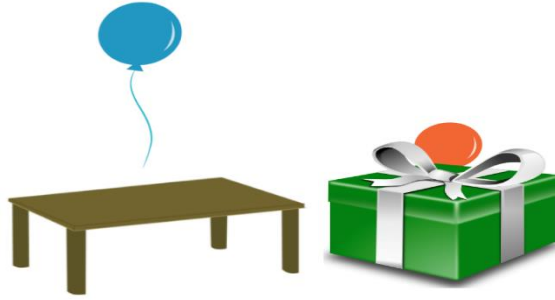
فيل

- ما ترتيب الفيل؟
- ما ترتيب الزرافة؟
- ما ترتيب العصفور؟
- ما اسم الحيوان الذي له الترتيب الثالث؟
- ما اسم الحيوان الذي يقع بين الأول والثالث؟

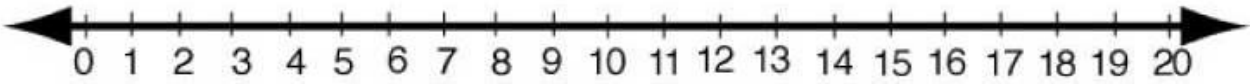
1. حوِّط الكرة على يمين المكتب.



2. حوِّط الصورة التي تبين (البالون فوق الطاولة).

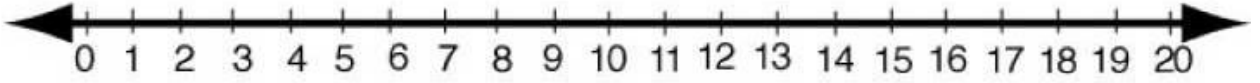


إذا كان لدى فاطمة 8 من المكعبات اعطتها صديقتها 6 مكعبات إضافية، فما عدد المكعبات لدى فاطمة الآن؟
استخدم خط الأعداد للعد تصاعدياً وإيجاد ناتج الجمع.



$$\text{-----} + \text{-----} = \text{-----}$$

إذا كان لدى فاطمة 11 تفاحات اعطت صديقتها 5 تفاحات ، فما عدد التفاحات التي بقيت لدى فاطمة الآن؟
استخدم خط الاعداد للعد تنازلياً وإيجاد ناتج الفرق.



$$\text{-----} - \text{-----} = \text{-----}$$

أكتب مجموع الأعداد الثلاثة في كل تمرين.

حوظ عددين أولاً ثم أكتب مجموعهما في الصندوق إلى اليمين ثم أكتب مجموع الأعداد الثلاثة.

1

$$\begin{array}{r} 7 \\ 3 \\ + 3 \\ \hline \square \end{array} \quad \square$$

2

$$\begin{array}{r} 2 \\ 8 \\ + 3 \\ \hline \square \end{array} \quad \square$$

وضعت سارة 7 كتب على رف مكتبة و3 كتب على رف اخر، ثم وضعت 5 كتب على الرف الأخير. كم كتابا وضعت سارة على الرفوف الثلاثة كلها؟

$$\underline{\quad} + \underline{\quad} + \underline{\quad} = \underline{\quad}$$

كتابا

ملاحظته: الكتاب هو الأساس في الدراسة قبل حل هذه الأوراق

بالتوفيق لجميع الطالبات