

بنك الأسئلة – الوحدة الأولى : الكائنات الحية

اختر الإجابة الصحيحة بوضع دائرة حول رمز الإجابة الصحيحة:

أي من الخيارات الآتية شيء غير حي ؟		1
الأرنب	A	
الطاولة	B	
الحصان	C	

أي مما يلي كائن حي؟		2
السيارة	A	
الطاولة	B	
الحصان	C	

كيف تتكاثر النباتات؟		3
بالبيض	A	
بالبذور	B	
بالولادة	C	

ما اسم الكائن الحي الذي يخرج من بيضة الطائر؟		4
فرخ	A	
شرنقة	B	
طائر صغير	C	

ما هي طريقة تكاثر القطة؟		5
بوضع البيض	A	
بالبذور	B	
بالولادة	C	

ما الذي تحتاجه الكائنات الحية لكي تعيش؟		6
كرسي	A	
تلفاز	B	
غذاء	C	

لماذا يحتاج حيوان المها إلى الهواء ؟		7
ليتنغذى	A	
ليتنفس	B	
ليتحرك	C	

أي من هذه الأشياء تمثل كائناً حياً ؟		8
الجمل	A	
الكوب	B	
الباب	C	

أي من هذه الحيوانات يخرج من البيضة ؟		9
الفيل	A	
القطعة	B	
الدجاجة	C	

أي من هذه الحيوانات ينمو داخل جسم أمه؟		10
الدجاجة	A	
الجمال	B	
الثعبان	C	

ماذا يطلق على كلاً من الهواء والرمال؟		11
أشياء غير حية	A	
كائنات حية	B	
نباتات	C	


من أين تأتي البذور؟		12
الأوراق	A	
الجزور	B	
الزهرة	C	

ما اسم المرحلة الأخيرة في دورة حياة الإنسان؟		13
حديث الولادة	A	
إنسان بالغ	B	
شباب	C	

أين تضع الفراشة بيضها؟		14
على الأوراق	A	
على الزهرة	B	
على الأرض	C	

أي الكائنات الحية التالية ينمو من البذرة؟		15
	A	
	B	
	C	

ما المرحلة المتشابهة بين دورتي حياة كلاً من السمكة والفراشة ؟		16
اليرقة	A	
البيضة	B	
السمكة الصغيرة	C	

		ما الخاصية التي تعبر عنها الصورة التاليه ؟	17
يتغذى	A		
يتحرك	B		
ينمو	C		

كيف يتكاثر الجمل ؟		18
بوضع البيض	A	
بالنمو	B	
بالولادة	C	

ما اسم الكائن الذي يخرج من بيضة الفراشة؟		19
يرقة	<input type="checkbox"/> A	
شرنقة	<input type="checkbox"/> B	
فرخ	<input type="checkbox"/> C	

لماذا تعتبر النباتات كائنات حية؟		20
لأنها تتغذى	<input type="checkbox"/> A	
لأنها تتكلم	<input type="checkbox"/> B	
لأنها تطير	<input type="checkbox"/> C	

كيف تتنفس النباتات؟		21
بالأوراق	<input type="checkbox"/> A	
بالساق	<input type="checkbox"/> B	
بالجذور	<input type="checkbox"/> C	

		<p>ماذا يسمى النبات في رقم 2 ؟</p>	<p>22</p>
	الشتلة	<input type="checkbox"/> A	
	الزهرة	<input type="checkbox"/> B	
	البادرة	<input type="checkbox"/> C	

<p>كم مرحلة تتضمن دورة حياة الضب؟</p>		<p>23</p>
2	<input type="checkbox"/> A	
3	<input type="checkbox"/> B	
4	<input type="checkbox"/> C	

2- ضع علامة (✓) أمام العبارة الصحيحة وعلامة (X) أمام العبارة الخاطئة:

- () 1- الحَيَوَانَاتُ كائنات حية لأنها تَتَغَذَّى، وَتَنَنَفَسُ وَتَتَحَرَّكُ.
- () 2- تَكْبُرُ النَّعَامَةُ فَتَنُمُو مِنْ فَرْخٍ صَغِيرٍ إِلَى طَائِرٍ كَبِيرٍ
- () 3- تنمو صغار القطة داخل البيضة.
- () 4- تنفس جميع الكائنات الحية بنفس الطريقة.
- () 5- يتكاثر الإنسان بالبيض.
- () 6- يتحرك العصفور بالسباحة.
- () 7- المرحلة المختلفة بين دورة حياة الضب ودورة حياة القطة هي البيض.
- () 8- تضع الفراشة البيض في الماء
- () 9- يتكاثر الضب عن طريق الولادة .
- () 10- تعتني الطيور بصغارها .
- () 11- ينتج النبات البالغ الأزهار .

3- صل بين كل كلمة والصورة المناسبة لها :



يتغذى

يتحرك

يتنفس

تتلة

قط حديث الولة

شرنقة

الأسئلة المقالية

أجب عن هذا السؤال :

1- من أين ينمو النبات؟

.....

2- كيف يتحرك العصفور؟

.....

3- ما اسم المرحلة الأولى في دورة حياة السمكة؟

.....

4- كم عدد مراحل دورة حياة الطائر؟

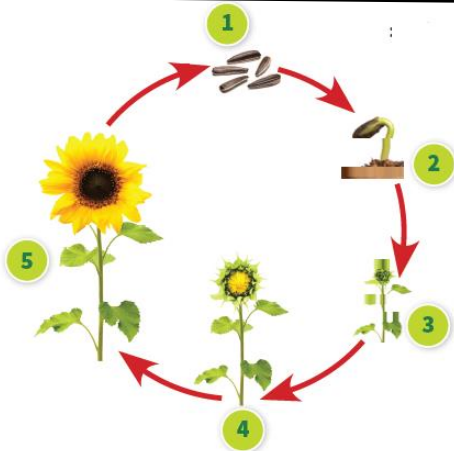
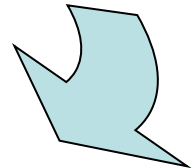
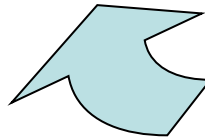
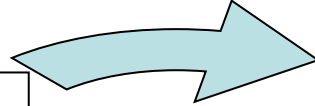
.....

5- كيف تتكاثر القطة؟

.....

6- اكتب اسم المرحلة الناقصة في دورة حياة السمكة:

.....



7- ماذا تسمى المرحلة الأولى في دورة حياة النبات؟

.....

8- أي رقم يدل على مرحلة النبات البالغ؟

.....

بنك الأسئلة – الوحدة الثانية

1- اختر الإجابة الصحيحة بوضع دائرة حول رمز الإجابة الصحيحة:

كيف يتحرك العصفور ؟		1
يسبح	A	
يطير	B	
يجري	C	

كيف تتحرك السمكة ؟		2
يسبح	A	
يطير	B	
يجري	C	

أي من التالي يتحرك من تلقاء نفسه ؟		3
حقيبة	A	
عصفور	B	
كرسي	C	

أي من التالي لا يتحرك من تلقاء نفسه ؟		4
حقيبة	A	
حصان	B	
عصفور	C	

- ضع علامة (✓) أمام العبارة الصحيحة وعلامة (X) أمام العبارة الخاطئة:

- 1- تتحرك الكائنات الحية بطرق متشابهة ()
- 2- يستطيع الانسان ان يتحرك بطرق مختلفة. ()
- 3- تتحرك الأشياء بطرق متشابهة. ()
- 4- جميع الأشياء تتحرك. ()
- 5- جميع الأشياء تتحرك بسرعة. ()
- 6- الحركة هي الانتقال من مكان إلى آخر. ()
- 7- يساعد المحرك المركبات كي تتحرك. ()