

أوراق عمل اثنائية
للفص الأول
مادة الحوسبة و تكنولوجيا المعلومات

صل بين الصور الحواسيب التاليه على حسب

ظهورها:



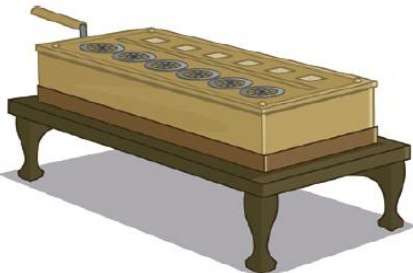
1



2



3



4

صل بين الجملة و الصورة المناسبة :



الحاسوب المكتبي



الساعة الذكية



ملف الصوت



ملف النص



أشياء لا يجب وضعها بجانب
الحاسوب


صل بين الجملة و الصورة المناسبة :



جهاز يستخدم لكتابة الحروف و الأرقام



يتم توصيل جميع الأجهزة في الحاسوب بوحدة النظام



ما الملف الرقمي الذي يتم إنشاؤه عندما نقوم بالكتابة على لوحة المفاتيح




ما الملف الرقمي الذي يتم إنشاؤه عندما تقوم بالتقاط صورة بواسطة الهاتف الذكي



الجلسة الصحيحة امام الحاسوب

اختر الإجابة الصحيحة مما يلي :

1- ما الملف الرقمي الذي يتم انشاءه عند تصوير فيديو باستخدام كاميرة الفيديو :



-2




-1



-3

2 - ما الملف الرقمي الذي يتم انشاءه عند تصوير صورة باستخدام الكاميرا :



-2



-1




-3

3- ما هو أحدث أنواع أجهزة الحاسوب :



-1



-2



-3

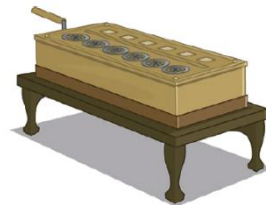
4- ما هو اقدم أنواع أجهزة الحاسوب :



-1



-2



-3

5- اين يستخدم الحاسوب في هذه الصورة:



1- المدرسة

2- البنك

3- السوق

6- اين يستخدم الحاسوب في هذه الصورة:



1- المدرسة

2- البنك

3- السوق

7- اين يستخدم الحاسوب في هذه الصورة:



1- المدرسة

2- البنك

3- السوق