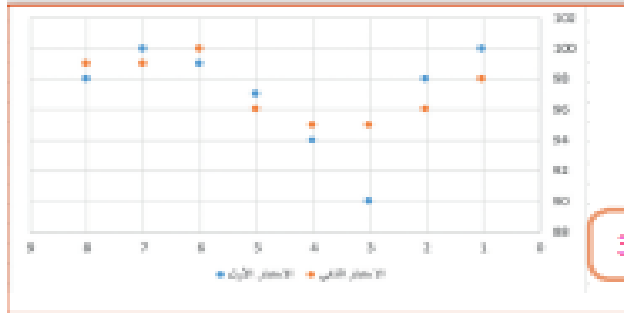


## صل نوع المخطط البياني بالصورة المناسبة.



1

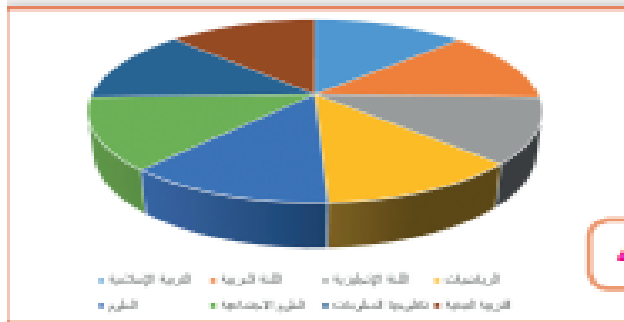
مخطط خطي Line Chart



3

المخطط البياني العمودي / الشريطي  
Column/ Bar Chart

2



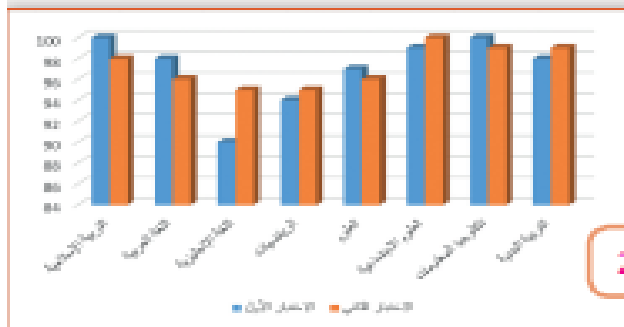
4

مخطط الانتشار Scatter Chart

3

مخطط دائري Pie Chart

4



2



حدد نوع المخطط البياني المناسب تبعًا لاستخدامه بوضع علامة ✓ في المربع المناسب كما هو موضح في الجدول الآتي:

المخطط المائل	المخطط الخطي	المخطط الدائري	لمخطط البياني العمودي الشرطي	
			✓	1. توضيح المقارنات بين البيانات
✓				2. إظهار التغييرات في البيانات على مدى فترة زمنية.
	✓			3. مقارنة القيم بمرور الوقت
		✓		4. إظهار العلاقة بين الأجزاء إلى الكل.

أجب عن الأسئلة التالية:

< ما المقصود بالمخططات البيانية؟

المخطط أو الرسم البياني هو عرض مرئي للمعلومات والبيانات يجعل من السهل فهم الأرقام وتحليلها. إن مقارنة الرسوم البيانية يعتبر أسهل بكثير من مقارنة الأرقام.

## « اذكر أنواع المخططات البيانية؟

مخطط خطي Line Chart

المخطط البياني العمودي/  
الشريطي Column/ Bar Chart

مخطط الانتشار  
Scatter Chart

مخطط دائري Pie Chart