



أوراق دعم وتثبيت لمادة الرياضيات

المقرر لاختبارات نهاية الفصل الأول

الوحدة الأولى: من صفحة 9 إلى صفحة 51

الوحدة الثانية: من صفحة 85 إلى صفحة 139

الوحدة الثالثة: من صفحة 167 إلى صفحة 178

من صفحة 191 إلى صفحة 195

الوحدة الرابعة: من صفحة 233 إلى صفحة 251

الوحدة الخامسة: من صفحة 279 إلى صفحة 285

من صفحة 303 إلى صفحة 309

السؤال الأول : ضع اشارة \checkmark أمام الاجابة الصحيحة .

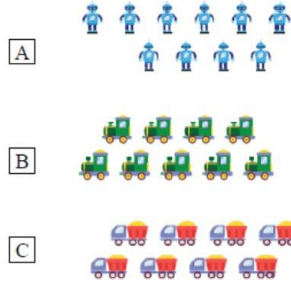
- ما العدد الذي يمثل عدد الفراشات ؟



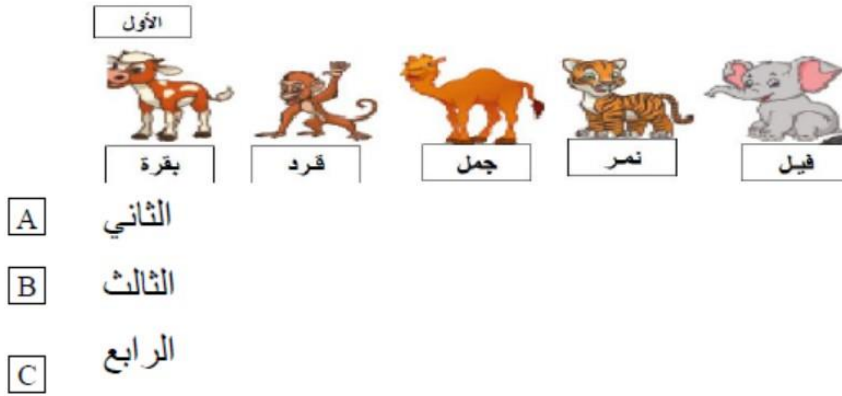
- A 4
 B 5
 C 6



- أي مما يلي يمثل العدد 10 ؟



- ما الترتيب الصحيح للقرد ؟






أي مما يلي يمثل القطة تحت الطاولة ؟



- ما جملة الجمع المناسبة ؟



A $5+3=8$

B $4+4=8$

C $5+4=9$


السؤال الثاني : لدى سالم 4 أقلام أعطاه والده 2 أقلام إضافية ، كم قلم أصبح لدى سالم ؟

اكتب جملة الجمع المناسبة .



السؤال الثالث : في الحديقة 5 فراشات أنضم إليها 3 فراشات أيضا كم أصبح عدد الفراشات ؟

السؤال الرابع : ماجملة الطرح المناسبة ؟



السؤال الخامس : ماجملة الجمع المناسبة ؟



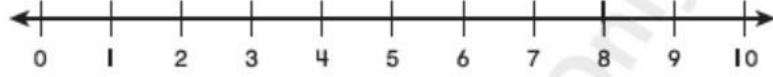
السؤال السادس : ماجملة الضعف المناسبة ؟





السؤال السابع : استعمل خط الأعداد وعدّ تصاعديا لاجاد ناتج الجمع .

$$6 + 2 = \square$$








السؤال الثامن : استعمل خط الأعداد وعدّ تنازليا لاجاد ناتج الطرح .

$$8 - 4 = \square$$

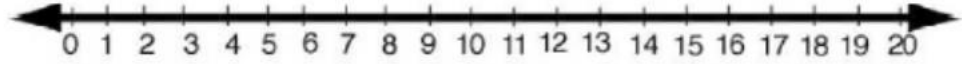


السؤال التاسع : عدّ الأشياء في كل مجموعة واكتب العدد المناسب .

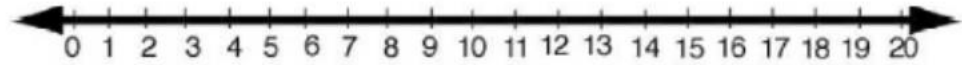
	
<input type="text"/>	<input type="text"/>
	
<input type="text"/>	<input type="text"/>
	
	<input type="text"/>



السؤال العاشر : اذا كان لدى فاطمة 8 مكعبات وأعطتها صديقتها 6 مكعبات اضافية فكم أصبح عدد المكعبات لدى فاطمة ؟ اكتب جملة الجمع المناسبة و مثل ذلك على مستقيم الأعداد .



السؤال الحادي عشر : اذا كان لدى عائشة 11 تفاحة ، أعطت صديقتها سارة 5 تفاحات ، كم تفاحة يبقى معها ؟ اكتب جملة الطرح و مثل ذلك على مستقيم الأعداد .



السؤال الثاني عشر : أكتب مجموع الأعداد الثلاثة في كل تمرين .

حوط عددين أولاً واكتب ناتجهم في المربع على اليمين ، ثم أوجد ناتج الثلاثة أعداد معاً

2

$$\begin{array}{r} 2 \\ 8 \\ + 3 \\ \hline \square \end{array}$$

1

$$\begin{array}{r} 7 \\ 3 \\ + 3 \\ \hline \square \end{array}$$

السؤال الثالث عشر : أعطت أم محمد لمحمد 2 ريال وأعطاه أبوه 5 ريال أما أخوه فأعطاه 3 ريال كم ريال أصبح مع محمد أكتب جملة الجمع المناسبة .