







مدرسة الشمال الابتدائية للبنين




مراجعة رياضيات " منتصف الفصل الدراسي الأول 2020/ 2021



السؤال رقم (1)	الدرجة ()
ما العدد الذي يمثل عدد الارانب ؟ 	
<input type="checkbox"/> A 1	
<input type="checkbox"/> B 2	
<input type="checkbox"/> C 3	

السؤال رقم (2)	الدرجة ()
أي ممايلي يمثل عدد النحلات ؟ 	
<input type="checkbox"/> A 6	
<input type="checkbox"/> B 7	
<input type="checkbox"/> C 8	


السؤال رقم (3)	الدرجة ()
أي ممايلي يمثل عدد الأزرار ؟ 	
<input type="checkbox"/> A 8	
<input type="checkbox"/> B 9	
<input type="checkbox"/> C 10	

الدرجة ()	السؤال رقم (4)
	أي مما يلي يمثل العدد 4 ؟
A	
B	
C	




الدرجة ()	السؤال رقم (5)
	أي مما يلي يمثل العدد 8 ؟
A	
B	
C	


الدرجة ()	السؤال رقم (6)
	أي مما يلي يمثل العدد 0 ؟
A	
B	
C	




الدرجة ()	السؤال رقم (7)
	<p>استعمل الصور للإجابة عن السؤال التالي.</p> <p>الأولى</p>  <p>ما ترتيب السمكة الأخيرة؟</p> <p>A الخامس</p> <p>B السادس</p> <p>C السابع</p>

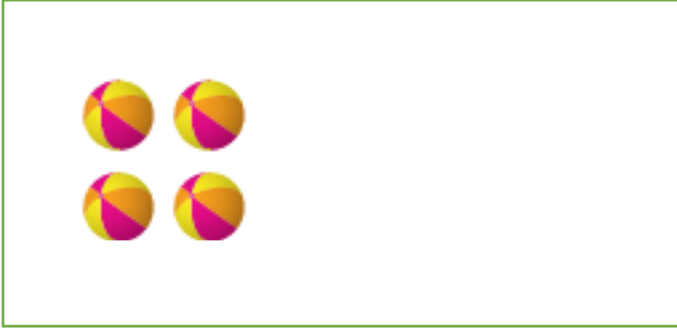
الدرجة ()	السؤال رقم (8)
	<p>استعمل الصور للإجابة عن السؤال التالي.</p> <p>الأول</p>  <p>تخلّة دُغسوفة فراشة ذودة غنكبوّث</p> <p>ما ترتيب الدعسوقة</p> <p>A الثاني</p> <p>B الثالث</p> <p>C الرابع</p>

الدرجة ()	السؤال رقم (9)
	<p>استعمل الصور للإجابة عن السؤال التالي.</p> <p>الأول الثاني الثالث الرابع الخامس السادس السابع الثامن التاسع العايز</p>  <p>بقرة قرد جمل تمز فيل كنغر زاكون نعلب خروف نعبان</p> <p>ما ترتيب الفيل؟</p> <p>A الثالث</p> <p>B الرابع</p> <p>C الخامس</p>


الدرجة ()		السؤال رقم (10)
		أي من الصور التالية توضح أن الضفدع أمام الوعاء؟
A		
B		
C		

الدرجة ()		السؤال رقم (11)
		أي من الصور التالية توضح أن الكرة داخل الكرتونة؟
A		
B		
C		

الدرجة ()		السؤال رقم (12)
		أي من الصور التالية توضح أن الدمية بين الطبلتين؟
A		
B		
C		

الدرجة ()		السؤال رقم (13)
		ارسم كرات التي احتاج اليها لأكون 10 كرات.

الدرجة ()		السؤال رقم (14)
		عد واكتب العدد

الدرجة ()		السؤال رقم (15)
		ارسم مجموعة من الدوائر تمثل العدد 7.