

## مدرسة البيان الاولى الابتدائية للبنات

اسئلة اثرائية للصف السادس الابتدائي  
منتصف الفصل الدراسي الاول  
قسم الحوسبة وتكنولوجيا المعلومات

### السؤال الاول :

اختر الإجابة الصحيحة لكل من العبارات التالية:

1- من التأثيرات الإيجابية لاستخدام التكنولوجيا تقليل .....

المحتوى	التكلفة	الجودة	البيع
---------	---------	--------	-------

2- من عناصر المجلة صفحة :

المحتوى	التكلفة	الجودة	البيع
---------	---------	--------	-------

3- نوع من الرسم التوضيحي يستخدم لتمثيل دورة الماء

الهرمي	القائمة	المصفوفة	الدائري
--------	---------	----------	---------

4- نوع من الرسم التوضيحي يستخدم لإظهار العلاقة بين الجزء والكل :

الهرمي	القائمة	المصفوفة	الدائري
--------	---------	----------	---------

5-أولى خطوات تصميم مجلة :

التخطيط على ورق	فكر في الموضوع	ابد العمل على المستند	صمم الغلاف
-----------------	----------------	--------------------------	------------

6-من الاثار السلبية لاستخدام التكنولوجيا التي تؤثر على العين :

الراحة العامة	الصحة الجيدة	اعتلال النظر	الم الظهر
---------------	--------------	--------------	-----------

7- من تأثيرات بيئة العمل غير الملائمة على الصحة:

الوزن المثالي	الصرع	قوة العضلات	الراحة العامة
---------------	-------	-------------	---------------

## مدرسة البيان الاولى الابتدائية للبنات

### السؤال الثاني :









أكمل الفراغ باختيار الإجابة الصحيحة من مجموعة الكلمات :

الم الظهر	توفير مصادر معلومات	القائمة	استراحات قصيرة	بيئة العمل الغير ملائمة	فكر في الموضوع
-----------	---------------------	---------	----------------	-------------------------	----------------

- 1- الاستخدام المفرط للحواسيب يؤدي الى ..**الم الظهر**
- 2- للوقاية من متلازمة اعتلال النظر يجب اخذ..... **استراحات قصيرة**.....
- 3- من التأثيرات الإيجابية لاستخدام التكنولوجيا ....**توفير مصادر معلومات**.
- 4- ..**القائمة**... نوع من أنواع الرسومات التوضيحية يستخدم لإظهار خطوات غير متسلسلة .
- 5- أولى خطوات تصميم مجلة ....**فكر في الموضوع**
- 6- الصرع والام الظهر من تأثيرات .....**بيئة العمل غير الملائمة** ..

### السؤال الثالث:

صل العمود ( أ ) مع ما يناسبه من العبارات في العمود ( ب ).

( أ )		( ب )	
1	من عناصر المجلة.		شجرة المجلدات.
2	لتنظيم الملفات الرقمية يجب انشاء .		صفحات المحتوى.
3	رسم توضيحي يعرض العلاقة بين فكرتين.		 علاقة
4	رسم توضيحي يظهر كيفية ترابط الأجزاء بالكل.		 معالجة
5	رسم توضيحي يعرض خطوات عملية لسير عمل معين.		 مصفوفة

## مدرسة البيان الاولى الابتدائية للبنات

### السؤال الرابع:

رتب خطوات تصميم المجلة التالية ترتيباً صحيحاً بوضع الرقم بجانب الجملة:

2	خطط على ورق كيف ستتنظم محتويات مجلتك.
1	فكر في المواضيع التي ستحتويها مجلتك.
4	استخدم معالج النصوص لإنشاء الصفحات وتنسيقها.
3	قم بتصفح عدة مجلات واختر التصميم الذي يعجبك.

### السؤال الخامس:

اذكري اثنين :

➤ التأثيرات الإيجابية والسلبية لاستخدام التكنولوجيا ؟

التأثيرات السلبية	التأثيرات الإيجابية
المشاكل الصحية بسبب الاستخدام المفرط.	توفير أدوات للتواصل مع الناس تتجاوز حدود الدول.
مشاكل الخصوصية.	توفير الكثير من مصادر المعلومات والتعليم والتعلم.
الانطواء وفقدان التواصل مع الأصدقاء.	تقديم الخدمات الطبية عن بعد، مما قد يمكن من إنقاذ الأرواح في المناطق النائية.
وجود الكثير من المعلومات غير الموثوقة على شبكة الإنترنت.	الروبوتات تقلل تكلفة عمليات التصنيع.

صفحة 11



➤ اذكري خطوات تصميم مجلة .

صفحة 12

➤ اذكري عناصر المجلة.

صفحة 13

ستحتوي مجلتنا فرضاً على العناصر الآتية:

- صفحة الغلاف
- صور ورسومات
- صفحات المحتوى
- جدول معلومات

## مدرسة البيان الاولى الابتدائية للبنات