



الزيم

في الدراسات الاجتماعية

نهاية الفصل الأول 21 / 22 م

المستوى التاسع (9)



DR - H / إعداد

الجغرافيا : **الوحدتين الأولى = والرابعة**



أولاً: اختر الإجابة الصحيحة للعبارات التالية:

1- من الحركات الداخلية "الباطنية" البطيئة:

التجوية الزلازل البراكين **الالتواءات**

2- " فتحة في القشرة الأرضية تندفع منها الغازات والأبخرة والمقذوفات" يقصد بها:

الزلازل الالتواءات **البراكين** الانكسارات

3- من جبال الوطن العربي الانكسارية:

عمان **الحجاز** زاغروس أطلس

4- تعمل الحركات الداخلية "الباطنية" البطيئة على:

تسوية سطح الأرض. تكوين التربة الخصبة. تشكيل السهول بأنواعها **تشكيل التضاريس الكبرى.**

5- من الجبال البركانية في العالم:

الألب الإنديز **كلمنجارو** الهيمالايا

6- البراكين التي لا يعرف إذا كانت ستثور مرة ثانية:

الخامدة الميتة النشطة المتقطعة

7- من أشهر الهضاب البركانية في العالم:

التبت **اليمن** المكسيك الشطوط

8- من أمثلة الجبال الالتوائية الكبرى في قارة أمريكا الشمالية

الانديز الهيمالايا الالب **روي**

9- يحدث الانكسار العادي نتيجة لحركة:

الشد الضغط التجوية التعرية

10- من الجزر البركانية في العالم:

أزور المالديف **هاواي** سانت هيلانة.

11- عملية يتم بها إذابة الصخر في وسط مائي :

التقشر التفلق التجمد **الإذابة**

12- - تفاعل الأكسجين المذاب في مياه الأمطار مع معادن الصخور يقصد به

التجمد الأكسدة التكرين الإذابة

13- - تعمل الأمواج على إرساب الرمال على شكل شريط طولي يتصل باليابس:

الأقواس البحرية الأقواس الرملية الجروف الساحلية الجروف البحرية

14- نتيجة لنحت الرياح للصخور تتشكل الصخور مكونة:

المسلات البحرية الكثبان الهلالية الكهوف الصحراوية الجروف البحرية.

15- تعمل الأمواج على إرساب الرمال إلى جانب البحر مباشرة مكونة:

الأقواس البحرية الكهوف البحرية الجروف الساحلية الشواطئ الرملية

16- من العوامل المؤدية للتجوية الميكانيكية:

التجمد الأكسدة التكرين الإذابة

17- - عندما ترسب الأنهار حمولتها عند المصب تتكون:

الدلتاوات الخوانق الشلالات الجنادل

18- نتيجة لهبوب الرياح في اتجاه واحد تنشأ:

الفرشات الرملية الكثبان الطولية الكثبان الهلالية الجروف البحرية.

19- تتكون نتيجة للنحت الجليدي للسواحل البحرية

الغطاءات الجليدية السهول الفيضية الدلتاوات الفيوردات

20- تنشأ نتيجة نحت النهر للصخور اللينة وتبقى الصخور الصلبة تعترضه:

الجنادل الشلالات الدلتاوات السهول الفيضية

21- تنشأ نتيجة للارساب النهري على جانبي النهر وتتميز بسطحها المستوي

الخوانق السهول الفيضية الدلتاوات الفيوردات

22- نتيجة نحت الرياح للصخور اللينة السفلية وبقاء الصخور الصلبة التي تعلوها:

الكهوف الصحراوية الكثبان الهلالية الموائد الصحراوية الجروف البحرية.

23- عندما تنحت الأمواج للصخور التي تشرف مباشرة على البحر تتكون:

الشواطئ الرملية الأقواس البحرية الكهوف البحرية الجروف الساحلية

ثانياً أجب عن الأسئلة التالية:

س 1 : اذكر أنواع الانكسارات ؟ *

- 1- عادي 2 - معكوس. 3 - سُلمي.

س 2 : اذكر الجبال الانكسارية الموجودة على جانبي البحر الأحمر ؟ *

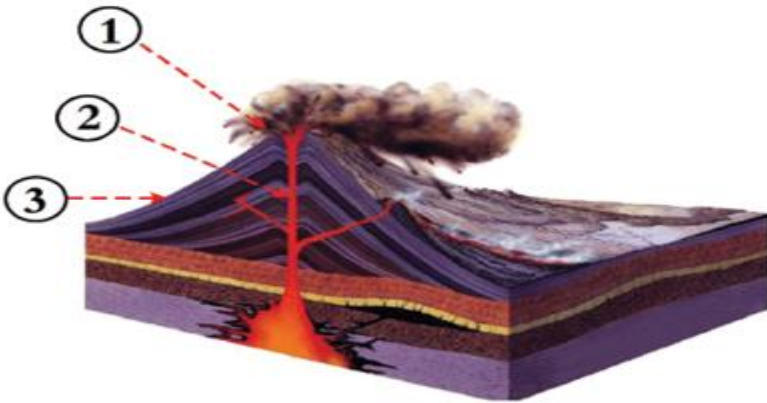
- 1 - الحجاز 2 - عسير 3 - اليمن 4 - سلسلة جبال البحر الأحمر.

س 3 : قارن بين الالتواءات والانكسارات من حيث :

(نوع الصخور- أهم الأشكال التضاريسية) .:

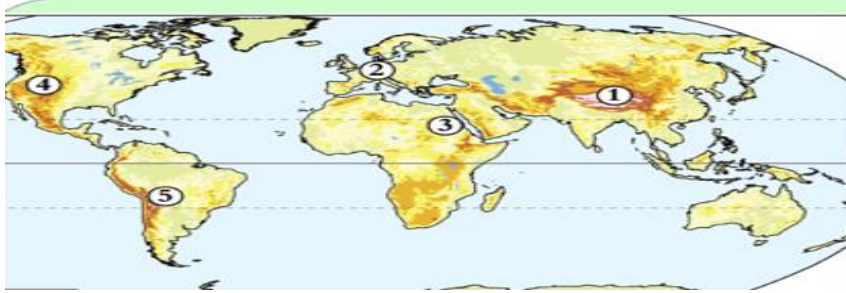
الالتواءات	الانكسارات	الظاهرة
الصخور اللينة (الرسوبية)	الصخور الصلبة (النارية)	نوع الصخور
- جبال التوائية - هضاب التوائية	- جبال انكسارية - حافات انكسارية - أغوار منخفضة - خنادق عميقة	الاشكال التضاريسية النتيجة

س 4: وضح ما تدل عليه الأرقام في الشكل المقابل. *



- 1 - فوهة البركان
2 - قصبه البركان
3 - المخروط البركاني

س 5 : أمامك خريطة العالم وضع ما تدل عليه الأرقام ص 23 :



- 1- جبال: الهيمالايا.
- 2- جبال: الألب.
- 3 - جبال: البحر الأحمر
- 4 - جبال: روكي
- 5 - جبال : الانديز.

س 6: حدد أهم الهضاب الالتوائية في العالم ؟

- 1 - التبت
- 2 - المكسيك
- 3 - الشطوط

س 7: كيف تسهم الزلازل في تشكيل سطح الأرض

- 1 - حدوث شقوق في القشرة الأرضية.
- 2 - حدوث أمواج تسونامي.
- 3 - حدوث انهيارات جبلية.
- 4 - اختفاء جزر وظهور جزر جديدة.

س 8: على الرغم من الآثار السلبية والدمرة للبراكين؛ من قتل وتشريد لآلاف من البشر،

فإنها تسهم في تشكيل سطح الأرض وضع الآثار المترتبة على البراكين؟

- 1 - تكون الجبال البركانية (جبل فيجي - جبل كلمنجارو) -
- 2 - تكون الهضاب البركانية (هضبة الحبشة - هضبة اليمن)
- 3 - تكون الجزر البركانية (هاواي)
- 4 - تكون بحيرات في فوهة البركان (تال)

س 9: أعطي أمثلة لطرق التعامل مع البراكين.

- 1 - مغادرة المبنى مباشرة وعدم حمل أية أغراض.
- 2 - انظر للفضاء وألاحظ سحابة الدخان من أين تأتي.
- 3 - اركب السيارة واتجه عكس سحابة الدخان.
- 4 - احمي جهازك التنفسي بوضع قناع.
- 5 - استمع إلى إرشادات الدفاع المدني.

س 10: اذكر أنواع البراكين..؟

- 1 - نشطة
- 2 - خامدة.
- 3 - ميتة
- 4 - متقطعة

س 11: كيف تتصرف في حالة حدوث الزلازل وانت داخل مبنى ؟

- 1 - ابتعد عن النوافذ.
- 2 - اقطع الكهرباء والغاز الطبيعي.
- 3 - اختبئ أسفل الأثاث.
- 4 - لا استخدم السلالم والمصعد.

س 12: كيف تتصرف في حالة حدوث الزلازل وانت في الشارع ؟

- 1 - أقف بعيداً عن المباني.
- 2 - ابق في داخل السيارة.
- 3 - ابتعد عن الشواطئ.
- 4 - استمع إلى المذيع والدفاع المدني.

س 13: حدد أهم الجبال الاتوائية في العالم:

- 1 - الهيمالايا (آسيا).
- 2 - الألب (أوروبا).
- 3 - أطلس (أفريقيا)
- 4 - روكي (أمريكا الشمالية).
- 5 - الأنديز (أمريكا الجنوبية).
- 6 - الألب الأسترالية.

س 14: اذكر العوامل المؤدية للتجوية الميكانيكية؟؟

- 1 - اختلاف درجات الحرارة
- 2 - التجمد
- 3 الكائنات الحية.

س 15: حدد دور الإنسان في التجوية الميكانيكية؟

- 1- شق الطرق.
- 2 - حفر الأنفاق والمناجم.
- 3 - المحاجر
- 4- قطع الأشجار

س 16: لماذا تعد الرياح من أكثر العوامل تأثيراً في تشكيل سطح الأرض

- 1 - نحت الصخور
- 2 - تنقل المفتتات وإرسابها في مناطق أخرى
- 3 - تكوين العديد من أشكال السطح.

س 17: قارن بين الكثبان الهلالية والطولية من حيث (الشبه - الاختلاف)؟

الظاهرة	الكثبان الهلالية	الكثبان الطولية
أوجه الشبه	نتيجة عن إرساب الرياح	نتيجة عن إرساب الرياح
أوجه الاختلاف	تنشأ نتيجة لهبوب الرياح في اتجاه واحد.	تنشأ بصورة موازية لاتجاه الرياح السائدة. وتأخذ الشكل الطولي ولها قمة سيفية حادة

س 11: كيف تتصرف في حالة حدوث الزلازل وانت داخل مبنى؟

- 1 - ابتعد عن النوافذ.
- 2 - اقطع الكهرباء والغاز الطبيعي.
- 3 - اختبئ أسفل الأثاث.
- 4 - لا استخدم السلالم والمصعد.

س 12: كيف تتصرف في حالة حدوث الزلازل وانت في الشارع؟

- 1 - أقف بعيداً عن المباني.
- 2 - ابق في داخل السيارة.
- 3 - ابتعد عن الشواطئ.
- 4 - استمع إلى المذيع والدفاع المدني.

س 13: حدد أهم الجبال الالتوائية في العالم:

- 1 - الهيمالايا (آسيا).
- 2 - الألب (أوروبا).
- 3 - أطلس (أفريقيا)
- 4 - روكي (أمريكا الشمالية).
- 5 - الأنديز (أمريكا الجنوبية).
- 6 - الألب الأسترالية.

س 14: اذكر العوامل المؤدية للتجوية الميكانيكية؟

- 1 - اختلاف درجات الحرارة
- 2 - التجمد
- 3 الكائنات الحية.

س 15: حدد دور الإنسان في التجوية الميكانيكية؟

- 1- شق الطرق.
- 2 - حفر الأنفاق والمناجم.
- 3 - المحاجر
- 4 - قطع الأشجار

س 16: لماذا تعد الرياح من أكثر العوامل تأثيراً في تشكيل سطح الأرض؟

- 1 - نحت الصخور
- 2 - تنقل المفتتات وإرسابها في مناطق أخرى
- 3 - تكوين العديد من أشكال السطح.

س 17: ما النتائج المترتبة على تسرب مياه الأمطار في الصخور الجيرية؟

- 1- تكوين الكهوف (مغارة جعيتا لبنان).
- 2 - ظاهرة الدحول (دحل الحمام قطر)

س 18: حدد دور الإنسان في التجوية الميكانيكية؟

- 1- شق الطرق.
- 2 - حفر الأنفاق والمناجم.
- 3 - المحاجر
- 4 - قطع الأشجار

س 19: وضع الأشكال الناتجة عن التعرية النهرية (الإرساب)؟

- 1- السهول الفيضية.
- 2 - الدلتاوات النهرية.

س 20: ما الآثار المترتبة على التعرية الجليدية؟

- 1- الفيوردات (سواحل النرويج).
- 2 - الغطاءات الجليدية.



الوحدتين الثانية والخامسة: التاريخ

أولاً: اختر الإجابة الصحيحة للعبارات التالية:

1 - المدينة التي تميزت بنظامها العسكري الصارم:

أثينا. أسبرطة مقدونيا طرواده.

2 - الفئة التي يحق لها ممارسة الحقوق السياسية في الحضارة اليونانية:

المواطنون القضاء الأجانب. العبيد.

3 - يرجع انقسام الإمبراطورية اليونانية إلى:

قيام دولة المدينة وفاة الأسكندر المقدوني احتلال الرومان لليونان.

4 - اشتقت الحروف اليونانية من الحروف:

الهندية الصينية الفينيقية اللاتينية

5 - لقب بأبي التاريخ:

سقراط أبقرات بطليموس هيروdotس

6 - وضع قسماً فرضه على من أراد أن يمتحن الطب ولقب بأبي الطب البشري:

سقراط أبقرات بطليموس هيروdotس

7 - الفئة التي لم تتمتع بأية حقوق في الحضارة اليونانية:

القضاة المواطنون العبيد الأجانب

8 - من أشهر أعلام اليونان في مجال الفلسفة:

بطليموس هيروdotس سقراط أبقرات

9 - أول ملوك العصر الإمبراطوري بالحضارة الرومانية:

أنطونيوس أوكتافيوس يوليوس قيصر قسطنطين

10 - قام ببناء عاصمة جديدة للإمبراطورية الرومانية بدلاً من روما:

أنطونيوس أوكتافيوس. يوليوس قيصر قسطنطين

11 - أهم قادة العصر الجمهوري:

أنطونيوس أوكتافيوس. **يوليوس قيصر** قسطنطين

12 - القائد العثماني الذي فتح مدينة القسطنطينية عام 1453 م:

عثمان **محمد الفاتح** سليم الأول سليمان القانوني.

13 - أي من الشعوب التالية كونت الحضارة الرومانية في بدايتها:

اللاتين البربر الفرس الاغريق

14 - يرجع انهيار العصر الملكي إلى:

الهجوم العثماني **الثورات الداخلية** الصراعات الملكية هجمات الجرمان.

15 الطبقة التي تشكل غالبية المجتمع الروماني القديم:

النبلأ العسكريون **العامة** العبيد

16 - أبرز المنجزات المعمارية التي شيدها الرومان:

زيوس. الأكروبولس البارثينون **الكولوسيوم**

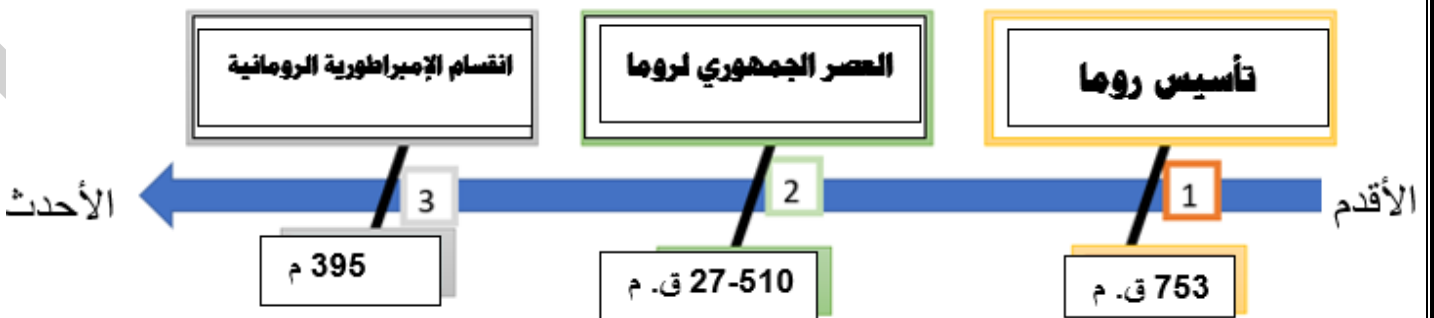
17 - صدر مرسوم ميلان في عهد الإمبراطور:

أنطونيوس أوكتافيوس. **قسطنطين** رومولوس

18 - رتب أحداث الحضارة اليونانية الآتية على الخط الزمني ترتيباً صحيحاً

من الأقدم إلى الأحدث:

{ انقسام الإمبراطورية الرومانية - تأسيس روما - الحكم الجمهوري لروما }



ثانياً أجب عن الأسئلة التالية:

1- اذكر عوامل قيام الحضارة اليونانية؟

- 1 - الموقع الجغرافي.
- 2- المناخ المعتدل.
- 3 - التضاريس.
- 4 - حرية التفكير.

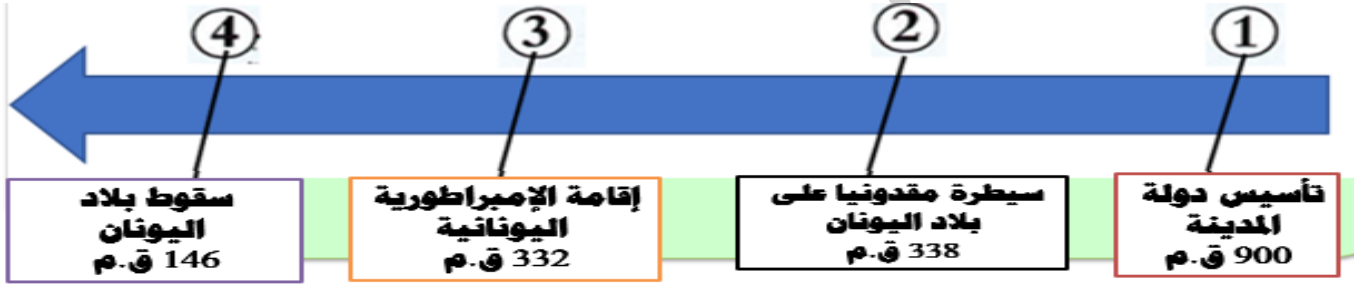
2- ما أدلة تطور نظام الحكم في بلاد اليونان قديماً؟

- 1 - النظام الملكي الوراثي.
- 2 - النظام الديمقراطي.
- 3 - نظام الحكم الإمبراطوري.
- 4 - النظام الملكي.

3- ما النتائج المترتبة على وجود التضاريس الوعرة في بلاد اليونان؟

- 1 - ظهور نظام (الدولة المدينة).
- 2 - التنافس بين المدن الإغريقية.
- 3 - توجه السكان إلى السواحل حيث الموانئ الطبيعية مما أسهم في ازدهار التجارة.

4- ارسم خطاً زمنياً رتب عليه أهم الأحداث التاريخية في الحضارة اليونانية من الأقدم:



5- ما أهم أعمال كل من (هيرودوتس - بطليموس)؟

هيرودوتس: أول من كتب في التاريخ طاف العالم مدوناً مشاهداته وما سمعه من القصص.

بطليموس: من أفكاره (الأرض كروية ثابتة والاجرام السماوية هي التي تتحرك حولها).

6- قارن بين طبقات المجتمع اليوناني من حيث مدى تمتعها بالحقوق ؟

1 - **المواطنون:** ممارسة الحقوق السياسية - التمتع بالحقوق المدنية.

2 - **الاجانب:** حق الاعفاء من بعض الضرائب + بعض الامتيازات.

3 - **العبيد:** لم يتمتعوا بأية حقوق.

7 - ما النتائج المترتبة على: وفاة الإسكندر المقدوني.

- 1 - ظهور نظام دولة المدينة.
- 2 - التنافس بين المدن الإغريقية
- 3- توجه السكان إلى السواحل حيث الموانئ وازدهار التجارة.

8 - ما أوجه الاختلاف بين حضارة أسبرطة وحضارة أثينا؟

- 1 - **أسبرطة**: عرفت بنظامها العسكري الصارم ولم تسهم بشكل كبير في الحضارة.
- 2 - **أثينا**: عرفت بنظامها الديمقراطي فأصبحت رائدة في كافة المجالات.

9- كان المجتمع الروماني مجتمعاً طبقياً ... دلل على صحة العبارة.

- 1 - **طبقة النبلاء والأشراف**: أصحاب المناصب العليا في الدولة ومنهم الفرسان وكبار رجال الجيش.
- 2 - **طبقة التجار والحرفيين**: يمثلون جزءاً كبيراً من المجتمع.
- 3 - **طبقة العامة**: تشكل غالبية المجتمع الروماني وهم (الزراع - الصناع - الأجانب).
- 4 - **طبقة العبيد**: هم أدنى الطبقات ويعملون في المناجم والمزارع وليس لهم أية حقوق في المجتمع.

10 - عدد أسباب ازدهار التجارة في عصر الرومان؟

- 1- امتلاكهم اسطولاً تجارياً كبيراً.
- 2- سيطروا على طرق التجارة في البحر المتوسط.
- 3- صدروا زيت الزيتون ويستوردون الحبوب.
- 4- علاقاتهم التجارية بالشرق وخاصة الهند.

11 - وضح تطور التشريع والقوانين عند الرومان قديماً؟

- 1- قوانين الألواح الأثني عشر (العهد الجمهوري)
- 2- قوانين الألواح الأثني عشر (العهد الإمبراطوري)
- 3- مجموعة جستنيان القانونية).

12 - وضح أهم ملامح العصر الجمهوري بالحضارة الرومانية.

- 1 - توسعت روما واحتلت جيوشها المدن اليونانية.
- 2 - خاضت روما حروباً طويلة مع مدينة قرطاج في شمال إفريقيا.
- 3 - من أهم قادة فترة العصر الجمهوري يوليوس قيصر.
- 4 - انتهى العصر الجمهوري نتيجة للاضطرابات السياسية وبدأ العصر الإمبراطوري.

13 - ما أهم الصناعات عند الرومان قديماً؟

- 1- الأسلحة 2- الذهب والفضة. 3 - العملة. 4- المجوهرات.

14 - وضح أهم ملامح العصر الإمبراطوري بالحضارة الرومانية.

- 1- سيطر أوكتا فيوس على الحكم
2- نقل قسطنطين العاصمة إلى القسطنطينية.
3- انهيار الجزء الغربي على يد الجيرمان.
4- انهيار الجزء الشرقي على يد الفتح العثماني (محمد الفاتح 1453 م).

15- عدد عوامل قيام الحضارة الرومانية؟

- 1 - الموقع الجغرافي. 2- المناخ المعتدل.
3 - الموارد الطبيعية. 4 - التضاريس.

16 - اختيار قسطنطين موقع بيزنطة لتكون عاصمته الجديدة

- 1- ضعف مدينة روما.
2- وبعدها عن حدود الإمبراطورية.
3- الأهمية الاستراتيجية لموقع القسطنطينية

17 - قارن بين الإمبراطورية الشرقية والغربية من حيث العاصمة وأسباب السقوط

الإمبراطورية الرومانية الغربية	الإمبراطورية الرومانية الشرقية	أوجه المقارنة
روما	القسطنطينية	العاصمة
هجوم القبائل الجيرمان 476 م	الفتح العثماني 1453 م	أسباب السقوط

18 - قارن بين دور مجلس الشيوخ في العصر الجمهوري والإمبراطوري

العصر الإمبراطوري	العصر الجمهوري
سلطة شكلية	يُصدق على قرارات القنصلين

الوحدة الثالثة: (درس 2) والوحدة السادسة: (درس 1): **المواطنة**

أولاً: اختر الإجابة الصحيحة للعبارات التالية:

1- تم الاستفتاء على الدستور في دولة قطر عام:

2004

2003

2002

2001

2- ساعد على حرية الرأي والتعبير في دولة قطر

إنشاء مجلس الوزراء

إلغاء الرقابة على وسائل الاعلام

إنشاء الديوان الأميري

3- عدد أعضاء المجلس البلدي المركزي :

49

39

29

19

4- يتولى مجلس الشورى الرقابة على السلطة:

الصحافية

القضائية

التشريعية

لتنفيذية

5- يكون الشعب مصدر السلطات في الديمقراطية ”:

التمثيلية

المباشرة

شبه المباشرة

غير مباشرة

6- احترام الأديان السماوية من صور التسامح :

السياسي

الثقافي

الديني

الاجتماعي

7- من صور التسامح الاجتماعي

حرية ممارسة الشعائر الدينية

الابتعاد عن التعصب الفكري

لابتعاد عن العنف

8- عدم تشدد الدول في علاقتها مع بعضها من صور التسامح:

السياسي

الثقافي

الديني

الاجتماعي

ثانياً أجب عن الأسئلة التالية:

1- عدد مظاهر الديمقراطية في دولة قطر.

2 - إصدار الدستور الدائم 2004م.

1 - الاستفتاء على الدستور 2003م.

4 - مجلس الشورى.

3 - إلغاء الرقابة على وسائل الإعلام.

5 - انتخابات المجلس البلدي المركزي.

2 - اذكر أهم أشكال الديمقراطية.

1 - الديمقراطية المباشرة 2 - غير مباشرة 3 - شبه المباشرة

3 - ما أهمية الدستور الدائم لدولة قطر؟

- 1 - تحقيق أهداف دولة قطر في استكمال الحكم الديمقراطي.
- 2 - يرسى الدعائم الأساسية للمجتمع ويجسد المشاركة الشعبية في اتخاذ القرارات.
- 3 - يضمن الحقوق والحريات لأبناء الوطن.

4 - اذكر مهام مجلس الشورى.

- 1- يتولى سلطة التشريع.
- 2 - يمارس الرقابة على السلطة التنفيذية.
- 2 - يقر الموازنة العامة.

5 - حدد أوجه الاختلاف بين : الديمقراطية المباشرة وغير المباشرة.

الديمقراطية غير المباشرة	الديمقراطية المباشرة	العنصر
يُصوت الشعب على اختيار أعضاء الحكومة مثل انتخابات المجلس البلدي	يُصوت الشعب على قرارات الحكومة مثل المصادقة على القوانين أو رفضها	وجه الاختلاف

6 - وضع أثر التسامح على المجتمع؟

- 1 - تحقيق الأمن والاستقرار واختفاء الجريمة.
- 2 - تحقيق التنمية الاجتماعية والسياسية في المجتمع.
- 3 - تعزيز روح الإخاء بين أفراد المجتمع.
- 4 - نشر المحبة بين أفراد المجتمع.

7 - يؤدي التسامح إلى تحقيق العيش المشترك.

- 1 - عدم التعدي على حقوق الآخرين.
- 2 - التمتع بالحقوق والحريات الشخصية.
- 3 - يجسد القدرة على التنوع والعيش مع الآخرين.
- 4 - يشكل الدعامة الأساسية للديمقراطية وحقوق الانسان.

8 - اذكر أهم أشكال التسامح.

- 1 - الفكري والثقافي.
- 2 - السياسي
- 3 - الاجتماعي.
- 4 - الديني

9 - اذكر مثالا لكل مما يلي.

أ - التسامح الفكري.

- 1 - احترام آراء الآخرين
- 2 - احترام أفكار الآخرين
- 3 - الابتعاد عن التعصب الفكري.

ب - التسامح الاجتماعي.

- 1 - العيش بسلام.
- 2 - الابتعاد عن العنف.
- 3 - نبذ التمييز العنصري.

10 - عبر عن رأيك في المقولة التالية مدعماً بالأمثلة "احترام مبدأ وتعدد وجهات

النظر يساهم بشكل كبير في تعميق قيمة التسامح".

- 1- ينبغي تقبل جميع الآراء والاختلافات والتحاور.
- 2 - استخدام الأسلوب اللين والكلمة الطيبة لا بأسلوب الصياح ورفع الصوت.
- 3- كلما كان المجتمع أكثر استعدادا للتعايش والانسجام والتقارب والتناغم، كلما كان المجتمع أكثر تطورا وتقدما واستقرارا.

الزعيم في الدراسات الاجتماعية الصف: التاسع نهاية الفصل الاول / شرح كامل / اسئلة وفق النتائج التعليمية / اجوبة نموذجية / توقعات للأشكال والخرائط / اسئلة اثرائية متميزة / خبراء متخصصون في المجال / أسأل زملائك السابقين عن الزعيم في الدراسات الاجتماعية ليلة الاختبار خير رفيق & والحصول على أعلى الدرجات \$\$\$ // DR - H



مع أطيب الأمنى وأرق تحياتي

DR - H

DR- HANDY DEWIB

السجيمون



