



المدرسة: الخور الإعدادية للبنات

اختبر نفسك

نهاية الفصل الدراسي الأول

العام الدراسي (2021-2022)م

المادة: الدراسات الاجتماعية

الصف: السابع

الوحدة الأولى - جغرافيا ((الأرض من حولي))

أجب عن أسئلة الدرس الأول ((عناصر المناخ والعوامل المؤثرة فيه)) صفحة 12-30

1- اختر الإجابة الصحيحة بين البدائل التالية :

1

2- أكبر المناطق الحرارية على سطح الأرض امتدادا المنطقة:

أ- الباردة

ب- الحارة

ج- المعتدلة الدافئة

د- المعتدلة الباردة

3- يرتفع الضغط الجوي عند المنطقة القطبية بسبب

أ- انخفاض درجة الحرارة

ب- هبوب الرياح القطبية

ج- زيادة نسبة الرطوبة

3-يرتفع الضغط الجوي عند المنطقة القطبية بسبب

د-ارتفاع درجة الحرارة

4-الرياح المحلية التي تهب على دولة قطر هي :

أ-الكوس

ب-السموم

ج-الطوز

د-المسترال

5-تنخفض درجة الحرارة درجة واحدة مئوية كلما ارتفعنا عن سطح الأرض بمقدار:

أ-120 متراً

ب-130 متراً

ج-140 متراً

د-150 متراً

6-تعرف حركة المياه السطحية في المحيطات في اتجاهات ثابتة بـ:

أ-الرياح

ب-ظل لمطر

ج-المناخ

د-التيارات البحرية

7-ينتج عن مرور التيارات البحرية الدافئة بجوار سواحل القارات:

أ-قلة التبخر

ب-زيادة التبخر

ج-انخفاض درجة الحرارة

د-ارتفاع درجة الحرارة

8-تعتدل درجات الحرارة في المناطق ذات الغطاء النباتي الكثيف مثل :

أ-قطر

ب-ليبيا

ج-السعودية

د-إندونيسيا

2- اجب عن الأسئلة التالية:

1-بم تفسر: اختلاف درجة الحرارة من منطقة لأخرى على سطح الأرض

1-

2- اختلاف مناطق الضغط الجوي على سطح الأرض

1-

2-

3- وجود علاقة بين درجة الحرارة والضغط الجوي.

.....

4- هبوب الرياح الموسمية.

5- الأشعة العمودية أكثر حرارة من الأشعة المائلة.

6- انخفاض الضغط الجوي فوق المرتفعات.

7- الصحاري الحارة أكثر تأثراً بأشعة الشمس من المناطق الاستوائية

8- عدد أنواع الرياح الدائمة .

9- ما الفرق بين الرياح الموسمية الصيفية والشتوية ؟

10 - ماذا يترتب على:

1- مرور التيارات البحرية الباردة بجوار السواحل؟

2- كثافة الغطاء النباتي في حوض الأمازون في البرازيل ؟

11- عدد عناصر المناخ:

12- عدد العوامل المؤثرة في المناخ :

13- عدد مظاهر التكاثف .

14- عرف المصطلحات التالية .

1- الإشعاع الشمسي :

2- التساقط :

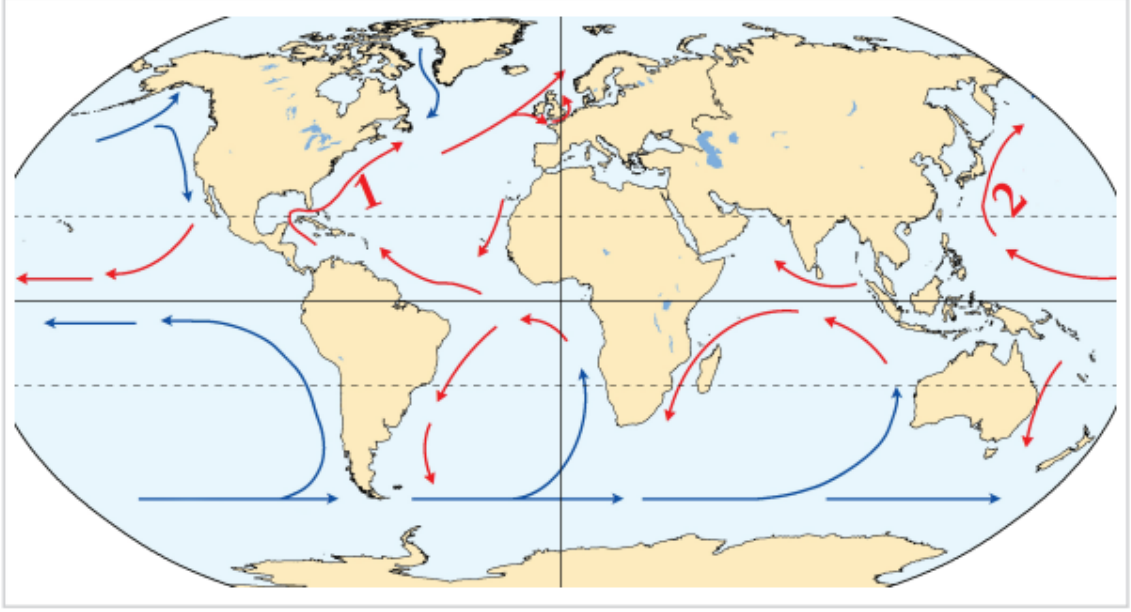
.....
3- الرطوبة .

.....
4- الرياح الموسمية .

.....
5- الرياح المحلية

.....
15- وضح أثر توزيع اليابس والماء على المناخ.

اكتب البيانات الناقصة للتيارات البحرية على الخريطة.



1 - تيار.

.....

2 - تيار.

.....

الوحدة الأولى - جغرافيا ((الأرض من حولي))

أجب عن أسئلة الدرس الأول ((الأقاليم المناخية)) صفحة 32-39

1- اختر الإجابة الصحيحة بين البدائل التالية

1- أي الأقاليم التالية تتميز بصيف حار وجاف، وشتاء دافئ وممطر؟ :

1- القطبي

2- الصيني

3- اللورانس

4- البحر المتوسط

2- إقليم مناخي يمتد بين دائرتي عرض " 0 و 8 شمالا وجنوبا:

1- الصيني

2- المداري

3- الاستوائي

4- الصحراوي

3- من أوجه التشابه بين الإقليم الصيني وإقليم البحر المتوسط أن كليهما:

1- يمتد في شرق القارات

2- ترتفع فيه الحرارة طول العام

3- تسقط فيه الأمطار طوال العام

4- يقع بين دائرتي عرض 30-40

4- توجد دولة قطر ضمن إقليم المناخ :

4-توجد دولة قطر ضمن إقليم المناخ :

1-المداري

2-الصيني

3-اللورانسوي

4-الصحراوي

5-إقليم مناخي يتميز بارتفاع درجة الحرارة صيفا وانخفاضها شتاء وندرة الأمطار:

1-القاري

2-المداري

3-الصيني

4-الصحراوي

2-اجب عن الأسئلة التالية:

1 - عرف مفهوم الإقليم المناخي

.....
.....

3- ما الخصائص المشتركة بين كل من :

1 - الإقليم الاستوائي والمداري ؟

.....

2-الإقليم اللورانسوي وغرب القارات

.....

3-الإقليم القاري والقطبي

3- قارن بين الإقليم الاستوائي والاقليم الصحراوي من حيث الموقع الفلكي والحرارة والأمطار

الإقليم الصحراوي	الإقليم الاستوائي	وجه المقارنة
		الموقع الفلكي
		الحرارة والا مطار

4- قارن بين الإقليم الصيني وإقليم البحر المتوسط من حيث الموقع الفلكي والحرارة والأمطار

الإقليم البحر المتوسط	الإقليم الصيني	وجه المقارنة
		الموقع الفلكي
		الحرارة والا مطار

5- قارن بين الإقليم اللوراسي وإقليم غرب أوروبا من حيث الموقع الفلكي والحرارة والأمطار

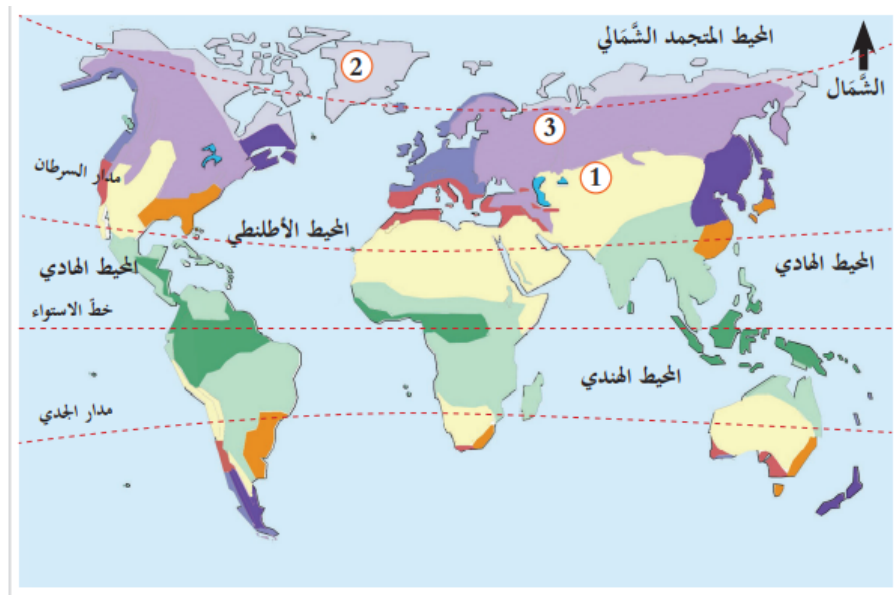
وجه المقارنة	الإقليم اللوراسي	إقليم غرب أوروبا
الموقع الفلكي		
الحرارة والا مطار		

6- أكتب مدلول الأرقام الموجودة على خريطة الأقاليم المناخية :

1-.....

2-.....

3-.....



السؤال الثاني: الوحدة الثانية: تاريخ ((حضارات بلاد الرافدين))

أجب عن أسئلة الدرس الأول ((نشأة الحضارة اليونانية)) صفحة 44-54

1- اختر الإجابة الصحيحة من بين البدائل التالية :

1-أول الشعوب التي سكنت بلاد الرافدين:

أ-البابليون.

ب-الأكاديون.

ج-الأشوريون.

د-السومريون

2- ثبت دعائم دولته على ركائز متينة من خلال التشريعات والقوانين:

أ-سرجون الأول.

ب-أشور بانيبال.

ج-حمورابي.

د-نبوخذ نصر.

2-اجب عن الأسئلة التالية:

1- ما المقصود ببلاد الرافدين؟

.....

.....

2-اذكر ثلاث شخصيات مؤثرة في تاريخ بلاد الرافدين؟

1-

2-

3-

3-اذكر عوامل قيام حضارة بلاد الرافدين؟

أ-

ب-

ج-

فسر ما يأتي:

1- تمكن سرجون الأول من بسط سيطرته على المدن السومرية .

أ-

ب-

2- انهيار الدولة البابلية الأولى .

أ-

ب-

3- سقوط الدولة الآشورية في نهاية القرن السابع قبل الميلاد على يد الكلدانيين .

أ-

ب-

ما النتائج المترتبة على :

1- سياسة العنف والقسوة التي اتبعتها الآشوريون في البلاد التي توسعوا فيها ؟

أ-

ب-

2- كثرة الثورات الداخلية في عهد الدولة البابلية الأولى ؟


أ-

ب-

3- عدد الحضارات التي قامت في بلاد الرافدين؟

.....
.....
.....

رتب حضارات بلاد الرافدين حسب تسلسلها الزمني الصحيح من الاقدم إلى الاحدث:



الوحدة الثانية: تاريخ ((حضارات بلاد الرافدين))

أجب عن أسئلة الدرس الأول ((مظاهر حضارات بلاد الرافدين)) صفحة 56-63

1- اختر الإجابة الصحيحة من بين البدائل التالية :

1- سجل سكان بلاد الرافدين الوثائق الرسمية والعقود على ألواح :

أ- خشبية .

ب- طينية .

ج- زجاجية .

د- معدنية .

2- من مميزات الحياة الدينية عند سكان بلاد الرافدين :

1- تعدد المعبودات .

2- الإيمان بإله واحد

3- الإيمان باليوم الآخر .

4- الاعتقاد بعدم وجود حياة بعد الموت .

3-تعد من روائع حضارة بلاد الرافدين في مجال النحت :

- 1-برج بابل .
- 2-حدائق بابل .
- 3-الثور المجنح .
- 4-قصر خورسباد

2-تمثلت الطبقة في مجتمع بلاد الرافدين من :

- أ-الملك والكهنة .
- ب-العمال والفلاحين .
- ج-أسرى الحروب والعبيد .
- د-ملاك الأراضي وكبار التجار .

بم تفسر :

أ- ازدهار الزراعة في حضارة بلاد الرافدين .

.....

ب-.....

ب- تنوع المنتجات الصناعية في حضارة بلاد الرافدين .

.....

ب-.....

د- نمو الحركة التجارية في حضارة بلاد الرافدين .

.....

ب-.....

أجب عما يأتي :

أ- ما النتائج المترتبة على اختراع الكتابة المسمارية ؟
..... أ-

..... ب-

ب- اذكر أهم القوانين التي عرفتها بلاد الرافدين ؟
..... أ-

..... ب-

ج- عدد طبقات المجتمع في بلاد الرافدين ؟

..... أ-

..... ب-

..... ج-

الوحدة الثالثة - مواطنة ((السلطات الدستورية))

**الدرس الأول: السلطة التشريعية والتنفيذية في دولة قطر(صفحة 68-76) مطلوب

الدرس الثاني: السلطة القضائية **صفحة 78-85 اثرائي غير داخل في الاختبار**

1- يتولى أمير البلاد السلطة التنفيذية ويعاونه :

1-مجلس الوزراء

2-مجلس الشورى

3-المجلس القضائي

4-المجلس البلدي

2-يعتبر مجلس الشورى ممثلاً للسلطة :

1-الإعلامية

2-التنفيذية

3-القضائية

4-التشريعية

3-تتولى الرقابة على أعمال السلطة التنفيذية :

أ-المجلس الوزراء

ب-المجلس البلدي.

ج- السلطة التشريعية

د-السلطة القضائية .

أجب عن الأسئلة التالية :-

أذكر ثلاثة من اختصاصات مجلس الوزراء ؟

أ-

ب-

اذكر اختصاصات السلطة التشريعية في دولة قطر ؟

أ-

ب-

ج-

حدد الدستور القطري كل ما يتعلق بالسلطة التنفيذية :

1- من الذي يتولى السلطة التنفيذية في دولة قطر ؟ وبمعاونة من ؟

أ-

ب-

2- اذكر اختصاصات أمير البلاد .

أ-

ب-

(انتهت الأسئلة)

الوحدة الرابعة - الجغرافيا ((التوزيع الجغرافي للسكان))

**الدرس الأول: العوامل الطبيعية المؤثرة في التوزيع الجغرافي للسكان (صفحة 90-98)

1- اختر الإجابة الصحيحة من بين البدائل التالية :

1- تعد من أمثلة مناطق تركيز السكان في العالم :

أ- الصحاري الحارة

ب- السهول الفيضية

ج- الغابات الاستوائية

د- الصحاري الجليدية

2- تعد من أمثلة مناطق تركيز السكان في العالم :

أ- الصحاري الحارة

ب- السهول الفيضية

ج- الغابات الاستوائية

د- الصحاري الجليدية

3- تعد من العوامل الطبيعية المؤثرة في توزيع السكان :

أ- الزراعة

ب- التربة

ج- الأحداث السياسية

د- الثروات المعدنية

4- "هو وجود السكان بنسبة كبيرة في مناطق جغرافية معينة دون أخرى" يشير المفهوم إلى :

أ- التخلخل السكاني

ب- الكثافة السكانية

ج- أنماط السكان

د- التركيز السكاني

5- "قلة أو ندرة وجود السكان في مناطق جغرافية معينة" يشير المفهوم إلى :

أ- التخلخل السكاني

ب- الكثافة السكانية

ج- أنماط السكان

د- التركيز السكاني

بم تفسر :

1- تركز السكان في مناطق السهول الفيضية

أ-

ب-

2- تعد السهول من أفضل وأنسب أنواع السطح للتركز البشري .

أ-

ب-

3- تضم الأقاليم المناخية المعتدلة نصف سكان العالم .

أ-

ب-

4- يقل التركيز السكاني في المناطق الجبلية .

أ-

ب-

ج-

5- تتوافق خريطة توزيع السكان وكثافتهم بشكل كبير مع خريطة توزيع الامطار .

أ-

ب-

4- انخفاض الكثافة السكانية في حوض الامازون .

.....

5- تركيز السكان في المدن والعواصم .

.....

6-تركز السكان في السهول الساحلية .

7- التخلخل السكاني في مناطق الصحاري الجليدية .

عرف المصطلحات التالية :

1- ما المقصود بالتركز السكاني .

2- ما المقصود بالتخلخل السكاني

أجب عما يأتي :

1- "ليست جميع المناطق المرتفعة طاردة للسكان" دلل على صحة العبارة .

أ-

ب-

2- "للمناخ تأثير غير مباشر على توزيع السكان" دلل على صحة العبارة .

أ-

ب-

3- "ليست جميع المناطق المرتفعة طاردة للسكان" دلل على صحة العبارة .

أ-

ب-

ج-

4- اذكر أهم مناطق تركيز السكان في العالم .

أ-

ب-

ج-

د-

ما النتائج المترتبة على:

1- ظهور النفط في منطقة الخليج العربي

.....
.....

2->> للترربة دورها المؤثر في توزيع السكان في العالم << وضح ذلك

.....
.....

4- عدد العوامل الطبيعية المؤثرة في توزيع السكان .

أ-

ب-

ج-

د-

الوحدة الرابعة - الجغرافيا ((التوزيع الجغرافي للسكان))

**الدرس الثانية: العوامل البشرية المؤثرة في التوزيع الجغرافي للسكان (صفحة 100-107)

1- اختر الإجابة الصحيحة من بين البدائل التالية :

- 1- تعد من
أ-معدلات
ب-النشاط
ج-مصادر
د-التربة
- 3- تعد من العوامل البشرية المؤثرة في توزيع السكان :
- أ-المناخ
ب-التضاريس
ج-الثروات المعدنية
د-النقل والمواصلات

2-تعد من المدن الصناعية التي تركزا سكانيا بدولة قطر مدينة :

- أ-مسيعيد
ب- الشمال
ج-الشحانية
د-أم صلال محمد

3-الحرفة التي لا تحتاج لأعداد كبيرة من السكان :

- أ-الزراعة
ب-التجارة
ج-الصناعة
د-الرعي

بم تفسر:

1- الهجرة القسرية للسكان .

2- تجتذب الزراعة أعداد قليلة من الأيدي العاملة في دول العالم المتقدم .

3- تركز السكان في غرب أوروبا .

أجب عما يأتي:

1- "تأثير المواصلات على التركيز السكاني "دل على صحة العبارة .

2- "تأثير النشاط الاقتصادي على التركيز السكاني "دل على صحة العبارة .

4- عدد العوامل البشرية المؤثرة في التوزيع الجغرافي للسكان .

- أ-
- ب-
- ج-

ما النتائج المترتبة على:

1- الاحتلال الإسرائيلي لأرض فلسطين (سكانيا).

-
-

2- استخدام الآلات الزراعية بالدول المتقدمة .

-
-

الوحدة الخامسة - التاريخ ((الخلافة العباسية))

**الدرس الأول : الدولة العباسية (نشأتها-خلفائها) (صفحة 112-120)

1- اختر الإجابة الصحيحة من بين البدائل التالية :

- 1-أول خلافة
أ-الأميين
ب-أبو العباس
ج-المأمون
د-المعتصم
- 3-تعد من العوامل البشرية المؤثرة في توزيع السكان :
- أ-المناخ
ب-التضاريس
ج-الثروات المعدنية
د-النقل والمواصلات

2-وصف بأنه لو لم يكن خليفة لكان عالما :

- أ-أبو جعفر المنصور
ب- هارون الرشيد
ج-المأمون
د-المعتصم بالله

3-أنشأ الخليفة المعتصم بالله مدينة :

- أ-بغداد
ب-سر من رأى
ج-خراسان
د-دمشق

بم تفسر:

1- يطلق على العصر العباسي الأول اسم عصر القوة .

.....

2- يعد أبو جعفر المنصور المؤسس الحقيقي للدولة العباسية .

.....

3- اشتهر عصر المأمون بالنهضة العلمية والثقافية .

.....

4- نجح العباسيين في إسقاط الدولة الاموية .

.....

أجب عما يأتي:

1- عدد أعمال الخليفة المعتصم بالله .

أ-.....

ب-.....

2- اذكر أعمال الخليفة هارون الرشيد .

أ-.....

ب-.....

4- عدد أعمال الخليفة المأمون .

- أ-
- ب-
- ج-
- د-

5- اذكر أعمال الخليفة أبو جعفر المنصور .

- أ-
- ب-
- ج-
- د-

ما النتائج المترتبة على:

1- معركة الزاب الكبير سنة 132 هـ .

-
-

2- إنشاء الخليفة أبو جعفر المنصور جهازا إداريا محكما .

-

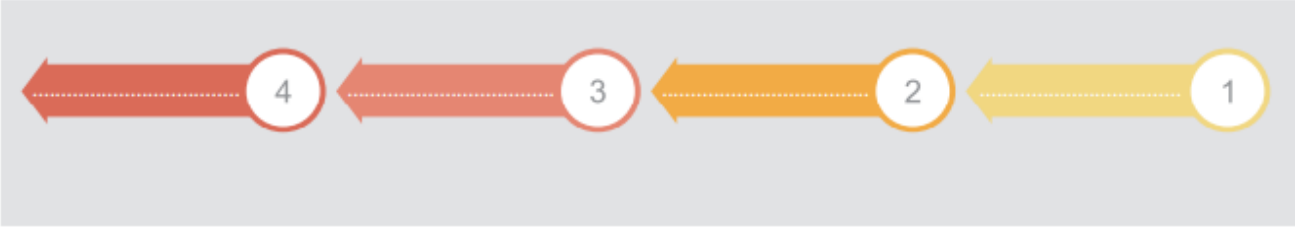
دل على صحة العبارة:

1- تشجيع الخليفة هارون الرشيد الحركة العلمية والأدبية .

2- تشجيع الخليفة المأمون لحركة الترجمة من الكتب الأجنبية إلى العربية .

رتب خلفاء الدولة العباسية من الأقدم إلى الأحدث .

(هارون الرشيد-المعتصم بالله -أبو جعفر المنصور -المأمون)



الوحدة الخامسة -التاريخ ((الخلافة العباسية))

**الدرس الثاني : الدولة العباسية (فتوحاتها-نهايتها) (صفحة 122-131)

1-اختر الإجابة الصحيحة من بين البدائل التالية :

1-تعد من

3-تعد من العوامل البشرية المؤثرة في توزيع السكان :

أ-وحدة ال

أ-المناخ

ب-ترايد ا

ب-التضاريس

ج-الاهتما

ج-الثروات المعدنية

د-وجود خ

د-النقل والمواصلات

2-بدأ منصب الخلافة العباسية يضعف مع وفاة الخليفة :

أ-المعتصم بالله

ب-الواثق

ج-المأمون

د-أبو جعفر المنصور

3-سقطت الدولة العباسية على يد :

أ-المغول

ب-الصليبيين

ج-السلجقة

د-الفاطميين

4- فتحت عمورية عم 223 ه على يد الخليفة :

أ-المأمون

ب-الواثق بالله

ج-أبو العباس

د-المعتصم بالله

بم تفسر:

1-انقسام أراضي الدولة العباسية إلى عدد من الدويلات المستقلة .

2-تردي الأوضاع الاقتصادية والاجتماعية في عصر الدولة العباسية الثاني .

3-ظهور قوى وأخطار خارجية هددت الدولة العباسية في عصرها الثاني .

أجب عما يأتي:

1-ما العلاقة بين تراجع النشاط العسكري وسقوط الدولة العباسية .

أ-.....

ب-.....

2- ماذا ترتب على عوامل الفرقة والانقسام داخل الدولة العباسية .

أ-.....

ب-.....

4- عدد أسباب سقوط الدولة العباسية .

- أ-
- ب-
- ج-
- د-
- هـ-

5- ما أهم الإجراءات التي اتخذها العباسيون لحماية دولتهم .

- أ-
- ب-

6- عدد مظاهر ضعف الدولة العباسية .

- أ-
- ب-

ما النتائج المترتبة على:

1- انغماس الخلفاء خلال العصر العباسي الثاني في حياة الترف والملذات .

-
-

قارن بين العصر العباسي الأول والعصر العباسي الثاني من حيث المدة الزمنية
وسمات كل عصر:

العصر العباسي الثاني	العصر العباسي الأ ول	وجه المقارنة
.....	المدة الزمنية
.....	سمات كل عصر

الوحدة السادسة - المواطنة ((الأمن الوطني))

**الدرس الأول : الأمن الوطني وأبعاده (صفحة 136-143)

1- اختر الإجابة الصحيحة من بين البدائل التالية :

- 1- "قدرة أ
إلى :
أ- الأمن الع
ب- الأمن ا
ج- الأمن ا
د- الأمن ال
- 3- تعد من العوامل البشرية المؤثرة في توزيع السكان :
- أ- المناخ
ب- التضاريس
ج- الثروات المعدنية
د- النقل والمواصلات
- 2- يعبر الهدف <<تحقيق الاستغلال الأمثل للموارد >> عن الأمن :
- أ- السياسي
ب- الاقتصادي
ج- العسكري
د- الاجتماعي
- 3- تعد من اهداف الأمن العسكري :
- أ- تعزيز قدرة الدولة الدفاعية
ب- تحقيق الاكتفاء الذاتي
ج- إيجاد أسواق متعددة
د- الحماية من عوامل الفوضى

عرف ما المقصود بالأمن الوطني :

.....

أجب عما يأتي :

1- <<يعتبر الأمن الاجتماعي من أبعاد الأمن الوطني>> وضح العبارة

.....

.....

2- وضح العلاقة بين الأمن السياسي والأمن العسكري .

.....

.....

3- عدد أبعاد الأمن الوطني .

أ-

ب-

ج-

د-

4- اذكر أهداف الأمن العسكري .

أ-

ب-

5- ما أهداف الأمن الاقتصادي .

أ-

ب-

ج-

6- اذكر أهداف الامن السياسي .

أ-

ب-

ج-

حدد أهداف كل بعد من أبعاد الأمن الوطني في الجدول التالي :

الأمن الاجتماعي	الأمن الاقتصادي	الأمن السياسي	الأمن العسكري	البعد
				الهدف

الوحدة السادسة - المواطنة ((الأمن الوطني))

**الدرس الثاني: مقومات الأمن الوطني (صفحة 154-146)

1- اختر الإجابة الصحيحة من بين البدائل التالية :

- 1- تعد من
- أ-المناخ
- ب-التضاريس
- ج-الثروات المعدنية
- د-النقل والمواصلات
- 3- تعد من العوامل البشرية المؤثرة في توزيع السكان :
- أ-الإدارة
- ب-الإدارة
- ج-إدارة
- د-القوات

2-الاستجابة السريعة من أجل مجتمع آمن من مهام :

- أ-إدارة شرطة النجدة
- ب-الإدارة العامة للمرور
- ج-الإدارة العامة لمكافحة المخدرات
- د-الإدارة العامة للدفاع المدني

أجب عما يلي :

1- عدد مقومات الأمن الوطني .

- أ-
- ب-
- ج-
- د-

2- عدد فروع القوات المسلحة القطرية .

- أ-
- ب-
- ج-
- د-

3- عدد إدارات وزارة الداخلية القطرية .

- أ-
- ب-
- ج-
- د-
- هـ-

4- اذكر مهام وزارة الدفاع القطرية .

أ-

ب-

5- وضح يعتبر ترسيخ الديمقراطية من مقومات الأمن الوطني .

.....

.....

6- ما دور المواطن في الحفاظ على الأمن الوطني .

أ-

ب-

ج-

د-

هـ-

هـ-

بم تفسر:

1- تطوير الأجهزة الأمنية أحد أهم مقومات الأمن الوطني .

.....

اذكر مهام إدارات وزارة الداخلية :

1- إدارة شرطة النجدة (الفرقة).

.....

2- الإدارة العامة للمرور.

.....

3- الإدارة العامة للدفاع المدني.

.....

4- الإدارة العامة لمكافحة المخدرات.

.....

5- الإدارة العامة لأمن السواحل والحدود.

.....