

الصف الثاني عشر

دولة قطر

الفصل الدراسي الاول

العام الدراسي 2020-2021

مادة الجغرافيا

اعداد / الأستاذ

M . G

40

الدرجة

تجريبي 2

1- في أي الطبقات تحدث التيارات النفاثة ؟

أ-الاكسوسفير

ب-الثرموسفير

ج-الميزوسفير

د-التربوسفير

2- تعد طبقة الستراتوسفير بيئة مثالية للملاحة الجوية بسبب:

أ-كثرة الغيوم

ب-قلة الغيوم

ج- قلة الغبار

د- الجاذبية الأرضية

3- " قطرات مائية تتشاهد في الصباح الباكر " يشير التعريف الي ؟

أ-البرد

ب-الندي

ج-الصفيع

د-الضباب

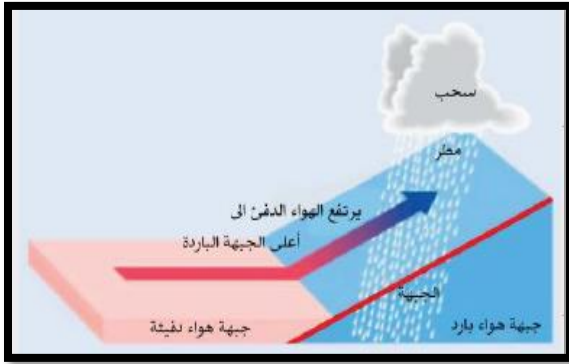
4- أي أنواع الامطار تظهر في الصورة التي امامك؟

أ-الجبلية

ب-الاعصارية

ج- التصاعدية

د-التضاريسية



5- أي المحيطات التالية يتميز بكثرة المياه العذبة المتجه نحوه ؟

أ-الهندي

ب -الاطلنطي

ج-الهادي

د-القطبي الشمالي

6- أي من الاتي المصدر الرئيسي الاملاح البحار و المحيطات ؟

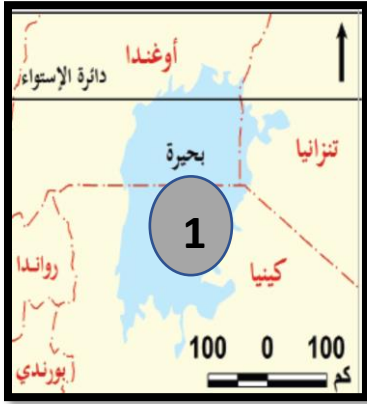
أ-القشرة الارضية

ب-المقذوفات البركانية

ج-الرصيف القاري

د-الملاحات الارضية

3



7-يشير الرقم (1) الي بحيرة ؟

أ-بايكال

ب-هورون

ج-انتاريو

د-فيكتوريا

8-"المساحة التي تضم جميع أجزاء النهر" يشير التعريف الي مفهوم ؟

أ-المنبع

ب-المصب

ج-الودي

د- الحوض

9-في أي الجزر التالية تمثل الغطاءات الجليدية في نصف الكرة الشمالي ؟

أ-الاسكا

ب-جرينلاند

ج-انتاركتيكا

د- لارسين

10-أي من الاتي يعد اكبر الأنهار الجليدية في العالم ؟

أ-لامبرت

ب-بيرنج

ج-بالتيورو

د-بيرتو مورينو

-11

أ-اجب عن الاتي

1-دلل علي جهود دولة قطر في الحفاظ علي طبقة الاوزون؟

أ-.....

ب-.....

ج-.....

2-عرف ما المقصود بالمياه الجوفية؟

.....

ب- اذكر شروط حدوث التكاثف؟

1-.....

2-.....

3-.....

ج- وضح أهمية التيارات البحرية؟

أ-.....

ب-.....

ج-.....

-12

أوضح أهمية مياه الأنهار ؟

أ-.....

ب-.....

ج-.....

د-.....

ب-وضح افضلية و مزايا المياه الجوفية ؟

أ-.....

ب-.....

ج-.....

ج-اجب عن الاتي:

1-بم تفسر... أهمية طبقة الايونوسفير في مجال الاعلام.

أ-.....

ب-.....

2-عرف ما المقصود بالبرد؟

.....

أقارن بين كلا من الندي و السحب من حيث الآتي (المكان – الأهمية)

المقارنة	الندي	السحب
المكان
الأهمية

ب-اجب عن الآتي :

1- بم تفسر... الأهمية الاقتصادية للرصيف القاري؟

- أ-.....
ب-.....

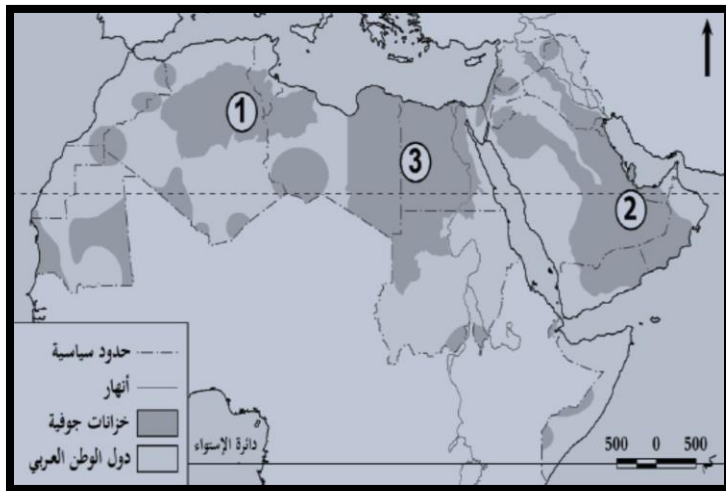
2- عدد العوامل المؤثرة في مياه النهر و طولها؟

- أ-.....
ب-.....

ج-اجب عن الآتي :

1- وضح مزايا نهر المسيسيبي؟

- أ-.....
ب-.....



2-- اكتب ما تدل عليه الأرقام ؟

- 1-حوض:.....
2-حوض:.....
3-حوض:.....