



## تدريبات إثرائية لمادة الدراسات الاجتماعية

نهاية الفصل الدراسي الأول 2020-2021 م

الصف العاشر

ملحوظة: هذه الملزمة لا تغني عن الكتاب  
المدرسي



أولاً الجغرافيا : الوحدة الاولى ( الخصائص الطبيعية لدولة قطر )  
الدرس الأول : الموقع وأشكال السطح ( أولاً : الموقع الفلكي )

السؤال الأول : أختاري الإجابة الصحيحة مما بين البدائل التالية :

1- تقع دولة قطر في منتصف ساحل الخليج العربي من الجهة :

أ- الغربية      ب- الشرقية      ج- الجنوبية      د- الشمالية

2- تمتد قطر فلكياً بين دائرتي عرض :

أ ( 24:27 ° و 26:10 ° شمالاً )      ب ( 24:27 و 26:10 جنوباً )

ج ( 25:27 و 26:10 جنوباً )      د ( 25:27 و 26:10 شمالاً )

3- تبلغ مساحة دولة قطر نحو :

أ- 10650 كم<sup>2</sup>      ب- 11610 كم<sup>2</sup>      ج- 12610 كم<sup>2</sup>      د- 13650 كم<sup>2</sup>

4- تتصل دولة قطر مع المملكة السعودية برياً من جهة :

أ- الشمال      ب- الجنوب      ج- الغرب      د- الشرق

السؤال الثاني : أجب على السؤال التالي :

- عدد أهمية الموقع الاستراتيجي لدولة قطر .

1- .....

1. سهولة الاتصال بشمال وجنوب الخليج العربي .

2- .....

2. الاستفادة من مفاصات اللؤلؤ وصيد الأسماك قديماً واستخراج

3- .....

النفط والغاز حديثاً .

3. أصبحت قطر معبر للعديد من السفن في الخليج

4. العربي



أولاً الجغرافيا : الوحدة الاولى ( الخصائص الطبيعية لدولة قطر )  
الدرس الأول : الموقع وأشكال السطح(ثانياً: التركيب الجيولوجي لدولة قطر )

السؤال الأول : اختر الإجابة الصحيحة من بين البدائل التالية :

1-ينتج عن الطيات المحدبة تكون :

أ- المنخفضات      ب- البحار      ج- المرتفعات      د- الخراسيع

2-تعد شبه جزيرة قطر طية محدبة ظهرت خلال الزمن الجيولوجي :

أ- الأول      ب- الثاني      ج- الثالث      د- الرابع

3-تكونت الدحول في الزمن الجيولوجي الرابع نتيجة إذابة الأمطار للصخور :

أ- الجرانيتية      ب- البازلتية      ج- الكربونية      د- الجيرية

4- يغلب على تركيب طبقات الأرض في دولة قطر الصخور :

أ- الجرانيتية      ب- البازلتية      ج- البركانية      د- الجيرية

5- من الطيات المقعرة في دولة قطر طية :

أ- دخان      ب- أبروق      ج- قطر      د- زكريت

السؤال الثاني : أجب عما يلي :

1-ما أهمية دراسة التركيب الجيولوجي لدولة قطر ؟

.....-1

1-معرفة مناطق تجمع النفط.

2- معرفة مناطق تجمع المياه الجوفية.

.....-2



أولاً الجغرافيا : الوحدة الاولى ( الخصائص الطبيعية لدولة قطر )

الدرس الأول : الموقع وأشكال السطح(أشكال سطح الأرض الصحراوية في دولة قطر )

السؤال الأول : اختر الإجابة الصحيحة من بين البدائل التالية :

1- يطلق على الأراضي التي يقل مستواها عن مستوى الأجزاء المحيطة بها اسم :

أ- المنخفضات      ب- الكتبان      ج- الطعوس      د- الفشوت

2- أرض منخفضة نسبيا عما يجاورها من أراض وتصلح للاستقرار البشري والزراعة (يشير التعريف السابق إلى :

أ- المنخفضات      ب- الروضات      ج- الكتبان      د- الدحول

3- يطلق على التجمعات الرملية التي تكونها الرياح اسم :

أ- الخراسيع      ب- الدحول      ج- الكتبان الرملية      د- الاوذية الجافة

4- من السبخات الداخلية في دولة قطر سبخة :

أ- الخور      ب- الخفوس      ج- العديد      د- مسيعيد

السؤال الثاني : أجب عما يلي :

1- اذكر العوامل التي ساعدت على تشكيل المنخفضات بدولة قطر .

1- ..... 1- وفرة الصخور الجيرية.      2- الأمطار الغزيرة. ....

2- ..... 3- الشقوق والفواصل في الحجر الجيري. ....

2- بم تفسر : صلاحية الروضات للاستقرار البشري والزراعة.

1- ..... 1- وفرة المياه الجوفية .      2- خصوبة التربة فيها. ....

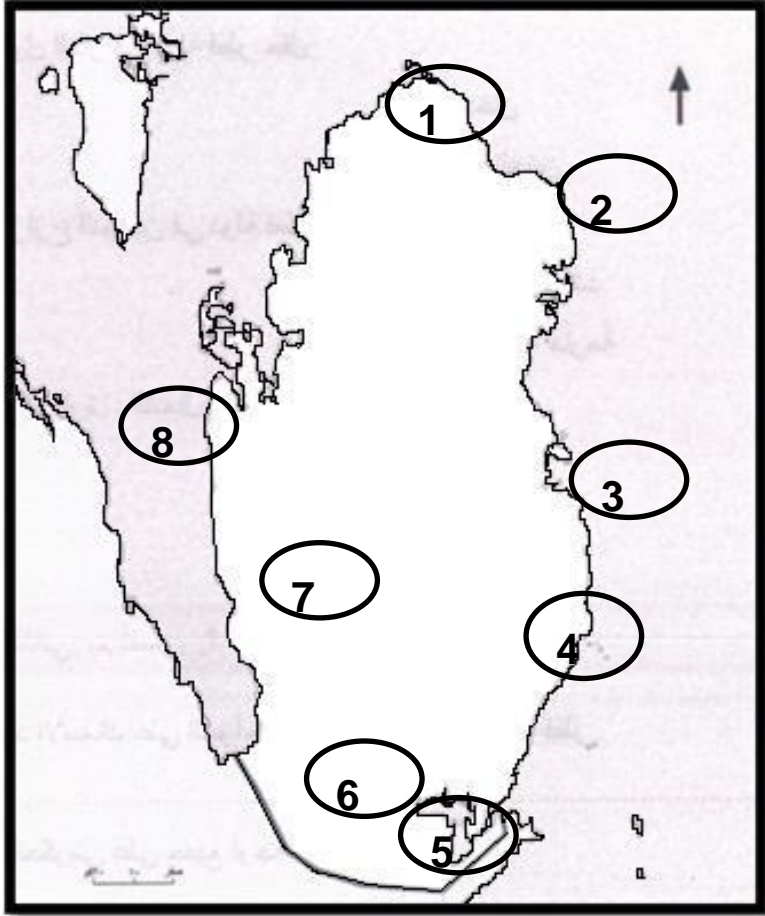
2- ..... ..



3- بم تفسر : انتهاء أغلب الأودية الجافة في دولة قطر إلى المنخفضات .

ج - بسبب قلة المياه المتدفقة

- أمامك خريطة لدولة قطر وضح ما تشير إليه الأرقام الآتية :



1- رأس : ركن

2- رأس : لفان ..

3- مدينة: الدوحة

4- فشت : العريف

5- خور.....العديد.

6- سبخة: ....الخفوس

7- تلال: ... دخان

8- رأس: ...دخان



أولاً الجغرافيا : الوحدة الاولى ( الخصائص الطبيعية لدولة قطر )

الدرس الأول : الموقع وأشكال السطح (أشكال سطح الأرض الساحلية في دولة قطر )

السؤال الأول : اختر الإجابة الصحيحة من بين البدائل التالية :

1- يطلق على الأرصفة والكتل المرجانية التي تنتشر أمام السواحل القطرية اسم :

أ- الفشوت      ب- الروضات      ج- الكثبان      د- الدحول

2- قطعة من اليابس تحيط بها المياه من جميع الجهات هي:

أ- الروضة      ب- الجزيرة      ج- الدوحة      د- الخليج

3- من أمثلة الرؤوس الأرضية على الساحل الشرقي لدولة قطر:

أ- رأس دخان      ب- رأس أبروق      ج- رأس أبو عبود      د- رأس ركن

السؤال الثاني : أجب عما يلي :

1- اذكر العوامل التي ساعدت تكون الفشوت بسواحل شبه جزيرة قطر .

1- ..... 1- ضحالة المياه.

2- ارتفاع حرارة المياه.

2- ..... 2- صفاء المياه وارتفاع ملوحتها 4- توافر الحياة البحرية العضوية لتكوين

3- ..... 3- المرجان.

2- أذكر أهمية الفشوت .

1- ..... 1- حماية الشواطئ من التآكل.

2- مصدر لصيد الأسماك.

3- مقصدا للسياحة.

4- يوجد في بعضها النفط والغاز الطبيعي.



### 3-قارن بين الرؤوس الأرضية والأخوار من حيث التعريف وأمثلة لكلاً منهما..

<u>الأخوار</u>	<u>الرؤوس الأرضية</u>	
عبارة عن ألسنة من مياه البحر تتوغل في اليابس من خلال فتحة ضيقة	امتداد لليابس داخل البحر	التعريف
خور الخور وخور العديد	رأس أبو عيود ورأس لفان شرق قطر	الأمثلة

### 4- قارن بين الخلجان و الدوحات من حيث التعريف وأمثلة لكل منهما..

<u>الدوحات</u>	<u>الخلجان</u>	
عبارة عن تداخل ساحل البحر في اليابس على شكل مقوس	هي ألسنة من مياه البحر أكثر إتساعاً من الأخوار	التعريف
دوحة الدوحة ودوحة أم الماء	خليج سلوى - زكريت	الأمثلة



أولاً الجغرافيا : الوحدة الاولى ( الخصائص الطبيعية لدولة قطر )  
الدرس الثاني : المناخ والحياة الفطرية وموارد المياه (المناخ في دولة قطر)

السؤال الأول : اختر الإجابة الصحيحة من بين الإجابات التالية :

1- وصف حالة الجو لفترة زمنية طويلة قد تكون فصلاً أو سنة..يشير التعريف السابق إلى :

أ- الطقس      ب- الرياح      ج- الاعصار      د- المناخ

2- تقع دولة قطر ضمن الأقليم المناخي:

ب- الاستوائي      ب- المداري      ج- الصحراوي      د- الصيني

3- يتصف مناخ دولة قطر بأنه مناخ:

ت- قاري      ب- جزري      ج- مداري      د- موسمي

4- تنخفض درجة الحرارة في دولة قطر لأدنى معدلاتها في شهر:

أ- يناير      ب- مارس      ج- ابريل      د- مايو

5- تنخفض درجة الحرارة في دولة قطر لأدنى معدلاتها بسبب تعامد الشمس على مدار:

أ- الجدي      ب- الاستواء      ج- السرطان      د- جرينتش

6- ترتفع درجة الحرارة في دولة قطر لأعلى معدلاتها بسبب تعامد الشمس على مدار:

أ- الجدي      ب- الاستواء      ج- السرطان      د- جرينتش

7- تتسبب المنخفضات الجوية القادمة من البحر المتوسط في سقوط الأمطار:

أ- الانقلابية      ب- الإعصارية      ج- التصاعدية      د- التضاريسية





-السؤال الثاني: أجب على الأسئلة التالية :

- عدد العوامل المؤثرة في مناخ دولة قطر.

- 1-...  
2-...  
3-...  
4-...  
1- الموقع الفلكي بالنسبة لدوائر العرض .  
2- الموقع الجغرافي والمؤثرات البحرية.  
3- التضاريس.

- محدودية تأثير الخليج العربي على مناخ دولة قطر.

- أ .....  
ب-.....  
1- صغر مساحته  
2- قلة عمقه

-بم تفسر - ترتفع درجة الحرارة في دولة قطر إل أعلى معدلاتها في شهر يوليو .

- أ-.....  
ب-.....  
1- تعامد الشمس على مدار السرطان  
2- انعدام مرور المنخفضات الجوية

-قارن بين الرياح العكسية والرياح المحلية في دولة قطر من حيث اتجاه الرياح وسقوط الأمطار.

الرياح المحلية	الرياح العكسية	
جنوبية شرقية	شمالية وشمالية غربية	اتجاه الرياح
حارة رطبة تثير الغبار	تسهم في سقوط الأمطار الشتوية	الأمطار

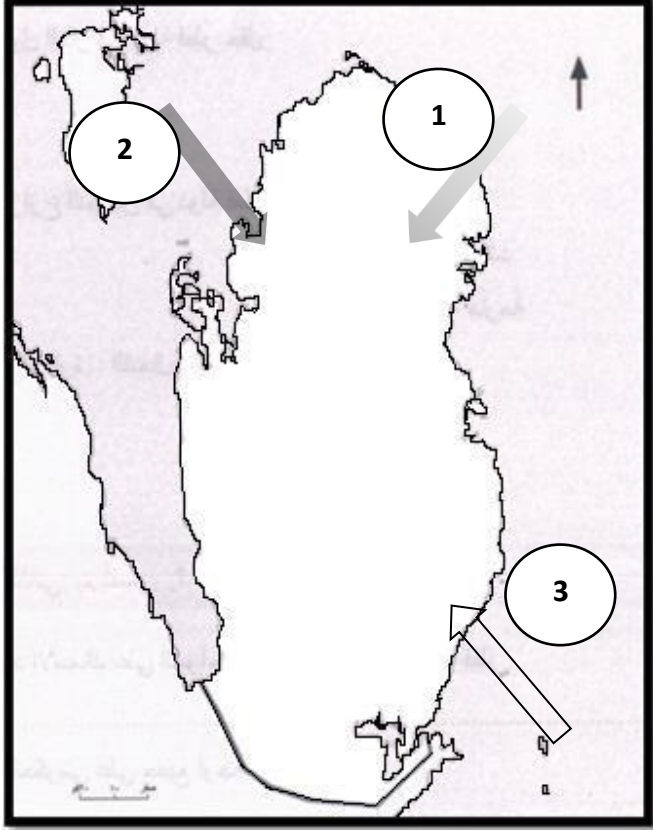
-اذكر أنواع الأمطار التي تسقط على دولة قطر.

- 1- أمطار إعصاريه  
2- أمطار العواصف الرعدية



.....-1

.....-2



- حدد الرياح التالية على خريطة دولة قطر :

1- الرياح التجارية

2- رياح العكسية

3- رياح الكوس



أولاً الجغرافيا : الوحدة الاولى ( الخصائص الطبيعية لدولة قطر )

الدرس الثاني : المناخ والحياة الفطرية وموارد المياه (الحياة الفطرية في دولة قطر)

السؤال الأول : اختر الإجابة الصحيحة من بين البدائل التالية :

1- من النباتات المعمرة بدولة قطر :

أ الكحل      ب- القريص      ج- السمر      د - اللبان

2- توجد نباتات تتحمل نسبة الملوحة في التربة القطرية مثل

أ- القرم      ب- السدر      ج- الرشا      د- الثمام

السؤال الثاني أجيب على الأسئلة التالية :

1- اذكر انواع النباتات الطبيعي التي تنمو في دولة قطر مع ذكر أمثلة

1- ...      1- النباتات الحولية (الموسمية) مثل: الكحل - القريص)

2- ...      2- النباتات المعمرة (الدائمة) مثل: السمر - السدر - الغضا)

2- ما أهمية النباتات الطبيعي في دولة قطر ؟

1- .....      1- علاج بعض الامراض      2- رعي الحيوانات

2- .....      3- يستعمل كوقود      4- مصدات للرياح

3- .....      5- تثبيت التربة ومنعها من الإنجراف

4- بم تفسر : أولت دولة قطر الحياة الفطرية أهمية بالغة .

1- إصدار قانون حماية البيئة .      2- إنشاء المحميات الطبيعية.



أولاً الجغرافيا : الوحدة الاولى ( الخصائص الطبيعية لدولة قطر )

الدرس الثاني : المناخ والحياة الفطرية وموارد المياه (موارد المياه في دولة قطر)

السؤال الأول : اختر الإجابة الصحيحة من بين البدائل التالية :

1-موارد المياه الجوفية غير المتجددة تكون في داخل الأرض على أبعاد

أ- بسيطة ب- سطحية ج- قريبة د- عميقة

2-ترتفع نسبة الملوحة والتكوينات الكبريتية بدولة قطر في حوض المياه الجوفي :

أ- الشمالي ب- الجنوبي ج- الشرقي د- الغربي

3-ساعد على سهولة الحركة وإقامة شبكات الطرق في شبه جزيرة قطر :

أ- الرؤوس الأرضية ب- وجود الدوحات ج- استواء السطح د- الكثبان الرملية

4-ساعد على انشاء محطات تحلية مياه البحر في شبه جزيرة قطر :

أ- الرؤوس الأرضية ب- وجود الدوحات ج- الأودية الجافة د- الكثبان الرملية

السؤال الثاني : أجب على الأسئلة التالية :

1- ما أهم مصادر الموارد المائية في دولة قطر ؟

.....-1

1-الأمطار. 2- المياه الجوفية.

.....-2

3- المياه المحلاة. 4- مياه الصرف الصحي المعالجة.

.....-3

.....-4



**2- تعرض أحواض المياه الجوفية بدولة قطر لعدة مشاكل .... أذكرها.**

- 1- انخفاض منسوبها. 2- ارتفاع ملوحتها 3- الاستنزاف الجائر  
4- اختلاطها بمياه البحر.

.....1  
..... 2  
.....3

**3- بم تفسر : اتجاه دولة قطر لتحلية مياه البحر .**

- 1- النمو السكاني السريع. 2- وفرة مصادر الطاقة.  
3- تنفيذ المشاريع العمرانية والصناعية الكبيرة

.....1  
.....2  
.....3

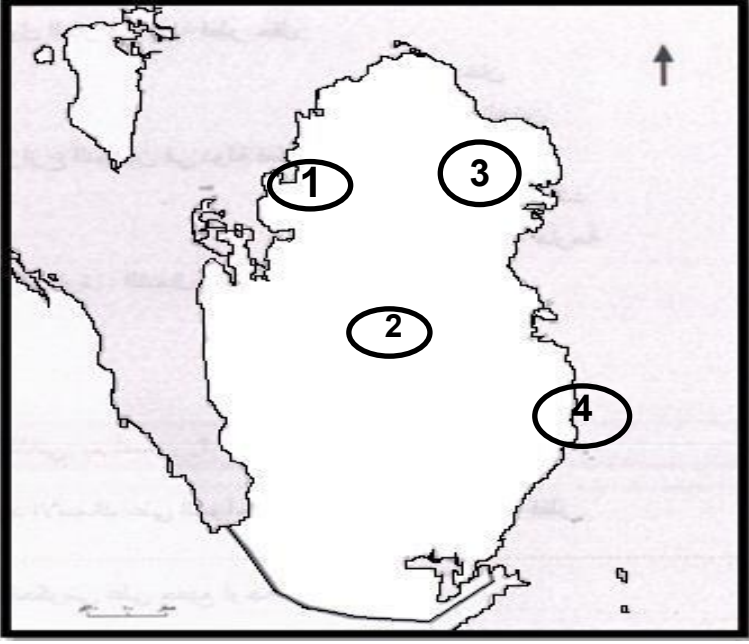
**4- عدد أهمية مياه الصرف الصحي المعالجة .**

- 1- ري الأراضي الزراعية والحدائق العامة. 2- تخفيف استهلاك  
المياه الجوفية.

.....1  
.....2  
.....3



4- أمامك خريطة لدولة قطر أكتب ما تشير إليه الأرقام :



1. -محمية .....الريم...
2. محمية .....الرفاع.....
3. -محطة تحلية .....راس لفان ..
4. محطة تحلية ...راس أبو فنتاس

- أذكر أهمية تنوع الخصائص الطبيعية بدولة قطر .

- 1-..... الرؤوس الأرضية المتعمقة في مياه البحر ساعدت على قيام المحطات المياة
- 2-..... أستواء السطح ساعد على سهولة الحركة وإقامة شبكات الطرق
- 3- وجود الدوحات أدى إلى إنشاء موانئ



## ثانياً التاريخ : الوحدة الثانية ( تاريخ قطر الحديث )

### الدرس الثاني: الشيخ جاسم بن محمد بن ثاني وتأسيس إمارة قطر

السؤال الأول : اختر الإجابة الصحيحة من بين البدائل التالية :

1- أول منطقة استقرت فيها قبيلة آل ثاني بعد دخول قطر هي :

أ- الزبارة      ب- الرويس      ج- الدوحة      د- العديد

2- أطلق لقب شيخ الدوحة عام 1863م على الشيخ :

أ- محمد بن ثاني      ب- جاسم بن محمد      ج- عبد الله بن جاسم      د- علي بن عبد الله

3- حدد الترتيب الصحيح لحكام أسرة آل ثاني من الأقدم للأحدث.

أ- الشيخ جاسم بن محمد - الشيخ محمد بن ثاني - الشيخ علي بن عبد الله

ب- الشيخ علي بن عبد الله - الشيخ جاسم بن محمد - الشيخ محمد بن ثاني

ث- الشيخ جاسم بن محمد - الشيخ علي بن عبد الله - الشيخ محمد بن ثاني

د- الشيخ محمد بن ثاني - الشيخ جاسم بن محمد - الشيخ علي بن عبد الله

4- أطلق على الشيخ محمد بن ثاني لقب:

أ- أمير البلاد      ب- رئيس القبائل      ج- شيخ الدوحة      د- الأمير الوالد

5- في عام 1871 م وصلت الى قطر الحامية:

أ- الفرنسية      ب- البريطانية      ج- الامريكية      د- العثمانية

6- حصلت دولة قطر على اعتراف بريطانيا بها كإمارة مستقلة عام :

أ- 1968م      ب- 1868م      ج- 1871م      د- 1835م

7- ولد الشيخ محمد بن ثاني في حدود عام 1776م في :

أ- فويرط      ب- الرويس      ج- الزبارة      د- زكريت



## السؤال الثاني : أجب عن الأسئلة التالية :

بم تفسر : تمتع الشيخ محمد بن ثاني باحترام القبائل القطرية ولقب بشيخ الدوحة- .

- .....-1  
.....-2
- 1- حكمته في حل المشاكل . 2- حماية ممتلكات القطريين

2- اذكر جهود الشيخ محمد بن ثاني في تأسيس إمارة قطر على المستوى الداخلي .

- .....-1  
.....-2
- 1- توحيد القبائل القطرية 2- توطيد مركز قطر على المستوى الدولي والإقليمي

3- عدد بنود اتفاقية 1868م بين الشيخ محمد بن ثاني وبين بريطانيا:

- .....-1  
.....-2  
.....-3
- 1- المحافظة على الأمن والسلام في البلاد  
2- المحافظة على السلام البحري  
3- إقامة علاقات طيبة مع شيوخ القبائل الأخرى والرجوع لبريطانيا لفض المنازعات التي قد تحدث بين شيوخ القبائل

4- كانت هناك نتائج هامة بعد توقيع قطر لمعاهدة 1868م مع بريطانيا . اذكرها.

- .....-1  
.....-2
- 1- دخلت قطر في معاهدة السلام البحري 1820م والهدنة البحرية 1835 م .  
2- ظهور قطر ككيان سياسي مستقل .

.....-3





## ثانياً التاريخ : الوحدة الثانية ( تاريخ قطر الحديث )

الدرس الثاني : الشيخ جاسم بن محمد بن ثاني وتأسيس إمارة قطر

### السؤال الأول : اختر الإجابة الصحيحة من بين البدائل التالية :

1-نشأ الشيخ جاسم بن محمد في مدينة:

- أ- فويرط      ب- الزبارة      ج- الدوحة      د- الرويس

2-تولى الشيخ جاسم بن محمد بن ثاني الحكم في قطر في 18 ديسمبر عام:

- ب- 1870 م      ب- 1874م      ج- 1878م      د- 1882م

3-من أسباب معركة الوجبة:

- ب- زيادة عدد الجنود الفرنسيين في الدوحة      أ- التدخل البريطاني في الزبارة  
د- محاولة تعيين وكيل عثمانى للشيخ جاسم      ج- فتح مكاتب للبريد في الرويس ودخان

4-بعد حدوث معركة الوجبة :

- أ- تدخلت بريطانيا لإقرار الصلح      ب- انسحب الوالي العثماني إلى الاحساء  
ج- ساعت علاقة السلطان العثماني بالشيخ جاسم      د- تم اعتقال الشيخ أحمد بن محمد ال ثاني

### السؤال الثاني : أجب عما يلي:

1 - ما الصعوبات التي واجهت الشيخ جاسم بن محمد بن ثاني منذ توليه الحكم في قطر ؟

- 1- قلة الموارد الطبيعية في قطر .      2- تعرض سواحل قطر للقراصنة البحرية.      .....-1  
.....-2  
3- زيادة الأطماع البريطانية للسيطرة على قطر.      .....-3



## 2- عدد أهم أعمال الشيخ جاسم بن محمد للنهوض بقطر على المستوى الداخلي.

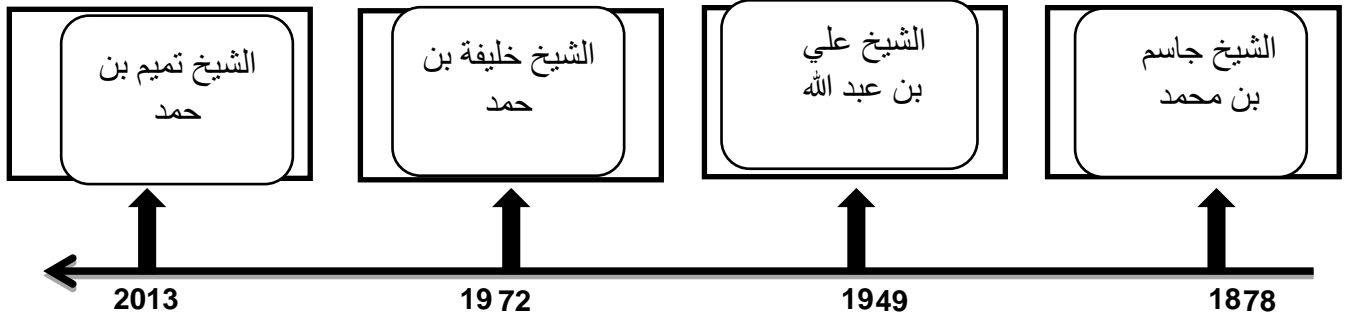
- 1- توحيد القبائل القطرية.
- 2- الاهتمام بالتعليم.
- 3- تعزيز تجارة اللؤلؤ في المنطقة.
- 4- وطد علاقة قطر مع المناطق المجاورة.

## 3- بم تفسر : ترحيب الشيخ جاسم بن محمد بن ثاني بالعثمانيين في قطر ؟

- 1- رغبته في توطيد جبهته الداخلية و حماية إمارته من عمليات السلب.
- 2- توفير الحماية لتجارة اللؤلؤ.
- 3- دعم قطر في مواجهة الضغوط البريطانية .

## 4- اكتب الترتيب الصحيح لحكام أسرة آل ثاني من الأقدم إلى الأحدث على الخط الزمني الذي أمامك.

الشيخ خليفة بن حمد - الشيخ تميم بن حمد - الشيخ علي بن عبد الله - الشيخ جاسم بن محمد



## 5- بم تفسر : حدوث معركة الوجبة 1893م بين العثمانيين والقطريين.

- 1- زيادة أعداد الحامية العثمانية في قطر.
- 2- فرض الضرائب الباهظة على تجارة اللؤلؤ.
- 3- فتح مكتبين للبريد في الزبارة والعديد.
- 4- محاولة تعيين وكيل عثماني للشيخ جاسم بن محمد.
- 5- اعتقال الشيخ أحمد بن محمد شقيق الشيخ جاسم.



## 6- ما النتائج المترتبة على : معركة الوجبة 1893م

- 1
  - 2
  - 3
  - 4
- 1- انتصار القطريين على العثمانيين.  
2- إطلاق سراح الشيخ أحمد.  
3- سحب القوات العثمانية إلى الأحساء.  
4- عزل السلطان عبد الحميد الثاني الوالي العثماني.

## 7- بم تفسر : توتر العلاقات القطرية البريطانية منذ تولي الشيخ جاسم بن محمد بن ثاني الحكم .

- 1
  - 2
- 1- رفض الشيخ جاسم بن محمد التوقيع على معاهدة الحماية البريطانية على قطر.  
2- اختلاق بريطانيا المشكلات حول رعاياها من الهنود البريطانيين.

## 4- عدد الإجراءات الذي اتخذها قائد الحماية العثمانية عند وصوله إلى قطر .

- 1- تعيين الشيخ جاسم بن محمد بن ثاني قائمقام على قطر .
- 2- إعفاء قطر من دفع أي ضرائب.
- 3- إقامة قوة عسكرية عثمانية في البدع للدفاع عن قطر.



ثالثاً المواطنة : الوحدة الثالثة : الهوية الوطنية ( أبعادها – مقوماتها)

الدرس الثاني: الهوية الوطنية والعولمة

السؤال الأول : اختر الإجابة الصحيحة من بين البدائل التالية :

1- أحد تأثيرات سلبيات العولمة الثقافية تجاه الهوية الوطنية

أ- التنوع الثقافي

ب- البعد عن الفكر التقليدي

ج- إحلال اللغات الأجنبية مكان اللغة العربية

د- دمج الثقافة الوطنية بثقافات الشعوب الأخرى

2- يطلق على التطبيقات الحديثة والمواقع الالكترونية وتبادل المعلومات عبر الشبكة الإنترنت اسم

ب- العولمة الثقافية

ت- الصحافة الدولية والمحلية

د- وسائل التواصل الاجتماعي

ج- القنوات الفضائية والأرضية

3- من سلبيات وسائل التواصل الاجتماعي:

ب- فضاء كبير للنقاش

ث- تداول الأفكار والمعلومات

د- إدمان الإنترنت وإهدار الوقت

ج- تساعد طلاب العلم والباحثين



## السؤال الثاني: أجب عما يلي:

### 1- قارن بين الآثار الإيجابية والآثار السلبية للعولمة الثقافية على الهوية الوطنية.

الآثار السلبية للعولمة الثقافية	الآثار الإيجابية للعولمة الثقافية
1- تقليد الغرب في سلوكياتهم. 2- إحلال اللغات الغربية مكان اللغة العربية. 3- التأثير في ثقافة الشعوب وطمس هويتها.	1- البعد عن الفكر التقليدي المتجمد. 2- زيادة التنوع الثقافي. 3- تنوع وسائل التعبير عن الثقافة والهوية الوطنية.

### 2- عدد وسائل انتقال العولمة الثقافية.

- 1- وسائل التواصل الاجتماعي . 2- القنوات الفضائية. 3- الصحافة الدولية.

### -قارن بين إيجابيات وسلبيات وسائل التواصل الاجتماعي.

سلبيات وسائل التواصل الاجتماعي.	إيجابيات وسائل التواصل الاجتماعي.
1- التحايل والتزوير. 2- نشر الشائعات. 3- إدمان الانترنت وإهدار الوقت.	1- تساعد طلاب العلم والباحثين. 2- سرعة تداول المعلومات. 3- تساعد في الأعمال الخيرية والتطوعية

### 2- اقترح الحلول الممكنة للحد من الآثار السلبية لوسائل التواصل الاجتماعي .

- 1-.....  
1- سن القوانين التي تجرم الاستخدام السيء .  
2-.....  
2- مراقبة الأبناء أثناء استخدامهم للإنترنت.  
3-.....  
3- إنشاء مواقع مفيدة.  
4-.....  
4-التوعية بأهمية وسائل التواصل الاجتماعي والتوعية بمخاطرها



### 3- عدد طرق مواجهة العولمة

- 1- الاعتراز بالهوية الوطنية.
- 2- تزكية روح حب الوطن.
- 3- مراقبة مناهج الجامعات والمدارس الأجنبية.



## الجغرافيا : الوحدة الرابعة : الخصائص العامة للسكان في دولة قطر

### الدرس الأول : نمو وتركيب السكان في دولة قطر

السؤال الأول : أختَر الإجابة الصحيحة من بين البدائل التالية

#### 1- معرفة السكان من حيث العدد والنوع والسن والمهنة يقصد به- :

أ- الزيادة السكانية ب- التركيب السكاني ج- التعداد السكاني د- النمو السكاني

#### 2- انخفض عدد سكان دولة قطر في مطلع العشرينات من القرن الماضي بسبب- :

أ- خروج المرأة للعمل ب- ارتفاع تكاليف الزواج-

ج- انخفاض سعر البترول د- كساد تجارة اللؤلؤ-

#### 3- زيادة عدد السكان في منطقة معينة خلال فترة زمنية محددة . هذا التعريف السابق ل- :

أ- النمو السكاني ب- التركيب السكاني ج- الهجرة السكانية د- الكثافة السكانية

4- أكثر الفترات الزمنية التي شهدت معدل نمو سكاني مرتفعاً بدولة قطر:

أ- ( 1970 - 1986 م). ب- ( 1986 - 1997 م).

أ- ( 1997 - 2004 م) د- ( 2004 - 2010 م).

#### 5- تتمثل الزيادة الطبيعية للسكان في الفرق بين:

أ- عدد المواليد والوفيات. ب- الهجرة الداخلية والخارجية.

ب- الخصوبة العامة والخاصة. د- المواليد والخصوبة.

6- تمثل نسبة الذكور في تعداد 2015 م من إجمالي سكان دولة قطر:

أ- 55.5 % ب- 65.5 %

ج- 75.5 % د- 85.5 %

#### 7- يرجع انخفاض نسبة الأطفال بدولة قطر إلى:

أ- معظم الوافدين لا يصطحبون أطفالهم. ب- ارتفاع معدل وفيات الأطفال.

ج- وجود قوانين تحد من الإنجاب. د- عدم الرغبة في إنجاب الأطفال.



8- يقصد بالزيادة غير الطبيعية لسكان دولة قطر - :

أ- الهجرة الوافدة ب- الايدي العاملة ج- العمالة السائبة د- الاستقرار البشري

9-دراسة الخصائص العمرية والنوعية والقوى العاملة للسكان . يشير هذا التعريف الى : -

أ- التركيب السكاني ب- التعداد السكاني ج- القوى السكانية د- الإحصاء السكاني

10- عبارة عن مرحلة الانتقال من نظام ديموغرافي تقليدي يتَّسم بارتفاع معدل المواليد والوفيات، إلى نظام ديموغرافي حديث يتَّسم بانخفاض معدل المواليد والوفيات.

أ- التحول الديموغرافي ب- الزيادة الطبيعية ج- الزيادة الغير طبيعية د- النمو السكاني

السؤال الثاني : أجب عن الأسئلة التالية:

1- بم تفسر :زيادة عدد السكان في دولة قطر في الفترة من 1970 - 1986

بسبب ارتفاع عوائد النفط

للبلاد، وظهور الطفرة العمرانية التي تطلبت استقدام أعداد كبيرة من

2-انخفاض معدّل المواليد في دولة قطر؟

1-خروج المرأة للعمل - 2 تأخر سن الزواج لارتفاع تكاليفه.

3 عودة الكثير من عائلات المقيمين لبلادهم





### 3-انخفاض عدد سكان دولة قطر في مطلع العشرينيات من القرن الماضي؟

- 1- بسبب كساد تجارة اللؤلؤ
- 2- تقلص أنشطة الغوص على اللؤلؤ لظهور اللؤلؤ الصناعي الياباني

### 4- وضح أسباب النمو السكاني المرتفع في دولة قطر في الفترة ( 2004 – 2010 م )

- 1- بسبب الأعداد الكبيرة للعمالة الوافدة المشاركة في مشروعات التنمية العملاقة

### 5-ارتفاع نسبة العمالة الوافدة بدولة قطر؟

- 2- النهضة الاقتصادية و العمرانية الهائلة - 2 عدم كفاية العمالة الوطنية-
- 3-وفرة فرص العمل

### 6- تمثل فئة الشباب أكثر من 85 % من سكان قطر؟

- لأن معظم العمالة الوافدة من الذكور

### - عرف المفاهيم الآتية:

#### 1-النمو السكاني

- هو زيادة عدد السكّان في منطقة معيّنة خلال فترة زمنيّة محدّدة.

#### 2-الهرم السكاني

- أحد الأشكال البيانية لتمثيل البيانات السكانية الخاصة بالعمر والنوع

### -أذكر أهمية الدراسات السكانية.

- معرفة مدى قدرة المجتمعات على توفير القوة العاملة اللازمة لتنمية وإعالة باقي أفراد المجتمع.
- حل كثير من المشكلات الاقتصادية والاجتماعية التي تواجه المجتمع.
- تحديد نسبة العمالة ومعدّل البطالة وحجم القوة العاملة في المستقبل.



الجغرافيا : الوحدة الرابعة : الخصائص العامة للسكان في دولة قطر

الدرس الثاني : توزيع السكان وكثافتهم بدولة قطر

السؤال الأول : أختَر الإجابة الصحيحة من بين البدائل التالية

1- بلدية من بلديات دولة قطر احتلت المرتبة الأولى في عدد السكان هي بلدية  
أ- الدوحة ب- الريان ج- الوكرة د- الشحانية .

2- تحتل بلدية الريان من حيث عدد السكان المرتبة- :  
أ- الأولى ب- الثانية ج- الثالثة د- الرابعة

4- أقلّ بلديات دولة قطر من حيث عدد السُّكَّان :  
أ- الشَّحانية. ب- الشَّمَال.  
ج- الوكرة. د - أم صلال.

5- أكثر بلديات دولة قطر من حيثُ الكثافة السُّكَّانية :  
أ- الدَّوْحَة. ب- الظعَّين.  
ج- الخور. د - الريان.

6- تحتل بلدية الخور المرتبة الرَّابِعة من حيثُ عدد السُّكَّان بدولة قطر؛  
لأنها تضم مدينة :  
أ- مسيِّعِد. ب- دخان.  
ج- رأس لفان. د - أم باب.

7- يتركز معظم سكان دولة قطر على امتداد الساحل :  
أ- الشرقي. ب- الغربي.  
ج- الجنوبي. د - الشمالي.



## السؤال الثاني : أجب عن الأسئلة التالية:

### 1- ما أسباب زيادة عدد السكان في بلدية الوكرة في السنوات الأخيرة؟

- أ- تعاظم أهمية الوكرة كمدينة تجارية وسكنية قريبة من
- الدوحة. - ب- رخص إيجارات المساكن فيها. - ج- كما أنها تضم منطقة مسيعة
- الصناعية

### 2-- أذكر أكثر البلديات ارتفاعا في الكثافة السكانية بدولة قطر .

الدوحة - ام صلال - الظعنين - الريان

### 3- اذكر العوامل الطبيعية المؤثرة في توزيع السكان بدولة قطر.

- يتركز معظم السكّان على امتداد الساحل الشرقي لدولة قطر الرؤوس والأخوار
- والدوحات
- يتركز بعض السكّان في مناطق الروضات الزراعية وخاصة في الشّمال والوسط؛ حيث
- النشاط الزراعي والحيواني.

### 4- اذكر العوامل الاقتصادية والاجتماعية المؤثرة في توزيع السكان بدولة قطر

- كان للنشاط الاقتصادي القائم على الصيد البحري واستغلال ثروات البحر دور رئيسي في تركّز السكّان
- على امتداد السواحل وظهور أهم مدن وموانئ دولة قطر، مثل: الدّوحة - الخور الوكرة.
- ركّز السكّان في أماكن توافر مصادر الطاقة والصناعة مثل: مدينتي مسيعة ورأس لفان الصناعيتين.

### 5- تركّز 40 % من سكان دولة قطر في بلدية الدّوحة؟

- أ- كون مدينة الدّوحة عاصمة البلاد، وفيها مقرّ الحُكم،
- والوزارات، ومعظم المؤسّسات الحكومية.
- ب - موقعها الجغرافي وسط البلاد على الساحل الشرقي
- ج- تركّز الخدمات العامّة المالية، والتعليمية، والصحية،
- والرياضية.



## 6-انخفاض الكثافة السكانية في بلدية الشيحانية؟

- بسبب مساحتها الكبيرة .

### -ما النتائج المترتبة على:

#### 1 -تبعية مدينة رأس لفان الصناعية لبلدية الخور والذخيرة؟

- زيادة أعداد السكان في مدينتي الخور والذخيرة

#### 2 -ارتفاع الكثافة السكانية بمدينة الدوحة؟

- الازدحام المروري - الضغط على الخدمات



التاريخ : الوحدة الخامسة : الشيخ عبد الله بن جاسم آل ثاني

الدرس الأول : عبد الله بن جاسم آل ثاني وأهم أعماله

السؤال الأول : اختر الإجابة الصحيحة من بين البدائل التالية

1- تولى الحكم في دولة قطر بين عامي - 1913 م - 1949 م الشيخ:

أ- جاسم بن محمد ب- عبد الله بن جاسم ج- علي بن عبد الله د- أحمد بن علي

2- تم زوال السيادة العثمانية عن قطر عام- :  
أ - 1913 م ب - 1915 م ج - 1917 م د - 1919 م

3- تم توقيع الاتفاقية الأنجلو عثمانية في عهد الشيخ:  
أ- محمد بن ثاني. ب- جاسم بن محمد بن ثاني.  
ج- عبد الله بن جاسم آل ثاني. د- علي بن عبد الله آل ثاني.

4- ترتب على خروج القوات العثمانية من قطر:  
أ- ازدياد القرصنة البحرية. ب- كساد تجارة اللؤلؤ.  
ج- قلة تجارة السلاح. د- سوء الأحوال المعيشية.

5- تعهدت الحكومة البريطانية ضمن بنود معاهدة 1916 م بحماية إمارة قطر من جهة:

أ- البر. ب- البحر.  
ج- البر والبحر. د- البر والبحر والجو.



- 6- تمّ إلغاء ارتباط قطر بالدولة العثمانية من خلال الاتفاقية:  
أ - العثمانية القطرية 1915 م.  
ب- البريطانية القطرية عام 1916 م.  
ج - البريطانية القطرية عام 1935 م.  
د - البريطانية العثمانية عام 1913 م.

السؤال الثاني : أجب عن الأسئلة التالية:

- بم تفسّر؟

1- تحسّن العلاقات القطرية البريطانية منذ عام 1913 م؟

لتوقيع اتفاقية الأنجلو - عثمانية 1913م بين بريطانيا والدولة العثمانية

2- توقيع بريطانيا معاهدة الحماية مع قطر عام 1916 م؟

1. محاربة بريطانيا لتجارة الرقيق.
2. انتشار أعمال القرصنة في المياه القطرية.
3. ازدهار تجارة السلاح في قطر، واضطراب الأمن.

3- ما النتائج المترتبة على اتفاقية 1913 م؟

تحسن العلاقات البريطانية القطرية - توقيع معاهدة 1916م

4 - ما النتائج المترتبة: على خروج الحامية العثمانية من قطر 1915 م؟

- 1- انتشار أعمال القرصنة في المياه القطرية.
- 2- ازدهار تجارة السلاح في قطر، واضطراب الأمن.



## 5- ما المقصود بالحماية؟

هي نظام فرضته الدول الاستعمارية على البلاد المستعمرة؛ بحيث تتمتع هذه البلاد باستقلالها الداخلي، بينما تتولى الدولة الاستعمارية أمور الأمن، والدفاع عنها ضد أي اعتداء خارجي

## 6- قارن بين معاهدة 1916 م وبين معاهدة 1935 م.

معاهدة 1935 م	معاهدة 1916 م	وجه المقارنة
<p>1- تعيين معتمد بريطاني في البلاد، وإقامة دائرة للبريد، ومنشآت للبرق واللاسلكي.</p> <p>2- منح بريطانيا امتياز حق التنقيب عن البترول في قطر.</p> <p>3- استخدام القوة الجوية الملكية البريطانية للدفاع عن قطر ضد أي هجمات قد تتعرض لها.</p>	<p>1- يتعهد الشيخ عبد الله بن جاسم آل ثاني بالتعاون مع الحكومة البريطانية في القضاء على تجارة العبيد وأعمال القرصنة، وبالحفاظ على السلام البحري عمومًا.</p> <p>2. يتعهد الشيخ عبد الله بن جاسم آل ثاني بالقيم علاقات مع أي دولة أخر دون موافقة الحكومة البريطانية.</p> <p>3- يتعهد الشيخ عبد الله بن جاسم آل ثاني بالسماح للرعايا البريطانيين بالإقامة في قطر بغرض التجار</p>	<p>ينود العالمة</p>



## - ما أسباب توقيع اتفاقية - 1935 م بين بريطانيا وقطر ؟

- 1- رغبة بريطانيا في فرض مزيد من السيطرة على المنطقة، وسدّ الطريق أمام الدول الأوروبية وأمريكا في الحصول على حق امتياز البحث والتنقيب عن النفط في قطر.
- 2- رغبة بريطانيا المُلحّة في إنشاء مطار في قطر لهبوط طائراتها؛ ولتغطي بذلك المجال الجوي لكل منطقة الخليج العربي.
- 3 - حاجة الشيخ عبد الله بن جاسم آل ثاني إلى السلاح، والحماية البريطانية الشاملة لبلاده.

## 8- عدد بنود اتفاقية - 1935 م بين بريطانيا وقطر ؟

- 1- تعيين معتمد بريطاني في البلاد، وإقامة دائرة للبريد، ومنشآت للبرق واللاسلكي.
- 2- منح بريطانيا امتياز حق التنقيب عن البترول في قطر.
- 3- استخدام القوة الجوية الملكية البريطانية للدفاع عن قطر ضد أي هجمات قد تتعرض لها.

## 9- رتب الأحداث التاريخية الآتية وفقًا لتسلسلها الزمني الصحيح على الخط الزمني :

- التزام بريطانيا بحماية قطر بحرًا.
- حصول بريطانيا على حق التنقيب عن النفط في قطر.
- اندلاع الحرب العالمية الأولى.
- الاتفاقية الأنجلو عثمانية بخصوص قطر.

التزام بريطانيا بحماية  
قطر بحرًا 1916م

الاتفاقية الأنجلو عثمانية  
بخصوص قطر 1913م

حصول بريطانيا على حق  
التنقيب عن النفط في  
قطر. 1935م

اندلاع الحرب العالمية  
الأولى 1914





التاريخ : الوحدة الخامسة : الشيخ عبد الله بن جاسم آل ثاني

الدرس الثاني: الأحوال السياسية والاقتصادية والاجتماعية في عهد الشيخ عبد الله بن جاسم

السؤال الأول : اختر الإجابة الصحيحة من بين البدائل التالية

1- بدأت عملية التنقيب عن البترول الخام القطري عام 1935 م في حقل: :

أ- الريان ب- الخليج ج- رأس لفان د- دخان

2 - كانت أول مدرسة نظامية في قطر هي المدرسة : -

أ - الفنية ب- العسكرية ج- البحرية د- الأثرية

3- شهدت قطر في بدايات حكم الشيخ عبد الله بن جاسم:

أ- هجرات وافدة للبلاد. ب- هجرات خارجة من البلاد.

ج- نموًا عمرانيًا كبيرًا. د- تصدير النفط للخارج.

5- توقفت عملية التنقيب عن النفط 1939 م في قطر بسبب:

أ - قيام الحرب العالمية الأولى. ب- قيام الحرب العالمية الثانية.

ج- إفلاس الشركة البريطانية. د- عمليات القرصنة البحرية.

6- من أسباب كساد تجارة اللؤلؤ في قطر:

أ - ظهور اللؤلؤ الياباني. ب - اتجاه السُّكَّان إلى الصناعة.

ج - ظهور النفط. د- انخفاض مستوى المعيشة.



- 7- تنازل الشيخ عبد الله عن الحكم عام 1949 م للشيخ:  
أ - حمد بن عبد الله آل ثاني. ب - علي بن عبد الله آل ثاني  
ج- أحمد بن علي آل ثاني. د - خليفة بن حمد آل ثاني

- 8- كانت أكثر الدول الأوروبية استيرادًا للؤلؤ الطبيعي من قطر:  
أ - بريطانيا. ب- فرنسا  
ج- إيطاليا. د- إسبانيا

السؤال الثاني : أجب عن الأسئلة التالية:

س 1 بم تفسر : تدهور حرفة الغوص على اللؤلؤ في قطر وكساد تجارتها زمن الشيخ عبدالله بن جاسم .

- 1- ظهور اللؤلؤ الصناعي الياباني منذ مطلع القرن العشرين، وإغراق الأسواق العالمية به؛ مما أدى إلى انخفاض أسعار اللؤلؤ الطبيعي.  
2- إغلاق الأسواق الأوروبية أمام تصريف اللؤلؤ القطري بسبب الحرب العالمية الثانية، حيث كانت فرنسا هي المستورد الرئيس له.

2- أثبت بالأدلة مظاهر اهتمام الشيخ عبد الله بن جاسم آل ثاني بالتعليم.

- 1- افتتاح أول مدرسة نظامية في قطر بإدارة الشيخ محمد بن مانع.  
2- الاهتمام بتعليم البنات برعاية السيدة آمنة محمود الجيدة.



### 3- لعبت المجالس دورًا ثقافيًا واجتماعيًا واقتصاديًا مهمًا في المجتمع القطري. وضح ذلك.

- 1- كانت تدور في المجالس المناقشات الأدبية والفكرية، وإلقاء الشعر
- 2- وقد حرص الآباء كثيرًا على اصطحاب أبنائهم للمجالس للاستماع إلى أحاديث الكبار والتعلم من مجالستهم أساسيات الحياة.
- 3- اعتُبرت مكانًا للتبادل التجاري، ففيها يجتمع النواخذة والتجار، ويتم عقد العديد من الصفقات التجارية بين التجار المحليين أنفسهم وبين التجار الأجانب.

### 4- بدأ التعليم في قطر أهليًا.. برهن بالأدلة

- 1- تولى التجار والقضاة الإنفاق عليه لحاجتهم إليه من أجل التدوين والتسجيل والحساب؛ لتنظيم أعمالهم ومعاملاتهم الاقتصادية بالداخل والخارج وأسسوا الكتابيب.

### 5- أثرت الحرب العالمية الثانية سلبًا على الأحوال الاقتصادية القطرية، وضح ذلك.

- بسبب توقف عمليات التنقيب عن النفط بسبب قيام الحرب العالمية الثانية .

### 6 - بم تفسر : تحسُن الأحوال الاقتصادية في قطر نسبيًا منذ عام 1949 م.

- بسبب عودة عمليات التنقيب عن النفط مع انتهاء الحرب العالمية الثانية .

### 7 - اذكر أبرز الأحداث السياسية التي شهدتها فترة حكم الشيخ عبد الله بن جاسم آل ثاني.

- 1- سَلِمَ الشيخ عبد الله بن جاسم آل ثاني مقاليد الحكم لولي عهده ابنه الشيخ حمد؛ لمرضه وكِبَرِ سِنِّهِ، وقد اشْتَهَرَ الشيخ حمد بن عبد الله آل ثاني بالحكمة وبُعد النظر ولكن وافته المنية في مايو عام 1948م
- 2- عيّن الشيخ عبد الله بن جاسم آل ثاني، ابنه الشيخ علي بن عبد الله آل ثاني وليًا للعهد في يونيو 1948 م، ثم تنازل الشيخ عبد الله بن جاسم آل ثاني له عن الحكم عام 1949



- ما النتائج المترتبة على تدهور الأحوال الاقتصادية في بداية عهد الشيخ عبد الله بن جاسم آل ثاني؟

هجرة أعداد كبيرة من سكان قطر

9- أذكر اهم القضاة في قطر في عهد الشيخ عبد الله بن جاسم آل ثاني.

-ومن أشهر القضاة في قطر في تلك الفترة الشيخ عبد الرحمن بن عبد الله الدرهم، القاضي محمد بن جابر الجابر،  
-ثم بعد ذلك تمّ تعيين الشيخ محمد بن مانع كبير القضاة في الدوحة، فكان يعمل إمامًا وقاضيًا،  
- وفي الخور كان الشيخ إبراهيم الأنصاري



المواطنة : الوحدة السادسة الديمقراطية  
الدرس الثاني: النزاهة والشفافية

السؤال الأول : اختر الإجابة الصحيحة من بين البدائل التالية

1-مصطلح يقصد به مجموعة القيم المتعلقة بالصدق والامانة والأخلاص في العمل :

أ-النظام ب- بالقانون ج- النزاهة د - الإدارة

2- اطلع الجمهور على السياسات العامة للدولة وكيفية إدارتها ( هذا التعريف السابق يشير إلى- :

أ - النزاهة ب- الشفافية ج- المحاسبة د- الأمانة

السؤال الثاني : أجب عن الأسئلة التالية :

س 1 ما أهمية انتشار مبادئ النزاهة والشفافية في المجتمع ؟

- 1-التقليل من انتشار الفساد على المستوى المحلي.
- 2- تحسين جودة الخدمات المقدمة من الدولة للمواطنين.
- 3- التقليل من هدر المال العام، مع المحافظة على الممتلكات العامة.

س 2 وضح دور دولة قطر في تعزيز النزاهة والشفافية ومكافحة الفساد .

- 1-مصادقتها على اتفاقية الأمم المتحدة لمكافحة الفساد.
- 2-إنشاء هيئة الرقابة الإدارية والشفافية التي أنشئت بالقرار الأميري رقم ( 75 ) لسنة 2011 م كهيئة متخصصة في تعزيز النزاهة والشفافية.
- 3-تنفيذ إعلان الدوحة الصادر من مؤتمر الأمم المتحدة الثالث عشر لمنع الجريمة والعدالة الجنائية.



### 3- حدّد المقصود بكلاً من :

#### 1- النزاهة.

يقصد به مجموعة القيم المتعلقة بالصدق والامانة والأخلاص في العمل

#### 2- الشفافية .

اطلاع الجمهور على السياسات العامة للدولة وكيفية إدارتها

#### 4- بم تفسر:

1- يُعدُّ إعلان الدوحة أحدَ الدلائل على دور قطر الفعّال في تطبيق مبادئ النزاهة والشفافية؟

- أ- تعزيز النزاهة القضائية ومنع الفساد.
- ب- إعداد وتأهيل السُّجَّناء والاندماج الاجتماعي.
- ج - منع جرائم الشباب من خلال التوعية بأهمية الرياضة.

2- لا بد من وجود سياسة عامة للنشر والإفصاح عن المعلومات التي تهتمُّ المواطنين في كافة الدول؟

• -ضماناً لتحقيق مبدأ الشفافية وإتاحة الفرصة للمواطنين للإطلاع على القرارات العامة .

### 3 - أهمية تطبيق مبادئ النزاهة والشفافية؟

- 1 -التقليل من انتشار الفساد على المستوى المحلي.
- 2- تحسين جودة الخدمات المقدّمة من الدولة للمواطنين.
- 3- التقليل من هدر المال العام، مع المحافظة على الممتلكات العامّة.

### 5- ما النتائج المترتبة على :

1- تطبيق مبادئ النزاهة والشفافية في الدول؟

للحفاظ على مقدراتها ومكتسباتها وتحقيق التنمية الشاملة بها ومنع انتشار الفساد



## 2- الاهتمام بمكافحة ومنع انتشار الفساد؟

تحقيق التنمية والأزدهار للدولة وبناء الديمقراطية

السؤال الخامس: أأكمل الشكل الذي أمامك:

أشكال الفساد

السياسي

الإداري

المالي