



مدرسة عمر بن الخطاب الابتدائية الأولى للبنين
العام الكاديسي 2021-2022






ورقة عمل 1 الصف الأول




الدرس الأول: كيف تطور الحاسوب؟

1) اختر الإجابة الصحيحة بوضع علامة صح أسفل الصورة المناسبة:

أول آلة حاسبة يدوية ظهرت في فرنسا:



كيف أصبح شكل الحواسيب في أيامنا هذه؟:



2) أكتب رقم البطاقة التعريفية للاسم الصحيح للجزء عند الصورة المناسبة له:



1

حاسوب محمول



2

ساعة ذكية



3

هاتف ذكي



4

حاسوب مكتبي