

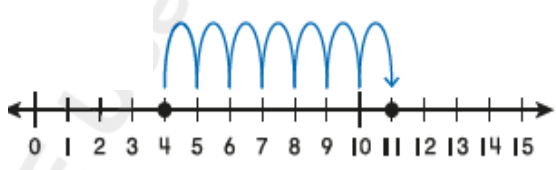


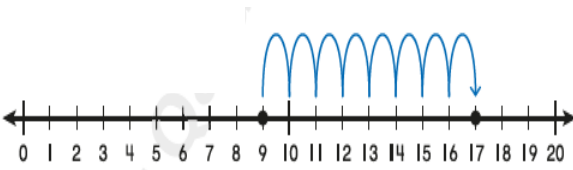
مدرسة عبد الحميد الدايل للبنين
الفصل الدراسي الأول للعام 2021-2022م
بنك الأسئلة الوحدة الخامسة – حقائق الجمع حتى 20

الاسم:

الصف: أول/.....

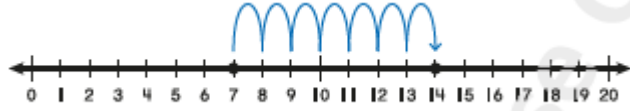
اختر الإجابة الصحيحة لكل من الأسئلة من 1 إلى 3، وذلك بوضع علامة × داخل المربع المجاور للإجابة الصحيحة:

السؤال رقم 1	
	أي مما يلي يمثل جملة الجمع الممثلة على خط الأعداد ؟
<input type="checkbox"/>	$8 + 7 = 15$ <input type="checkbox"/> A
<input type="checkbox"/>	$4 + 7 = 11$ <input type="checkbox"/> B
<input type="checkbox"/>	$10 + 3 = 13$ <input type="checkbox"/> C

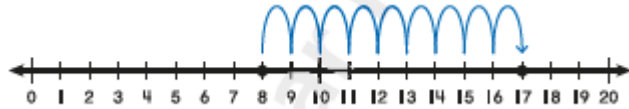
السؤال رقم 2	
	أي مما يلي يمثل جملة الجمع الممثلة على خط الأعداد؟
<input type="checkbox"/>	$10 + 7 = 17$ <input type="checkbox"/> A
<input type="checkbox"/>	$9 + 9 = 18$ <input type="checkbox"/> B
<input type="checkbox"/>	$9 + 8 = 17$ <input type="checkbox"/> C

السؤال رقم 3

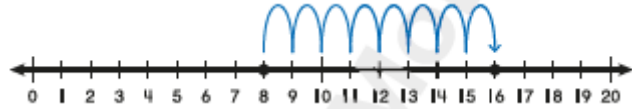
خبزت ليلي 8 كعكات يوم الاثنين وخبزت 8 كعكات يوم الثلاثاء. ما عدد الكعكات التي خبزتها ليلي إجمالاً؟ أي خط أعداد يمثل المسألة؟



A



B



C

السؤال رقم 4

زار علي 5 محلات تجارية، ثم زار 3 محلات تجارية أخرى. أي مما يلي يمثل العدد الكلي للمحلات التجارية التي زارها علي؟

10 محلات

A

8 محلات

B

7 محلات

C

السؤال رقم 5

أي مما يلي يمثل ناتج جمع $5 + 8 = \dots\dots$ ؟

11

A

12

B

13

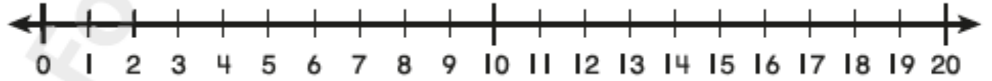
C

عند الإجابة على الأسئلة من 6 إلى 8، اكتب إجاباتك في المساحات المخصصة لذلك:

السؤال رقم 6

أستعمل خط الاعداد للعد صاعدا وإيجاد ناتج الجمع.

$$9 + 6 = \dots\dots\dots$$



السؤال رقم 7

أرسلت سارة 7 رسائل بالبريد . ثم أرسلت 8 رسائل أخرى. أكتب الأعداد التي تساعدني على إيجاد العدد الكلي للرسائل التي أرسلتها سارة.

$$7 + 8 = \underline{\hspace{2cm}}$$

أبدأ من العدد أعد تصاعدياً

السؤال رقم 8

أحوظ عددين لجمعهما أولاً. أكتب مجموعهما في الصندوق الى اليمين ثم أكتب مجموع الأعداد الثلاثة.

1

$$\begin{array}{r} 7 \\ 3 \\ +3 \\ \hline \end{array} \square$$

2

$$\begin{array}{r} 5 \\ 0 \\ +9 \\ \hline \end{array} \square$$

3

$$\begin{array}{r} 3 \\ 7 \\ +8 \\ \hline \end{array} \square$$

