

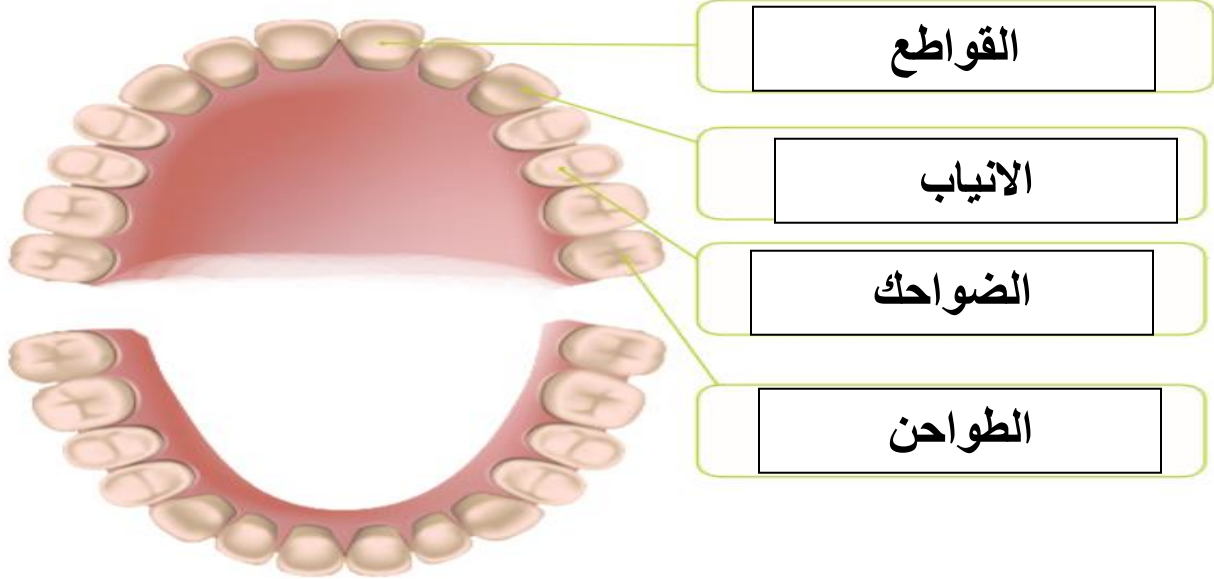
مراجعة اثرائية

اختبار نهاية الفصل الدراسي الأول

للعام الاكاديمي 2020-2021

| | |
|--------|-----------|
| المادة | علوم عامة |
| الصف | الثالث |

درس الاسنان ووظائفها



1- اذكر وظيفة كل سن؟

القواطع : تقطع الطعام

الانياب : تمزيق الطعام

الطواحن : طحن الطعام

الضواحك : تمضغ الطعام

2- كم عدد الاسنان اللبنية لدى الأطفال؟

الإجابة : 20 سن

2- على ماذا يتغذى الاسد ؟

الإجابة : اللحوم


درس أعضاء وعظام وعضلات جسم الانسان ووظائفها

1- ماهي اجزاء الجهاز الهضمي؟
الإجابة: الفم - المريء - المعدة - الأمعاء

2- ماهي أجزاء الجهاز الدوري؟
الإجابة: القلب - الدم - الاوعية الدموية

3- الى اي من أجهزة جسم الانسان تنتمي الرئتان؟
الى الجهاز التنفسي

4- ما هو اسم العضو المبين أمامك في الصورة؟

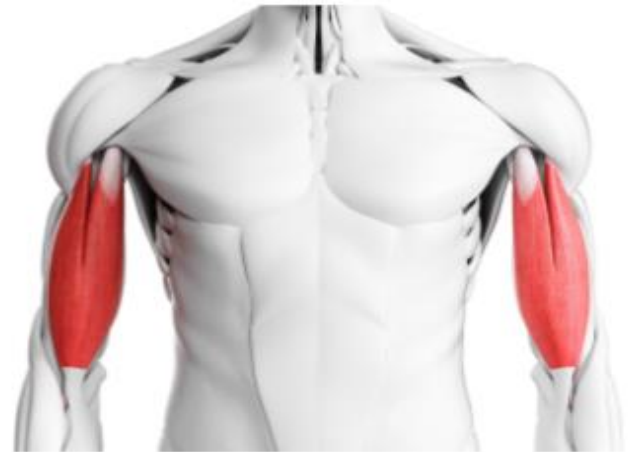


الدماغ

5- ماهي العضلات التي استخدمها عندما اثني ذراعي؟



عضلات الذراع الامامية



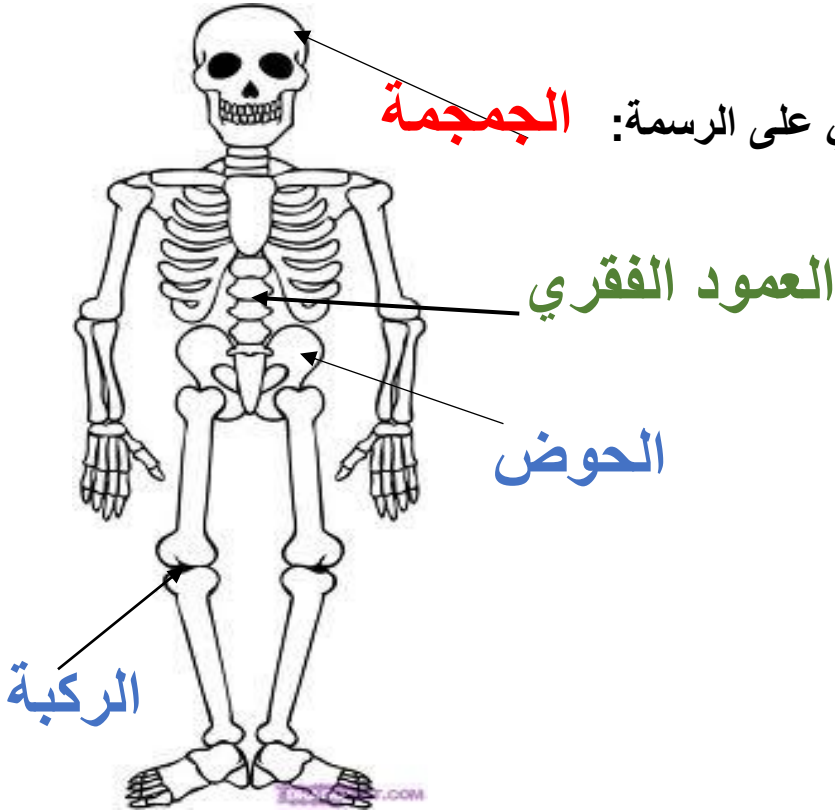
عضلات الذراع الخلفية

العَضَلَاتُ الَّتِي نَسْتَحْدِمُهَا لِنَثْنِي أذْرُعَنَا هِيَ

و.

6- ماهي وظيفة العضلات ؟ الحركة

7- حددي أجزاء الهيكل العظمي على الرسم: **الجمجمة**



8- ما هو الجزء من الهيكل العظمي الذي يحمي القلب والرئتان؟

الإجابة : الضلوع (القفس الصدري)

9- ما هو الجزء من الهيكل العظمي الذي يحمي الدماغ؟

الإجابة : الجمجمة

10- ماهي وظيفة الهيكل العظمي؟

الإجابة: الحركة - حماية الأعضاء الداخلية - الدعامة

وحدة المواد وخصائصها

1. اذكرى خاصية كل مادة من المواد الاتية :

| المادة | خصائصها |
|---|-------------|
|  | طرية |
|  | مرنه |
|  | قاسية |
|  | عازلة للماء |
|  | شفافة |
|  | ليننة |

2. اذا تم تسخين المعدن وتغير شكله ،ما نوع القوة التي تم استخدامها؟

الإجابة: قوة اللي

3- ما نوع القوة المستخدمة عند طي الملابس ؟

الإجابة: قوة الثني

4- ما نوع القوة المستخدمة عند صنع سفينة من الورق ؟

الإجابة : قوة الثني



5- عددي إيجابيات وسلبيات الاواني الفخارية المصنوعة من الطين؟

الاييجابيات: سهولة التشكيل

السلبيات: قابلة للكسر - لا يمكن إعادة تشكيلها



6- هل سيكون مناسباً صنع صندوق من ورق المناديل؟ ولماذا

الإجابة : لا يكون مناسب لان المناديل خفيفة وطريه والصندوق يحتاج الى مادة صلبة ومتينة

7- لماذا لا يعد الخشب مناسب لصنع الحذاء؟

الإجابة : لان الخشب مادة قاسية وغير مريحة عند الحركة ونحتاج الى مادة طرية ولينة لصنع الحذاء

وحدة الجراثيم :

1- ماهي الجراثيم؟

هي كائنات حية صغيرة جدا لا ترى بالعين المجردة

2- ما اسم هذه الأداة في الصورة امامك وفيما تستخدم؟



الإجابة: المجهر

يستخدم في رؤية الجراثيم

3- عددي طرق انتشار الجراثيم؟

الإجابة: العطس - السعال - الملامسة - المصافحة

4- عددي طرق الوقاية من الجراثيم؟

الإجابة: غسل اليدين بالماء والصابون - تعقيم اليدين بالمطهرات

5- عددي بعض الامراض التي تسببها الجراثيم والتي لا تسببها

الجراثيم؟

الإجابة: الامراض التي تسببها هي : الزكام - الانفلونزا

الامراض التي لا تسببها هي : العمى - الاعاقة

6- لماذا يطلب مني الكبار ان اغطي فمي وانفي عندما اعطس؟

الإجابة : كي لا تنتشر الجراثيم بواسطة الرذاذ

7- كيف تدخل الجراثيم الى اجسامنا ؟

الإجابة : تدخل عن طريق الانف والفم والجروح

8- ما الذي يحدث عندما تدخل الجراثيم الى اجسامنا ؟

الإجابة : تسبب لنا المرض