

الأول: اختر السؤال الإجابة الصحيحة من البدائل التالية:

1- تقع دولة قطر في منتصف ساحل الخليج العربي من الجهة:

- الشمالية. الغربية.
 الشرقية. الجنوبية.

2- تبلغ مساحة دولة قطر نحو:

- 10650 كم². 11610 كم².
 13650 كم². 15600 كم².

3- تتصل دولة قطر برياً من جهة الجنوب مع:

- عمان. الإمارات العربية المتحدة.
 إيران. المملكة العربية السعودية.

4- شبه جزيرة قطر تُعد طية محدبة ظهرت خلال الزمن الجيولوجي:

- الأول. الثالث.
 الثاني. الرابع.

5- تشكلت المنخفضات في دولة قطر بفعل:

- الثلوج. الرياح.
 الأمطار. البراكين.

6- أرض منخفضة نسبياً عما يجاورها وتصلح للاستقرار البشري والزراعة:

- الدحول. المنخفضات.
 الخراسيع. الروضات.

7- يطلق على التجمعات الرملية التي تكونها الرياح:

- السبخات. الكثبان الرملية.
 الدحول. الأودية الجافة.

8- أي من الأشكال التالية عبارة عن طية مقعرة:

- سبخة الخفوس. تلال دخان.
 رأس أبروق. دوحة الحصين.

9- يطلق على الأرصفة والكتل المرجانية التي تنتشر أمام السواحل القطرية اسم:

- الروضات. الأودية الجافة.
 الفشوت. الكثبان الرملية.

10- تُعرف الكهوف الأرضية التي انهارت الأجزاء العليا منها مثل المسفر والمظلم بـ:

- السبخات. الكثبان الرملية.
 الدحول. الأودية الجافة.

11- من أمثلة الرؤوس الأرضية على الساحل الشرقي لدولة قطر رأس:

- دخان. دخان.
 أبروق. أبو عبود.

12- وصف حالة الجو لفترة زمنية طويلة قد تكون فصلاً أو سنة. يُشير التعريف السابق إلى:

- الطقس. التيارات البحرية.
 المناخ. النوات والأعاصير.

13- تقع دولة قطر ضمن الاقليم المناخي:

- الاستوائي. القطبي.
 الصحراوي. الموسمي.

14- يوصف مناخ دولة قطر بأنه:

- جزري. قاري.
 ساحلي. موسمي.

15- تأثير التضاريس على مناخ دولة قطر محدود بسبب:

- ارتفاع سطحها. يغلب على سطحها الاستواء.
 انخفاض سطحها. كثرة تعاريج سواحلها وطولها.

16- رياح بارده تُخفض درجات الحرارة في قطر شتاءً وتسهم في سقوط الأمطار:

- المحلية. العكسية.
 التجارية. الموسمية.

17- ترتفع درجات الحرارة في دولة قطر صيفاً بسبب:

- تعامد الشمس على مدار السرطان. تعامد الشمس على خط الاستواء.
 تعامد الشمس على مدار الجدي. تعامد الشمس على الدائرة القطبية.

18- تُعرف الحيوانات والنباتات التي خلقها الله وليس للإنسان دخل فيها باسم:

- البيئـة. الغلاف الجوي.
 الحياة الفطرية. الغلاف البيولوجي.

19- تُعرف النباتات التي تنمو بعد سقوط الأمطار كالكحل والقريص باسم النباتات:

- الحولية. الدائمة.
 المعمرة. الزينة.

20- من النباتات المعمرة بدولة قطر:

- الكحل. السمر.
 القريص. اللبان.

21- تُصنف النباتات الي تتحمل ملوحة التربة مثل الحميض ضمن نباتات:

- السبخات. الكثبان الرملية.
 الروضات. الأودية الجافة.

22- المصدر الأول للمياه في دولة قطر:

- الأمطار. تحلية مياه البحر.
 المياه الجوفية. معالجة مياه الصرف الصحي.

23- أنشأت قطر سبع محطات رئيسة لتحلية مياه البحر أكبرهم محطة:

- دخان. رأس لفان.
 مسعيد. أبو فنتاس.

السؤال الثاني: أجب عن الأسئلة التالية:

1- بم تفسر: أهمية الموقع الاستراتيجي لدولة قطر.

- 1- سهولة الاتصال بشمال وجنوب الخليج العربي
 - 2- الاستفادة من مغاصات اللؤلؤ وصيد الأسماك قديما واستخراج النفط والغاز حديثا
 - 3- أصبحت قطر معبرا للعديد من السفن في الخليج العربي
- 2- ما أهمية دراسة التركيب الجيولوجي لدولة قطر.

1- معرفة مناطق تجمع النفط

2- معرفة مناطق تجمع المياه الجوفية

3- اذكر العوامل التي ساعدت على تشكيل المنخفضات بدولة قطر.

1- وفرة الصخور الجيرية 2- الأمطار الغزيرة في العصر المطير

2- الشقوق والفواصل ما بين الصخور

4- وضح أسباب صلاحية الروضات للاستقرار البشري والزراعة.

1- وفرة المياه الجوفية

2- خصوبة التربة وصلاحيتها للزراعة

5- اذكر شروط تكون الفشوت على سواحل شبه جزيرة قطر.

1- ضحالة المياه. 2- ارتفاع درجة حرارة المياه.

3- صفاء المياه 4- وارتفاع نسبة الملوحة بها

6- وضح أهمية الفشوت على السواحل القطرية.

1- حماية الشواطئ من التآكل.

2- مصدر لصيد الأسماك.

3- مقصدا للسياحة.

4- يوجد في بعضها النفط والغاز.

7- عدد أهم العوامل المؤثرة في مناخ دولة قطر.

1- الموقع بالنسبة لدوائر العرض. 2- التضاريس.

3- الموقع الجغرافي والتيارات البحرية.

8- عدد أنواع الرياح في دولة قطر.

1- الرياح التجارية (الشمالية الشرقية)

2- الرياح العكسية (الشمالية والشمالية الغربية)

3- المحلية المحلية (الكوس) (الجنوبية والجنوبية الشرقية)

9- ما أهمية النبات الطبيعي في دولة قطر.

1- يستخدم كعلاج لبعض الامراض

2- مرعي للحيوانات

3- يستعمل كوقود

4- مصدات للرياح

5- تثبيت التربة

10- دليل على: تقوم دولة قطر بدور هام للحفاظ على الحياة الفطرية.

1- إصدار قانون حماية البيئة.

2- إنشاء المحميات الطبيعية.

3- توعية المواطنين بأهمية المحافظة على الحياة الفطرية

11- تعرض أحواض المياه الجوفية بدولة قطر لعدة مشاكل وضحاها.

1- انخفاض منسوبها.

2- ارتفاع ملوحتها

3- الاستنزاف الجائر

4- اختلاطها بمياه البحر.

12 - ما الأسباب التي جعلت دولة قطر تتجه نحو تحلية مياه البحر.

- 1- النمو السكاني السريع.
- 2- وفرة مصادر الطاقة.
- 3- تنفيذ المشاريع العمرانية والصناعية الكبيرة

13 - وضح أهمية تنوع الخصائص الطبيعية في شبه جزيرة قطر.

- 1- استواء السطح ساعد على سهولة الحركة وإقامة شبكات الطرق.
- 2- وجود الدوحات ساعد على انشاء الموانئ مثل ميناء الدوحة.
- 3- الرؤوس الأرضية ساعدت على إقامة محطات التحلية.

14 - صنف بعض أشكال سطح الأرض في دولة قطر بالجدول التالي.

أشكال سطح الأرض الصحراوية	أشكال سطح الأرض الساحلية
المنخفضات - الأودية الجافة - الروضات - الكثبان الرملية - الدحول - الخراسيع - التلال	الجزر - الفشوت - الأخوار - الخلجان - الرؤوس الأرضية - الشواطئ الرملية - الدوحات

15 - قارن بين الدحول والخراسيع.

الدحول	الخراسيع
الكهوف الأرضية التي انهارت الأجزاء العليا منها فكانت فتحات على سطح الأرض الحمام - المسفر	كهوف مخفية تحت سطح الأرض تكونت نتيجة ذوبان الصخور الجيرية بفعل المياه الجوفية والأمطار - الخرسة

16 - قارن بين النباتات الحولية والنباتات المعمرة.

النباتات الحولية الموسمية	النباتات المعمرة الدائمة
النباتات التي تنمو بعد سقوط المطر جذورها سطحية - الكحل والقريص	نباتات دائمة الخضرة طوال العام جذورها عميقة تقاوم الجفاف - السدر والسمر

17 - قارن بين المنخفضات والتلال.

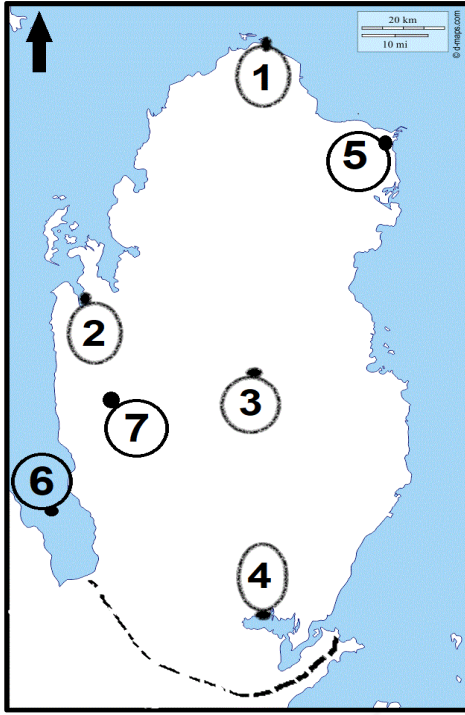
المنخفضات	التلال
أجزاء منخفضة عن سطح الأرض عما حولها	أرض مرتفعة ذات جوانب متوسطة الانحدار أقل ارتفاعاً من الجبال (دخان)

18 - قارن بين الرياح التجارية والرياح العكسية.

الرياح التجارية	الرياح العكسية
رياح جافة تهب طوال العام اتجاهها شمالية شرقية	رياح باردة تخفض الحرارة وتسقط الأمطار في فصل الشتاء - شمالية وشمالية غربية

19- أكتب ما تشير إلى الأرقام التي على خريطة دولة قطر التالية:

1- خريطة الموقع وأشكال السطح: صفحة 17



1- رأس: ركن

2- خليج: زكريت

3- روضة: راشد

4- خور: العديد

5- رأس: لفان

6- خليج: سلوى

7- خرسة: الخرسة

2- خريطة المحميات الطبيعية: صفحة 40



1- محمية: الريم

2- محمية: الذخيرة

3- محمية: العديد

4- محمية: العريق

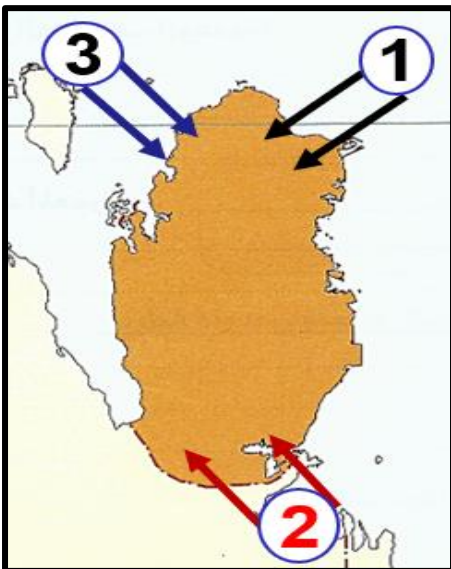
5- محمية: الشحانية

3- خريطة الرياح: صفحة 35

1- الرياح: التجارية (شمالية شرقية)

2- الرياح: المحلية (الكوس)

3- الرياح: العكسية (شمالية غربية)





مدرسة عمر بن الخطاب الثانوية للبنين - قسم الدراسات الاجتماعية
أوراق إثرائية الصف العاشر - الوحدة الثانية تاريخ - لا تغني عن الكتاب



الأول: اختر السؤال الإجابة الصحيحة من البدائل التالية:

1- هاجرت القبائل العربية منذ أوائل القرن السابع عشر الميلادي من منطقة نجد بسبب:

- وفرة المراعي. الأمطار الغزيرة.
 توطين البدو. الجفاف والقحط.

2- الدولة الاستعمارية التي عقدت معاهدات حماية مع إمارات الخليج العربي هي:

- ألمانيا. بريطانيا.
 فرنسا. البرتغال.

3- كان نظام الحكم السائد في دولة قطر قبل نشأة الإمارة هو:

- الملكي. الدستوري.
 القبلي. الجمهوري.

4- يرتبط ظهور أسرة آل ثاني وبداية تاريخ قطر الحديث بمطلع القرن:

- الثاني عشر الميلادي. الخامس عشر الميلادي.
 الثالث عشر الميلادي. الثامن عشر الميلادي.

5- ولد الشيخ محمد بن ثاني في حدود عام 1776م في منطقة:

- فويرط. الدوحة.
 الزبارة. الريان.

6- استقرت أسرة آل ثاني عام 1848م في مدينة:

- فويرط. الدوحة.
 الزبارة. الريان.

7- لقب الشيخ محمد بن ثاني عام 1863م بلقب:

- السلطان. رئيس الدوحة.
 الزعيم. شيخ الدوحة.

8- وقّع الشيخ محمد بن ثاني اتفاقية سبتمبر عام 1868 م مع:

- عمان. البحرين.
 فرنسا. بريطانيا.

9- تولى الشيخ جاسم بن محمد بن ثاني الحكم في قطر في 18 ديسمبر عام:

1878 م.

1871 م.

1889 م.

1875 م.

10- من الصعوبات التي واجهت الشيخ جاسم بن محمد بن ثاني في بداية حكمه:

الأطماع البريطانية.

تجارة الرقيق.

كساد تجارة اللؤلؤ.

السيطرة العثمانية.

11- من أسباب ترحيب الشيخ جاسم بن محمد بالعثمانيين عام 1871م:

زيادة نشاط القرصنة البحرية.

زيادة نشاط تجارة السلاح.

الصراع القبلي في منطقة الخليج.

توفير الحماية لتجارة اللؤلؤ.

12- رفع العلم العثماني عام 1871م على قصر الحاكم في الدوحة دليلاً على:

احتلال الدولة العثمانية لقطر.

زيارة الوالي العثماني.

انتصار العثمانيين في الوجبة.

قطر تحت الحماية العثمانية.

13- تكمن أهمية معركة الوجبة التاريخية في أنها:

شجعت على هجرة القبائل العربية لقطر.

ساعدت على التقارب البريطاني القطري.

وضعت حداً لمحاولات تزايد النفوذ العثماني.

أدت لزيادة الخلافات بين القبائل العربية.

السؤال الثاني: أجب عن الأسئلة التالية:

1- وضح الأوضاع السياسية في قطر قبل نشأة الإمارة.

1- ساد النظام القبلي في معظم أنحاء شبه الجزيرة العربية.

2- توافدت إليها القبائل العربية من نجد هرباً من الجفاف والقحط.

2- بم تفسر: تمتع الشيخ محمد بن ثاني باحترام القبائل القطرية ولقب بشيخ الدوحة.

1- بسبب حكمته في التعامل مع مختلف المشكلات.

2- وحرصه على حماية ممتلكات القطريين وأرزاقهم.

3- وضح جهود الشيخ محمد بن ثاني في تأسيس إمارة قطر على المستويين الداخلي والخارجي.

الداخلي: 1- وحد القبائل القطرية

2- وطم مركزه في قطر إقليمياً ودولياً

الخارجي: 1- وقع اتفاقية 1868م مع بريطانيا

4- أذكر بنود معاهدة 1868 م بين الشيخ محمد بن ثاني وبريطانيا.

- 1- المحافظة على الامن والسلام في البلاد. 2- إقامة علاقات طيبة مع شيوخ قبائل الخليج.
- 3- المحافظة على السلام البحري وعدم الإبحار بغرض عدواني.

5- ما نتائج توقيع معاهدة 1868 م بين الشيخ محمد بن ثاني وبريطانيا.

- 1- الاعتراف باستقلال قطر كإمارة مستقلة. 2- ظهور قطر ككيان سياسي مستقل.
- 3- اعتبار الشيخ محمد بن ثاني هو شيخ قطر وبداية حكم أسرة ال ثاني.

6- عدد الصعوبات التي واجهت الشيخ جاسم بن محمد بن ثاني عند توليه الحكم في قطر.

- 1- قلة الموارد الطبيعية في قطر. 2- تعرض سواحل قطر للقرصنة البحرية.
- 3- زيادة الأطماع البريطانية للسيطرة على قطر.

7- وضح أهم أعمال الشيخ جاسم بن محمد للنهوض بقطر على المستوى الداخلي.

- 1- توحيد القبائل القطرية.
- 2- الاهتمام بالتعليم وإنشاء الكتاتيب.
- 3- تطوير ميناء الدوحة وبناء السفن.
- 4- تعزيز تجارة اللؤلؤ في الدوحة.

8- بم تفسر: ترحيب الشيخ جاسم بن محمد بن ثاني بالعثمانيين في قطر؟

- 1- حماية إمارته من عمليات السلب.
- 2- توفير الحماية لتجارة اللؤلؤ.
- 3- إقامة علاقة متوازنة بين بريطانيا والدولة العثمانية.

9- أذكر اثنين من الإجراءات التي اتخذها قائد الحامية العثمانية في قطر.

- 1- تعيين الشيخ جاسم بن محمد قائمقام على قطر. 2 - إعفاء قطر من دفع أي ضرائب.
- 3- إقامة قوة عسكرية عثمانية في البدع تتولى الدفاع عن قطر ضد أي عدوان خارجي.

10- بم تفسر: حدوث معركة الوجبة بين العثمانيين والقطريين عام 1893م.

- 1- زيادة أعداد الحامية العثمانية في قطر. 2- فرض الضرائب الباهظة على تجارة اللؤلؤ.
 - 3- فتح مكتبين للجمارك بالزبارة والعديد. 4- محاولة تعيين وكيل عثمانى للشيخ جاسم.
- (السبب المباشر) اعتقال الشيخ أحمد بن محمد بن ثاني و16 من أعيان الدوحة.

11- ما النتائج التي ترتبت على: معركة الوجبة 1893م.

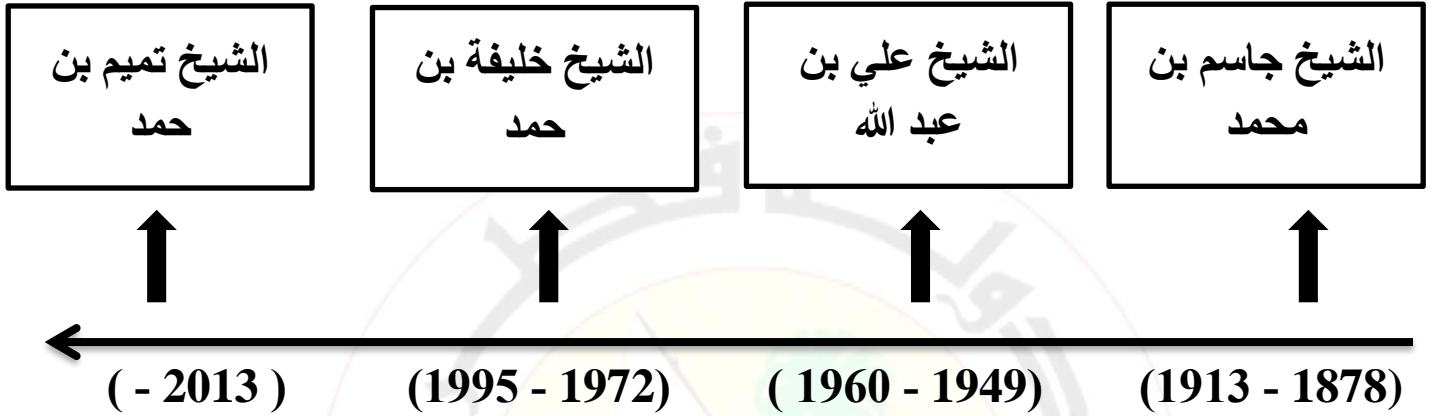
- 1- انتصار القطريين على العثمانيين.
- 2- إطلاق سراح الشيخ أحمد.
- 3- سحب القوات العثمانية إلى الأحساء.
- 4- عزل السلطان الوالي العثماني.

12 - **دليل على: عبقرية الشيخ جاسم بن محمد العسكرية في معركة الوجبة.**

- 1- أوهم العثمانيين بأنه ترك الدوحة وقام بتسريح قواته.
- 2 - سيطر على آبار المياه.
- 3- استدرج العثمانيين حتى منطقة الوجبة.

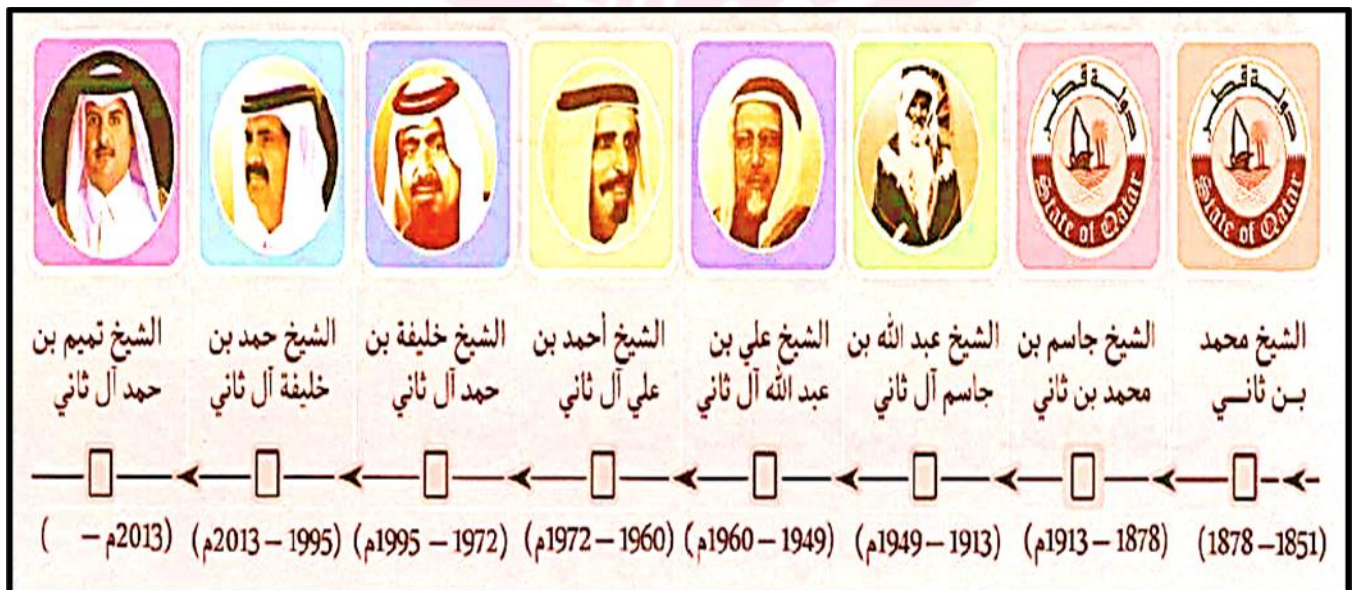
13 - **اكتب الترتيب الصحيح لحكام أسرة آل ثاني من الأقدم إلى الأحدث على الخط الزمني الذي أمامك.**

الشيخ خليفة بن حمد - الشيخ تميم بن حمد - الشيخ علي بن عبد الله - الشيخ جاسم بن محمد



14 - **اكتب الترتيب الصحيح لحكام أسرة آل ثاني من الأقدم إلى الأحدث.**

- 1- الشيخ محمد بن ثاني
- 2- الشيخ جاسم بن محمد بن ثاني
- 3- الشيخ عبد الله بن جاسم آل ثاني
- 4- الشيخ علي بن عبد الله آل ثاني
- 5 - الشيخ احمد بن علي آل ثاني
- 6 - الشيخ خليفة بن حمد آل ثاني
- 7- الشيخ خليفة بن حمد آل ثاني
- 8 - الشيخ تميم بن حمد آل ثاني



مدرسة عمر بن الخطاب الثانوية للبنين - قسم الدراسات الاجتماعية
أوراق اثرية الصف العاشر - الوحدة الثالثة مواطنة - لا تغني عن الكتاب

الأول: اختر السؤال الإجابة الصحيحة من البدائل التالية:

1- نظام عالمي حديث يقوم بإزالة كل الحدود بين الدول ليصبح العالم قرية صغيرة:

- الثقافة. الغزو الثقافي.
 العولمة. العزو العسكري.

2- أي مما يلي من الآثار الإيجابية للعولمة:

- البعد عن الفكر التقليدي. احلال اللغات الغربية محل العربية.
 تقليد الغرب واستعارة سلوكياتهم. طمس الهوية نتيجة الانفتاح العالمي.

3- أي مما يلي من الآثار السلبية للعولمة:

- زيادة التنوع الثقافي. البعد عن الفكر التقليدي المتجمد.
 تنوع وسائل التعبير عن الثقافة. تقليد الغرب واستعارة سلوكياتهم.

4- أي مما يلي من الآثار السلبية للعولمة:

- زيادة التنوع الثقافي. البعد عن الفكر التقليدي المتجمد.
 تنوع وسائل التعبير عن الثقافة. التقليل من أهمية الأدب الوطني.

5- أحد تأثيرات سلبيات العولمة الثقافية تجاه الهوية الوطنية:

- التنوع الثقافي. إحلال اللغات الأجنبية مكان اللغة العربية.
 البعد عن الفكر التقليدي. دمج الثقافة الوطنية بثقافات الشعوب الأخرى.

السؤال الثاني: أجب عن الأسئلة التالية:

1- أذكر أهم وسائل انتقال العولمة الثقافية.

- 1- وسائل التواصل الاجتماعي. 2- القنوات الفضائية.
3- الصحافة الدولية.

2- وضح طرق مواجهة العولمة.

- 1- الاعتزاز بالهوية الوطنية وقيم الدين الإسلامي.
2- حب الوطن، والبعد عن اتخاذ الغرب مثلاً أعلى.
3- مراقبة مناهج الجامعات والمدارس الأجنبية.

3- قارن بين الآثار الايجابية والآثار السلبية للعولمة الثقافية على الهوية الوطنية.

الآثار السلبية للعولمة الثقافية	الآثار الايجابية للعولمة الثقافية
1- تقليد الغرب في سلوكياتهم. 2- إحلال اللغات الغربية مكان اللغة العربية. 3- طمس هوية وثقافة الشعوب.	1- البعد عن الفكر التقليدي المتجمد. 2- زيادة التنوع الثقافي. 3- تنوع وسائل التعبير عن الثقافة والهوية.

4- قارن بين إيجابيات وسلبيات وسائل التواصل الاجتماعي.

سلبيات وسائل التواصل الاجتماعي	إيجابيات وسائل التواصل الاجتماعي
1- التحايل والتزوير. 2- نشر الشائعات. 3- إدمان الانترنت وإهدار الوقت.	1- تساعد طلاب العلم والباحثين. 2- سرعة تداول المعلومات. 3- تساعد في الأعمال الخيرية والتطوعية.

5- وضح طرق الحد من الآثار السلبية لوسائل التواصل الاجتماعي.

- 1- سن القوانين التي تجرم الاستخدام السيء.
- 2- مراقبة الأبناء أثناء استخدامهم للإنترنت.
- 3- إنشاء مواقع مفيدة.
- 4- التوعية بأهمية وسائل التواصل الاجتماعي والتوعية بمخاطرها.
- 5- إجراء المزيد من الأبحاث والدراسات عن سلبيات هذه الوسائل.

مدرسة عمر بن الخطاب الثانوية للبنين - قسم الدراسات الاجتماعية
أوراق اثنائية الصف العاشر - الوحدة الرابعة جغرافيا - لا تغني عن الكتاب

الأول: اختر السؤال الإجابة الصحيحة من البدائل التالية:

1- يُعرف إحصاء وحصر السكان من حيث العدد والنوع والعمر والمهنة باسم:

- الهرم السكاني. النمو السكاني.
 التعداد السكاني. الكثافة السكانية.

2- انخفضت اعداد السكان في دولة قطر عام 1920م (العشرينات) وذلك بسبب:

- انتشار الأمراض. كساد تجارة اللؤلؤ.
 الحروب بين القبائل. زيادة أعداد الوفيات.

3- زيادة اعداد السكان في دولة قطر عام 1970م (السبعينات) بسبب:

- ظهور البترول. انتهاء الحروب الأهلية.
 الأمن والأمان. تقدم حركة النقل والتجارة.

4- يبلغ عدد سكان دولة قطر بالآلاف نسمة عام 2019 حوالي:

- 2.000 4.000
 2.760 6.606

5- تعرف زيادة عدد السكان في منطقة ما خلال فترة زمنية محددة باسم:

- الهرم السكاني. النمو السكاني.
 التعداد السكاني. الكثافة السكانية.

6- تتمثل الزيادة الطبيعية للسكان في الفرق بين:

- المواليد والخصوبة. الخصوبة العامة والخاصة.
 المواليد والوفيات. الهجرة الداخلية والخارجية.

7- الفئة العمرية التي تشكل غالبية السكان في دولة قطر فئة:

- الأطفال. كبار السن.
 الشباب. حديثي الولادة.

8- أكثر بلديات دولة قطر سكاناً بلدية:

- الدوحة. الشمال.
 الريان. الشيحانية.

9- أقل بلديات دولة قطر سكاناً بلدية:

- الدوحة. الشمال.
 الريان. الشيحانية.

10- يرجع انخفاض نسبة الأطفال بدولة قطر إلى:

- عدم الرغبة في إنجاب الأطفال. ارتفاع معدل وفيات الأطفال.
 وجود قوانين تحد من الإنجاب. معظم الوافدين لا يصطحبون أطفالهم.

11- يتركز معظم سكان دولة قطر على امتداد الساحل:

- الشمالي. الشرقي.
 الجنوبي. الغربي.

السؤال الثاني: أجب عن الأسئلة التالية:

1- بم تفسر: انخفاض معدلات المواليد في دولة قطر.

- 1- خروج المرأة للعمل.
- 2- تأخر سن الزواج لبعض الشباب.
- 3- عودة الكثير من عائلات المقيمين لبلادهم وبقاء الآباء بالعمل.

2- بم تفسر: انخفاض معدلات الوفيات في دولة قطر.

- 1- توفير الدولة للرعاية الصحية.
- 2- القضاء على أمراض الطفولة.
- 3- ارتفاع مستوى الوعي الصحي والمعيشة.

3- ما أسباب ارتفاع نسبة العمالة الوافدة بدولة قطر؟

- 1- النهضة الاقتصادية والعمرانية.
- 2- عدم كفاية العمالة الوطنية.
- 3- وفرة فرص العمل وارتفاع مستوى الأجور.

4- ما أسباب ازدهام بلدية الدوحة بالسكان (40%)؟

- 1- لأنها العاصمة وبها مقر الحكم والمؤسسات.
- 2- وفرة فرص العمل بها وتركز الخدمات العامة (صحية ورياضية).
- 3- موقعها الجغرافي وسط البلاد على الساحل الشرقي.
- 4- يوجد بها مطار جوي حديث وميناء الدوحة البحري.

5- **بم تفسر: تحتل بلدية الريان المرتبة الثانية في عدد السكان بدولة قطر.**

1- قربها من الدوحة. 2- مساحتها الكبيرة. 3- تركز بعض الخدمات بها.

6- **ما أسباب زيادة عدد السكان في بلدية الوكرة في السنوات الأخيرة؟**

1- رخص ايجارات المساكن بها.

2- مدينة تجارية وسكنية قريبة من الدوحة.

3- تضم منطقة مسعيد الصناعية وسيلين السياحية.

7- **بم تفسر: تعدُّ بلدية الشَّمَال الأقل في عدد السكَّان بدولة قطر.**

هاجر العديد من السكَّان إلى الدَّوْحَة؛ لوفرة فرص العمل والخدمات العامَّة.

8- **وضح أهمية الدراسات السكانية؟**

1- حل الكثير من المشكلات الاقتصادية والاجتماعية.

2- تحديد نسبة العمالة ومعدل البطالة وحجم القوى العاملة.

9- **فسر: تمثل فئة الشباب أكثر من 85% من سكان دولة قطر؟**

لأن معظم العمالة الوافدة تكون من الشباب.

10- **ما العوامل التي تؤثر في النمو السكاني بدولة قطر؟**

الزيادة الطبيعية – الزيادة غير الطبيعية.

11- **ما المقصود بالهرم السكاني؟**

أحد الأشكال البيانية لتمثيل البيانات السكانية الخاصة بالعمر والنوع.

12- **قارن بين التركيب النوعي والتركيب العمري.**

التركيب العمري	التركيب النوعي
تقسيم السكان حسب فئات العمر إلى أطفال وشباب وكبار السن	تقسيم السكان حسب النوع إلى ذكور وإناث

13- **ما المقصود بعلم الديمغرافيا؟**

هو علم يهتم بدراسة الخصائص السكانية من حيث: الحجم والتوزيع، والكثافة، والتركيب،

ومكونات النمو: الإجاب والوفيات والهجرة.

مدرسة عمر بن الخطاب الثانوية للبنين - قسم الدراسات الاجتماعية
أوراق اثنائية الصف العاشر - الوحدة الخامسة تاريخ - لا تغني عن الكتاب

الأول: اختر السؤال الإجابة الصحيحة من البدائل التالية:

1- **تولى الحكم في دولة قطر بين عامي 1913م- 1949م الشيخ:**

- محمد بن ثاني. جاسم بن محمد.
 عبد الله بن جاسم. علي بن عبد الله.

2- **تم توقيع الاتفاقية الأنجلو عثمانية (البريطانية - العثمانية) عام:**

- 1880م. 1913م.
 1900م. 1920م.

3- **نصت الاتفاقية الأنجلو عثمانية على إلغاء كافة الارتباطات بين قطر و:**

- بريطانيا. الدول الخليجية.
 فرنسا. الدولة العثمانية.

4- **خرجت الحامية العسكرية العثمانية من قطر عام:**

- 1880م. 1913م.
 1900م. 1915م.

5- **ترتب على خروج القوات العثمانية من قطر:**

- قلة تجارة السلاح. ازدياد القرصنة البحرية.
 كساد تجارة اللؤلؤ. سوء الأحوال المعيشية.

6- **تعهدت الحكومة البريطانية ضمن بنود معاهدة 1916 م بحماية إمارة قطر من جهة:**

- البر. البر والبحر.
 البحر. البر والبحر والجو.

7- **توقفت عملية التنقيب عن النفط 1939 م في قطر بسبب:**

- قيام الحرب العالمية الأولى. إفلاس الشركة البريطانية.
 قيام الحرب العالمية الثانية. عمليات القرصنة البحرية.

8- **تنازل الشيخ عبد الله عن الحكم عام 1949 م للشيخ:**

- حمد بن عبد الله آل ثاني. علي بن عبد الله آل ثاني.
 أحمد بن علي آل ثاني. خليفة بن حمد آل ثاني.

9- كانت أكثر الدول الأوروبية استيراداً للؤلؤ الطبيعي من قطر:

- ألمانيا. إسبانيا.
 فرنسا. بريطانيا.

10- تم توقيع معاهدة الحماية في نوفمبر 1916 م، بين الشيخ عبد الله بن جاسم، وبين الكولونيل:

- ساندرز. بي. زد. كوكس.
 بودلي. ألن. بي.

11- شهدت قطر في بدايات حكم الشيخ عبد الله بن جاسم:

- نمواً عمرانياً كبيراً. هجرات خارجة من البلاد.
 هجرات وافدة للبلاد. تصدير النفط للخارج.

12- أوكل الشيخ عبد الله بن جاسم مهمة إنشاء المدرسة الأثرية سنة 1913 م للشيخ:

- إبراهيم الأنصاري. محمد بن جابر الجابر.
 محمد بن مانع. عبد الرحمن بن عبد الله الدرهم.

13- رائدة العمل النسائي وأول معلمة قطرية ومديرة لأول مدرسة نظامية للبنات بقطر:

- رقية عبد الرحمن. حصة ناصر السويدي.
 عليا سالم العلي. أمينة محمود الجيدة.

14- نظام فرضته الدول الاستعمارية على الدول المستعمرة بحيث تتمتع هذه البلاد

باستقلالها الداخلي بينما تتولى الدول الاستعمارية أمور الأمن والدفاع:

- الانتداب. الاستيطان.
 الحماية. الوصاية.

السؤال الثاني: أجب عن الأسئلة التالية:

1- عدد نصوص الاتفاقية الأنجلو – عثمانية، بين بريطانيا والدولة العثمانية عام 1913م.

1- إلغاء الارتباطات العثمانية في قطر 2- حكم إمارة قطر وراثي في أسرة ال ثاني

2- ما النتائج التي ترتبت على انسحاب القوات العثمانية من قطر عام 1915م.

اضطراب الأمن وازدياد القرصنة البحرية على الساحل القطري وازدهار تجارة السلاح

3- ما أسباب توقيع معاهدة الحماية عام 1916م بين بريطانيا وقطر؟

- 1- محاربة بريطانيا لتجارة الرقيق (العبيد)
- 2- انتشار القرصنة البحرية على السواحل القطرية
- 3- ازدهار تجارة السلاح في قطر، واضطراب الأمن
- 4- سقوط منطقة الأحساء في قبضة عبد العزيز آل سعود عام 1913 م.

4- قارن بين بنود معاهدة الحماية عام 1916م ومعاهدة 1935م.

معاهدة الحماية عام 1935م	معاهدة الحماية عام 1916م
1- تعيين معتمد بريطاني في قطر	1- يتعهد الشيخ عبد الله بالقضاء على تجارة العبيد والقرصنة والحفاظ على الأمن
2- إقامة دائرة للبريد والبرق	2- حماية بريطانيا لقطر من جهة البحر
3- حق بريطانيا في التنقيب عن بترول قطر	3- حرية حركة سفن الشيخ عبد الله بالخليج
4- حماية بريطانيا لقطر برا وبحرا وجوا.	

5- بم تفسر: تدهور حرفة الغوص على اللؤلؤ في قطر بداية عهد الشيخ عبد الله بن جاسم.

- 1- اكتشاف اللؤلؤ الصناعي الياباني
 - 2- اغلاق الاسواق الأوروبية أمام اللؤلؤ القطري
- ### 6- وضح بالأدلة مظاهر اهتمام الشيخ عبد الله بن جاسم آل ثاني بالتعليم.

- 1- توسع في انشاء عدد من الكتاتيب.
- 2- أوكل الشيخ محمد بن مانع في انشاء المدرسة الاثرية 1913م
- 2- الاهتمام بتعليم البنات برعاية السيدة آمنة محمود الجيدة.

7- أشرح كيف لعبت المجالس دوراً هاماً في المجتمع القطري.

- 1- ثقافياً: كانت بمثابة أندية ثقافية تدور فيها المناقشات والقاء الشعر وقراءة الروايات.
- 2- اجتماعياً: يصطحب الآباء أبناءهم ليتعلموا فيها أساسيات الحياة وأهم العادات والتقاليد.
- 3- اقتصادياً: مكان لعقد الصفقات التجارية بين التجار المحليين والأجانب.

8- صف أحوال القضاء في عهد الشيخ عبد الله بن جاسم.

- يعين شيخ قطر شخصاً لسماع شكاوى الناس والفصل فيها وان لم يرتضوا حكمه يُرسلهم إلى قاضي: 1- المحاكم الشرعية 2- محكمة السالفة ومن أشهر القضاة في تلك الفترة عبد الرحمن بن عبد الله الدرهم، محمد بن جابر الجابر، محمد بن مانع كبير القضاة في الدوحة

مدرسة عمر بن الخطاب الثانوية للبنين - قسم الدراسات الاجتماعية
أوراق اثرائية الصف العاشر - الوحدة السادسة مواطنة - لا تغني عن الكتاب

الأول: اختر السؤال الإجابة الصحيحة من البدائل التالية:

1- مبدأ من مبادئ الحكم، كان بديلاً سياسياً واجتماعياً عن السلطة عند العرب قبل الإسلام:

الخلافة. الرأسمالية.

الشورى. الليبرالية.

2- يُعدُّ أحد مبادئ الديمقراطية، ويُقصدُ به أن تمارس كل سلطة اختصاصاتها بشكل مستقل:

الشورى. الفصل بين السلطات..

سيادة القانون. المساواة أمام القانون..

3- يُعدُّ الحقُّ في المساواة أمام القانون من الحقوق:

المدنية. الاجتماعية.

الدينية. الاقتصادية.

4- يُعدُّ الحقُّ في التعليم من الحقوق:

المدنية. الاجتماعية.

الدينية. الاقتصادية.

السؤال الثاني: أجب عن الأسئلة التالية:

1- ما أهمية مبدأ الشورى؟

1- تحقيق العدل والمساواة في المجتمع 2- يعزز من الثقة بين أفراد المجتمع.

3- حرية الرأي والتعبير ونبذ الديكتاتورية 4- اتخاذ القرارات السليمة التي تخدم المجتمع.

2- عدد أهم مبادئ الديمقراطية.

1- مبدأ الفصل بين السلطات. 2- مبدأ سيادة القانون. 3- مبدأ حقوق الإنسان.

3- ما أهمية مبدأ الفصل بين السلطات؟

1- ضمان الاستقلالية والنزاهة 2- إيجاد رقابة فعّالة على سلطات الدولة.

3- الحفاظ على الحقوق والحريات. 4- أداء الدولة لوظائفها بإتقان نتيجة تقسيم العمل.

3- ما أهمية مبدأ سيادة القانون؟

- 1- تطبيق أحكام القانون بعدالة ومساواة على كل المواطنين.
- 2- ضمان وجود حكومة شرعية عادلة.
- 3- تنظيم حماية حقوق الإنسان وحُرّياته.

4- صنف أنواع حقوق الانسان في الجدول التالي.

الحقوق المدنية والسياسية	الحقوق الاجتماعية والثقافية	الحقوق الاقتصادية
- حرية التنقل. - المساواة أمام القانون. - حرية الرأي والتعبير. - الترشح والانتخاب. - حماية حقوق الأقليات.	- الحق في التعليم. - الحق في رعاية صحية. - مستوى معيشي لائق. - حماية المصالح المعنوية والمادية.	- حق الملكية. - الحق في العمل. - الحق في الحصول على مُعدّل دخل يوفر للإنسان حياة كريمة.

الموضوعات الاثرائية:

لن تدخل ضمن اختبار نهاية الفصل الدراسي الأول 2021م – 2022م

الوحدة الثالثة: الدرس الأول: الهوية الوطنية (أبعادها ومقوماتها) من صفحة 90 حتى صفحة 101

الوحدة الرابعة: الدرس الثاني: توزيع السكان وكثافتهم في دولة قطر الصفحات 140 -141-142

الوحدة السادسة: الدرس الثاني: النزاهة والشفافية. من صفحة 188 حتى صفحة 194