





مدرسة عبد الحميد الدايل للبنين
الفصل الدراسي الأول للعام 2021-2022م
بنك الأسئلة الوحدة الرابعة – عد الأعداد حتى 20

الاسم:


الصف: أول/.....

اختر الإجابة الصحيحة لكل من الأسئلة من 1 إلى 3، وذلك بوضع علامة × داخل المربع المجاور للإجابة الصحيحة:

| السؤال رقم 1 | |
|---|-----------------------------|
|  | أي مما يلي يمثل عدد السفن ؟ |
| <input type="checkbox"/> | 13 A |
| <input type="checkbox"/> | 14 B |
| <input type="checkbox"/> | 15 C |

| السؤال رقم 2 | |
|---|-----------------------------|
|  | أي مما يلي يمثل عدد البيض ؟ |
| <input type="checkbox"/> | 11 A |
| <input type="checkbox"/> | 12 B |
| <input type="checkbox"/> | 13 C |

السؤال رقم 3



أي مما يلي يمثل عدد قطع العد المجاورة ؟

15

A


16

B

19

C

السؤال رقم 4



أي مما يلي يمثل عدد السلاحف ؟

13

A

14

B

15

C

السؤال رقم 5



أي مما يلي يمثل عدد الصيصان ؟

11

A

12

B

13

C

السؤال رقم 6



أي مما يلي يمثل عدد السيارات ؟

18

A


19

B

20

C

السؤال رقم 7



أي مما يلي يمثل عدد الجزرات ؟

16

A

17

B

19

C

السؤال رقم 8



أي مما يلي يمثل عدد الفراشات ؟

16

A

17

B

18

C

أي مما يلي يمثل العدد 17 ؟



A



B



C

أي مما يلي يمثل العدد 14 ؟



A



B




C

عند الإجابة على الأسئلة من 11 إلى 17، اكتب إجاباتك في المساحات المخصصة لذلك:


السؤال رقم 11

عد الأشياء الموجودة في المجموعة وأكتب العدد




السؤال رقم 12

اكتب العدد الكلي للأسماك.



السؤال رقم 13

اكتب العدد الكلي لقطع العد.




السؤال رقم 14

اكتب العدد الكلي للمكعبات.



السؤال رقم 15

اكتب العدد الكلي للمكعبات.



السؤال رقم 16

اكتب العدد الكلي للمكعبات.



السؤال رقم 17

اكتب العدد الكلي للمكعبات.

