


مدرسة عبد الحميد الدايل للبنين
الفصل الدراسي الأول للعام 2021-2022م
بنك الأسئلة الوحدة الأولى - الأعداد من 1-5


الصف: أول /

الاسم:

اختر الإجابة الصحيحة لكل من الأسئلة من 1 إلى 3 ، وذلك بوضع علامة × داخل المربع المجاور للإجابة الصحيحة:

تعليمات

			السؤال رقم (1)
			أي الأعداد التالية يمثل عدد الكرات؟
			
<input type="checkbox"/>	A	4	
<input type="checkbox"/>	B	5	
<input type="checkbox"/>	C	6	







			السؤال رقم (2)
			أي مما يلي يمثل العدد 3؟
			
<input type="checkbox"/>	A		
<input type="checkbox"/>	B		
<input type="checkbox"/>	C		

			السؤال رقم (3)
			أي مما يلي يمثل عدد الضفادع على جذع الشجرة؟
			
<input type="checkbox"/>	A	2	
<input type="checkbox"/>	B	1	
<input type="checkbox"/>	C	0	

عند الإجابة على الأسئلة من 4 إلى 5، اكتب إجاباتك في المساحات المخصصة لذلك مع توضيح خطوات الحل:

السؤال رقم (4)

عد النماذج التالية و اكتب عدد كل منها في المربع أسفل كل نموذج:

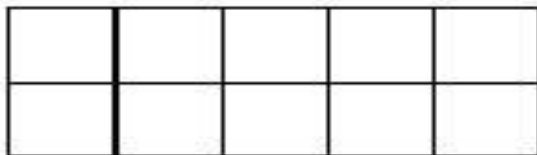
		
		

ارسم نماذج أو قطع عد تمثل بها العدد المعطى:

5	3	1

السؤال رقم (5)

ظلل 5 مربعات:











مدرسة عبد الحميد الدايل للبنين
الفصل الدراسي الأول للعام 2021-2022م
بنك الأسئلة الوحدة الأولى – الأعداد 0 و6 و7

الصف: أول/.....

الاسم:

اختر الإجابة الصحيحة لكل من الأسئلة من 1 إلى 3، وذلك بوضع علامة × داخل المربع المجاور للإجابة الصحيحة:

السؤال رقم 1	
أي مما يلي يمثل العدد 0 ؟	
	<input type="checkbox"/> A
	<input type="checkbox"/> B
	<input type="checkbox"/> C

السؤال رقم 2	
أي مما يلي يمثل العدد 6 ؟	
	<input type="checkbox"/> A
	<input type="checkbox"/> B
	<input type="checkbox"/> C

السؤال رقم 3

أي مما يلي يمثل العدد 7 ؟



A



B




C

عند الإجابة على الأسئلة من 4 إلى 8 ، اكتب إجاباتك في المساحات المخصصة لذلك مع توضيح خطوات الحل:


السؤال رقم 4

اكتب العدد الكلي للفرشات.



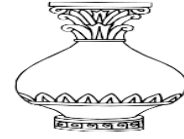
السؤال رقم 5

اكتب العدد الكلي للأسماك.



السؤال رقم 6

اكتب العدد الكلي للأزهار.



السؤال رقم 7

ارسم مجموعة من الدوائر التي تمثل العدد 7

السؤال رقم 8

ارسم مجموعة من الدوائر التي تمثل العدد 6

السؤال رقم 9

اكتب الأعداد بالترتيب من 0 وحتى 10

_____	_____	_____	_____
-----	-----	-----	-----
_____	_____	_____	_____
_____	_____	_____	_____
-----	-----	-----	-----
_____	_____	_____	_____
_____	_____	_____	_____
-----	-----	-----	-----
_____	_____	_____	_____
_____	_____	_____	_____
-----	-----	-----	-----
_____	_____	_____	_____





مدرسة عبد الحميد الدايل للبنين
الفصل الدراسي الأول للعام 2020-2021م
بنك الأسئلة الوحدة الأولى – الأعداد 8-9-10

الصف: أول/.....

الاسم:


اختر الإجابة الصحيحة لكل من الأسئلة من 1 إلى 4، وذلك بوضع علامة × داخل المربع المجاور للإجابة الصحيحة:

		السؤال رقم 1
		ما العدد الذي يمثل الأزهار ؟
		
<input type="checkbox"/>	A	7
<input type="checkbox"/>	B	9
<input type="checkbox"/>	C	10

		السؤال رقم 2
		ما العدد الكلي لحبات الفراولة ؟
		
<input type="checkbox"/>	A	5
<input type="checkbox"/>	B	8
<input type="checkbox"/>	C	9

السؤال رقم 3

ما العدد الذي يمثل العصافير؟



A 9

B 10



C 12

السؤال رقم 4



أي مما يلي يمثل العدد 7؟



عند الإجابة على الأسئلة من 5 إلى 7، اكتب إجاباتك في المساحات المخصصة لذلك مع توضيح خطوات الحل:

السؤال رقم 5
لون 5 مربعات إضافية. ثم اكتب العدد الكلي للمربعات الملونة:



السؤال رقم 6
أقرأ العدد. ثم أرسم نجوما لأمثل العدد:
<h1>10</h1>

السؤال رقم 7
أحوظ 8 أزهار. أكتب العدد.





مدرسة عبد الحميد الدايل للبنين
الفصل الدراسي الأول للعام 2021-2022م
بنك الأسئلة الوحدة الأولى – الأعداد الترتيبية

الاسم:

الصف: أول/.....

اختر الإجابة الصحيحة لكل من الأسئلة من 1 إلى 3، وذلك بوضع علامة × داخل المربع المجاور للإجابة الصحيحة:

السؤال رقم 1
ما هو ترتيب الفراولة؟
الأول →
<input type="checkbox"/> A الأول
<input type="checkbox"/> B الثاني
<input type="checkbox"/> C الثالث

السؤال رقم 2
ما هو ترتيب الخوخ؟
الأول →
<input type="checkbox"/> A الثالث
<input type="checkbox"/> B الرابع
<input type="checkbox"/> C الخامس

السؤال رقم 3

انظر إلى الصورة .

ما هو ترتيب العصفور :

الأول



قطه



كلب



أرنب



عصفور



زرافة



فيل

A الثاني

B الثالث

C الرابع

توضيح خطوات الحل:

السؤال رقم 4

لَا حَظَّ سَالِمٌ فِي الْحَوْضِ الْكَبِيرِ الَّذِي
رَأَاهُ فِي الْمَغْرَضِ نَبَاتَاتٍ بَحْرِيَّةٍ أَيْضًا،
كَالْمَوْصَحَةِ أَدْنَاهُ.
أَحْوَطُ النَّبْتَةَ الْأُولَى.
أَصْعُ إِشَارَةً X عَلَى النَّبْتَةِ السَّادِسَةِ.



السؤال رقم 5

اشترى سالم حوض سمك ووضع في غرفته.
أنظر إلى الصورة وأجب عن الأسئلة التالية.



4. أحوط باللون الأحمر الكرة التي إلى يمين الحقيبة.
5. أرسم سهمًا يشير إلى الطاولة خلف الحقيبة.
6. أحوط باللون الأزرق الكرة التي أمام الطاولة.
7. أضع إشارة X على السمكة فوق الصدفية.

السؤال رقم 6

استعمل صور المركبات للإجابة عن الأسئلة.



شاحنة



طائرة



قارب



سيارة



حافلة



دراجة
نارية



دراجة
هوائية

8. ما ترتيب السيارة؟

7. ما ترتيب الشاحنة؟

10. ما ترتيب المركبة التي خلف الحافلة
مباشرة؟

9. ما ترتيب الحافلة؟

12. إذا تحركت الشاحنة وصارت أمام
الحافلة مباشرة، فماذا يصبح
ترتيب الطائرة؟

11. ما ترتيب القارب؟



مدرسة عبد الحميد الدايل للبنين
الفصل الدراسي الأول للعام 2021-2022م
بنك الأسئلة الوحدة الأولى – العلاقات المكانية

الاسم:

الصف: أول/.....

اختر الإجابة الصحيحة لكل من الأسئلة من 1 إلى 3، وذلك بوضع علامة × داخل المربع المجاور للإجابة الصحيحة:

		السؤال رقم 1
		أي صورة توضح أن الضفدع خلف الوعاء؟
A		
B		
C		

		السؤال رقم 2
		أي صورة توضح أن اللعبة هي أمام الصندوق؟
A		
B		
C		

السؤال رقم 3

أي مما يلي يمثل الكرة على الصندوق؟

A



B



C



عند الإجابة على الأسئلة من 4 إلى 8 ، اكتب إجاباتك في المساحات المخصصة لذلك مع توضيح خطوات الحل:

السؤال رقم 4

الدرجة (4)


أحط كلاً مما يلي:

1. أحط باللون الأحمر الكرسي إلى جهة اليمين.

2. أحط باللون الأخضر اللوحة فوق السرير.

3. أحط باللون الأزرق البطة تحت الطاولة.

4. أضع إشارة X على الوسادة خلف الدب.



الدرجة (1)		السؤال رقم 5
<p>أي شكل مما يلي يمثل الكرة داخل الكرتون؟</p> <div style="display: flex; justify-content: space-around; align-items: flex-start;"> <div style="text-align: center;"> <p>(A)</p>  </div> <div style="text-align: center;"> <p>(C)</p>  </div> </div> <div style="display: flex; justify-content: space-around; align-items: flex-start; margin-top: 20px;"> <div style="text-align: center;"> <p>(B)</p>  </div> <div style="text-align: center;"> <p>(D)</p>  </div> </div>		

الدرجة (3)		السؤال رقم 6
<p>أحوظ كلاً مما يلي:</p> <ol style="list-style-type: none"> 1. أحوظ المكعب فوق الشاحنة. 2. أحوظ القلعة أسفل الكرة. 3. أحوظ الدب بين الصاروخ والشاحنة. <div style="display: flex; justify-content: space-around; align-items: center; margin-top: 20px;">  </div>		