



مجمع الأندلس التعليمي
Andalus Educational Complex
مدرسة الأندلس الابتدائية الخاصة للبنين
تحت إشراف وزارة التربية والتعليم والتعليم العالي

قسم العلوم

الصف الأول

العام الأكاديمي 2021 / 2022

أوراق العمل الخاصة بدروس منتصف الفصل الدراسي الثاني

هذه الأوراق لا تُغني عن الكتاب المدرسي أو تدريبات الكتاب المدرسي

رؤية المدرسة : نَعَلَّمْ عَصْرِي مُلْهُمُ بِهُويَّةٍ وَطَنِيَّةٍ وَقِيَمٍ إِسْلَامِيَّةٍ

@alandalus.pri.boys@education.qa



www.alandalus.qa



44011222



andalusqr 92119



الاسم: _____ الصف: الأول/ _____ التاريخ: _____ / _____ / 2022

1

ورقة عمل (1) – درس (ما الطعام الصحي؟)

1) ما الخصائص التي تظهر أن الطعام طازج؟

A	اللون فقط
B	الرائحة فقط
C	اللون والرائحة

2) طعام محافظ على لونه ورائحته ولمسه يكون.....

A	طعام طازج
B	طعام محفوظ
C	طعام متعفن

3) ما الوصف الصحيح للطعام الموجود أمامك بالصورة؟

A	طعام طازج
B	طعام متعفن
C	طعام محفوظ

4) ضع علامة (✓) أمام العبارة الصحيحة و علامة (x) أمام العبارة الخاطئة.

(-----)	أ) ألوان الأطعمة الطازجة زاهية ورائحتها طيبة.
(-----)	ب) يتناول الإنسان نوعين مختلفين فقط من الأطعمة.
(-----)	ت) يمكن تصنيف الأطعمة إلى طازجة وغير طازجة.



الاسم: _____ الصف: الأول/ _____ التاريخ: _____ / _____ / 2022

ورقة عمل (1) – درس (ما الطعام الصحي؟)

2

5) صل بين الجملة والصورة التي تُعبر عنها.

(أ) طعام غير طازج

(أ) طعام طازج



انسخ الكلمات التالية:

غير طازج

طازج

Andalus Educational Complex
Since 1993



الاسم: الصف: الأول/ التاريخ: / / 2022

1

ورقة عمل (2) – درس (ماذا يحدث عندما يفسد الطعام؟)

1) عندما تُترك الفاكهة الطازجة مدة طويلة
A تتعفن
B تنضج
C يصبح طعمها مالح

A	تتعفن
B	تنضج
C	يصبح طعمها مالح

2) العفن يجعل الطعام
A طازج
B فاسد
C صالح للأكل

A	طازج
B	فاسد
C	صالح للأكل

3) ماذا يحدث للون الحليب عندما يفسد؟
A يتغير إلى اللون الأسود
B يتغير إلى اللون البني
C يتغير إلى لون أصفر خفيف

A	يتغير إلى اللون الأسود
B	يتغير إلى اللون البني
C	يتغير إلى لون أصفر خفيف

4) ضع علامة (✓) أمام العبارة الصحيحة و علامة (x) أمام العبارة الخطأ.

(.....)	أ) العفن يجعل الطعام غير صالح للأكل.
(.....)	ب) الحليب الطازج يميل لونه إلى الصفرة الخفيفة.
(.....)	ت) عندما يفسد الحليب تصبح رائحته كريهة.



الاسم: _____ الصف: الأول/ _____ التاريخ: _____ / _____ / 2022

ورقة عمل (2) – درس (ماذا يحدث عندما يفسد الطعام؟)

2

5) صل بين الجملة والصورة التي تُعبر عنها.

ب) طريقة تبقي الطعام طازجًا لمدة أطول

أ) طعام ينمو عليه العفن



انسخ الكلمات التالية:

فاسد

العفن



الاسم: _____ الصف: الأول/ _____ التاريخ: _____ / _____ / 2022

ورقة عمل (3) – درس (كيف نبقي الطعام طازجاً؟)

1) أي الطرق التالية تبقي الطعام طازجاً لمدة أطول؟	
A	التغليظ
B	التعليب
C	التخليل

2) أي أنواع الطماطم التالية يظل طازجاً لمدة أطول؟	
A	طماطم غير مغلفة
B	طماطم مغلفة
C	طماطم مغلفة بالثلاجة

3) ما الجهاز الذي يساعد على بقاء الطعام طازجاً لمدة أطول؟	
A	الفرن
B	الثلاجة
C	الميكروويف

4) أكمل الجمل التالية مستخدماً الكلام الموجودة بين القوسين: (تنظيف / بارد / تغليظ)

1) (-----) الطعام يبقيه طازجاً لمدة أطول.
2) حفظ الطعام بالثلاجة يجعله (-----).
3) يجب علينا (-----) قبل تغليفه ووضعه بالثلاجة.



الاسم: _____ الصف: الأول/ _____ التاريخ: _____ / _____ / 2022

ورقة عمل (4) – درس (كيف أتجنب التسمم الغذائي؟)

1) أي التصرفات التالية تحمي من التسمم الغذائي؟

A	أكل الطعام مباشرة بعد شرائه من السوق
B	تناول الطعام غير المطهي
C	غسل اليدين قبل الأكل

2) أي الأعراض التالية تدل على أن الإنسان أكل طعام متعفن؟

A	وجع البطن
B	ألم في القدم
C	احمرار العينين

3) ماذا يحدث للإنسان عندما يأكل طعام فاسد؟

A	زيادة في الوزن
B	تسمم غذائي
C	صداع بالرأس


4) اذكر طريقتين تحمي من التسمم الغذائي.


Andalus Educational Complex
Since 1993




الاسم: _____ الصف: الأول/ _____ التاريخ: _____ / _____ / 2022

ورقة عمل (5) – درس (هل أستطيع أن أصنف الأشياء بحسب خصائصها؟)

	1) ما الوصف الصحيح للشيء الموجود أمامك بالصورة؟	
	A	باهت وطري
	B	لامع وطري
C	باهت وقاسي	

	2) ما الوصف الصحيح للشيء الموجود أمامك بالصورة؟	
	A	طري وخشن
	B	قاسي وخشن
C	قاسي وناعم	

	3) ما الوصف الصحيح للشيء الموجود أمامك بالصورة؟	
	A	يغوص وطري
	B	يطفو وقاسي
C	يغوص وقاسي	

4) ضع علامة (✓) أمام العبارة الصحيحة و علامة (x) أمام العبارة الخطأ.

(-----)	أ)لملمس المادة إما أن يكون ناعم أو خشن.
(-----)	ب)الأشياء الباهتة لا يمكنها أن تعكس الضوء.
(-----)	ت)العملة المعدنية عند وضعها في الماء تغوص.




الاسم: _____ الصف: الأول/ _____ التاريخ: _____ / _____ / 2022

ورقة عمل (5) – درس (هل أستطيع أن أصنف الأشياء بحسب خصائصها؟)

2

5) صنف الأشياء التالية عن طريق كتابة الرقم الموجود أسفل الصورة بالجدول.



يغوص	يطفو

6) أكتب صفتين من صفات الكرات الموجودة أمامك بالصورة؟



..... (أ)

..... (ب)



الاسم: الصف: الأول / التاريخ: / / 2022

1

ورقة عمل (6) - درس (هل أستطيع أن أرى من خلال المواد؟)



1) هذا الباب

A شفافة

B معتمة

C شبه شفافة



2) هذه الكرة

A شفافة

B معتمة

C شبه شفافة

3) ما نوع المادة التي تُصنع منها عدسات النظارة الطبية؟

A مادة شفافة

B مادة معتمة

C مادة شبه شفافة

4) أكمل الجمل التالية باستخدام الكلمات الموجودة بين القوسين: (المعتمة / الشفافة)

أ) نستخدم المواد (.....) لنصنع أشياء نحتاج أن نرى من خلالها.

ب) نستخدم المواد (.....) لنصنع أشياء لا نريد أن نرى من خلالها.



الاسم: _____ الصف: الأول/ _____ التاريخ: _____ / _____ / 2022

ورقة عمل (6) - درس (هل أستطيع أن أرى من خلال المواد؟)

2

5) صل بين الجملة والصورة الصحيحة التي تعبر عنها.

ب) كوب معتم



أ) كوب شفاف



انسخ الكلمات التالية:

المعتم

الشفاف



الاسم: _____ الصف: الأول / _____ التاريخ: _____ / _____ / 2022

1

ورقة عمل (7) – درس (كيف أصنف الأشياء بحسب المواد التي صنعت منها؟)

1) ما هي المادة التي لا يجب أن نصنع منها لعب الأطفال؟	
A	الخشب
B	القماش
C	الزجاج

2) ما هي المواد التي يمكن أن نصنع منها طاولة؟	
A	خشب ومعدن
B	ورق ومطاط
C	قماش وإسفنج

3) ما هي المادة القاسية جداً التي نستخدمها في بناء الجسور والمباني؟	
A	القماش
B	المطاط
C	المعدن

4) أكمل الجمل التالية باستخدام الكلمات الموجودة بين القوسين: (المعدن / القماش)

أ) من الممكن صناعة الملابس والمناشف من (.....).

ب) المادة الأساسية التي نصنع منها المقص هي (.....).



الاسم: ----- الصف: الأول/ ----- التاريخ: ----- / ----- / 2022

2

ورقة عمل (7) – درس (كيف أصنف الأشياء بحسب المواد التي صنعت منها؟)

5) صل بين الجملة والصورة الصحيحة التي تعبر عنها.

ب) مصنوع من المعدن

أ) مصنوع من الخشب



6) ضع علامة (✓) أمام العبارة الصحيحة و علامة (x) أمام العبارة الخطأ.

(-----)	أ) تساعدنا حاسة البصر على تحديد المواد التي تُصنع منها الأشياء.
(-----)	ب) من الممكن صناعة المناشف والسكين من نفس المادة.
(-----)	ت) الخشب مادة قاسية ومعتمة وله استخدامات متعددة.