



مدرسة الأندلس الابتدائية

الخاصة - للبنين

تحت إشراف وزارة التربية و التعليم والتعليم العالي

تدريبات اثرائية (1)



اسم الطالب : الصف : / 1 . التاريخ : 2022 /

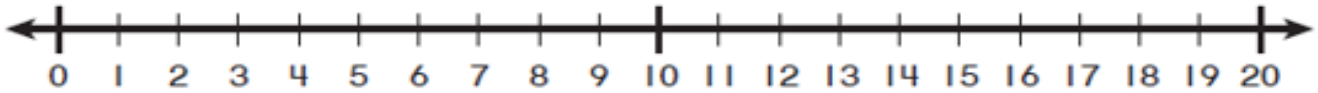
رويتنا : إعداد جيل منتم لدينه ووطنه متمسك بالعلم والقيم في بيئة آمنة ومحفزة .

أجب عن الأسئلة ، وكتب إجابتك في المساحات المخصصة لذلك مع توضيح خطوات الحل .

السؤال رقم (1)

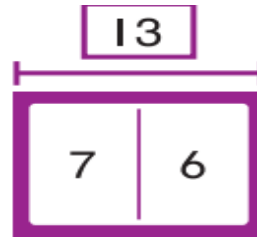
A - استعمل خط الأعداد لإيجاد ناتج الطرح.

وضح عملك .



الإجابة : = 5 _ 14

B - اكتب جملة جمع وجملة طرح من عائلة الحقائق للنموذج التالي :



..... + =

الإجابة :

..... - =





مدرسة الأندلس الابتدائية

□ الخاصة - للبنين

تحت إشراف وزارة التربية و التعليم و التعليم العالي

تدريبات اثنائية (2)



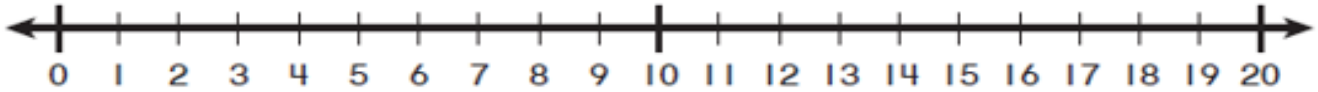
اسم الطالب : الصف : / 1 . التاريخ : 2022 /

رويتنا : إعداد جيل منتم لدينه ووطنه متمسح بالعلم و القيم في بيئة آمنة و محفزة .

أجب عن الأسئلة ، و اكتب إجابتك في المساحات المخصصة لذلك مع توضيح خطوات الحل .

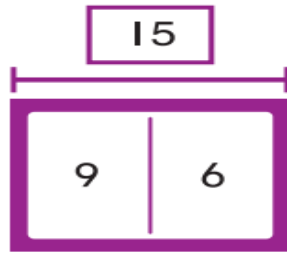
السؤال رقم (1)

A - استعمل خط الأعداد لإيجاد ناتج الطرح.
وضح عملك .



الإجابة : = 4 _ 12

B - اكتب عائلة الحقائق للنموذج التالي :



..... + =

الإجابة :

..... + =

..... - =

..... - =





مدرسة الأندلس الابتدائية

□ الخاصة - للبنين

تحت إشراف وزارة التربية و التعليم والتعليم العالي

تدريبات اثرائية (3)









اسم الطالب : الصف : / 1 . التاريخ : 2022 /

رؤيتنا : إعداد جيل منتم لدينه ووطنه متسلح بالعلم والقيم فى بيئة آمنة ومحفزة .

اختر الإجابة الصحيحة لكل من الأسئلة من 1 إلى 2 ، وذلك بوضع علامة X داخل المربع المجاور للإجابة الصحيحة :

تعليمات

		السؤال رقم (1)	
ما عدد التلاميذ الذين يفضلون الطيور؟			
حَيَوَانَاتُنَا الْأَلِيْفَةُ			
	الطُّيُورُ 	الْقِطَطُ 	الْأَسْمَاكُ 
A	2	 	
B	3		
C	6		

		السؤال رقم (2)	
ما الحيوان الأقل تفضيلا كما يوضح جدول الإشارات؟			
حَيَوَانَاتُنَا الْأَلِيْفَةُ			
	الطُّيُورُ 	الْقِطَطُ 	الْأَسْمَاكُ 
A	القطط	 	
B	الطيور		
C	الأسماك		

أجب عن الأسئلة ، واكتب إجابتك في المساحات المخصصة لذلك مع توضيح خطوات الحل .

السؤال رقم (1)

الدرجة (3)

A - استعمل البيانات الواردة في جدول الإشارات ، ثم أجب عن الأسئلة .














الْوَجْبَةُ الْخَفِيفَةُ الْمَفْضَلَةُ		
كَعْكَ	زَبَادِي	عَنْب
		
	 	

a. ما عدد التلاميذ الذين اختاروا وجبة الزبادي ؟

b. بكم يقل عدد التلاميذ الذين اختاروا الكعك عن الذين اختاروا العنب؟

B - استعمل البيانات الواردة في جدول الإشارات أعلاه وأكمل التمثيل بالمصورات .

الفاكهة المفضلة

 كعك							
 زبادي							
 عنب							



مدرسة الأندلس الابتدائية

الخاصة - للبنين

تحت إشراف وزارة التربية و التعليم و التعليم العالي






اسم الطالب : الصف : / 1. التاريخ : 2022 /

رؤيتنا : إعداد جيل منتم لدينه ووطنه متسلح بالعلم و القيم في بيئة آمنة و محفزة .

تعليمات
اختر الإجابة الصحيحة لكل من الأسئلة من 1 إلى 2 ، وذلك بوضع علامة X داخل المربع المجاور للإجابة الصحيحة :

		السؤال رقم (1)
ما عدد التلاميذ الذين يفضلون الطيور؟		
حَيَوَانَاتُنَا الْأَلْيَفَةُ		
		الطُّيُورُ
		الْقِطَطُ
		الْأَسْمَاكُ
A	2	
B	3	
C	6	

		السؤال رقم (2)
ما الحيوان الأقل تفضيلا كما يوضح جدول الإشارات؟		
حَيَوَانَاتُنَا الْأَلْيَفَةُ		
		الطُّيُورُ
		الْقِطَطُ
		الْأَسْمَاكُ
A	القطط	
B	الطيور	
C	الأسماك	

أجب عن الأسئلة ، و اكتب إجابتك في المساحات المخصصة لذلك مع توضيح خطوات الحل .

السؤال رقم (1)

A - استعمل البيانات الواردة في جدول الإشارات ، ثم أجب عن الأسئلة .













الْوَجْبَةُ الْخَفِيفَةُ الْمَفْضَلَةُ		
كَعَكٌ 	زَبَادِي 	عَنْبٌ 
III	IIII I	IIII

a. ما عدد التلاميذ الذين اختاروا وجبة العنب ؟

b. بكم يقل عدد التلاميذ الذين اختاروا وجبة الكعك عن الذين اختاروا وجبة الزبادي؟

B - استعمل البيانات الواردة في جدول الإشارات أعلاه وأكمل التمثيل بالمصورات .

الفاكهة المفضلة

 كعك							
 زبادي							
 عنب							



مدرسة الأندلس الابتدائية

الخاصة - للبنين

تحت إشراف وزارة التربية و التعليم والتعليم العالي



اسم الطالب : الصف : / 1 . التاريخ : 2022 /

رؤيتنا : إعداد جيل منتم لدينه ووطنه متسلح بالعلم والقيم في بيئة آمنة ومحفزة .

اختر الإجابة الصحيحة لكل من الأسئلة من 1 إلى 2 ، وذلك بوضع علامة X داخل المربع المجاور للإجابة الصحيحة :

تعليمات

السؤال رقم (1)

أي مما يلي يمثل الأعداد الناقصة في لوحة الأعداد ؟

71	72	73	74	75	76	77	78	79	80
81	82	83	___	85	86	87	88	89	___
91	92	93	94	95	96	97	98	99	100

A 71 و 97

B 74 و 80

C 84 و 90

السؤال رقم (2)

أي مما يلي يمثل الأعداد الناقصة في لوحة الأعداد ؟

61	62	63	64	65	66	67	68	69	70
71	72	73	74	75	76	77	___	79	80
81	82	83	84	85	86	87	___	89	90

A 78 و 88

B 88 و 89

C 89 و 90

اختر الإجابة الصحيحة لكل من الأسئلة من 1 إلى 2 ، وذلك بوضع علامة X داخل المربع المجاور للإجابة الصحيحة :

السؤال رقم (1)

انظر إلى لوحة الأعداد ، ثم أجب عن الأسئلة .

A - اكتب الأعداد الناقصة في الصف الثاني .

1	2	3	4	5	6	7	8	9	10
11	12	13	14	15	16	17	18	19	20
21				25	26	27	28	29	30
31	32	33	34	35	36	37	38	39	40
41	42	43	44	45	46	47	48	49	50

B - ما رقم العشرات الذي يتكرر في الصف الثالث ؟


.....

A - عد بالعشرات ، ثم اكتب العدد .



الإجابة :

B - عد بالعشرات وبالأحاد ، ثم اكتب العدد الكلي للمكعبات .



الإجابة :



مدرسة الأندلس الابتدائية

الخاصة - للبنين

تحت إشراف وزارة التربية و التعليم والتعليم العالي



اسم الطالب : الصف : / 1 . التاريخ : 2022 /

رؤيتنا : إعداد جيل منتم لدينه ووطنه متسلح بالعلم والقيم في بيئة آمنة ومحفزة .

اختر الإجابة الصحيحة لكل من الأسئلة من 1 إلى 2 ، وذلك بوضع علامة X داخل المربع المجاور للإجابة الصحيحة :

تعليمات

السؤال رقم (1)	الدرجة (1)																																								
أي مما يلي يمثل الأعداد الناقصة في لوحة الأعداد ؟																																									
<table border="1"><tr><td>51</td><td>52</td><td>53</td><td>54</td><td>55</td><td>56</td><td>57</td><td>58</td><td>59</td><td>___</td></tr><tr><td>61</td><td>62</td><td>63</td><td>64</td><td>65</td><td>66</td><td>___</td><td>68</td><td>69</td><td>70</td></tr><tr><td>71</td><td>72</td><td>73</td><td>74</td><td>75</td><td>76</td><td>77</td><td>78</td><td>79</td><td>80</td></tr><tr><td>81</td><td>82</td><td>83</td><td>84</td><td>85</td><td>86</td><td>87</td><td>88</td><td>89</td><td>90</td></tr></table>		51	52	53	54	55	56	57	58	59	___	61	62	63	64	65	66	___	68	69	70	71	72	73	74	75	76	77	78	79	80	81	82	83	84	85	86	87	88	89	90
51	52	53	54	55	56	57	58	59	___																																
61	62	63	64	65	66	___	68	69	70																																
71	72	73	74	75	76	77	78	79	80																																
81	82	83	84	85	86	87	88	89	90																																
A 50 و 51																																									
B 55 و 56																																									
C 60 و 67																																									

السؤال رقم (1)	الدرجة (1)																														
أي مما يلي يمثل الأعداد الناقصة في لوحة الأعداد ؟																															
<table border="1"><tr><td>71</td><td>72</td><td>73</td><td>74</td><td>75</td><td>76</td><td>77</td><td>78</td><td>79</td><td>80</td></tr><tr><td>81</td><td>82</td><td>83</td><td>___</td><td>85</td><td>86</td><td>87</td><td>88</td><td>89</td><td>___</td></tr><tr><td>91</td><td>92</td><td>93</td><td>94</td><td>95</td><td>96</td><td>97</td><td>98</td><td>99</td><td>100</td></tr></table>		71	72	73	74	75	76	77	78	79	80	81	82	83	___	85	86	87	88	89	___	91	92	93	94	95	96	97	98	99	100
71	72	73	74	75	76	77	78	79	80																						
81	82	83	___	85	86	87	88	89	___																						
91	92	93	94	95	96	97	98	99	100																						
A 74 و 80																															
B 84 و 90																															
C 94 و 90																															

اختر الإجابة الصحيحة لكل من الأسئلة من 1 إلى 2 ، وذلك بوضع علامة X داخل المربع المجاور للإجابة الصحيحة :

السؤال رقم (1)

انظر إلى لوحة الأعداد ، ثم أجب عن الأسئلة .


A - اكتب الأعداد الناقصة في الصف الثاني .

1	2	3	4	5	6	7	8	9	10
11	12	13	14	15	16	17	18	19	20
21	22	23	24	25	26	27	28	29	30
31	32	33	34				38	39	40
41	42	43	44	45	46	47	48	49	50

B - ما رقم العشرات الذي يتكرر في الصف الأخير ؟

.....


A - عد بالعشرات ، ثم اكتب العدد .



الإجابة :

.....

B - عد بالعشرات وبالأحاد ، ثم اكتب العدد الكلي للمكعبات .



الإجابة :

.....



مدرسة الأندلس الابتدائية

الخاصة - للبنين

تحت إشراف وزارة التربية و التعليم والتعليم العالي



تدريبات اثنائية (7)

اسم الطالب : الصف : / 1 . التاريخ : 2022 /

رؤيتنا : إعداد جيل منتم لدينه ووطنه متسلح بالعلم والقيم فى بيئة آمنة ومحفزة .

تعليمات
اختر الإجابة الصحيحة لكل من الأسئلة من 1 إلى 2 ، وذلك بوضع علامة X داخل المربع المجاور للإجابة الصحيحة :

السؤال رقم (1)
قرأ خليفة كتابا يحتوي على 40 صفحة. أي مما يلي يمكن أن يمثل 40 صفحة؟
A 0 آحاد و 3 عشرات
B 0 آحاد و 4 عشرات
C 0 آحاد و 6 عشرات

السؤال رقم (2)
لدى فهد علبة بها 60 مكعباً . أي مما يلي يمكن أن يمثل 60 صفحة؟
A 0 آحاد و 6 عشرات
B 0 آحاد و 7 عشرات
C 0 آحاد و 8 عشرات

A . اكتب الأعداد الناقصة .

ثمانية عشر

..... هو آحاد و 1 عشرات

B . عد الآحاد والعشرات ، ثم اكتب العدد .



الإجابة : 8 آحاد و 4 عشرات تساوي



مدرسة الأندلس الابتدائية

الخاصة - للبنين

تحت إشراف وزارة التربية و التعليم والتعليم العالي



تدريبات اثنائية (8)

اسم الطالب : الصف : / 1 . التاريخ : 2022 /

رؤيتنا : إعداد جيل منتم لدينه ووطنه متسلح بالعلم والقيم فى بيئة آمنة ومحفزة .

تعليمات
اختر الإجابة الصحيحة لكل من الأسئلة من 1 إلى 2 ، وذلك بوضع علامة X داخل المربع المجاور للإجابة الصحيحة :

السؤال رقم (1)
قرأ خليفة قصة تحتوي على 60 صفحة. أي مما يلي يمكن أن يمثل 60 صفحة؟
<input type="checkbox"/> A 0 آحاد و 5 عشرات
<input type="checkbox"/> B 0 آحاد و 6 عشرات
<input type="checkbox"/> C 0 آحاد و 7 عشرات


السؤال رقم (2)
لدى فهد علبة بها 90 كرة زجاجية . أي مما يلي يمكن أن يمثل 90 صفحة؟
<input type="checkbox"/> A 0 آحاد و 7 عشرات
<input type="checkbox"/> B 0 آحاد و 8 عشرات
<input type="checkbox"/> C 0 آحاد و 9 عشرات

A . اكتب الأعداد الناقصة .

تسعة عشر

..... هو أحاد و 1 عشرات

B . عد الأحاد والعشرات ، ثم اكتب العدد .



الإجابة : 7 أحاد و 5 عشرات تساوي