

تدريبات اثرائية



المادة : الحوسبة وتكنولوجيا المعلومات

اسم الطالب :..... الصف: الأول /

عزيزي ولي الأمر:

نقدم اليكم بعض التدريبات الاثرائية التي تساعد الطالب على المذاكرة واستذكار الدروس لاختبار
نهاية الفصل الدراسي الثاني لعام 2020-2021

نرجو العلم أن هذه التدريبات لا تغني عن كتاب الطالب حيث ان المصدر الأساسي للاختبار.



بعلمي واجتهادي، ابني بلادي قطر

منسقة المادة / مشاعل المناعي

مديره المدرسة: لولوه المهندي

النائب الأكاديمي : غالية الهاجري

السؤال الأول : اختر الإجابة الصحيحة مما يلي بوضع دائرة :

1. يتصل جهاز الحاسوب المكتبي في مدرستك بالإنترنت

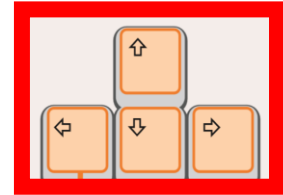
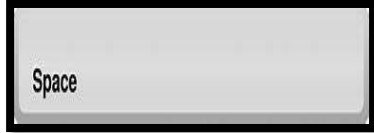


اتصال كهربائي

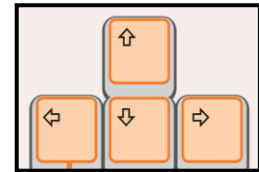

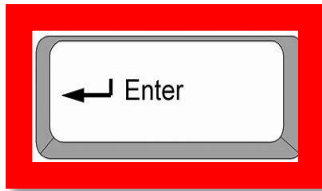
اتصال لا سلكي

اتصال سلكي

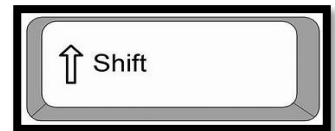
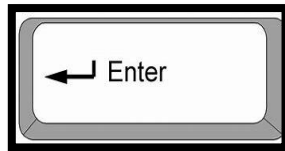

5- الأسهم في لوحة المفاتيح هي :-



6- مفتاح يستخدم لإنشاء سطر جديد في لوحة المفاتيح



7- مفتاح في لوحة المفاتيح يستخدم لإضافة مسافة بين الكلمات :-




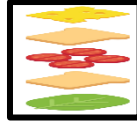
8- زر (تقدم للأمام) من أزرار Bee Bot هو :-



9- الخطوة الأولى من خطوات الصلاة












10- ينتج عن اتباع التسلسل





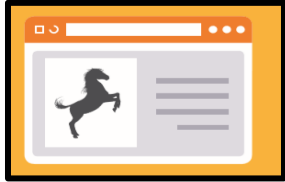

11- المرحلة الأولى من مراحل عمر الانسان







السؤال الثاني : صل بين العمود (A) و العمود (B) :-

<u>B</u>	<u>A</u>
	(1) <u>لحذف الحرف التالي للمؤشر</u>
	(2) <u>الخطوة الأولى من خطوات الاستعداد للذهاب الى المدرسة هي :-</u>
	(3) <u>من قواعد الأمان عند استخدام الانترنت</u>
	(4) <u>الصورة الدالة على الهويات هي</u>
<u>اتصال سلكي</u>	(5) <u>البرنامج المستخدم في تصفح الويب</u>
	(6) <u>الحاسوب الذي أمامك</u> التالي يتصل بالإنترنت اتصال
	(7) <u>لكتابة الحروف الإنجليزية الكبيرة يتم الضغط على :-</u>
	(8) <u>الصورة الدالة على الأقمار الصناعية هي</u>
	(9) <u>الخطوة الأولى من خطوات غسيل الاسنان هي :-</u>
	(10) <u>زر (التف يميناً) من أزرار Bee Bot هو :-</u>

السؤال الثالث : صل بين كل استخدام من استخدامات الإنترنت بالصورة المناسبة له

<u>الصورة المناسبة</u>	<u>استخدامات الإنترنت</u>
	1. من استخدامات الإنترنت <u>الاستماع الى الملفات الصوتية ومشاهدة مقاطع الفيديو</u>
	2. من استخدامات الإنترنت <u>استخدام الخرائط لتحديد الموقع</u>
	3. من استخدامات الإنترنت <u>التواصل مع الأصدقاء</u>
	4. من استخدامات الإنترنت <u>زيارة مواقع الويب</u>

السؤال الرابع : صل بين كل قاعدة من قواعد الأمان عند استخدام الإنترنت بالصورة المناسبة له


<u>الصورة المناسبة</u>	<u>قواعد الأمان عند استخدام الإنترنت</u>
	<u>1. لا ترسل صور شخصية للغرباء</u>
	<u>2. الانترنت لا تشارك أحد كلمة المرور</u>
	<u>3. الانترنت لا تشارك أحد معلوماتك الشخصية</u>
	<u>4. الانترنت لا تتحدث مع الغرباء</u>

السؤال الخامس :- رتب الخطوات التالية

A. الصلاة




(1)



(2)

B. لبس الجوارب




(1)



(2)

السؤال السادس :-

ارسم الشكل الصحيح في المربع الفارغ.



السؤال السابع :-

أوجد الشكل المفقود.

ضع دائرة حول الثمرة المناسبة أدنى المربع.

