

السؤال رقم (3)

ما ناتج الطرح ؟

عشرات	آحاد
<input type="text"/>	<input type="text"/>
4	8
<hr/>	
<input type="text"/>	<input type="text"/>

A 40

B 41

C 42

السؤال رقم (4)

A - اكتب مسألة الطرح . ثم أوجد ناتج الطرح .

عشرات	آحاد
<input type="text"/>	<input type="text"/>
9	6
<hr/>	
<input type="text"/>	<input type="text"/>

B - ما ناتج الطرح ؟

عشرات	آحاد
<input type="text"/>	<input type="text"/>
9	5
<hr/>	
5	1
<hr/>	
<input type="text"/>	<input type="text"/>



مدرسة الأندلس الابتدائية

الخاصة للبنين

تحت إشراف وزارة التربية والتعليم والتعليم العالي

أوراق إثرائية (2)



اسم الطالب : الصف : / 2 . التاريخ : 2022 /

رؤيتنا : إعداد جيل منتم لدينه ووطنه متمسك بالعلم والقيم في بيئة آمنة ومحفزة .

السؤال رقم (1)

ما القيمة الكلية للعمات المعدنية المبينة أدناه ؟



- A 50 درهماً
 B 75 درهماً
 C 100 درهم

السؤال رقم (2)


عد تصاعدياً لإيجاد القيمة الكلية للأوراق النقدية .

A -



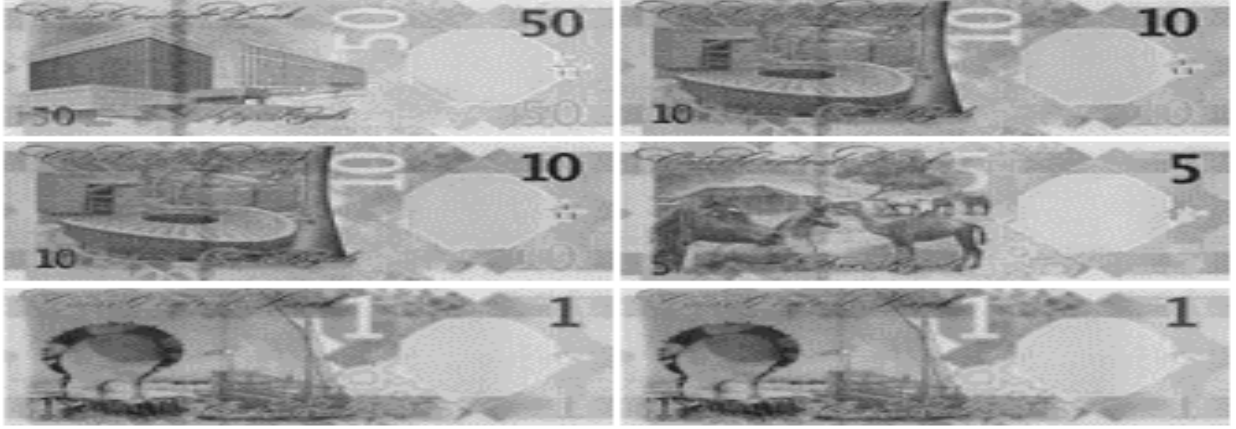
..... QR

B -



..... QR

A - توضح الأوراق النقدية أدناه المبلغ الذي إيدخره حمد .
ما المبلغ الكلي الذي إيدخره حمد ؟



..... QR

B - حدد الوقت بكتابة الأرقام بحيث تظهر كلتا الساعتين نفس الوقت .



السؤال رقم (4)

ما القيمة الكلية للعملات المعدنية المبينة أدناه ؟



- A 50 درهماً
- B 75 درهماً
- C 100 درهم

السؤال رقم (5)


عد تصاعدياً لإيجاد القيمة الكلية للأوراق النقدية .

A -




..... QR

B -



..... QR

A - توضح الأوراق النقدية أدناه المبلغ الذي إيدخره إبراهيم .
ما المبلغ الكلي الذي إيدخره إبراهيم ؟



..... QR

B - حدد الوقت بكتابة الأرقام بحيث تظهر كلتا الساعتين نفس الوقت .





مدرسة الأندلس الابتدائية

الخاصة للبنين


تحت إشراف وزارة التربية والتعليم والتعليم العالي


أوراق إثرائية (3)



اسم الطالب : الصف : / 2 . التاريخ : 2022 /

رؤيتنا : إعداد جيل منتم لدينه ووطنه متسلح بالعلم والقيم في بيئة آمنة ومحفزة .

		السؤال رقم (1)
		ما عدد المئات في الشكل التالي ؟
		
A	4	
B	5	
C	6	

		السؤال رقم (2)	
		اكتب العدد . استعمل النموذج وجدول القيمة المنزلية إذا لزم الأمر .	
			
	مِئَات	عَشْرَات	آحَاد
.....			

A - اكتب < أو > أو = .

$$577 \quad \bigcirc \quad 577$$

$$834 \quad \bigcirc \quad 843$$


$$365 \quad \bigcirc \quad 356$$

B - اكتب العدد 743 بالصيغة التحليلية .

$$\dots\dots\dots + \dots\dots\dots + \dots\dots\dots$$

السؤال رقم (4)


ما عدد المئات في الشكل التالي ؟



- A 5
 B 6
 C 7

السؤال رقم (5)

اكتب العدد .
استعمل النموذج وجدول القيمة المنزلية إذا لزم الأمر .



مِائَات	عَشْرَات	آحَاد

.....

A - اكتب < أو > أو =

622 ○ 622

789 ○ 987

483 ○ 473

B - اكتب العدد 537 بالصيغة التحليلية .

..... + +