


أوراق عمل إثرائية (الوحدة الخامسة) العلوم
صف أول

الاسم:..... الصف:.....




اختر الإجابة الصحيحة بوضع علامة (X) داخل المربع:-

1		ما الصورة التي تدل على شيء باهت؟
	A	
	B	
	C	

2		ما هي المادة المستخدمة في صنع الطاولة الظاهرة في الصورة؟
	A	خشب
	B	ورق
	C	معدن

3		ماهي المادة التي <u>لا</u> تستخدم لصنع ألعاب الأطفال؟
	A	القماش
	B	الزجاج
	C	البلاستيك

	<p>ما هو ملمس الريش ؟</p>	<p>4</p>
<p>خشن</p>	<p>A</p>	
<p>لين</p>	<p>B</p>	
<p>قاسٍ</p>	<p>C</p>	

<p>أي من الأشياء التالية صنع من القماش ؟</p>		<p>5</p>
	<p>A</p>	
	<p>B</p>	
	<p>C</p>	

<p>أي من الأشياء التالية صنع من مادة معتمة ؟</p>		<p>6</p>
	<p>A</p>	
	<p>B</p>	
	<p>C</p>	

صل بين العمود (1) وما يناسبه من العمود (2) :

العمود (2)

العمود (1)

● لامع

●



● معتم

●



● شفاف

●



● لين

●



ضع علامة (√) امام العبارة الصحيحة وعلامة (x) امام العبارة الخاطئة :

- 1- يمر الضوء بشكل جزئي من خلال المادة شبه الشفافة ()
- 2- الخشب مادة شفافة ()
- 3- يستخدم الزجاج في المباني والجسور ()
- 4- ملمس الريش ناعم ()
- 5- يمكن استخدام المادة نفسها لصنع أشياء مختلفة ()
- 6- يمكن للأشياء الباهتة أن تعكس الضوء ()
- 7- لا تسمح المواد المعتمة بمرور الضوء من خلالها ()
- 8- يمكن تحديد المادة التي صنع منها الشيء باستخدام حاسة الشم ()

1- ما هي المادة التي يمر من خلالها الضوء بشكل كامل ونستطيع أن نرى من خلالها ؟

.....

2- فسر سبب استخدام المعدن في المباني والجسور؟

.....

3- فسر سبب استخدام الورق في صنع الكتب ؟

.....



4- اذكر المادة التي صنع منها الشيء الظاهر في الصورة ؟

.....

5 – اذكر المادة التي تستخدم لصنع الأبواب والأثاث ؟

.....



6- حدد المادتين اللتين صنع منهما الشيء الظاهر في الصورة .

.....