



# مدرسة الأندلس الابتدائية

□ الخاصة - للبنين

تحت إشراف وزارة التربية و التعليم و التعليم العالي

تدريبات اترائية ( 1 )



اسم الطالب : ..... الصف : ..... / 1 . التاريخ : 2022 /

رؤيتنا : إعداد جيل منتم لدينه ووطنه متمسح بالعلم و القيم في بيئة آمنة و محفزة .

أجب عن الأسئلة ، و اكتب إجابتك في المساحات المخصصة لذلك مع توضيح خطوات الحل .

السؤال رقم (1)

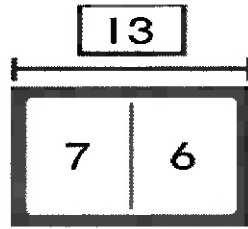
A - استعمل خط الأعداد لإيجاد ناتج الطرح.

وضح عملك .



الإجابة :  $14 - 5 = \dots 9 \dots$

B - اكتب جملة جمع وجملة طرح من عائلة الحقائق للنموذج التالي :



$\dots 7 \dots + \dots 6 \dots = \dots 13 \dots$

الإجابة :

$\dots 13 \dots - \dots 6 \dots = \dots 7 \dots$





# مدرسة الأندلس الابتدائية

الخاصة - للبنين

تحت إشراف وزارة التربية و التعليم و التعليم العالي

تدريبات اثنائية ( 2 )



اسم الطالب : ..... الصف : ..... / 1 . التاريخ : 2022 /

رؤيتنا : إعداد جيل منتم لدينه ووطنه متسلح بالعلم و القيم في بيئة آمنة و محفزة .

أجب عن الأسئلة ، و اكتب إجابتك في المساحات المخصصة لذلك مع توضيح خطوات الحل .

السؤال رقم (1)	
A - استعمل خط الأعداد لإيجاد ناتج الطرح . وضح عملك .	
الإجابة : $12 - 4 = 8$	
B - اكتب عائلة الحقائق للنموذج التالي :	
$9 + 6 = 15$	
$6 + 9 = 15$	
$15 - 6 = 9$	
$15 - 9 = 6$	





# مدرسة الأندلس الابتدائية

□ الخاصة - للبنين

تحت إشراف وزارة التربية و التعليم و التعليم العالي

تدريبات اثرائية ( 3 )









اسم الطالب : ..... الصف : ..... / 1 . التاريخ : 2022 /

رويتنا : إعداد جيل منتم لدينه ووطنه متمسح بالعلم و القيم في بيئة آمنة و محفزة .

تعليمات

اختر الإجابة الصحيحة لكل من الأسئلة من 1 إلى 2 ، وذلك بوضع علامة X داخل المربع المجاور للإجابة الصحيحة :

		السؤال رقم (1)		
ما عدد التلاميذ الذين يفضلون الطيور؟				
<b>حيواناتنا الأليفة</b>				
	الطيور	القطط	الأسماك	
				
A	2	<del>     </del>		
B	3			
<input checked="" type="checkbox"/>	6			

		السؤال رقم (2)		
ما الحيوان الأقل تفضيلا كما يوضح جدول الإشارات؟				
<b>حيواناتنا الأليفة</b>				
	الطيور	القطط	الأسماك	
				
A	القطط	<del>     </del>		
B	الطيور			
<input checked="" type="checkbox"/>	الأسماك			

أجب عن الأسئلة ، واكتب إجابتك في المساحات المخصصة لذلك مع توضيح خطوات الحل .

السؤال رقم (1)	الدرجة (3)
----------------	------------

A - استعمل البيانات الواردة في جدول الإشارات ، ثم أجب عن الأسئلة .

















الوجبة الخفيفة المفضلة		
كعك	زبادي	عنب
		
	<del>    </del>	

a. ما عدد التلاميذ الذين اختاروا وجبة الزبادي ؟ ..... 6 .....

b. بكم يقل عدد التلاميذ الذين اختاروا الكعك عن الذين اختاروا العنب؟ ..... 1 .....

B - استعمل البيانات الواردة في جدول الإشارات أعلاه وأكمل التمثيل بالمصورات .

الفاكهة المفضلة

 كعك							
 زبادي							
 عنب							



# مدرسة الأندلس الابتدائية

الخاصة - للبنين

تحت إشراف وزارة التربية و التعليم و التعليم العالي

تدريبات افرائية ( 4 )




اسم الطالب : ..... الصف : ..... / 1 . التاريخ : 2022 /






رؤيتنا : إعداد جيل منتم لدينه ووطنه متمسح بالعلم و القيم في بيئة آمنة و محفزة .

تعليمات

اختر الإجابة الصحيحة لكل من الأسئلة من 1 إلى 2 ، وذلك بوضع علامة X داخل المربع المجاور للإجابة الصحيحة :

		السؤال رقم (1)
ما عدد التلاميذ الذين يفضلون الطيور؟		
<b>حَيَوَانَاتُنَا الْأَلْيَقَةُ</b>		
		الطُّيُورُ
		الْقِطُّ
		الْأَسْمَاكُ
<input type="checkbox"/> A	2	 <del>     </del>
<input type="checkbox"/> B	3	 
<input checked="" type="checkbox"/> C	6	 

		السؤال رقم (2)
ما الحيوان الأقل تفضيلا كما يوضح جدول الإشارات؟		
<b>حَيَوَانَاتُنَا الْأَلْيَقَةُ</b>		
		الطُّيُورُ
		الْقِطُّ
		الْأَسْمَاكُ
<input type="checkbox"/> A	القطط	 <del>     </del>
<input type="checkbox"/> B	الطيور	 
<input checked="" type="checkbox"/> C	الأسماك	 

أجب عن الأسئلة ، واكتب إجابتك في المساحات المخصصة لذلك مع توضيح خطوات الحل .

السؤال رقم (1)

A - استعمل البيانات الواردة في جدول الإشارات ، ثم أجب عن الأسئلة .
















الْوَجْبَةُ الْخَفِيفَةُ الْمَفْصَلَةُ		
كعك	زبادي	عنب
		
	<del>    </del>	

a. ما عدد التلاميذ الذين اختاروا وجبة العنب ؟ ..... 4 .....

b. بكم يقل عدد التلاميذ الذين اختاروا وجبة الكعك عن الذين اختاروا وجبة الزبادي؟ ..... 3 .....

B - استعمل البيانات الواردة في جدول الإشارات أعلاه وأكمل التمثيل بالمصورات .

الفاكهة المفضلة

 كعك							
 زبادي							
 عنب							



# مدرسة الأندلس الابتدائية

الخاصة - للبنين

تحت إشراف وزارة التربية و التعليم و التعليم العالي



اسم الطالب : ..... الصف : ..... / 1 . التاريخ : 2022 /

رؤيتنا : إعداد جيل منتم لدينه ووطنه متمسك بالعلم و القيم في بيئة آمنة و محفزة .

تعليمات  
اختر الإجابة الصحيحة لكل من الأسئلة من 1 إلى 2 ، وذلك بوضع علامة X داخل المربع المجاور للإجابة الصحيحة :


			السؤال رقم (1)						
أي مما يلي يمثل الأعداد الناقصة في لوحة الأعداد ؟									
71	72	73	74	75	76	77	78	79	80
81	82	83	---	85	86	87	88	89	---
91	92	93	94	95	96	97	98	99	100
<input type="checkbox"/> A	71 و 97								
<input type="checkbox"/> B	74 و 80								
<input checked="" type="checkbox"/>	84 و 90								

			السؤال رقم (2)						
أي مما يلي يمثل الأعداد الناقصة في لوحة الأعداد ؟									
61	62	63	64	65	66	67	68	69	70
71	72	73	74	75	76	77	---	79	80
81	82	83	84	85	86	87	---	89	90
<input checked="" type="checkbox"/>	78 و 88								
<input type="checkbox"/> B	88 و 89								
<input type="checkbox"/> C	89 و 90								






A - عد بالعشرات ، ثم اكتب العدد .



.....50

الإجابة :

B - عد بالعشرات وبالأحاد ، ثم اكتب العدد الكلي للمكعبات .



.....86

الإجابة :



# مدرسة الأندلس الابتدائية

الخاصة - للبنين

تحت إشراف وزارة التربية و التعليم و التعليم العالي



تدريبات اثنائية ( 6 )

اسم الطالب : ..... الصف : ..... / 1 . التاريخ : 2022 /

رؤيتنا : إعداد جيل منتم لدينه ووطنه متمسك بالعلم و القيم في بيئة آمنة و محفزة .

اختر الإجابة الصحيحة لكل من الأسئلة من 1 إلى 2 ، وذلك بوضع علامة X داخل المربع المجاور للإجابة الصحيحة :

تعليمات

الدرجة (1)	السؤال رقم (1)																																								
	أي مما يلي يمثل الأعداد الناقصة في لوحة الأعداد ؟																																								
	<table border="1"><tbody><tr><td>51</td><td>52</td><td>53</td><td>54</td><td>55</td><td>56</td><td>57</td><td>58</td><td>59</td><td>60</td></tr><tr><td>61</td><td>62</td><td>63</td><td>64</td><td>65</td><td>66</td><td>67</td><td>68</td><td>69</td><td>70</td></tr><tr><td>71</td><td>72</td><td>73</td><td>74</td><td>75</td><td>76</td><td>77</td><td>78</td><td>79</td><td>80</td></tr><tr><td>81</td><td>82</td><td>83</td><td>84</td><td>85</td><td>86</td><td>87</td><td>88</td><td>89</td><td>90</td></tr></tbody></table>	51	52	53	54	55	56	57	58	59	60	61	62	63	64	65	66	67	68	69	70	71	72	73	74	75	76	77	78	79	80	81	82	83	84	85	86	87	88	89	90
51	52	53	54	55	56	57	58	59	60																																
61	62	63	64	65	66	67	68	69	70																																
71	72	73	74	75	76	77	78	79	80																																
81	82	83	84	85	86	87	88	89	90																																
<input type="checkbox"/>	A 50 و 51																																								
<input type="checkbox"/>	B 55 و 56																																								
<input checked="" type="checkbox"/>	C 60 و 67																																								

الدرجة (1)	السؤال رقم (1)																														
	أي مما يلي يمثل الأعداد الناقصة في لوحة الأعداد ؟																														
	<table border="1"><tbody><tr><td>71</td><td>72</td><td>73</td><td>74</td><td>75</td><td>76</td><td>77</td><td>78</td><td>79</td><td>80</td></tr><tr><td>81</td><td>82</td><td>83</td><td>84</td><td>85</td><td>86</td><td>87</td><td>88</td><td>89</td><td>90</td></tr><tr><td>91</td><td>92</td><td>93</td><td>94</td><td>95</td><td>96</td><td>97</td><td>98</td><td>99</td><td>100</td></tr></tbody></table>	71	72	73	74	75	76	77	78	79	80	81	82	83	84	85	86	87	88	89	90	91	92	93	94	95	96	97	98	99	100
71	72	73	74	75	76	77	78	79	80																						
81	82	83	84	85	86	87	88	89	90																						
91	92	93	94	95	96	97	98	99	100																						
<input type="checkbox"/>	A 74 و 80																														
<input checked="" type="checkbox"/>	B 84 و 90																														
<input type="checkbox"/>	C 94 و 90																														

اختر الإجابة الصحيحة لكل من الأسئلة من 1 إلى 2 ، وذلك بوضع علامة X داخل المربع المجاور للإجابة الصحيحة :

السؤال رقم (1)

انظر إلى لوحة الأعداد ، ثم أجب عن الأسئلة .


A - اكتب الأعداد الناقصة في الصف الثاني .

1	2	3	4	5	6	7	8	9	10
11	12	13	14	15	16	17	18	19	20
21	22	23	24	25	26	27	28	29	30
31	32	33	34	35	36	37	38	39	40
41	42	43	44	45	46	47	48	49	50

B - ما رقم العشرات الذي يتكرر في الصف الأخير ؟

.....4.....


A - عد بالعشرات ، ثم اكتب العدد .



50

الإجابة :

B - عد بالعشرات وبالأحاد ، ثم اكتب العدد الكلي للمكعبات .



33

الإجابة :



## مدرسة الأندلس الابتدائية

□ الخاصة - للبنين

تحت إشراف وزارة التربية و التعليم والتعليم العالي



تدريبات انرائية (7)

اسم الطالب : ..... الصف : ..... / 1 . التاريخ : 2022 /

رؤيتنا : إعداد جيل منتم لدينه ووطنه متمسك بالعلم والقيم في بيئة آمنة ومحفزة .

تعليمات

اختر الإجابة الصحيحة لكل من الأسئلة من 1 إلى 2 ، وذلك بوضع علامة X داخل المربع المجاور للإجابة الصحيحة :

السؤال رقم (1)
قرأ خليفة كتابا يحتوي على 40 صفحة. أي مما يلي يمكن أن يمثل 40 صفحة؟
<input type="checkbox"/> A 0 أحاد و 3 عشرات
<input checked="" type="checkbox"/> B 0 أحاد و 4 عشرات
<input type="checkbox"/> C 0 أحاد و 6 عشرات



السؤال رقم (2)
لدى فهد علبة بها 60 مكعباً . أي مما يلي يمكن أن يمثل 60 صفحة؟
<input checked="" type="checkbox"/> A 0 أحاد و 6 عشرات
<input type="checkbox"/> B 0 أحاد و 7 عشرات
<input type="checkbox"/> C 0 أحاد و 8 عشرات

A . اكتب الأعداد الناقصة .

ثمانية عشر

.....18 هو .....8..... أحاد و 1 عشرات

B . عد الأحاد والعشرات ، ثم اكتب العدد .

عَشْرَات	أَحَاد
	

الإجابة : 8 أحاد و 4 عشرات تساوي .....48.....



# مدرسة الأندلس الابتدائية

الخاصة - للبنين

تحت إشراف وزارة التربية و التعليم و التعليم العالي



تدريبات اترائية ( 8 )

اسم الطالب : ..... الصف : ..... / 1 . التاريخ : 2022 /

رؤيتنا : إعداد جيل منتم لدينه ووطنه متمسك بالعلم و القيم في بيئة آمنة و محفزة .

تعليمات  
اختر الإجابة الصحيحة لكل من الأسئلة من 1 إلى 2 ، وذلك بوضع علامة X داخل المربع المجاور للإجابة الصحيحة :

			السؤال رقم (1)
			قرأ خليفة قصة تحتوي على 60 صفحة. أي مما يلي يمكن أن يمثل 60 صفحة؟
<input type="checkbox"/>	A	0 أحاد و 5 عشرات	
<input checked="" type="checkbox"/>	B	0 أحاد و 6 عشرات	
<input type="checkbox"/>	C	0 أحاد و 7 عشرات	

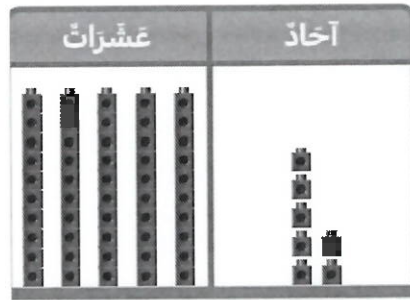
			السؤال رقم (2)
			لدى فهد علبة بها 90 كرة زجاجية . أي مما يلي يمكن أن يمثل 90 صفحة؟
<input type="checkbox"/>	A	0 أحاد و 7 عشرات	
<input type="checkbox"/>	B	0 أحاد و 8 عشرات	
<input checked="" type="checkbox"/>	C	0 أحاد و 9 عشرات	

A . اكتب الأعداد الناقصة .

تسعة عشر

..... 19 هو ..... 19 أحاد و 1 عشرات

B . عد الأحاد والعشرات ، ثم اكتب العدد .



الإجابة : 7 أحاد و 5 عشرات تساوي ..... 57 .....