



مدرسة عبد الحميد الدايل للبنين
الفصل الدراسي الثاني للعام 2021-2020م
بنك الأسئلة الوحدة الخامسة عشر

الصف: أول/.....




الاسم:.....





اختر الإجابة الصحيحة لكل من الأسئلة من 1 و 2، وذلك باختيار الإجابة الصحيحة بوضع دائرة حول رمز الإجابة الصحيحة:

	أي مربع يظهر 4 أجزاء متساوية؟	1
A		
B		
C		

	أي مما يلي يمثل عدد الأجزاء المتساوية في الدائرة؟	2
A	1	
B	2	
C	3	

اكتب إجابتك في المساحة المخصصة للإجابة:


اكتب عدد الأجزاء المتساوية في كل شكل		3
		
_____ من الأجزاء المتساوية	_____ من الأجزاء المتساوية	_____ من الأجزاء المتساوية

حوظ الاشكال التي تحتوي على ربع واحد مظل		4
		
		

ألوان الشكل الممثل ادناه :		5
		
ربع واحد	نصف واحد	


أقسم هذا المربع الى نصفين ثم أظلل نصفاً واحداً من المربع

6




أكتب عدد الأشكال المتساوية في كل شكل من الأشكال التالية :

7



أجزاء متساوية

.....



أجزاء متساوية

.....