




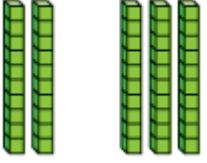
مدرسة عبد الحميد الدايل للبنين
الفصل الدراسي الثاني للعام 2021-2020م
بنك الأسئلة الوحدة العاشرة

الصف: أول/.....

الاسم:.....

اختر الإجابة الصحيحة لكل من الأسئلة من 1 إلى 4، وذلك بوضع علامة × داخل المربع المجاور للإجابة الصحيحة:

		1
	ما الجملة العددية التي يمثلها الشكل التالي؟	
	$30 + 30 = 60$	<input type="checkbox"/> A
	$3 + 3 = 6$	<input type="checkbox"/> B
	$30 + 3 = 33$	<input type="checkbox"/> C

		2
	ما الجملة العددية التي يمثلها الشكل التالي:	
	$20 + 3 = 23$	<input type="checkbox"/> A
	$20 + 30 = 50$	<input type="checkbox"/> B
	$2 + 3 = 5$	<input type="checkbox"/> C

		3
ركب 8 أشخاص الحافلة وركب 50 شخص في حافلة أخرى ، أي من الجمل التالية توضح عدد الركاب في الحافلتين معاً؟		
	$8 + 50 = 58$	A
	$80 + 7 = 87$	B
	$90 + 8 = 98$	C

		4
في أي من جمل الجمع التالية يمكنني تكوين 10 لأجمع؟		
	$24 + 14 =$	A
	$16 + 13 =$	B
	$17 + 25 =$	C

عند الإجابة على الأسئلة من 5 إلى 7 ، اكتب إجاباتك في المساحات المخصصة لذلك مع توضيح خطوات الحل:

	السؤال رقم 5																																								
استعمل الجزء من لوحة المئة لأجمع:																																									
<table border="1" style="margin-left: auto; margin-right: auto;"> <tr><td>1</td><td>2</td><td>3</td><td>4</td><td>5</td><td>6</td><td>7</td><td>8</td><td>9</td><td>10</td></tr> <tr><td>11</td><td>12</td><td>13</td><td>14</td><td>15</td><td>16</td><td>17</td><td>18</td><td>19</td><td>20</td></tr> <tr><td>21</td><td>22</td><td>23</td><td>24</td><td>25</td><td>26</td><td>27</td><td>28</td><td>29</td><td>30</td></tr> <tr><td>31</td><td>32</td><td>33</td><td>34</td><td>35</td><td>36</td><td>37</td><td>38</td><td>39</td><td>40</td></tr> </table>		1	2	3	4	5	6	7	8	9	10	11	12	13	14	15	16	17	18	19	20	21	22	23	24	25	26	27	28	29	30	31	32	33	34	35	36	37	38	39	40
1	2	3	4	5	6	7	8	9	10																																
11	12	13	14	15	16	17	18	19	20																																
21	22	23	24	25	26	27	28	29	30																																
31	32	33	34	35	36	37	38	39	40																																
➤	$17 + 10 = \dots\dots\dots$																																								
➤	$4 + 35 = \dots\dots\dots$																																								

ارسم قوالب القيم المنزلية لأجمع.

هل احتاج إلى تكوين 10؟ أحوط نعم أو لا.


عَشْرَات	أَحَاد

لا نعم

عَشْرَات	أَحَاد
4	8
5	0
+	

هل أكون 10؟

اكتب الأعداد لإكمال الجملة العددية:



عَشْرَات _____ + عَشْرَات _____ =

عَشْرَات _____

_____ + _____ = _____



عَشْرَات _____ + عَشْرَات _____ =

عَشْرَات _____

_____ + _____ = _____