

-----  
١٠

نموذج إجابة قياس نهاية الوحدة التعليمية الأولى للصف الثالث الابتدائي  
الفصل الدراسي الثاني  
الكفايات الخاصة المتضمنة في الوحدة التعليمية : ( ١ - ٣ ) ( ٢ - ١ )


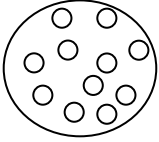
-----  
٢

س ١ : ضع بين القوسين علامة ( ✓ ) عند العبارة الصحيحة وعلامة ( x ) عند العبارة غير الصحيحة فيما يلي :

- ١ - التربة الرملية هي السائدة في بلادي . ( ✓ )  
٢ - النباتات الصحراوية جذورها قصيرة . ( x )

-----  
٢

س ٢ : اختر من العمود ( ب ) ما يتناسب مع عبارات العمود ( أ ) وصل بينهما:

المجموعة ( أ )	المجموعة ( ب )
• نباتات تنمو وتزدهر بعد هطول الأمطار	- نباتات معمرة - نباتات حولية
• حبيبات التربة الرملية تكون	-  - 

س ٣ : أكمل العبارات التالية بما يناسبها علمياً :

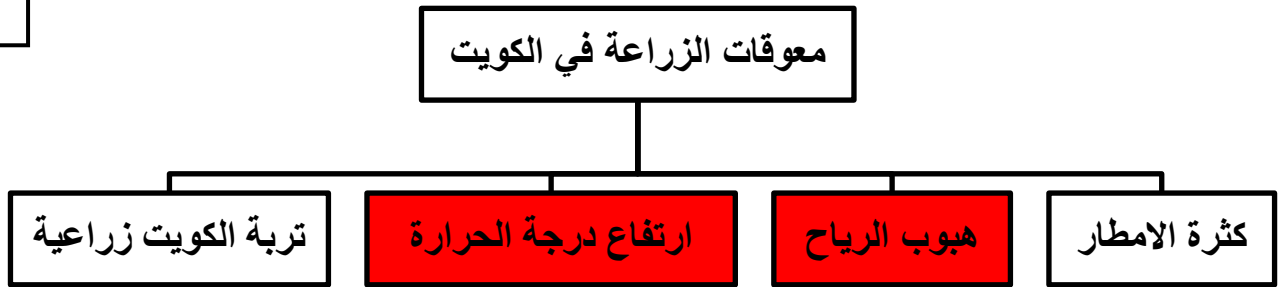
-----  
٢

١-نباتات بلادي أوراقها ..... **صغيرة** ..... ( صغيرة – كبيرة )

٢-النباتات التي تنمو طوال السنة تعرف بالنباتات ..... **المعمرة** ..... ( الحولية – المعمرة )

س ٤ : امامك مخطط سهمي ظللي الأسباب التي تعيق الزراعة في الكويت :

-----  
٢



س ٥ : ألقب اسم شكل سطح الأرض الذي تمثله كل صورة :

-----  
٢



----- **تلال** ----- وارة



----- **هضبة** ----- الأحمدى