

وزارة التربية

الإدارة العامة لمنطقة حولي التعليمية

مدرسة السلام الابتدائية بنات

ورقة عمل للمادة الرياضيات

للف الثاني الابتدائي

الفصل الدراسي الأول - الوحدة السادسة والسابعة

الاسم : -----

الصف : -----

٢٠١٨ - ٢٠١٩

السؤال الأول:- أكمل :-

٢ ، ٤ ، ٦ ، --- ، --- ، ---

٥ ، ١٠ ، ١٥ ، --- ، --- ، ---

١٠ ، ٢٠ ، ٣٠ ، --- ، --- ، ---

السؤال الثاني:-

أكمل بإمكانك استخدام العناصر :-

$$\square = 2 \times 6$$

$$\square = 0 \times 4$$

$$\square = 0 \times 9$$

$$\square = 1 \times 3$$

$$\square = 2 \times 4$$

$$\begin{array}{r} 5 \\ 3 \times \\ \hline \square \end{array}$$

$$\begin{array}{r} 2 \\ 4 \times \\ \hline \square \end{array}$$

$$\begin{array}{r} 5 \\ 2 \times \\ \hline \square \end{array}$$

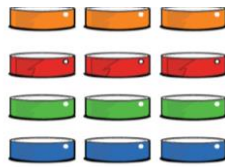
$$\square = 0 \times 7$$

$$\square$$

$$\square$$

$$\square$$

كم عدد الاسطوانات ؟



$$\text{-----} = \text{-----} + \text{-----} + \text{-----} + \text{-----}$$

عدد الكل


السؤال الثالث:- أوجد الناتج :-

كم عدد الصافرات ؟



$$\text{-----} = \text{-----} + \text{-----}$$

عدد الكل



عدد الصفوف المتساوية

عدد العناصر في كل صف


$$\text{-----} = \text{-----} \times \text{-----}$$

السؤال الرابع:- أكمل :-

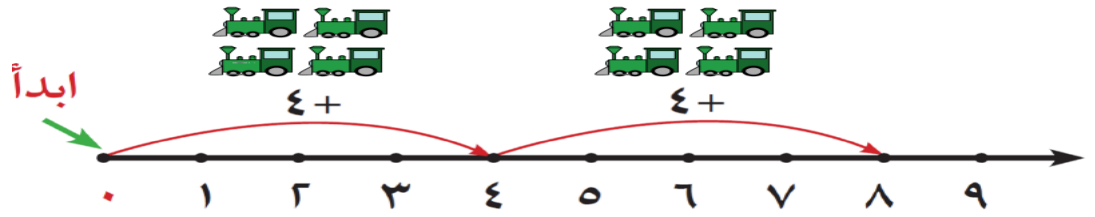
عدد الصفوف المتساوية


عدد العناصر في كل صف


$$\text{-----} = \text{-----} \times \text{-----}$$




السؤال الخامس:- أوجد الناتج باستخدام خط الاعداد:-



 = $4 \times 2 =$ عدد كل القطارات



 = $5 \times 2 =$ عدد كل الاسماك

السؤال السادس:- اختر الاجابة الصحيحة :-

- جمع عمر 5 صناديق من الموز ، في كل منها 3 موزات ما عدد كل الموز ؟

10

12

15

$12 = \square \times 4$

5

3

4

$= 5 \times 2$

1×5

2×5

7×2



- عبارة الضرب المناسبة هي

$8 = 1 \times 8$

$8 = 2 \times 4$

$10 = 5 \times 2$