

تمارين مادة الرياضيات – الوحدة الثامنة

أكملي:



$$= 2 + 2 + 2$$

$$= 3 \times 2$$



عبري بعبارة الضرب المناسبة:



$$----- = ----- \times -----$$



$$----- = ----- \times -----$$



$$----- = ----- \times -----$$



أوجدني الناتج باستخدام خط الأعداد:

$$= 9 \times 2$$

$$= 3 \times 3$$

$$= 3 \times 4$$

أوجدني الناتج باستخدام الرسم بالصور:

$$= 8 \times 2$$

$$= 5 \times 3$$

عبري عن الصورة بعبارة ضرب كاملة



بنات

=

x

شاهدت أمل في الحديقة أربعة أشجار، في كل شجرة ثلاث تفاحات

كم عدد التفاح؟



٢ X ٦ لها نفس ناتج:

$$٢ \times ٦$$

$$٣ \times ٣$$

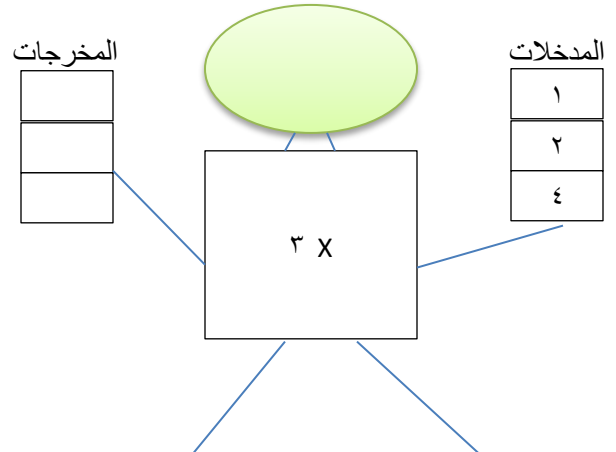
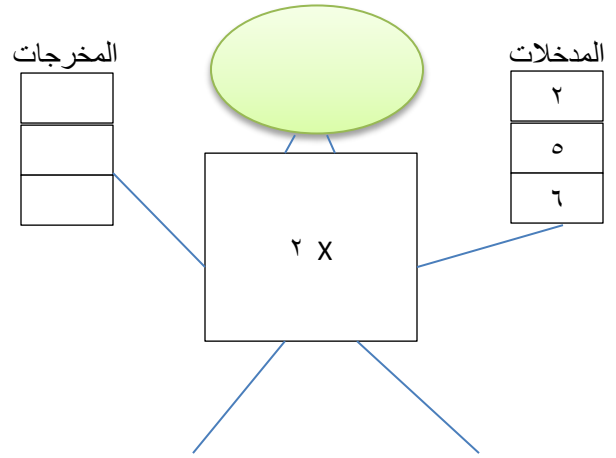
$$٢ \times ٤$$

باستخدام العناصر لبناء المصفوفات أوجد


$$٤ \times ٥$$

$$٨ \times ٢$$


أكمل:



عبري بعبارة الضرب المناسبة



$$\text{○} = \text{○} \times \text{○}$$



$$\text{○} = \text{○} \times \text{○}$$

نسقت أجوان 4 مزهريات في كل منها زهرتان، كم عدد الأزهار؟



$$\text{-----} = \text{-----} \times \text{-----} = \text{عدد الأزهار}$$

