



وزارة التربية  
الإدارة العامة لمنطقة الأحمدى التعليمية  
مدرسة أنيسة بنت خبيب الأنصارية  
( المرحلة الثانوية )

# دليل تاريخ دولة الكويت للسف العاشر



د. نادية العرفان

الموجه العام للاحتسابات

إعداد المعلمة/أ. مها جمعان العازمي  
قسم العلوم الفلسفية . مدرسة أنيسة بنت خبيب الأنصارية المشتركة ( المرحلة الثانوية )

العام الدراسي ٢٠١٨ / ٢٠١٩ م

المربية



وزارة



Onisahighschool@outlok.com



Onysa\_school



Onysa\_school Secondary

النوسيد القصر العدة للاحتسابات



وزارة التربية  
الإدارة العامة لمنطقة الأحمدى التعليمية  
مدرسة أنيسة بنت خبيب الأنصارية  
(المرحلة الثانوية)

بِسْمِ اللَّهِ الرَّحْمَنِ الرَّحِيمِ



**إعداد المعلمة**  
**أ. مها جمعان العازمي**  
قسم العلوم الفلسفية  
مدرسة أنيسه بنت خبيب الانصارية المشتركة  
(المرحلة الثانوية)

**إشراف**  
رئيسة قسم العلوم الفلسفية  
**أ. مستوره المطيري**

الموجهة الفنية  
**أ. مريم المطيري**

مديرة المدرسة  
**أ. باسمه الهدبه**



# إهداء

إلى الموجه الفني العام للإجتماعيات

د. / نادية العريفان

والموجه الفني الأول للإجتماعيات

في منطقة الأحمدية التعليمية

أ. محمد العتيبي

ولدولتي الحبيبة الكويت

وأبنائنا الطلبة والطالبات في الصف العاشر

مع خالص شكري وتقديري

لكل من ساعدني وساهم في


إنجاز هذا الدليل

أ.مها العازمي





# الفصل الدراسي الأول

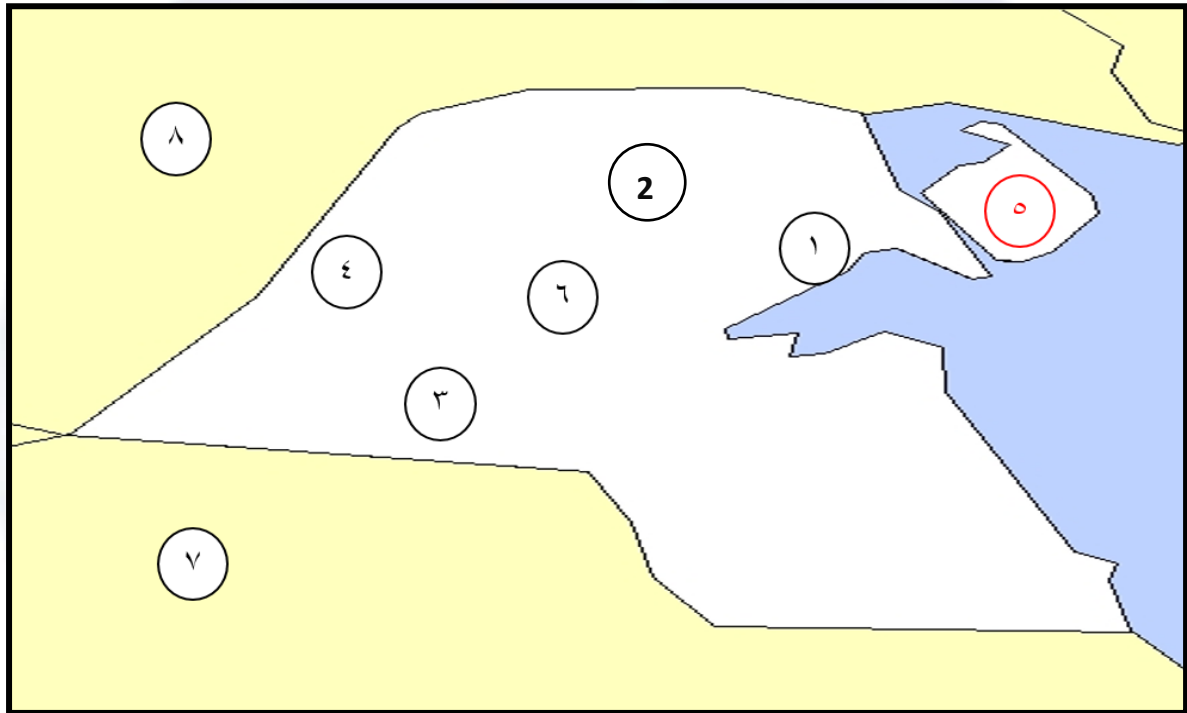




## الفصل الأول معالم الكويت الجغرافية والاقتصادية والحضارية



**السؤال الأول: ( أ ) لاحظ الخريطة التي أمامك ثم أجب عما يليها:**



1- الرقم ( 8 ) على الخريطة يمثل دولة تحد دولة الكويت من جهة الشمال والشمال الغربي تسمى ( **العراق** )

ص21

2- الرقم ( 7 ) على الخريطة يمثل دولة تحد دولة الكويت من جهة الجنوب والجنوب الغربي تسمى ( **السعودية** )

ص21

ص21

ص21

ص21

ص21

ص21

ص21

3- تل حافة جال الزور يمثله على الخريطة الرقم ( **1** )

4- تلال كراع المرو يمثله على الخريطة الرقم ( **6** )

5- سهل الدبدبة يمثله على الخريطة الرقم ( **3** )

6- وادي الباطن يمثله على الخريطة الرقم ( **4** )

7- سهل الروضتين يمثله على الخريطة الرقم ( **2** )

8- ضع الرقم ( **5** ) على جزيرة بوبيان



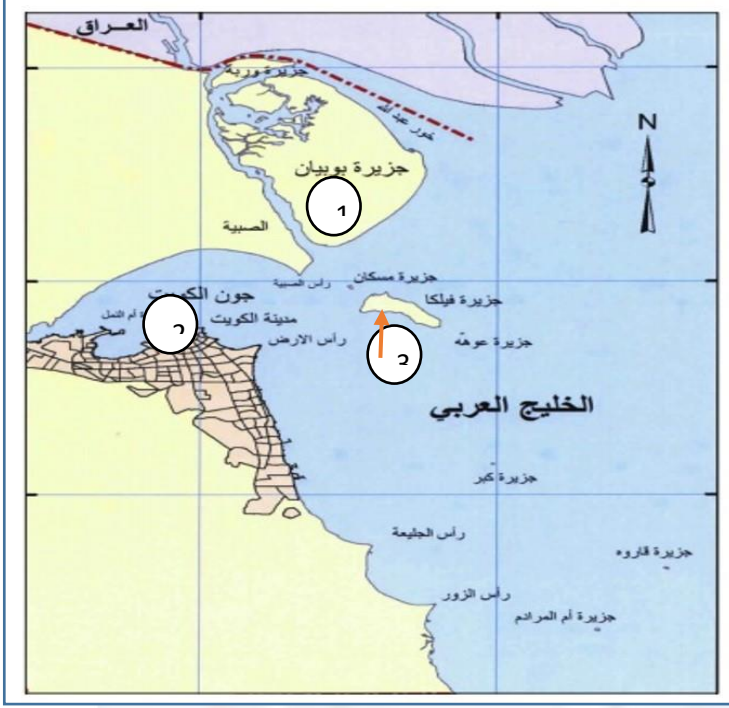


## دليل تاريخ دولة الكويت للفصل العاشر- الفصل الدراسي الأول



وزارة التربية  
الإدارة العامة لمنطقة الأحمدى التعليمية  
مدرسة أنيسة بنت خبيب الأنصارية  
(المرحلة الثانوية)

### (ب) أمامك خريطة الجزر الكويتية أكتب مدلول الأرقام التالية:

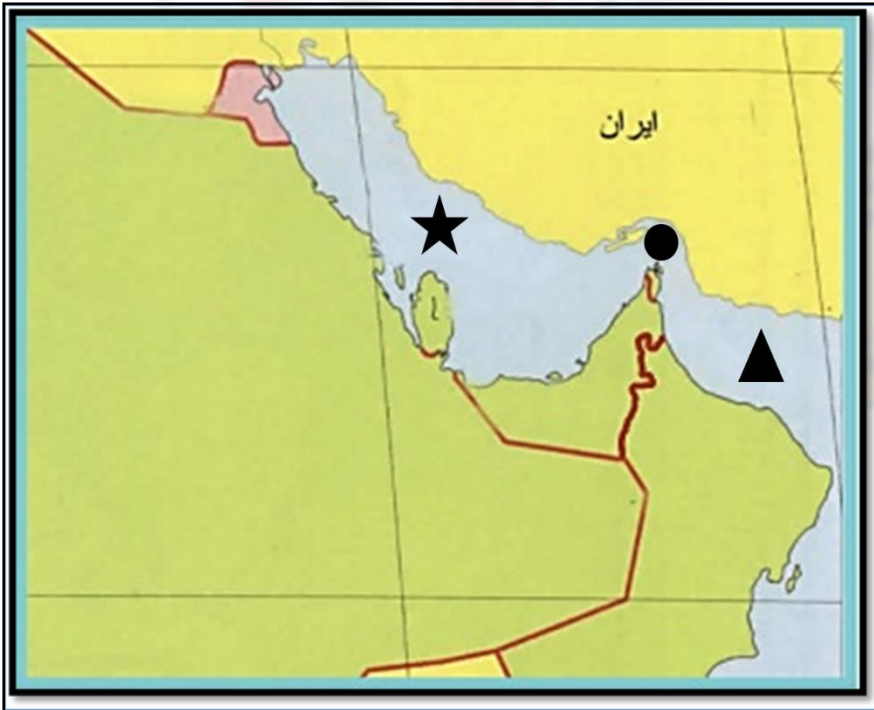


1- أهم الجزر الكويتية من حيث التاريخ بما تحويه من إشارات ودلائل أثرية ومعمارية قديمة.  
الرقم (3) ص 28

2- جزيرة تمثل ما نسبته 5% من المساحة الإجمالية للبلاد يمثلها على الخريطة الرقم (1) ص 28

3- جزيرة أصبحت جزءاً من ميناء منطقة الشويخ بعد ردم الجزء المحصور بينها وبين الساحل يمثلها على الخريطة الرقم (2) ص 28

### (ج) حدد على الخريطة الصماء المقابلة: ص 39



1- موقع الخليج العربي بالرمز ★

2- مضيق هرمز بالرمز ●

3- خليج عمان بالرمز ▲





## دليل تاريخ دولة الكويت للفصل العاشر- الفصل الدراسي الأول

### السؤال الثاني أكمل العبارات التالية:

- 1- يحد دولة الكويت من جهة الشمال والشمال الغربي دولة تسمى العراق ص 22
- 2- يحد دولة الكويت من جهة الجنوب دولة تسمى السعودية ص 22
- 3- يحد دولة الكويت من جهة الشرق مسطح مائي يسمى الخليج العربي ص 22
- 4- تقع دولة الكويت في الجزء الشمالي الشرقي من شبه الجزيرة العربية ص 22
- 5- تقع دولة الكويت بين خطي عرض 28,45 - 30,05 شمال خط الاستواء ص 22
- 6- تقع دولة الكويت بين خطي طول 46,30 - 48,30 شرق خط جرينتش ص 22
- 7- تبلغ مساحة دولة الكويت 17,818 ألف كيلومتر مربع ص 22
- 8- تضم دولة الكويت عدة أودية صحراوية جافة من أشهرها وادي يسمى الباطن ص 25
- 9- السهل الذي يحتل مساحة كبيرة في غرب وجنوب الكويت يسمى سهل الدبدبة ص 25
- 10- أشهر السهول الموجودة في دولة الكويت يسمى سهل برقان ص 27
- 11- الطريق الذي يعتبر أحد أهم المحاور الأكثر استخداما للتجارة الدولية في العالم القديم يسمى طريق الحرير ص 40
- 12- أكبر الجزر الكويتية حيث تمثل نسبة 5% من المساحة الإجمالية للبلاد. بوبيان ص 28
- 13- جزيرة أصبحت غير مأهولة بالسكان بعد أحداث الغزو العراقي لدولة الكويت عام 1990م تسمى فيلكا ص 29
- 14- ظاهرة مناخية تهب في أواخر الربيع وأوائل الصيف تسمى السرايات ص 34
- 15- يعود الوجود البشري في دولة الكويت إلى أكثر من 4000 ق.م ص 36
- 16- أول تعداد رسمي سكاني في دولة الكويت عام 1957م ص 36
- 17- أجري أول تعداد سكاني في دولة الكويت في عهد الشيخ. عبدالله السالم الصباح ص 36
- 18- بلغت نسبة الوافدين في دولة الكويت عام 1990م 72% ص 37
- 19- المادة الأساسية في صناعة بيت الشعر تسمى الصوف ص 55
- 20- إقليم يحتل المنطقة الغربية للخليج العربي ويمتد من جنوب البصرة شمالا حتى عمان جنوبا يسمى إقليم البحرين ص 36
- 21- المعركة التي وقعت بين المسلمين والفرس في منطقة كاظمة تسمى معركة ذات السلاسل ص 60
- 22- أصدر حاكم دولة الكويت الشيخ أحمد الجابر الصباح قانون الغواصين في عام 1940م ص 46







## دليل تاريخ دولة الكويت للفصل العاشر- الفصل الدراسي الأول

### السؤال الثالث علل لما يلي

- 1- حرص العراق في مختلف صراعه مع دولة الكويت على ضم جزيرتا وربة وبوبيان .  
لأنه يدهما الجزيرتين الأهم اللتين ستمنحانه منفذا بحريا مناسباً له على الخليج العربي .
- 2- تتميز الرياح الشمالية الغربية بالجفاف .  
بسبب المرتفع السيبيري المتمركز في شمال القارة الآسيوية .
- 3- تتميز الرياح الجنوبية الشرقية (الكوس) بانها رطبة ودافئة .  
بسبب تأثرها بالمنخفض السوداني وتتسبب في رفع درجة الحرارة وتزيد من نسبة الرطوبة في فصل الصيف.
- 4- تعرض وضع السكان في دولة الكويت عام 1990م لتغيرات كبيرة .  
بسبب العدوان والاحتلال العراقي الغاشم على دولة الكويت مما أدى إلى هجرة كبيرة للوافدين إلى اوطانهم.
- 5- يعتبر النشاط البحري هو النشاط السائد قديماً في دولة الكويت على الرغم من مشاركة النشاط البري .  
لأن دولة الكويت تقع في منطقة صحراوية قليلة الموارد شحيحة الامطار غير صالحة للزراعة.
- 6- انتعشت حرفة صيد الاسماك في دولة الكويت قديماً .  
أ- لأن حرفة صيد الأسماك مصدر من مصادر الدخل في الكويت قبل النفط.  
ب- لأن مياه الخليج كانت تعج بالأسماك الجيدة والمختلفة الأشكال والأحجام.  
ج- لأن السمك الغذاء الرئيسي لسكان دولة الكويت.
- 7- تعتبر دولة الكويت قديماً من المراكز التجارية الهامة .  
أ- بسبب موقعها الجغرافي الجيد الذي منحها بعد استراتيجي وجعلها من المراكز المهمة في التجارة الدولية.  
ب- أنها حلقة وصل تربط بين الشرق والغرب.  
ج- لعمل أهلها منذ بداية تأسيسها في صناعة السفن والغوص على اللؤلؤ.
- 8- قلّة الزراعة في دولة الكويت .  
أ- لأن دولة الكويت بلد صحراوي يعاني من قلّة المياه.  
ب- ارتفاع درجة الحرارة.  
ج- عدم خصوبة التربة.
- 9- تمثل منطقة الصبية (حضارة العبيد) قيمة أثرية كبيرة .  
أ- يرجع تاريخ أقدم الحفريات الجيولوجية بها إلى الفترة ما بين 15 و20 مليون سنة.  
ب- أنها تحتضن منات المواقع الأثرية التي برهنت على وجود حضارة العبيد القديمة مستقلة عن حضارة بلاد الرافدين.
- 10- لعبت جزيرة فيلكا دوراً رئيسياً في منطقة الخليج العربي خلال الألفين الثالث والثاني قبل الميلاد .  
لأنها مركز من مراكز حضارة دلمون القديمة التي كانت تؤدي دور الوسيط التجاري بين حضارات الهند وحضارة بلاد الرافدين.





## دليل تاريخ دولة الكويت للسف العاشر- الفصل الدراسي الأول

### السؤال الرابع: نفذ المطلوب فيما بين القوسين مما يلي:

ص21

#### (الهدف)

1- أهمية دراسة موقع أي دولة من الدول  
- لإبراز القيمة الفعلية لها .

ب- الكيفية التي تكون عليها المصالح الحيوية لتلك الدول.

ج- الدور الذي يمكن أن تمارسه الدولة.

2- تمتعت دولة الكويت بكل خصائص الموقع الجغرافي المتميز للكيان السياسي وللدولة في الشمال الغربي

ص22

#### ( الأسباب )

للخليج العربي.

أ- موقعها الذي يمثل النهاية الطبيعية للطريق الملاحي البحري والتجاري الواقع على طريق الهند ومنطقة الشرق الأقصى .

ب- تمثل دولة الكويت البوابة والمدخل الطبيعي لشمال شرق شبه الجزيرة العربية وتعد مركزا لتجارة السكان الوافدين عليها من نجد والإحساء وبادية الشام وتصريف بضائعهم منها.

ج- شهرتها بأنها منطقة ( ترانزيت ) أو منطقة لتجارة العبور قليلة الضرائب.

د- نشاط دولة الكويت البحري والتجاري فهي أحد أهم الموانئ في شمال إقليم الإحساء خاصة مع ظهورها البري وملحقاتها من الجزر.

هـ- تميز الكويتيين بالمهارة في نقل التجارة بين موانئ الخليج وسواحل الهند والشرق الأفريقي.

ص39

#### (الأسباب)

3- يشكل الخليج العربي أحد أهم الطرق التجارية قديما .

أ- لأنه يقع في موقع متوسط من قارات العالم القديم الثلاث آسيا وأفريقيا وأوروبا.

ب- وجود مضيق هرمز الذي يربط بين خليج عمان والخليج العربي وأحد أذرع المحيط الهندي في شبه الجزيرة العربية

ج- توفر الموارد الطبيعية البرية والبحرية .

د- توفر وسائل نقل التجارة برا وبحرا للبلدان المحيطة.

ص46

#### ( الأسباب )

4- كساد تجارة الغوص على اللؤلؤ في الكويت.

أ- ظهور اللؤلؤ الصناعي عام 1928م

ص48

#### ( الآثار )

5- حرفة الغوص على اللؤلؤ قديما في الكويت .

أ- تقوية العلاقات بين السكان وتاصيل قيم الصدق والأمانة والعمل.

ب- الاحترام المتبادل وتكوين الاسرة الواحدة.

ج- التعاون والتعاقد بالمجتمع.

د- الالتزام والطاعة والصبر.

ص58

#### ( الأهمية الأثرية )

6- منطقة الصبية .

أ- ظهر بها أقدم الحفريات الجيولوجية.

ب- يوجد بها أقدم القرى السكنية في بحرة وطبيخ وشمال الصبية.

ج- تحتوي على آبار المياه القديمة.

د- العثور على جرار فخارية والرحى الحجرية التي تستخدم في طحن

الغلال.





## دليل تاريخ دولة الكويت للفصل العاشر- الفصل الدراسي الأول

### السؤال الخامس: عرف المفاهيم التالية:

- 1- السموم: رياح جافة جدا تهب في الظهيرة وتنخفض معها الرطوبة النسبية وهي ذات درجات حرارة عالية. ص34
- 2- السرايات: عواصف ترابية تهب في أواخر الربيع وأوائل الصيف مثيرة للغبار مصحوبة بعواصف رعدية يسقط بسببها المطر الشديد. ص34
- 3- الكوس: رياح تتميز بانها رطبة دافئة تهب من الجنوب الشرقي وتتأثر بالمنخفض السوداني. ص34
- 4- الأستاذ: الشخص الذي يقوم بتصميم السفينة. ص43
- 5- القلاف: هو الذي يقوم بعملية اعداد المواد اللازمة لصناعة السفينة. ص43
- 6- القمبار: هو الصيد بالإضاءة حيث يتجمع السمك حول سراج يحمله الصياد فيقوم بضربه بألة حادة. ص43
- 7- العمائر: مخازن للمواد المستخدمة في صناعة السفن. ص43
- 8- الهيرات: أماكن تكثر فيها منابت المحار المحتوى على اللؤلؤ. ص46
- 9- الدشة: بداية موسم الغوص على اللؤلؤ وتبدأ في شهر مايو. ص46
- 10- الففال: انتهاء موسم الغوص و كانت في شهر سبتمبر وأكتوبر. ص46
- 11- الترانزيت: إعادة تصدير الواردات. ص49
- 12- الصخين: هي أداة تستخدم للحفر. ص54
- 13- النجارة: حرفة يدوية لعب العاملون بها دور كبي في توفير مستلزمات البناء وغيرها من المستلزمات المنزلية قديما. ص54
- 14- الحدادة: حرفة يقوم العاملون بها بصناعة المسامير اللازمة لصناعة السفن قديما والأدوات اللازمة للبناء والزراعة والمنزل. ص54
- 15- الصفارة: حرفة يدوية يقوم بها العاملون بصنع وتلميع القدور المستخدمة في الطبخ المصنوعة من النحاس والأواني المنزلية المطلية من الداخل بطبقة القصدير. ص54
- 16- التناك: حرفة يقوم العاملون بها باستخدام الصفيح المعدنية لصنع (المحقان) والدوة والتناك وقوطي الجاز والعلب وأغطيتها والسطول والطشوت وغيرها. ص54
- 17- الففاص: حرفة يقوم العاملون بها باستخدام جريد النخيل حيث يشبك بعضه ببعض وذلك بثقبة وادخال اطرافه في الثقوب. فيصنع العامل أقفاص-المنز-السريز-الرك. ص55
- 18- الحياكة: حرفة يقوم بها العاملون بخياطة الملابس كالبشوت. ص55
- 19- الندافة: حرفة يقوم بها العاملون بتنجيد وصناعة المساند والفرش مستخدما القطن. ص55
- 20- المنز: سرير ينام عليه الطفل قديما. ص55
- 21- الرك: صندوق له فتحة من الاعلى لوضع بعض المأكولات به. ص55
- 22- السدو: حرفة تزاولها المرأة في البادية وهو أساس مكونات بيت الشعر الذي يسكنه اهل البادية. ص55
- 23- العدل: عبارة عن أكياس كبيرة لحفظ بعض انواع الطعام وتوضع على الدابة وبها حاجات الراكب أيضا. ص55
- 24- المزود: مفردها مزودة من الزاد وهي عبارة عن أكياس متوسطة لحفظ الطعام والملابس. ص55

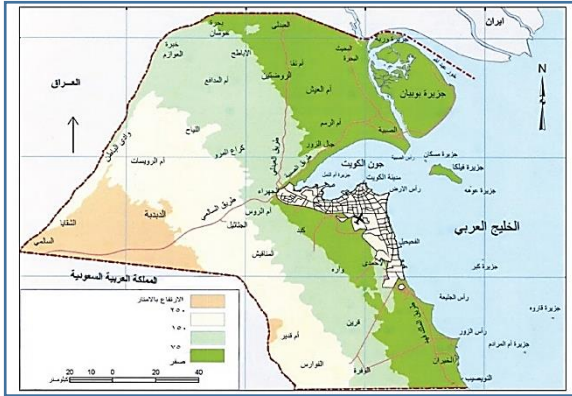




## دليل تاريخ دولة الكويت للفصل العاشر- الفصل الدراسي الأول



وزارة التربية  
الإدارة العامة لمنطقة الأحمدية التعليمية  
مدرسة أنيسة بنت خبيب الأنصارية  
(المرحلة الثانوية)



**السؤال السادس: أكمل المخططات السهمية التالية:**

**( أ ) توجد سلسلة من التلال في شمال دولة الكويت مثل:**

ص 24



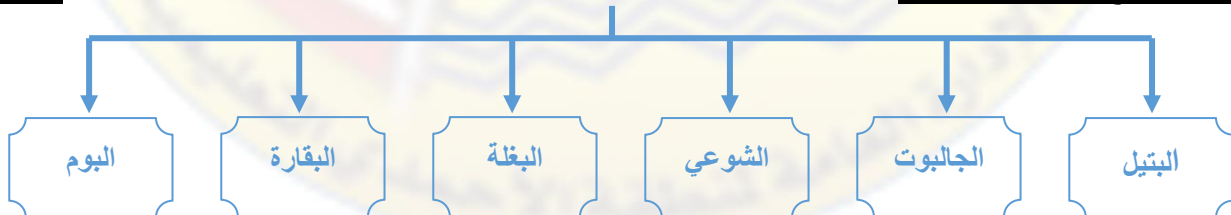
ص 24

**( ب ) توجد بعض التلال في جنوب دولة الكويت على شكل قباب مثل:**



ص 44

**( ج ) من أنواع السفن الكويتية:**





## دليل تاريخ دولة الكويت للفصل العاشر- الفصل الدراسي الأول



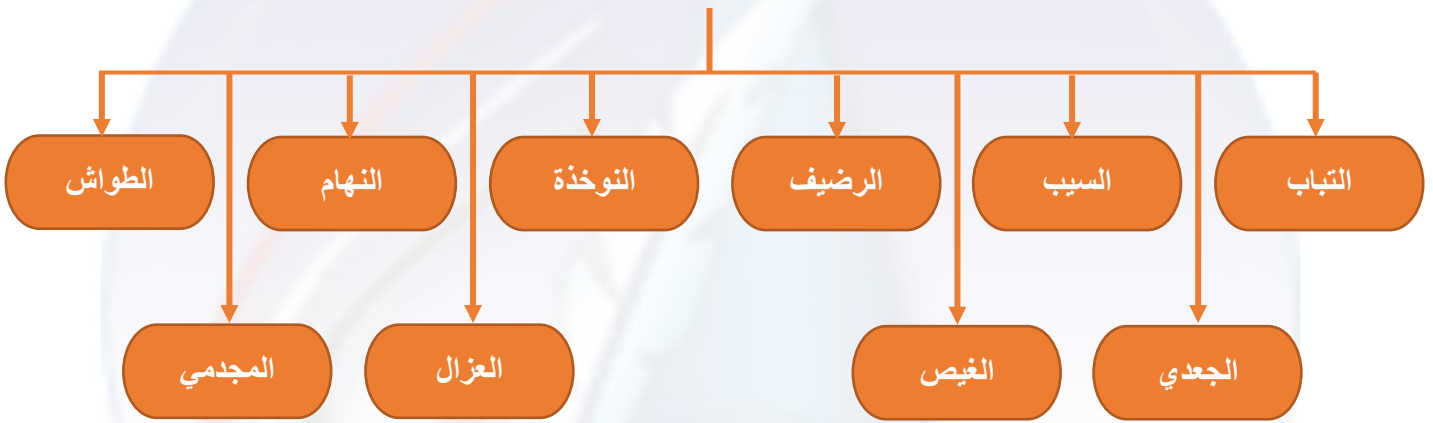
وزارة التربية  
الإدارة العامة لمنطقة الأحمدية التعليمية  
مدرسة أنيسة بنت خبيب الأنصارية  
(المرحلة الثانوية)



ص48



( د ) العاملون في حرفة الغوص:



ص49

( هـ ) أهم الموانئ التي كان يجول بها الأسطول الكويتي قديما:





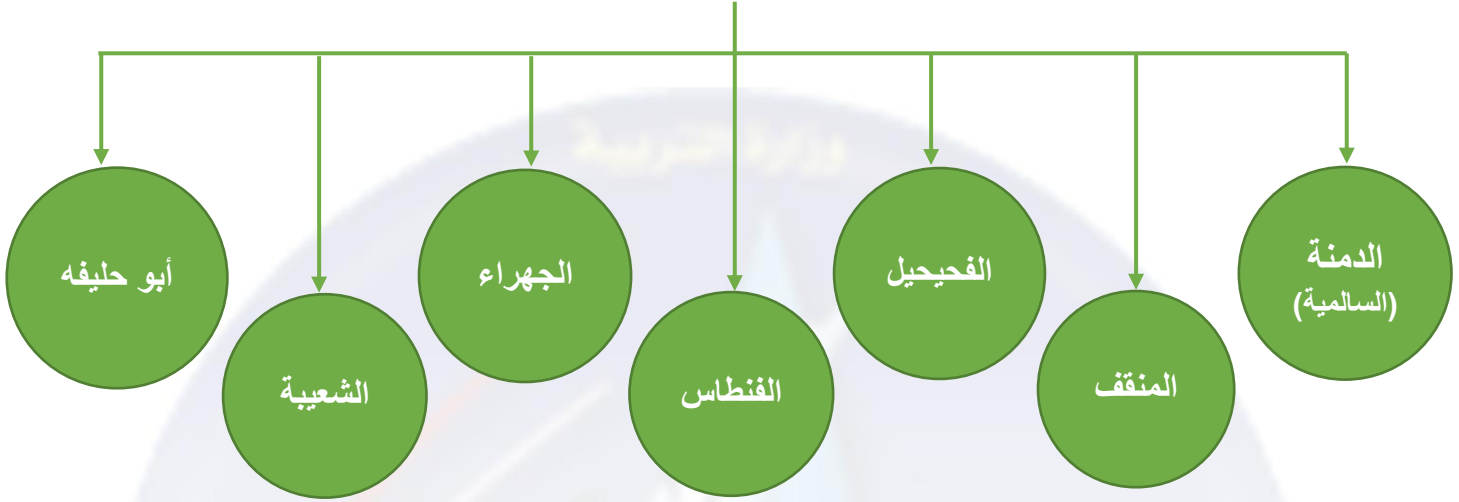
## دليل تاريخ دولة الكويت للسف العاشر- الفصل الدراسي الأول



وزارة التربية  
الإدارة العامة لمنطقة الأحمدى التعليمية  
مدرسة أنيسة بنت خبيب الأنصارىة  
( المرحلة الثانوية )

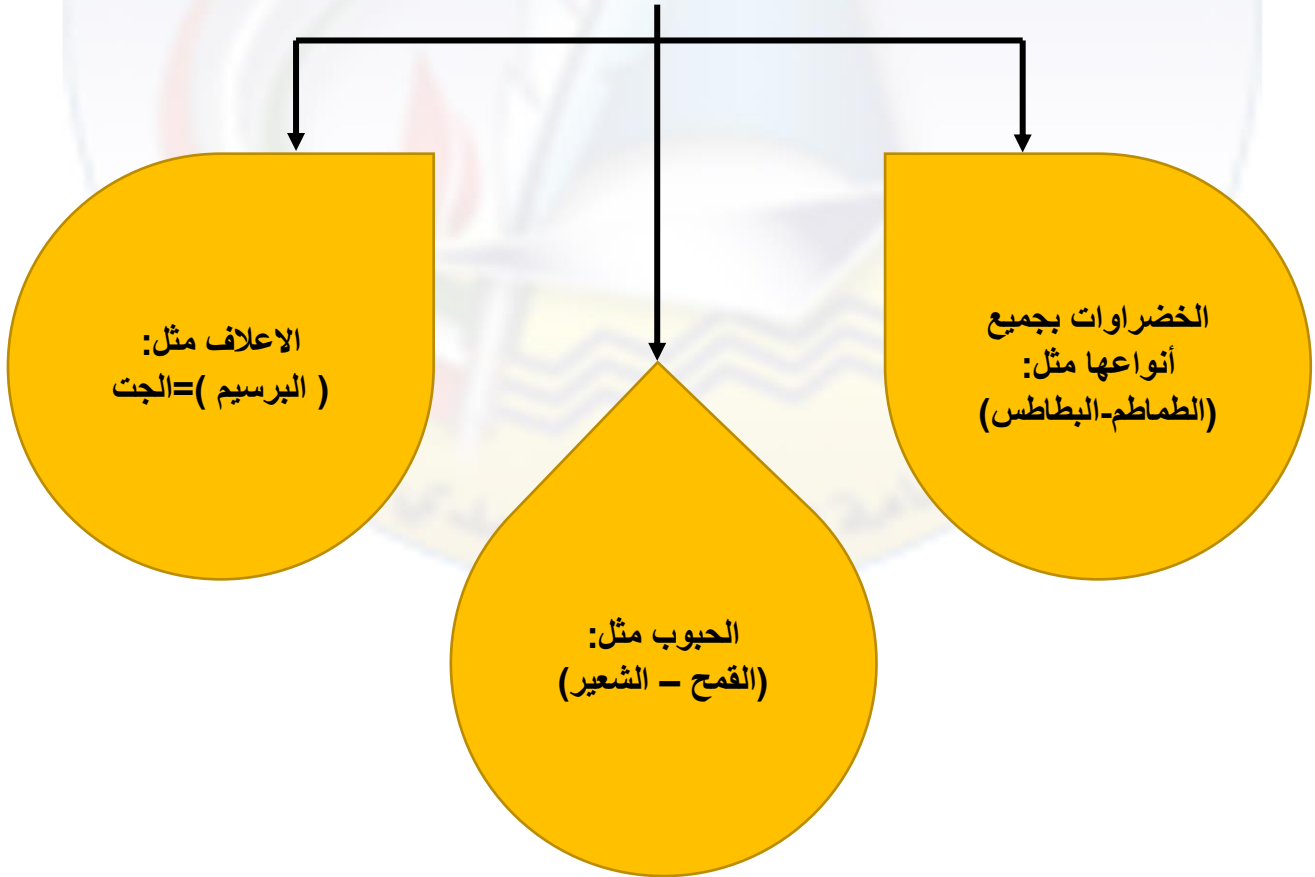
ص52

( و ) أهم المناطق الزراعية فى الكويت قديما:



ص52

( ز ) أهم المحاصيل التى كانت تزرع فى الكويت قديما:





## دليل تاريخ دولة الكويت للفصل العاشر- الفصل الدراسي الأول

ص 34

**السؤال السابع (أ) قارن بين أنواع الرياح في دولة الكويت حسب الجدول التالي:**

الرياح	المميزات وآثارها المناخية
الشمالية الغربية	-تهب معظم أيام السنة رياح جافة بفعل المرتفع السيبيري المتمركز شمال القارة الآسيوية ولها أثر واضح في خفض درجة الحرارة خاصة في فصل الصيف لكنه يصبح قارس البرودة في فصل الشتاء.
الجنوبية الشرقية (الكوس)	-رياح رطبة دافئة تهب من الجنوب الشرقي وتتأثر في المنخفض السوداني وتتسبب في رفع درجة الحرارة وتزيد من نسبة الرطوبة في فصل الصيف تسهم باعتدال الجو في فصل الشتاء وتحمل معها المطر.
السموم	-رياح جافة جدا تهب في الظهيرة وتنخفض معها الرطوبة النسبية وهذه الرياح ذات درجات حرارة عالية تهب من الشمال او الشمال الشرقي في فصل الصيف مما يرفع درجات الحرارة إلى مستوى عالي جدا وإذا كانت نشطة تثير الاتربة والرمال.
العواصف الترابية (السرايات)	-عواصف ترابية تهب في أواخر الربيع واول فصل الصيف فتثير الغبار وتكون مصحوبة عادة بعواصف رعدية يسقط بسببها المطر الشديد وتسمى السرايات.

**السؤال الثامن: فرق بين كل مما يلي:**

ص 32

**( أ ) المميزات المناخية لدولة الكويت في الفصول الأربعة:**

فصل الصيف	فصل الشتاء	فصل الربيع	فصل الخريف
-فصل طويل حار وجاف -تهب رياح مثيرة للغبار -ترتفع نسبة الرطوبة. -تصل درجة الحرارة إلى 50 درجة.	-دافئ قصير -ممطر أحيانا -تصل درجة الحرارة على 18 درجة مئوية وقد تنخفض للصفر.	- قصير معتدل.	-ترتفع فيه نسبة الرطوبة. -تقل فيه درجة الحرارة نسبيا عن الصيف.

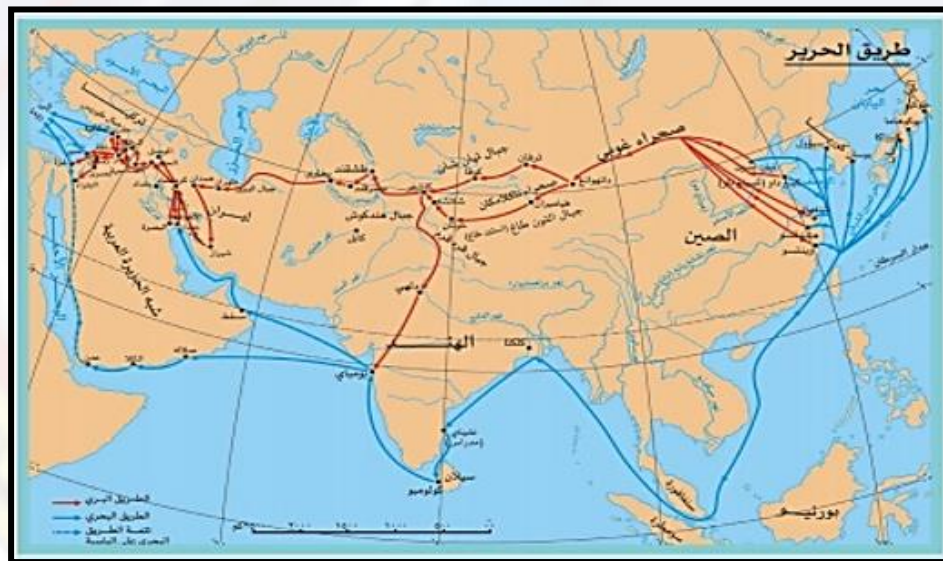




## دليل تاريخ دولة الكويت للفصل العاشر- الفصل الدراسي الأول

( ب ) المهنة التي اشتهر بها العاملون على سفن الغوص ص 47

المهنة	وظيفته
النوخذه	-قائد السفينة وربانها والمسؤول عنها وعن طاقمها والمسؤول عن تحديد أماكن الغوص والبحث عن مزارع اللؤلؤ.
المجدمي	-هو لقب كان يطلق على رئيس البحارة والمسؤول عن إدارة السفينة من الداخل.
الغيص	-الشخص الذي يغوص في قاع البحر بحثا عن المحار.
السيب	-الشخص المنوط به سحب الغيص للسطح عند شد الأخير الحبل بالإضافة إلى مهمة مساعدة الغيص في فتح المحار.
النهام	-الشخص الذي ينشد المواويل تشجيعا لطاقم السفينة في رحلتهم.
الرضيف	-صغار السن الذين يقومون ببعض الأعمال الأقل من السيب.
الطواش	-هو تاجر اللؤلؤ.



ص 41

( ج ) مسارات طريق الحرير:

طريق الحرير البري	طريق الحرير البحري
شمالي يبدأ من الصين وينتهي بأوروبا.	غربي يبدأ من أحد الموانئ الصينية (كانتون) ويعبر بحار الصين ثم يلتف حول سواحل شبه القارة الهندية ليدخل البحار المحيطة بشبه الجزيرة العربية ويتفرع إلى فرعين.





## دليل تاريخ دولة الكويت للفصل العاشر- الفصل الدراسي الأول

### السؤال التاسع: دال على صحة العبارات التالية:



ص45

- 1- اعتزاز دولة الكويت بتراثها البحري.  
- اتخذت صورة اليوم لتكون شعارا للدولة.  
وكذلك العملة الوطنية.  
- غالبا ما تزين المؤسسات بصور ومشاهد تعبر  
عن عمق ارتباط الكويت وشعبها بتراثها البحري.

### السؤال العاشر: أكتب فيما درست:



ص28

- 1- تعد جزيرة فيلكا من أهم الجزر الكويتية من حيث التاريخ.  
- بسبب ما تحتويه من إشارات ودلائل أثرية ومعمارية قديمة.  
- تعد جزيرة فيلكا أو (إيكاروس) الجزيرة الثانية من حيث المساحة.  
- تحتوي جزيرة فيلكا على بقايا وشواهد تاريخية وأثرية متعددة.  
- ذكرها الرحالة الغربيون والمصادر اليونانية والرومانية القديمة.  
- عملت فيها حديثا بعثات استكشافية متعددة للكشف عن آثارها وبيان طبيعة  
الحضارات التي ازدهرت فوق أرضها.

ص39

- 2- مميزات المجتمع الكويتي قديما وقبل اكتشاف النفط .  
-مجتمع بسيط وهادئ.  
-تميز بالتلاحم والتكافل والعمل الجماعي.  
-يعي أن مبدأ الشورى والحكم المشترك هو الضمان والأساس لوحده وترايطه.  
-تقبل الهجرات وأبدى إيجابية كبيرة في دمجها.  
-اتسم بالمرونة والقدرة على الانفتاح على جميع الثقافات.  
-كان يظهر في كل أزماته قدرة كبيرة على المواجهة والتحدى.  
-استطاع النجاح والحفاظ على وجوده وكيانه متميزا بعيدا عن التعصب والطائفية.
- 3-للتجارة دور مهم في انفتاح الكويت والكويتيين على الشعوب والثقافات المختلفة.

ص39

-حيث كانت سفن الكويتيين تصل إلى الهند وسواحل أفريقيا كما كان الغوص والرعي أساسا قام عليه  
اقتصاد المجتمع البسيط والذي استطاع هذا الاقتصاد في فترة قليلة نسبيا أن ينمو ويزدهر ويتفوق على  
كثير من المناطق المجاورة.

### السؤال الحادي عشر: أجب عن السؤال التالي:

ص47

- 1- أهم الشروط التي يجب أن تتوافر في النوخة .  
أ-القدرة على معرفة المسالك والطرق والإمام بالاتجاهات البحرية.  
ب-عليه اتخاذ جميع القرارات.  
ج-هو صاحب الحق في إعطاء إذن للبحارة بمغادرة السفينة وضمان سلامة طاقمها.





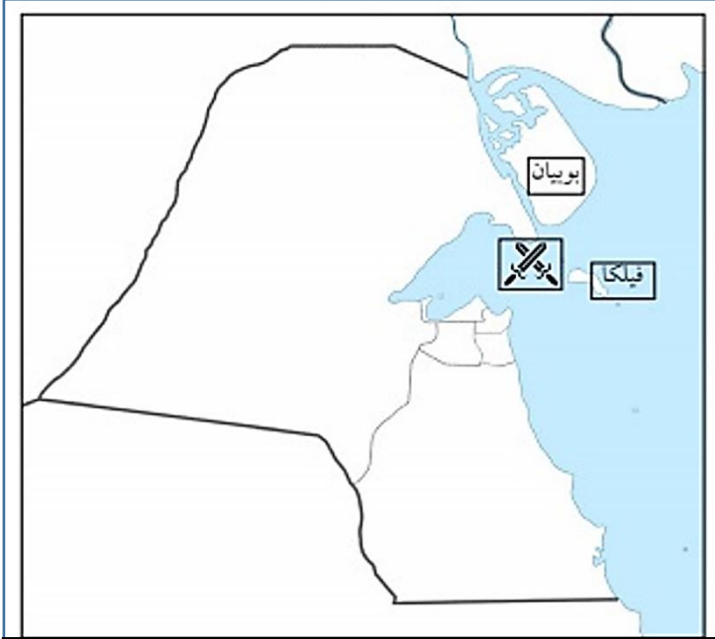
## دليل تاريخ دولة الكويت للمصف العاشر- الفصل الدراسي الأول

### الفصل الثاني: نشأة الكويت 1613م

#### السؤال الأول:

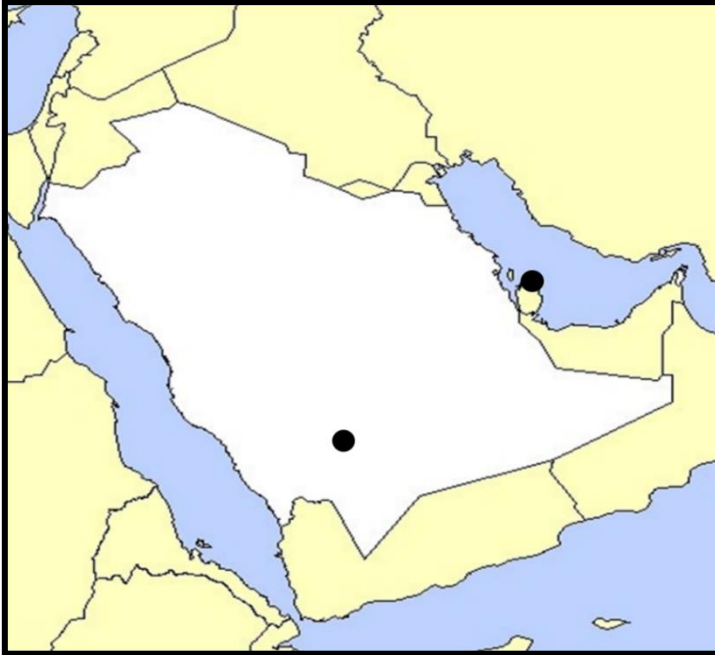
( أ ) لاحظ الخريطة التي أمامك ثم أجب عما يلي:

- 1- معركة حدثت في دولة الكويت تسمى الرقعة ص 73
- 2- وقعت هذه المعركة في عام 1783 م. ص 73
- 3- تعتبر هذه المعركة من أهم الأحداث في عهد الشيخ عبدالله الأول ص 73



( ب ) لاحظ الخريطة التي أمامك ثم أجب عما يلي:

- 1- منطقة في نجد تعتبر الموطن الأصلي للعتوب تسمى: الهدار ص 69
- 2- منطقة شكلت محطة الاستقرار الأولى للعتوب تسمى: قطر ص 69





## دليل تاريخ دولة الكويت للسف العاشر- الفصل الدراسي الأول



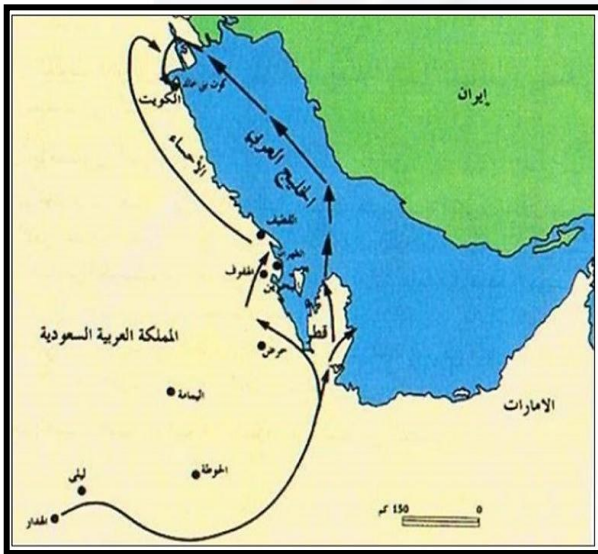
وزارة التربية  
الإدارة العامة لمنطقة الأحمدى التعليمية  
مدرسة أنيسة بنت خبيب الأنصارية  
(المرحلة الثانوية)

### السؤال الثاني: أكمل العبارات التالية:

- 1- تأسست دولة الكويت في عام 1613م الهدار
- 2- بدأت جماعات العتوب في التوافد من موطنها الأصلي بمنطقة تسمى قطر
- 3- الدولة التي شكلت محطة الاستقرار الأول للعتوب تسمى الفريجة
- 4- استقر العتوب أولاً في منطقة بالقرب من الزيارة في قطر تسمى بنى خالد
- 5- القبيلة التي امتد نفوذها من قطر جنوباً حتى البصرة شمالاً بمحاذاة ساحل الخليج العربي تسمى بنى خالد
- 6- وقعت معركة الرقة بين الكويت وبنى كعب في عام 1783م
- 7- تم بناء سور الكويت الأول في عام 1797م
- 8- حاكم دولة الكويت الذي لقب بجابر العيش يسمى الشيخ جابر الأول بن عبدالله
- 9- تم بناء السور الثاني لدولة الكويت في عام 1814م
- 10- المعتمد البريطاني في الخليج العربي والذي زار الكويت في عام 1865م يسمى لويس بيلى

### السؤال الثالث: علل لما يلي:

- 1 - شكلت قطر محطة الاستقرار الأولى بالنسبة للعتوب . ص 69  
بسبب القحط الذي أصاب مناطقهم الأصلية والصراعات القبلية.
- 2- بناء سور الكويت الأول عام 1797م . ص 74  
لحماية المدينة من الأخطار الخارجية .





## دليل تاريخ دولة الكويت للسف العاشر- الفصل الدراسي الأول



وزارة التربية  
الإدارة العامة لمنطقة الأحمدى التعليمية  
مدرسة أنيسة بنت خبيب الأنصارىة  
(المرحلة الثانوية)

### السؤال الرابع: نفذ المطلوب فيما بين القوسين:

ص70

#### (الأسباب)

1- اختيار الشيخ صباح الأول لحكم الكويت.

أ-لسماته الشخصية من شجاعة وحكمة.

ب-كان لوالده الزعامة على قومه منذ ان كانوا بنجد.

ج-كان يقيم في الكويت طوال أيام العام وكان عمله في الصحراء خلافا للبقية الذين كانوا يعملون في البحر.

2-حرص حكام الكويت على اتخاذ قرارات ذات أبعاد اقتصادية ساعدت على النمو التجاري والاقتصادي للكويت.

ص80

#### (أذكر القرارات)

أ-قلة الضرائب على البضائع القادمة للكويت.

ب-تشجيع بناء سفن الغوص وتأمين طرق التجارة المارة عبر أراضيها حيث أصبحت الكويت سوقا رائجا لسكان البادية ووسط نجد.

ج-اجتذاب الوكالات التجارية التابعة للشركات الأوروبية العاملة في الخليج العربي.

د-لعب التجار الكويتيون دور الوسطاء التجاريين مما ساعد على بناء علاقات تجارية بين الكويت ومناطق دول الجوار.

ص81

#### (العوامل)

3- نمو وازدهار الكويت تحت حكم آل صباح.

أ-موقع الكويت الاستراتيجي على الجزء الغربي للخليج العربي.

ب-طبيعة نظام الحكم المعتمد على العدل والشورى والأمن.

ج-وجود علاقات متوازنة مع القوى المجاورة.

د-التسهيلات التي كانت تمنح لتجار البادية.

هـ-النظام الاقتصادي الدقيق وتوزيع المهام ما بين الغوص ونقل التمور وتجارة البادية والأمانة التي كان يتحلى بها التجار والعاملون معهم.

و-الصفات التي تميز بها أهل الكويت من التسامح والانفتاح على الآخرين.

### السؤال الخامس: عرف المفاهيم التالية:

ص69

1- العتوب: أسر ترجع أصولها إلى عدة قبائل أبرزها قبيلة عنزة وموطنهم الأصلي نجد في منطقة الهدار.

ص67

2- كويت: هي تصغير لكمة كوت وتعني القلعة أو الحصن.

ص67

3- القرين: مفردها القرن وهو اسم شائع في شبه الجزيرة العربية للدلالة على المرتفع أو التل الصغير.

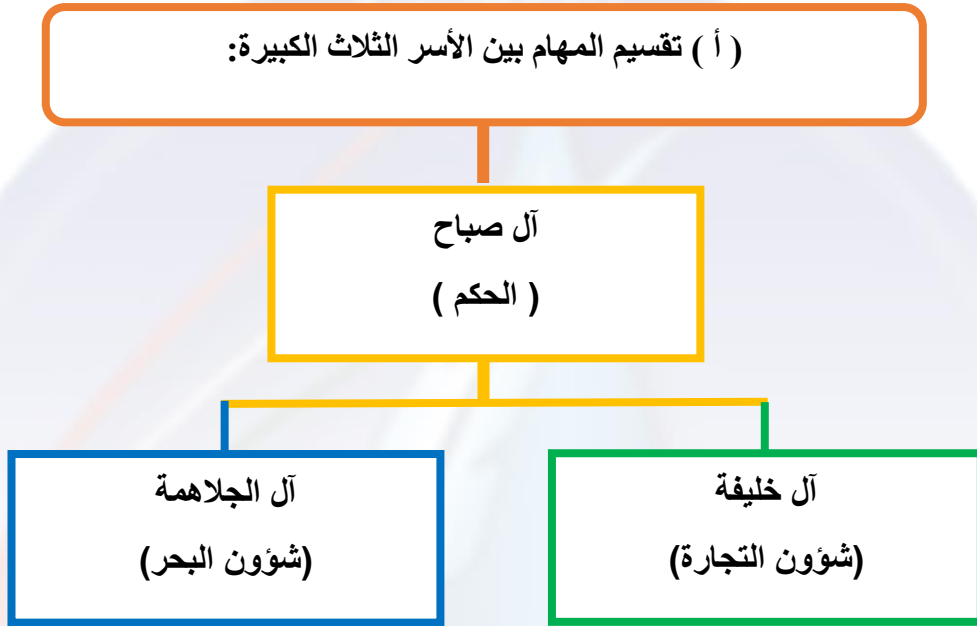




## دليل تاريخ دولة الكويت للفصل العاشر - الفصل الدراسي الأول

ص71

السؤال السادس: أكمل المخططات السهمية التالية:



ص71

( ب ) مراحل تأسيس الكويت :





## دليل تاريخ دولة الكويت للفصل العاشر- الفصل الدراسي الأول



وزارة التربية  
الإدارة العامة لمنطقة الأحمدية التعليمية  
مدرسة أنيسة بنت خبيب الأنصارية  
(المرحلة الثانوية)

ص73-77

السؤال السابع: قارن بين حكام دولة الكويت حسب الجدول التالي:-

ترتيب الحاكم	اسم الحاكم	تاريخ توليه الحكم	سماته الشخصية	اهم الاحداث في عهده	تاريخ نهاية حكمه
الحاكم الاول	الشيخ صباح الأول بن جابر	1752م	العدل	ظهور الكويت ككيان سياسي منظم- توطيد الأمن- نشر العدل- ترسيخ أنشطة الكويت التجارية.	1763م
الحاكم الثاني	الشيخ عبدالله الأول بن صباح بن جابر	1763م	السياسة الحسنة- النباهة- الحزم- العدل.	معركة الرقة- بناء سور الكويت الأول	1814م
الحاكم الثالث	الشيخ جابر الأول بن عبدالله الصباح	1814م	الحكمة- الهدوء- محب لشعب- اشتهر بجابر العيش.	ازدهار بحري للكويت وتطور صناعة السفن- نقل البضائع المختلفة- بناء السور الثاني 1814م.	1859م
الحاكم الرابع	الشيخ صباح الثاني بن جابر	1859م	محب لشعبه- العدل.	تقدمت التجارة بشكل كبير- ألغي الرسوم على البضائع- زيارة المعتمد البريطاني لويس بيلى للكويت.	1866م
الحاكم الخامس	الشيخ عبدالله بن صباح الثاني	1866م	حسن السيرة -دماثة الاخلاق- محبوبا لدى الجميع.	ساعد العثمانيين في حملتهم على الاحساء (حملة مدحت باشا).	1892م
الحاكم السادس	الشيخ محمد بن صباح	1892م	النزاهة -الوقار - التواضع.	ترحيبه وتسهيله لاستقرار اسرة الأمير عبدالرحمن آل سعود	1896م

ص72

السؤال الثامن: أكتب فيما درست عما يلي:

1- علاقة الكويت ببني خالد.

كان هناك صراع بين قبيلة بني خالد والعثمانيين من ناحية وصراع بين قبيلة بني خالد والسعوديين من ناحية أخرى كل تلك الصراعات شغلت هذي القوى عن الامارة الوليدة (الكويت) وجعلتها تنمو وتزدهر في جو أكثر استقرارا وهدوءا وتمتعت الكويت بالأمن والحماية في ظل بني خالد.

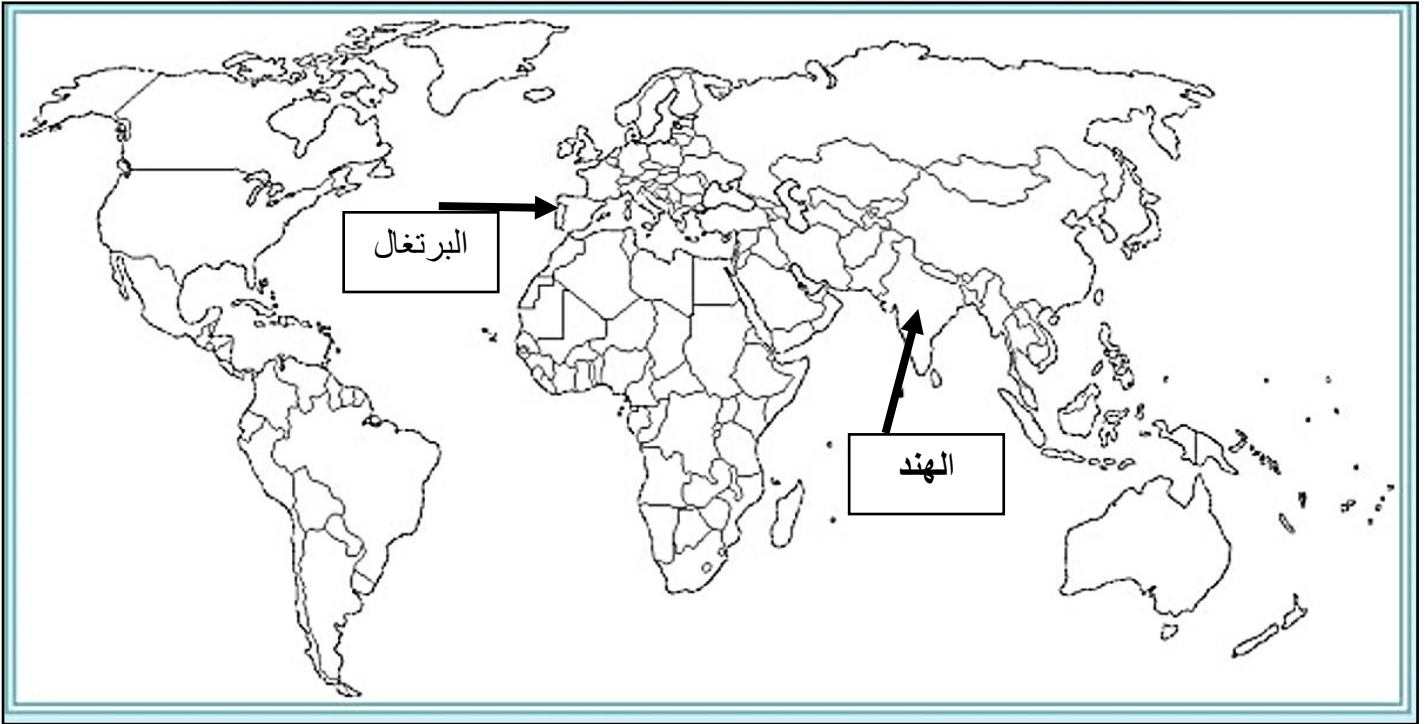




## دليل تاريخ دولة الكويت للفصل العاشر- الفصل الدراسي الأول

### الفصل الثالث: الكويت والتنافس الأوروبي على منطقة الخليج العربي من القرن 16م حتى القرن 19م

السؤال الأول: لاحظ خريطة العالم القديم وحدد مايلي:



ص85

( الهند )

1- دولة تعد مركز للتوابل في جنوب شرق آسيا

ص86

(البرتغال)

2- أولى الدول الأوروبية في استعمار منطقة الخليج العربي

ص86

عمان

1- الدولة الخليجية التي ظهرت فيها قوة اليعاربة تسمى.

ص87

1595م

2- خرج أول اسطول هولندي إلى آسيا ليبلغ جزر الهند الشرقية في عام.

ص87

السادس عشر

3- بدأ الوجود الهولندي في آسيا خصوصا والشرق عموما في أواخر القرن.

ص88

1600م

4- تأسست شركة الهند الشرقية البريطانية في عام.



## دليل تاريخ الكويت للفصل العاشر- الفصل الدراسي الأول

### السؤال الثالث: علل لما يلي:

- 1- أهمية اليعاربة في منطقة الخليج العربي في أواخر القرن السادس عشر.  
-ساهمت في تصفية الوجود البرتغالي في الخليج وطردهم من المنطقة.
- 2- انهيار النفوذ الهولندي في منطقة الخليج العربي.  
-بسبب التنافس البريطاني الهولندي الذي قضى على آمالهم في النهاية وأخرجهم من المنطقة.
- 3- اهتمام بريطانيا بمنطقة الخليج العربي.  
-لأنه طريق حيوي لحماية إمبراطوريتهم في الهند والقشرة الواقعة التي تحمي مصالحهم.

### السؤال الرابع: أكتب فيما درست عما يلي:-

- 1-الأسس التي حددها الفرمان العثماني حول علاقة الكويت بالدولة العثمانية.  
أ-شيخ الكويت مستقل بشؤونه الداخلية.  
ب-منح شيخ الكويت لقب قائم مقام.  
ج-أهالي الكويت لا يلتزمون بدفع ضرائب او رسوم للباب العالي.  
د-إلزام السفن الكويتية برفع العلم العثماني مع إعفائها من دفع الرسوم.

### السؤال الخامس: دلل على صحة العبارات التالية:

- 1-يعتبر الاستعمار البرتغالي من أسوأ النظم الاستعمارية في الخليج العربي.  
لممارسة البرتغاليون سيطرتهم القسوى على الخليج العربي والتي لم تكن هادنة
- 2- أهمية الكويت بالنسبة لبريطانيا في نهاية القرن الثامن عشر.  
أ-أسس البريطانيون مراكز تجارية لهم في الكويت.  
ب-أسس البريطانيون مركز للبريد البري المتجه من الهند إلى لندن.  
ج-نقل مركز البريد والتجارة من البصرة إلى الكويت.





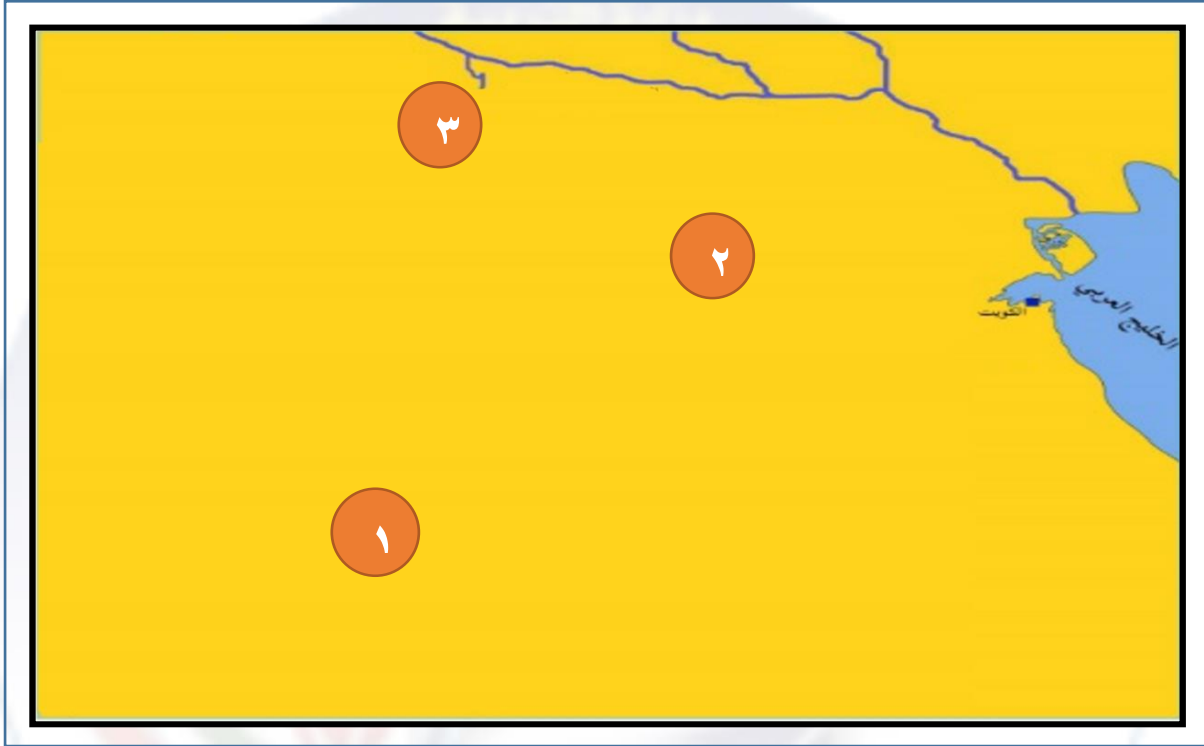


وزارة التربية  
الإدارة العامة لمنطقة الأحمدى التعليمية  
مدرسة أنيسة بنت خبيب الأنصارية  
(المرحلة الثانوية)

## دليل تاريخ دولة الكويت للفصل العاشر- الفصل الدراسي الأول

### الفصل الرابع: الحاكم السابع الشيخ مبارك الكبير

**السؤال الأول: لاحظ الخريطة التي أمامك ثم اجب عما يلي:**



- 1- معركة قادها الشيخ مبارك الصباح في عام 1910م يمثلها على الخريطة الرقم (2) ص106  
2- معركة قادها الشيخ مبارك الصباح عام 1901م يمثلها على الخريطة الرقم (1) ص106

**السؤال الثاني: أكمل العبارات التالية:**

- 1- العام الذي تولى فيه الشيخ مبارك الكبير الحكم هو. ص95  
2- أنشئت المدرسة المباركية في عام. ص96  
3- تأسس المستشفى الأمريكي في عام. ص96  
4- استقبل الشيخ مبارك البعثة الألمانية في عام 1900م في منطقة تسمى. ص99  
5- عقد الشيخ مبارك الصباح اتفاقية الحماية مع بريطانيا في عام. ص101  
6- بدأت الدولة السعودية الثالثة أولى خطواتها في عام. ص105  
7- المعركة التي قادها الشيخ مبارك الصباح في عام 1901م تسمى. ص106  
8- قاد الشيخ مبارك الصباح معركة هدية في عام. ص106  
9- توفي الشيخ مبارك الصباح في عام. ص107



## دليل تاريخ دولة الكويت للسف العاشر- الفصل الدراسي الأول

### السؤال الثالث: علل لما يلي:

ص95

1- تعتبر فترة حكم الشيخ مبارك الصباح فترة حاسمة في تاريخ الإمارة.

-كان الشيخ مبارك حاكما مطلقا.

-كان يواجه واقعا دوليا يموج بالتغيرات والخلافات والمطامع والتهديدات التي هددت إمارته ووجودها.

ص98

2- رفض الشيخ مبارك الصباح كافة المشاريع الروسية في الإمارة.

-لإدراك الشيخ مبارك بأن الكفة تميل للجانب البريطاني.

ص98

3- عدم نجاح المشاريع الروسية في الكويت.

-لأنها كانت ستارا لأهداف سياسية غير معلنة وتعامل مع الشيخ مبارك الصباح بكل حذر من خلال رفضها.

### السؤال الرابع: نفذ المطلوب فيما بين القوسين مما يلي:-

ص102

(أهميتها بالنسبة للكويت)

1- اتفاقية الحماية عام 1899م .

-استمرت الكويت محافظة على كيانها السياسي في ظل هذه المعاهدة.

- أنها حفظت للكويت حدودها من الأطماع في تلك الفترة.

(أبرز أعماله في مجال حفظ

الامن وتشجيع التجارة)

ص96

2- تطور الأوضاع الداخلية والخارجية في الكويت في عهد الشيخ مبارك الصباح.

-إخراج قوات عسكرية لتأمين طرق القوافل التجارية وضمان سلامة الطرق.

-مراقبة الأسواق والنظر في مشاكل الأهالي.

-معاقبة الخارجين عن النظم المتبعة.

-تشجيع تصنيع السفن الكبيرة لنقل البضائع بين الكويت والموانئ المختلفة.

-التوسط لحل المشكلات التي تنشأ بين التجار.






## دليل تاريخ دولة الكويت للفصل العاشر- الفصل الدراسي الأول



وزارة التربية  
الإدارة العامة لمنطقة الأحمدية التعليمية  
مدرسة أنيسة بنت خبيب الأنصارية  
(المرحلة الثانوية)



### السؤال الخامس: دلي على صحة العبارات التالية:

ص96

- 1- اهتمام الشيخ مبارك الصباح في مجال الصحة والتعليم في دولة الكويت .  
- قام بإنشاء المدرسة المباركية في عام 1911م وتعتبر أول المدارس النظامية الأهلية.  
- وافق على تأسيس أول مستشفى في عام 1911م والذي أطلق عليه اسم المستشفى الأمريكي.

ص105

- 2- تأييد الشيخ مبارك الصباح للأمير عبدالعزيز آل سعود .  
عندما تجهز الأمير عبدالعزيز آل سعود لمغادرة الكويت قدم له الشيخ مبارك الصباح الأسلحة والمؤن ما يعينه على تحقيق هدفه في استعادة ملك آبائه وأجداده بعد استقرار دام تسع سنوات على أرض الكويت.





# الفصل الدراسي الثاني





## دليل تاريخ دولة الكويت للفصل العاشر- الفصل الدراسي الثاني

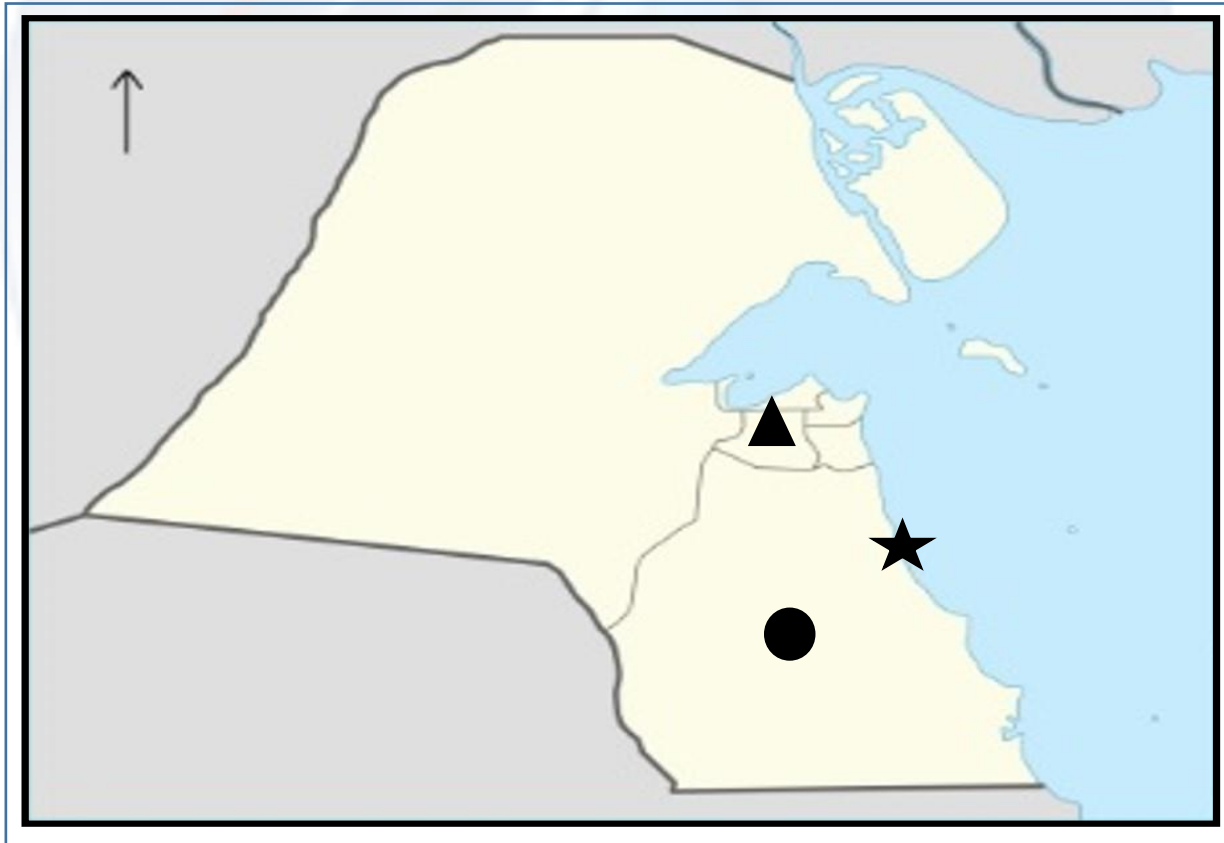


وزارة التربية  
الإدارة العامة لمنطقة الأحمدية التعليمية  
مدرسة أنيسة بنت خبيب الأنصارية  
( المرحلة الثانوية )

### الفصل الخامس: الأوضاع الداخلية والخارجية في دولة الكويت ( 1915-1950م )



السؤال الأول: لاحظ الخريطة التي أمامك ثم اجب عما يلي:



- 1- حقل برقان يمثل على الخريطة الشكل ( ● ) ص 115  
2- ميناء الأحمدية يمثل على الخريطة الشكل ( ★ ) ص 115

