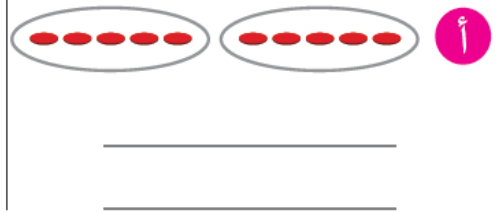
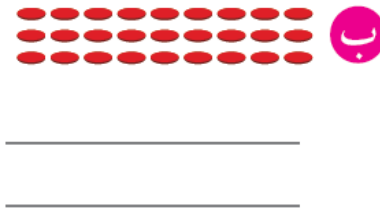
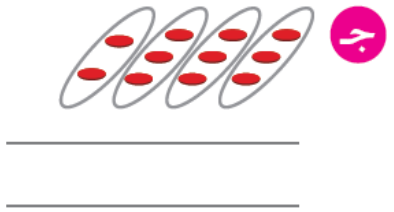


مراجعة اختبار قصير للصف الرابع
المنهج الجديد كفايات
٢٠١٩/٢٠١٨
مراجعة الوحدة الثالثة للاختبار الثاني

السؤال الأول : اكتب عبارة جمع مناسبة وعبارة ضرب (ان امكن):



أوجد الناتج :

ج $600 \times 9 =$ _____

ب $300 \times 5 =$ _____

أ $4 \times 10 =$ _____

١ أكمِل .
تَمَرَّنْ

ج $\square = 0 \times 9$

ب $\square = 1 \times 85$

أ $2 \times \square = 5 \times 2$

٢ أوجد الناتج.

ج $\square = 2 \times 4 \times 10$

ب $\square = 3 \times 3 \times 3$

أ $\square = 5 \times 4 \times 2$

أوجد الناتج:

$$\begin{array}{r} 705 \\ \times 9 \\ \hline \end{array}$$

$$\begin{array}{r} 248 \\ \times 3 \\ \hline \end{array}$$

$$\begin{array}{r} 80 \\ \times 58 \\ \hline \end{array}$$

$$\begin{array}{r} 97 \\ \times 63 \\ \hline \end{array}$$

$$\underline{\hspace{2cm}} = 4 \times 8 \times 70$$

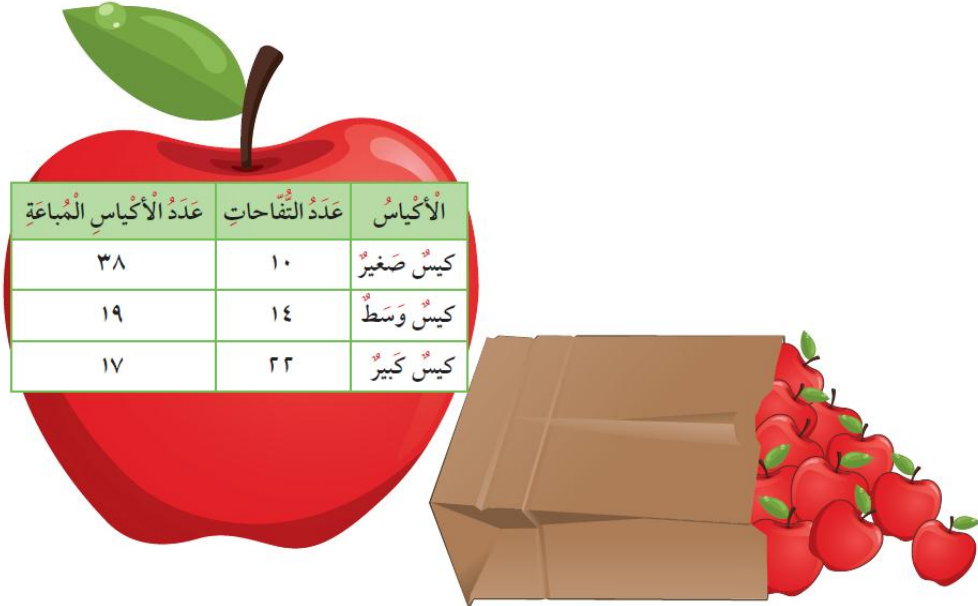
$$\underline{\hspace{2cm}} = 14 \times 3 \times 9$$

تقييم ذاتي  استخدم الحسب الذهني لإيجاد الناتج.

$$\underline{\hspace{2cm}} = 4 \times 72$$

$$\underline{\hspace{2cm}} = 6 \times 48$$

يبيّن الجدول أدناه عدد التفاحات في كل كيس وعدد الأكياس المباعة. فما عدد التفاحات التي تمّ بيعها لكل نوع من الأكياس؟



الأكياس	عدد التفاحات	عدد الأكياس المباعة
كيس صغير	١٠	٣٨
كيس وسط	١٤	١٩
كيس كبير	٢٢	١٧

معماني

لمزيد من شرح الامتحانات القصيرة انضموا الي قناة (الاستاذ حسين المعاني)

الصفحة الرئيسية الفيديوهات قوائم التشغيل

الاستاذ حسين المعاني
280 مشتركًا

التحميلات

11 علمي شرح كراسة التمارين حل المعادلات (3_1) قبل 12 ساعة...
45:35

عاشر حل كراسة التمارين دالة القيمة المطلقة (5_1) قبل 17 ساعة...

المكتبة البريد الوارد الاشتراكات المحتويات الرائجة الصفحة الرئيسية