

اختاري الاجابة الصحيحة بتظليل المربع المقابل لها :

١- جزء في النبات يصنع الغذاء هو :

الجذور الساق الورقة الزهرة

٢- مرحلة ظهور الأوراق والساق في دورة حياة النبات :

البذرة بذرة تنبت البادرة نبات مكتمل النمو

٣- حيوان فقاري يتكاثر بالولادة :

السمكة السلحفاة الدجاجة القطة

٤- من الحيوانات اللافقارية :

الأسماك اللبونات الحشرات الطيور

٤- حشرة دورة حياتها من ٣ مراحل :

الجراد النحلة الفراشة الخنفساء

اكتبي المصطلح العلمي الدال للعبارات التالية :

١- حيوانات تمتلك عموداً فقارياً ولها هيكل خارجي. (.....)

٢- الطريقة التي ينتقل بها الطعام (الطاقة) من كائن حي إلى آخر. (.....)

٣- كائن حي يأكل مما ينتج. (.....)

٤- كائن حي يعتمد على غيره في الغذاء يأكل ولا ينتج. (.....)

٥- الحيوانات التي تأكل نباتات أو أعشاب. (.....)

٦- الحيوانات التي تأكل حيوانات أخرى. (.....)

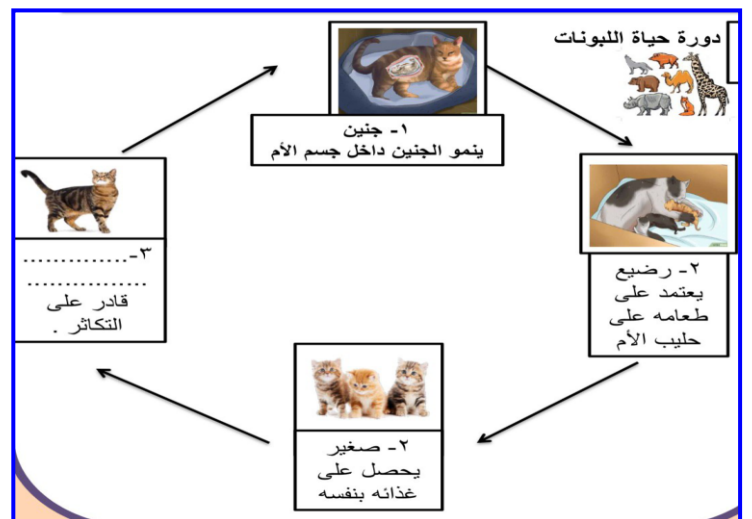
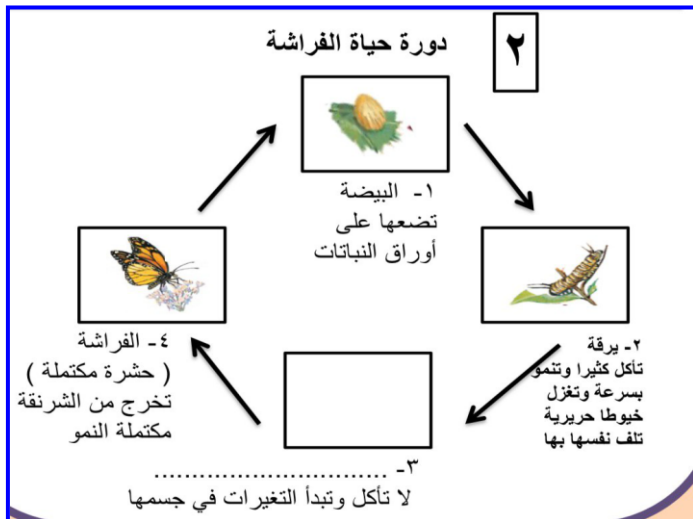
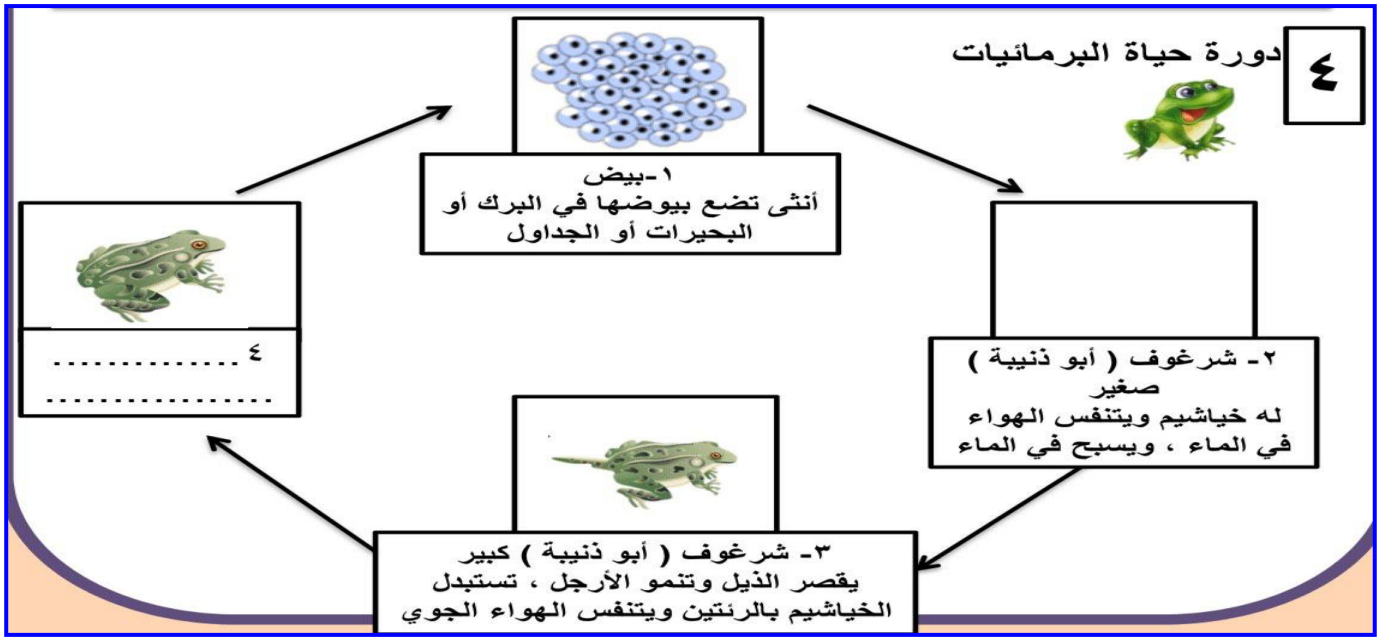
على لما يأتي تعليلا علميا سليما :

١- تعتبر الأسماك من الحيوانات الفقارية .

٢- لا ينتمي الضفدع الى مجموعة الأسماك .

٣- تعتبر النباتات كائنات منتجة

اكمل دورة حياة كلا من الكائنات التالية :



*ملحوظة : هذه بعض الأمثلة على انماط الأسئلة ولا تغني عن الدروس

اخترى الإجابة الصحيحة بتظليل المربع المقابل لها :

1- جزء في النبات يصنع الغذاء هو :

الزهرة الساق الورقة الجذور

2- مرحلة ظهور الأوراق والساق في دورة حياة النبات :

البذرة بذرة تنبت البادرة نبات مكتمل النمو

3- حيوان فقاري يتكاثر بالولادة :

السمكة السلحفاة الدجاجة القطة

4- من الحيوانات اللافقارية :

الأسماك اللبونات الحشرات الطيور

4- حشرة دورة حياتها من 3 مراحل :

الجرادة النحلة الفراشة الخنفساء

اكتب المصطلح العلمي الدال للعبارات التالية :

- 1- حيوانات تمتلك عموداً فقارياً ولها هيكل خارجي. (الحيوانات الفقارية)
- 2- الطريقة التي تنتقل بها الطعام (الطاقة) من كائن إلى آخر. (السلسلة الغذائية)
- 3- كائن حي يأكل مما ينتج . (كائن منتج
- 4- كائن حي يعتمد على غيره في الغذاء يأكل ولا ينتج . (كائن مستهلك)
- 5- الحيوانات التي تأكل نباتات أو أعشاب . (آكلة أعشاب)
- 6- الحيوانات التي تأكل حيوانات أخرى . (آكلة لحوم

على لما يأتي تعليلاً علمياً سليماً :

1- تعتبر الأسماك من الحيوانات الفقارية .

لأنها تمتلك عصبوناً (ج.ب)

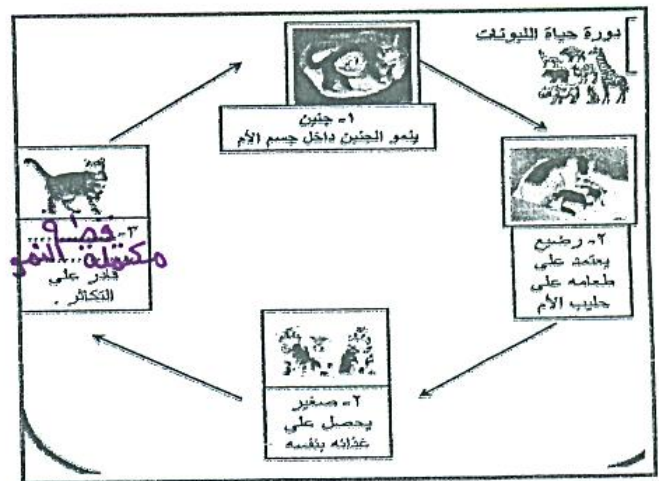
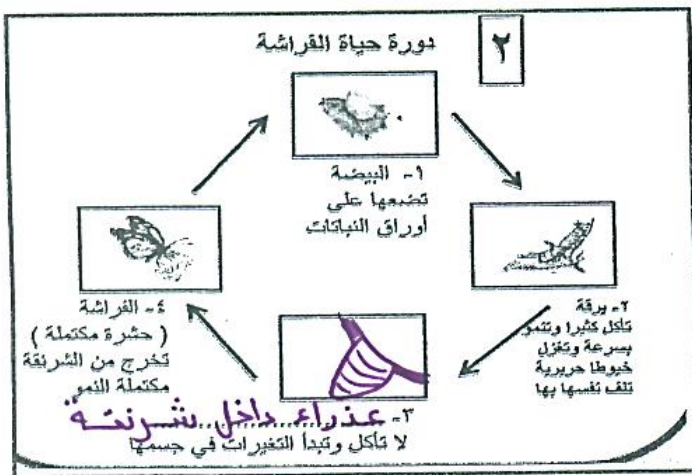
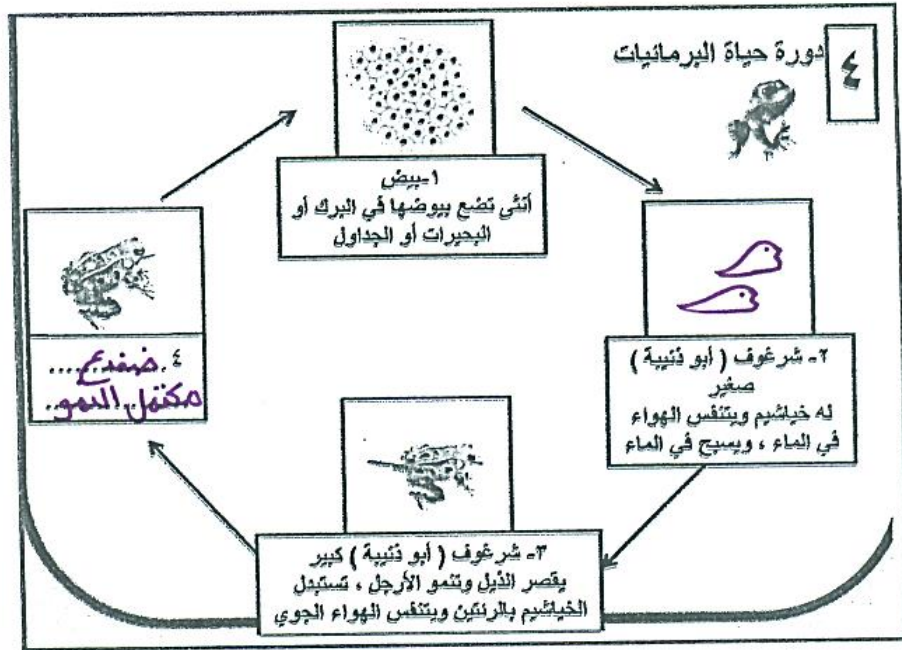
2- لا ينتمي الضفدع إلى مجموعة الأسماك .

لأنه يطبخ جزء من حياته في الماء ثم يخرج إلى اليابسة

3- تعتبر النباتات كائنات منتجة

لأنها تأكل ما تنتج أو تصنع غذاءها بنفسها .

اكمل دورة حياة كلا من الكائنات التالية :



*ملحوظة : هذه بعض الأمثلة على انماط الأسئلة ولا تغني عن الدروس