

السؤال الأول: اختاري الإجابة الصحيحة بوضع علامة () في المربع المقابل فيما يلي:

١-ظاهرة طبيعية تحدث نتيجة تدافع أجزاء القشرة الأرضية أو تباعدها

زلزال فيضان بركان جفاف

٢-جميع ماسبق آثار سلبية للبركان عدا .

حرق المحاصيل الزراعية زيادة خصوبة التربة تلوث الجو خسائر بشريه

السؤال الثاني : ضعي علامة () أمام العبارة الصحيحة وعلامة () أمام العبارة الغير صحيحة فيما يلي

١- نهر النيل يعتبر من أصغر الأنهار في العالم () .

٢- التجوية هي تفتت الصخور والمعادن وانجرافها () .

السؤال الثالث : أكمل الفراغ بكلمة مناسبة فيما يلي :

١- صخور نشأت نتيجة تعرض الصخور القديمة للتحطم والتفتت والذوبان بالماء هي-----

٢- يستخدم الحجر الطباشيري في صناعة الاسمنت وهو أحد أنواع الصخور-----

٣- الهواء و----- من عوامل التجوية.

السؤال الرابع : عددي إرشادات الأمن والسلامه عند حدوث الزلازل .



١- -----

٢- -----

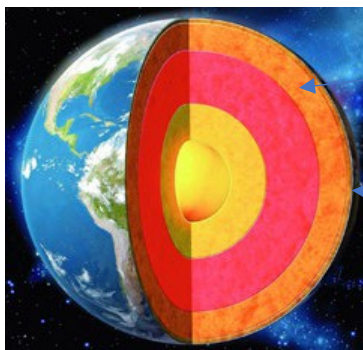
السؤال الخامس : قارني بين كل من

الحجر الرملي	البازلت	وجه المقارنة
-----	-----	نوع الصخر

قابلي بين كل من:

		وجه الشبه
-----		وجه الشبه

السؤال السادس: اكتبى البيانات على الرسم التالي الذي يوضح طبقات الأرض



(الوشاح)

(-----)