



بنك أسئلة للصف الخامس للفصل الدراسي الأول  
للعام الدراسي ٢٠١٩-٢٠٢٠ م  
نموذج (٥)

أولاً : الأسئلة الموضوعية

السؤال الاول : اختر الإجابة الصحيحة علمياً لكل من العبارات التالية بوضع علامة (✓) في المربع المقابل لها:

١- الكوكب الذي تحيط به حلقات لامعة ويمتاز بضغط جوي عال هو كوكب:

الزهرة  المشتري  نبتون  زحل

٢- العضو الذي يخض و يخلط الطعام ويحوّله لسائل هو :

المعده  الأمعاء الدقيقة  الأمعاء الغليظة  المريء

٣- حالة تنتج عن تمزق الأوعية الدموية وفقدان الدم من الجهاز الدوري :

الإغماء  الغثيان  النزيف  الكسور

٤- النظام المتكامل الذي يحتوي على الكائنات الحية وعناصر غير حية:

النظام البيئي  السلاسل الغذائية  الموطن الطبيعي  النظام الغذائي

٥- الاحتباس الحراري ظاهرة علمية تتمثل بازدياد حراره الغلاف الجوي نتيجة زياده كمية:

غاز الاكسجين  غاز الاوزن  غاز ثاني اكسيد الكربون  غاز الهليوم

السؤال الثاني: أكتب بين القوسين كلمة ( صحيحة ) للعبارة الصحيحة وكلمة ( خطأ )

للعبارة غير الصحيحة في كل مما يأتي:

١- المشتري هو أكبر كواكب النظام الشمسي . (-----)

٢- مده دوران الأرض حول محورها هي ٣٦٥ يوم . (-----)

٣- الحجاب الحاجز يؤدي دور كبير في عملية الهضم . (-----)

٤- من الأعراض المصاحبة لكسور العظام الرّعاف . (-----)

٥- طبقة الستراتوسفير هي الطبقة القريبة من الارض. (-----)

**السؤال الثالث: أكتب بين القوسين الاسم أو المصطلح العلمي الدال على كل عبارة من العبارات التالية :-**

- ١- الخط الوهمي المائل الذي يمر بالقطبين الشمالي والجنوبي للأرض . (-----)
- ٢- الشمس والكواكب الثمانية وأقمارها وغير ذلك من أجسام تدور حول الشمس . (-----)
- ٣- غاز ينشأ بتأثير الأشعة فوق البنفسجية ويتكون من ثلاث ذرات اكسجين . (-----)
- ٤- نسيج قوي مرن يمسك العظام معا عند المفاصل . (-----)
- ٥- الإجراءات التي يمكن تقديمها للمصاب في مكان الحادث . (-----)

**السؤال الرابع: في الجدول التالي اختر العبارة أو الشكل من المجموعة ( ب ) وأكتب رقمها أمام**

**ما يناسبها من عبارات المجموعة ( أ ) :**

الرقم	المجموعة ( أ )	المجموعة ( ب )
( )	طبقة الغلاف الجوي التي تحوي غاز الأوزون.	١- الثيرموسفير
( )	طبقة الغلاف الجوي التي تحدث فيها الظواهر الطبيعية.	٢- الستراتوسفير
( )	عضو في الجهاز الهضمي .	٣- التروبوسفير
( )	عضو في الجهاز التنفسي .	١- الأعصاب
( )		٢- الرنتان
( )		٣- الأمعاء الدقيقة

**السؤال الخامس: أكتب بين القوسين كلمة ( صحيحة ) للعبارة الصحيحة وكلمة ( خطأ )**

**للعبارة غير الصحيحة مع تصحيح الخطأ فيما يلي :**

- ١- تمنع المفاصل احتكاك العظام ببعضها بعضا . (-----)
- ٢- تدور الأقمار الصناعية في طبقة الثيرموسفير . (-----)
- ٣- من الممارسات الآمنة للحفاظ على الغلاف الجوي استخدام المبيدات الحشرية الكيميائية . (-----)

**السؤال السادس: قارن بين كل مما يلي:**

كوكب أورانوس	كوكب الزهرة	أوجه المقارنة
.....	.....	درجة الحرارة

كريات الدم البيضاء	كريات الدم الحمراء	أوجه المقارنة
.....	.....	الوظيفة

**السؤال السابع: علل لكل مما يلي تعليلا علميا سليما:**

١- يُسمى الأرض بكوكب الحياة .

-----

٢- أهمية الصفائح الدموية عند النزيف .

-----

**السؤال الثامن: اجب عن الاسئلة التالية :**

١- عدد اثنان من الممارسات غير الآمنة والتي تؤثر على الغلاف الجوي؟

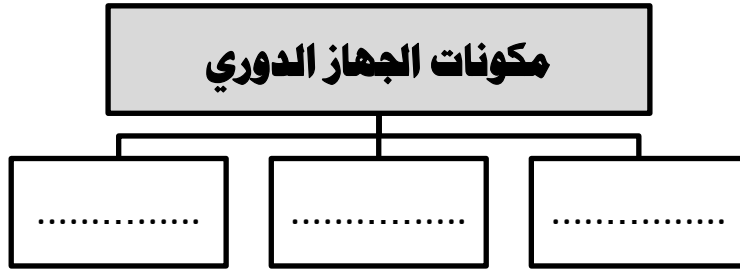
-----  
-----

٢- تقل قدرة رائد الفضاء على التوازن أثناء وجوده في الفضاء (فسر سبب ذلك) .

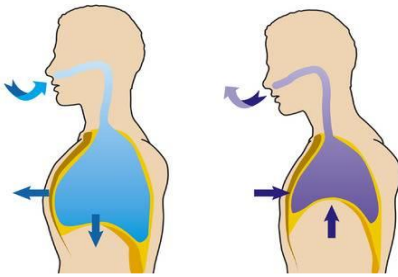
-----

**السؤال التاسع: اكمل المخطط السهمي التالي:**

-١



-٢



٢

١

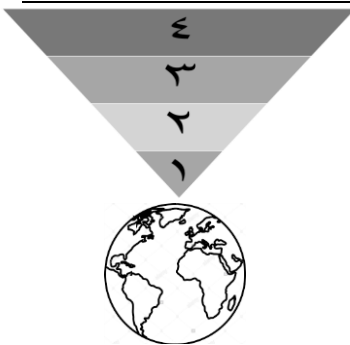
**السؤال العاشر: أكتب البيانات على الرسم التالي :-**

أ- الشكل يوضح عملية التنفس اجب عن المطلوب:

١- رقم (١) يوضح عملية .....

٢- رقم (٢) يوضح عملية .....

ب- من خلال دراستك لخصائص طبقات الغلاف الجوي أجب عن المطلوب باستخدام الأرقام:



١- الطبقة التي تحمي الأرض من خطر الشهب يمثلها الرقم .....

٢- أكثر طبقات الأرض حرارة يمثلها الرقم .....

ج- ادرس الرسم الذي أمامك ثم أجب عن المطلوب :

١- الشكل الذي أمامك يوضح .....

٢- حوط كوكب الأرض

