

الوحدة الأولى: لمحة تاريخية عن الحضارة الإسلامية

الحضارة الإسلامية ص ١٧

• عرف المفاهيم التالية:

• ((الحضارة)): هي كل ما يطرأ على المجتمع من تقدم وتطور ورفي سواء في الجانب المادي او الجانب الروحي.

• كيف استفادت الحضارة الإسلامية من الحضارات الأخرى؟

- استفادت من خلال ترجمة علومها وتسخيرها في النهضة العلمية.

• كيف تفاعل الإسلام مع شعوب العالم وثقافته؟

- استوعبت الحضارة الإسلامية شعوبا عديدة على مدار تاريخها من العرب والترك والفرس والأفارقة والآسيويين والهنود والأوروبيين وغيرهم باحترام عاداتهم وتقاليدهم وخصوصياتهم بل واستفادت منها مما كان لها الأثر الكبير في أمور حياة الدولة الإسلامية.

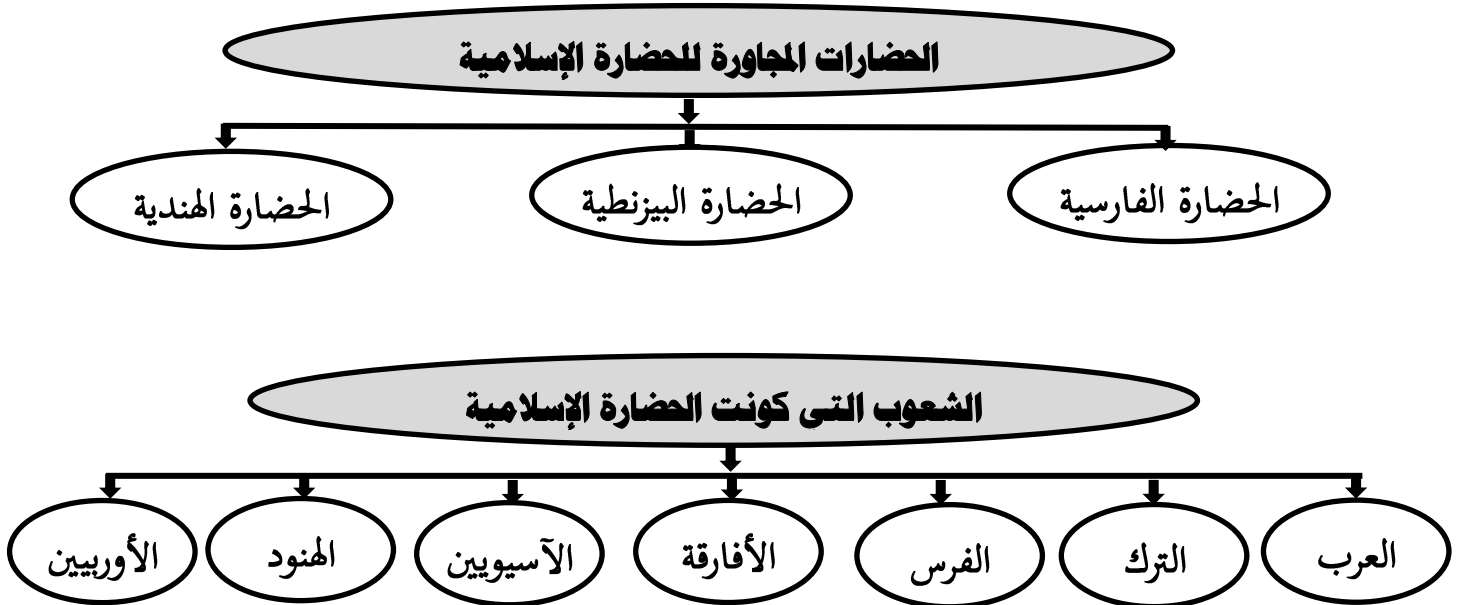


• علل: تسمية الحضارة الإسلامية بهذا الاسم؟


- حيث تمثل اللغة العربية وسيلة للتعبير عنها.

- كما مثل الدين الإسلامي روحها وجوهرها.

• أكمل المخططات التالية بما يناسبها



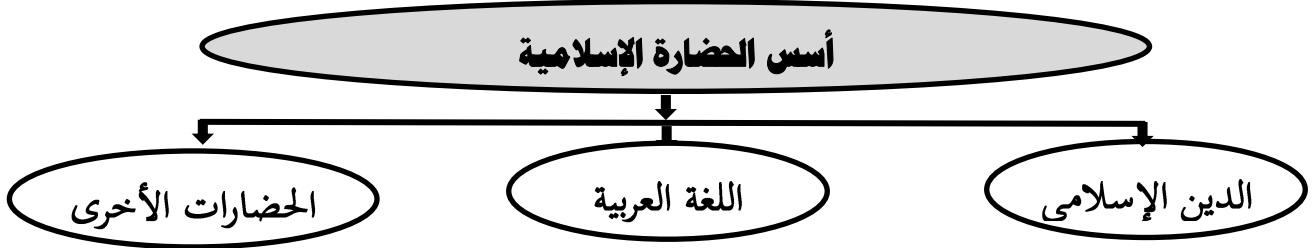
• **أهم إنجازات وأعمال العالم المسلم (البيروني)**

<p>محمد بن أحمد البيروني</p> 	<p>إنجازاته وأعماله</p> <ul style="list-style-type: none"> - ألف في الرياضيات والفلك والتاريخ والجغرافيا. - بلغت عدد مؤلفاته ١٨٠ مؤلفاً. - اكتشف معادلة حساب نصف قطر الأرض. - أشهر مؤلفاته كتاب (الصيدلة في الطب)
---	--

• **فرق بين أنواع العلوم**

العلوم العقلية	العلوم النقلية
- الرياضيات / الفيزياء / الكيمياء / الفلسفة / الفلك	- علوم الدين / من حديث / فقه / تفسرت / تاريخ

• **أكمل المخططات التالية بما يناسبها**



• **أكمل الجمل التالية بما يناسبها :**

١. المدينة التي انطلقت منها الحضارة الإسلامية اسمها ((**المدينة المنورة**))
٢. الدولة التي قامت في المدينة المنورة على يد رسول الله صلى الله عليه وسلم اسمها ((**الدولة الإسلامية**))
٣. ظهرت الحضارة الإسلامية خلال القرن ((**الثامن**)) الميلادي
٤. عدد المؤلفات التي قام بتأليفها العالم المسلم البيروني بلغت نحو ((**١٨٠**)) مؤلفاً
٥. العالم المسلم صاحب كتاب (الصيدلة في الطب) يسمى ((**البيروني**))
٦. العام الذي اعتمدت فيه الجمعية العامة للأمم المتحدة اللغة العربية ضمن اللغات الرسمية هو ((**١٩٧٣**)) م
٧. اليوم الذي يتم فيه الاحتفال باللغة العربية كل عام يوافق ((**١٨ ديسمبر**))
٨. دول اقترحت على الجمعية العامة للأمم المتحدة إدخال اللغة العربية ضمن اللغات الرسمية هم ((**السعودية والمغرب**))

• عدد خصائص الحضارة الإسلامية؟

- حضارة إنسانية. (اهتمت بالأخلاق وال عمران وفتحت المجال امام الإنسان للعمل والإبداع في وجود الأمن والسلام)
- حضارة إيمان وعمل. (دفعت المسلمين إلى العمل فكان من نتائجها التنمية والابداع وحفظ التراث ونقله)
- حضارة تسامح. (احترمت الأديان وساوت بين الشعوب كافة من دون النظر إلى العرق أو اللون أو الدين)
- حضارة عالمية. (حيث شعت منارات الحضارة الإسلامية إلى شتى بقاع الأرض على أيدي العلماء المسلمين)
- حضارة شمولية. (حيث شملت كافة مناهج الحياة الروحية والعقلية والجمالية والأخلاقية)

• علل: الحضارة الإسلامية حضارة شمولية.

- حيث شملت كافة مناهج الحياة الروحية والعقلية والجمالية والأخلاقية.
- طغت الآثار الإسلامية في كافة العالم.
- اقتبس الأوروبيون كثير من مظاهر المدن الإسلامية في كافة الجوانب (فن وزخرفة وعمارة)
- عرف ((البيمارستانات)): تعني دار المرضى أو المستشفى ومراكز الصيدلة والتحليل وصناعة الأدوية.

• اذكر اثر الحضارة الإسلامية على دولة الكويت؟

- نشأ الشعب الكويتي على الحب والتراحم والعدل والتسامح والمساواة.
- تميز الشعب الكويتي بحبه لفعل الخير من خلال تأسيس المؤسسات والجمعيات الخيرية.
- ظهور شخصيات بارزة في مجال العمل الإنساني مثل الشيخ (صباح الأحمد) والدكتور (عبد الرحمن السميطن)

• عدد أهم الجمعيات الخيرية والمؤسسات الكويتية العاملة في مجال العمل الإنساني.

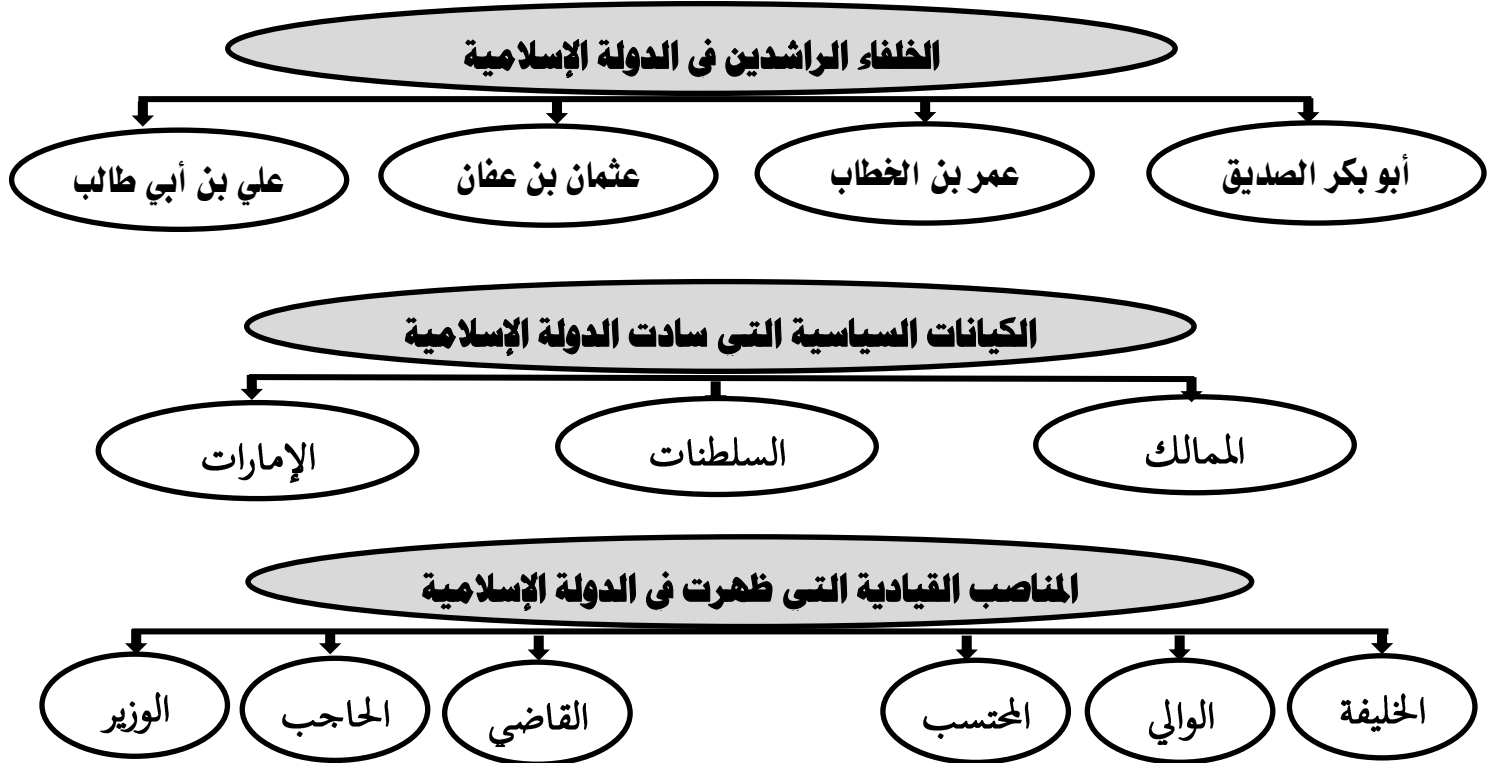
- بيت الزكاة الكويتي
- جمعية صندوق اعانة المرضى
- الهيئة الخيرية الإسلامية العالمية.
- جمعية العون المباشر.

• أكمل الجمل التالية بما يناسبها:

١. أسس الحضارة الإسلامية القرآن الكريم والحضارات الأخرى وا ((اللغة العربية))
٢. العالم اليوناني الذي اخترع جدول الضرب يسمى ((فيثاغورس))
٣. العام الذي لقب فيه الشيخ صباح الأحمد بقائد العمل الإنساني هو ((٢٠١٤م))
٤. أمير الكويت الذي حصل على لقب قائد العمل الإنساني اسمه ((الشيخ صباح الأحمد الصباح))
٥. الداعية الكويتي البارز في مجال العمل الإنساني والخيري اسمه ((الدكتور عبد الرحمن السميطن))

مظاهر الحضارة الإسلامية ص ٢٥

• أكمل المخططات التالية بما يناسبها



• أكمل الجمل التالية بما يناسبها:

١. العام الذي توفي فيه الرسول صلى الله عليه وسلم هو ((١١)) هجرًا
٢. المكان الذي اجتمع فيه المسلمون بعد وفاة الرسول لاختيار خليفة لهم يسمى ((سقيفة بني ساعدة))
٣. أول الخلفاء الراشدين الذي تولى خلافة المسلمين بعد وفاة الرسول يسمى ((أبو بكر الصديق))
٤. الخليفة الراشد الذي استحدث منصب المحتسب يسمى ((عمر بن الخطاب))
٥. العام الذي تولى فيه أبو بكر الصديق رضي الله عنه خلافة المسلمين هو ((١١)) هجرًا.
٦. العام الذي تولى فيه عمر بن الخطاب رضي الله عنه خلافة المسلمين هو ((١٣)) هجرًا
٧. العام الذي تولى فيه عثمان بن عفان رضي الله عنه خلافة المسلمين هو ((٢٣)) هجرًا
٨. العام الذي تولى فيه علي بن أبي طالب رضي الله عنه خلافة المسلمين هو ((٣٥)) هجرًا
٩. الدولة الإسلامية التي ظهرت في عهدها الممالك والسلطنات والإمارات اسما ((الدولة العباسية))

• عدد جهود المسلمين في مجال الزراعة.

- شق القنوات المائية والترع.
- إقامة السدود.
- تنظيم وسائل الري.

• علل: اهتمام الحضارة الإسلامية بمجال الصناعة.

- من أجل استثمار الموارد الطبيعية المتوفرة بها.

• عدد أهم الصناعات التي ظهرت في ظل وجود الحضارة الإسلامية.

- صناعة السفن
- صناعة الأسلحة
- صناعة الورق
- صناعة الأدوية
- صناعة المنسوجات
- صناعة الخزف والمعادن
- صناعة الأرابيسك

• لقيت التجارة تشجيعاً كبيراً في الحضارة الإسلامية؟

- لدورها الكبير في التبادل التجاري مع المناطق المجاورة مما ساهم في نشر الدين الإسلامي.
- لامتلاك العالم الإسلامي موقع استراتيجي للعديد من الخطوط التجارية و البحرية و البرية.

• فرق بين صادرات العالم الإسلامي وواردات العالم الإسلامي

واردات العالم الإسلامي	صادرات العالم الإسلامي
- الاخشاب / التوابل / الذهب	- التمور / الفواكه / اللبان / الخيول العربية

• أذكر المناطق التي تعود للعصر الإسلامي في دولة الكويت

- منطقة الشقاي (حيث كانت تعتبر محطة لاستراحة قوافل الحجاج).
- جزيرة فيلكا (حيث اكتشف قريتان تعودان للعصر الإسلامي هما قرية القصور وقرية القرينية)

• أكمل الجمل التالية بما يناسبها :

١. المدينة التي اقامت فيها الحضارة الإسلامية ديواناً للماء تسمى ((مرو))
٢. سميت صناعة الأرابيسك بهذا الاسم نسبة إلى ((العرب))
٣. منطقة في الكويت كانت قديماً محطة لاستراحة قوافل الحجاج تسمى ((الشقاي))
٤. الجزيرة الكويتية التي رصدت فيها قريتان تعودان إلى العصر الإسلامي تسمى ((فيلكا))
٥. القرى التي تعود إلى الحضارة الإسلامية على جزيرة فيلكا هما قرية القصور و ((القرينية))

مصادر بيت مال المسلمين		
المصدر	تعريفه	استخداماته
الزكاة	هي ركن من أركان الإسلام يخرجها المسلمون الأغنياء للمستحقين من الفقراء	- لسد حاجة الفقراء والمساكين
الخراج	ضريبة الأرض الزراعية التي تخرج مبلغا ماليا معيناً من ناتج المحصول الزراعي.	- كان يستعان فيه لحماية ثغور الدولة الإسلامية. - منح العطاء للجند.
الجزية	مبلغ مالي يدفعه الرجال غير المسلمين من (أهل الذمة) ممن هم قادرين على حمل السلاح نظير حماية الدولة لهم	_____
الوقف الإسلامي	عن صدقة جارية يوقفها المرء في حياته لوجوه الخير والبر فيستمر أجرها ونفعها ما دامت باقية	- لسد حاجة الفقراء والمساكين والمرضى. - نشر العلم النافع وبناء المدارس ودور الأيتام.

• **عرف ((أهل الزكاة)):** هم النصارى واليهود الذين ظلوا على دينهم مع دفع الجزية.

• **علل: تسمية الزكاة بهذا الاسم**

- لما فيها من تزكية للنفس وتطهيرها كما قال عز وجل (خذ من أموالهم صدقة تطهرهم وتزكيهم)

• **أكمل الجمل التالية بما يناسبها :**

١. ركن من أركان الإسلام يخرجها المسلمون الأغنياء يعرف ب **((الزكاة))**

٢. ضريبة الأرض الزراعية التي تخرج مبلغا ماليا معيناً من ناتج المحصول الزراعي تعرف ب **((الخراج))**

٣. مبلغ مالي يدفعه الرجال غير المسلمين ممن هم قادرين على حمل السلاح نظير حماية الدولة لهم يسمى **((الجزية))**

٤. صدقة جارية يوقفها المرء في حياته لوجوه الخير فيستمر أجرها ونفعها ما دامت باقية تعرف ب **((الوقف الإسلامي))**

٥. تجب الزكاة على الأموال النقدية التي حال عليها الحول بنسبة **((٢,٥))** %

٦. الجهة المسؤولة في الوقت الحالي عن الوقف في دولة الكويت تسمى **((الأمانة العامة للأوقاف))**

• **يملك أحد التجار مبلغاً وقدره ٥٠٠٠ دينار كويتي وارد أن يخرج زكاتها أحسب مبلغ الزكاة المستحق**

$$\text{مبلغ الزكاة المستحق} = \text{إجمالي مبلغ الزكاة} \div 100 \times 2,5$$

$$\text{مبلغ الزكاة المستحق} = 5000 \div 100 \times 2,5 = \underline{125} \text{ دينار}$$

• **عرف المفاهيم التالية :**

- ((**الفسيفساء**)): مجموعة من مكعبات الزجاج الملون و الشفاف و قطع الحجر الأبيض و الأسود و قطع الخزف .
- ((**المساجد**)): دار للعبادة تقام فيها الصلوات وخطبة الجمعة والتعليم الديني.
- ((**القصور**)): مقر الحاكم والمكان الذي يضم المؤسسات الإدارية كالوزارة والدواوين.
- ((**مجالس القصص والوعاظ**)): مجالس تحكى فيها القصص والحكايات المحببة لدى الناس.

• **عدد مميزات المظاهر العمرانية في الحضارة الإسلامية.**

- الأسوار - القباب - المآذن - المنابر - الزخارف

• **اكتب فيما يلي مما درست : المسجد الكبير بدولة الكويت**

- أهم المظاهر العمرانية في دولة الكويت.
- له إطلالة جميلة ومنظر بديع.
- يقع في قلب العاصمة مقابل قصر السيف
- تم افتتاحه عام ١٩٨٦م في عهد الشيخ جابر
- صمم وفق الطراز الأندلسي الإسلامي.

مساجد أخرى مشهورة		المساجد الثلاثة الرئيسية	
المدينة أو الدولة	اسم المسجد	المدينة أو الدولة	اسم المسجد
الفسطاط (مصر)	مسجد عمر بن العاص	مكة (السعودية)	الكعبة المشرفة (المسجد الحرام)
القاهرة (مصر)	الجامع الأزهر	المدينة المنورة (السعودية)	المسجد النبوي
تونس	جامعة الزيتونة	فلسطين المحتلة	المسجد الأقصى المبارك
الأندلس (اسبانيا)	جامعة قرطبة		
إسطنبول (تركيا)	مسجد السلطان أحمد		
دوامة الجندل (السعودية)	مسجد عمر بن الخطاب		
دمشق (سوريا)	المسجد الأموي		

• **أهم القصور في الحضارة الإسلامية**

اسم القصر	المدينة والدولة	بناه
قصر الخضر	دمشق	معاوية بن أبي سفيان
قصر عمرة	الأردن	يزيد بن معاوية
قصر الرصافة	سوريا	هشام بن عبد الملك
قصر الحمراء	غرناطة (اسبانيا)	_____



• اكتب فيما يلي مما درست : قصر الحمراء

- يعتبر نموذجاً مميزاً للعمارة الإسلامية.
- يقع في مدينة غرناطة في الأندلس.
- من أجمل أجزائه ساحة الأسود مع النافورة
- يتميز بالجدران والسقوف المزخرفة.

• اذكر أجزاء المسجد الأقصى المبارك .

- قبة الصخرة
- المسجد القبلي
- المصلى الماروني

• اذكر الفئات الاجتماعية في الحضارة الإسلامية .

- الحكام
- رجال الدين
- التجار .
- الخدم
- أهل الذمة

• أكمل الجمل التالية بما يناسبها :

١. مدن أقامت حولها الحضارة الإسلامية اسوار منها مدينة الإحساء وبغداد وا ((القاهرة))
٢. العام الذي تم فيه افتتاح المسجد الكبير في دولة الكويت هو ((١٩٨٦)) ميلادياً
٣. أمير البلاد الذي تم في عهده افتتاح المسجد الكبير يسمى الشيخ ((جابر الأحمد الصباح))
٤. الطراز المعماري الذي صمم عليه المسجد الكبير في الكويت يسمى ((الطراز الأندلسي الإسلامي))
١. المسجد الذي رفع قواعده نبي الله إبراهيم وابنه إسماعيل يسمى ((الكعبة المشرفة))
٢. الفترة الزمنية التي استغرقها بناء المسجد النبوي تقدر بنحو ((شهرين))
٣. الخليفة الأموي الذي ضم حجرات الرسول إلى المسجد يسمى ((عبد الملك بن مروان))
٤. أحد أكبر المساجد في العالم ويعتبر أول القبليتين عند المسلمين يسمى ((المسجد الأقصى))
٥. المسجد الإسلامي المشهور الذي يوجد في مدينة الفسطاط في مصر يسمى ((عمرو بن العاص))
٦. المدينة التي يوجد بها المسجد الأموي تسمى ((دمشق))
٧. المدينة التي يوجد بها مسجد عمرو بن العاص تسمى ((الفسطاط))
٨. المدينة التي يوجد بها الجامع الأزهر تسمى ((القاهرة))
٩. الخليفة الأموي الذي بنى قصر الخضراء في دمشق يسمى ((معاوية بن أبي سفيان))
١٠. الخليفة الأموي الذي بنى قصر عمرة في الأردن يسمى ((يزيد بن معاوية))
١١. الخليفة الأموي الذي بنى قصر الرصافة في سوريا يسمى ((هشام بن معاوية))
١٢. المدينة التي يوجد بها قصر الحمراء تسمى ((غرناطة))

• عدد العوامل التي أدت إلى ازدهار العلم وظهور العلماء

- تشجيع ورعاية وتمويل القيادات السياسية للعلماء
- التنافس العلمي بين الدول الإسلامية.
- حركة التعريب للكتب القديمة اليونانية والهندية والفارسية وغيرها.
- الرخاء الاقتصادي.

• اذكر أهم المراكز العلمية في الحضارة الإسلامية.

- مسجد مكة والمدينة المنورة.
- بيت الحكمة في بغداد.
- المرصد الفلكي في مراغة في أذربيجان.
- مجمع باي كاليان في مدينة بخارى في أوزباكستان.

اشهر العلماء المسلمين

اسم العالم	البكري	الخوارزمي	أبو بكر الرازي	الجاحظ
أهم	ألف كتاب	ألف كتاب	ألف كتاب	ألف كتاب (الحيوان)
مؤلفاته	(المسالك والممالك)	(الجبر والمقابلة)	(الحاوي في الطب)	ألف ٣٥٠ كتاب.
واعماله	ألف كتاب	أسس علم الجبر	مؤسس علم الكيمياء الحديث	كان يراقب سلوك الحيوانات بالتجارب.
	(معجم ما استعجم)	اختراع الأرقام العربية	الحيوانات الحديثة	كان يميل في كتاباته إلى تسليية القارئ.
				بحث في علوم الفقه والأدب.

• أكمل الجمل التالية بما يناسبها :

١. الخليفة العباسي الذي شجع على العلم وحركة الترجمة اسمه ((**المأمون**))
٢. الدولة التي كان يوجد بها المرصد الفلكي أحد المراكز العلمية في الحضارة الإسلامية تسمى ((**أذربيجان**))
٣. المدينة التي كان يوجد بها بيت الحكمة أحد المراكز العلمية في الحضارة الإسلامية تسمى ((**بغداد**))
٤. المدينة التي كان يوجد بها مجمع باي كاليان أحد المراكز العلمية في الحضارة الإسلامية تسمى ((**بخارى**))
٥. أحد أهم المراكز العلمية في الحضارة الإسلامية يوجد في مدينة مراغة في أذربيجان اسمه ((**المرصد الفلكي**))
٦. العالم المسلم الذي يرجع له الفضل في تطوير الكاميرا اسمه ((**الحسن بن الهيثم**))
٧. العالم المسلم صاحب كتاب (الجبر والمقابلة) اسمه ((**الخوارزمي**))
٨. العالم المسلم صاحب كتاب (الحيوان) اسمه ((**الجاحظ**))
٩. عدد الكتب التي ألفها العالم المسلم الجاحظ تقدر بنحو ((**٣٥٠**)) مؤلفاً
١٠. العالم المسلم صاحب كتاب (الحاوي في الطب) اسمه ((**أبو بكر الرازي**))

مراكز إشعاع الحضارة الإسلامية ص ٤١

• عدد مراكز إشعاع الحضارة الإسلامية إلى أوروبا

- بلاد الاندلس
- جزيرة صقلية
- بلاد الشام

• علل: تدين أوروبا بالفضل الكبير للحضارة الإسلامية.

- حيث كانت السبب في النهضة الصناعية والعلمية والأوروبية الحديثة.

• برهن أو دلل على تأثير الحضارة الأوروبية والعالية بالحضارة الإسلامية في مجال الفلسفة

- حيث أثرت كتابات الفيلسوف المسلم (الكندي) في العالم الإنجليزي (روجر بيكون) في القرن السابع الهجري.

• برهن أو دلل على تأثير الحضارة الأوروبية والعالية بالحضارة الإسلامية في مجال الجغرافيا

- تأثر وترجم الأوروبيين كتاب (نزهة المشتاق في اختراق الأفاق) للعالم المسلم الشريف الإدريسي.

- تأثر الأوروبيين بكلام الإدريسي عن كروية الأرض وغامر بعضهم نحو الغرب ليكتشف الأمريكيتين.

• برهن أو دلل على تأثير الحضارة الأوروبية بالحضارة الإسلامية في مجال استنباط المياه الجوفية

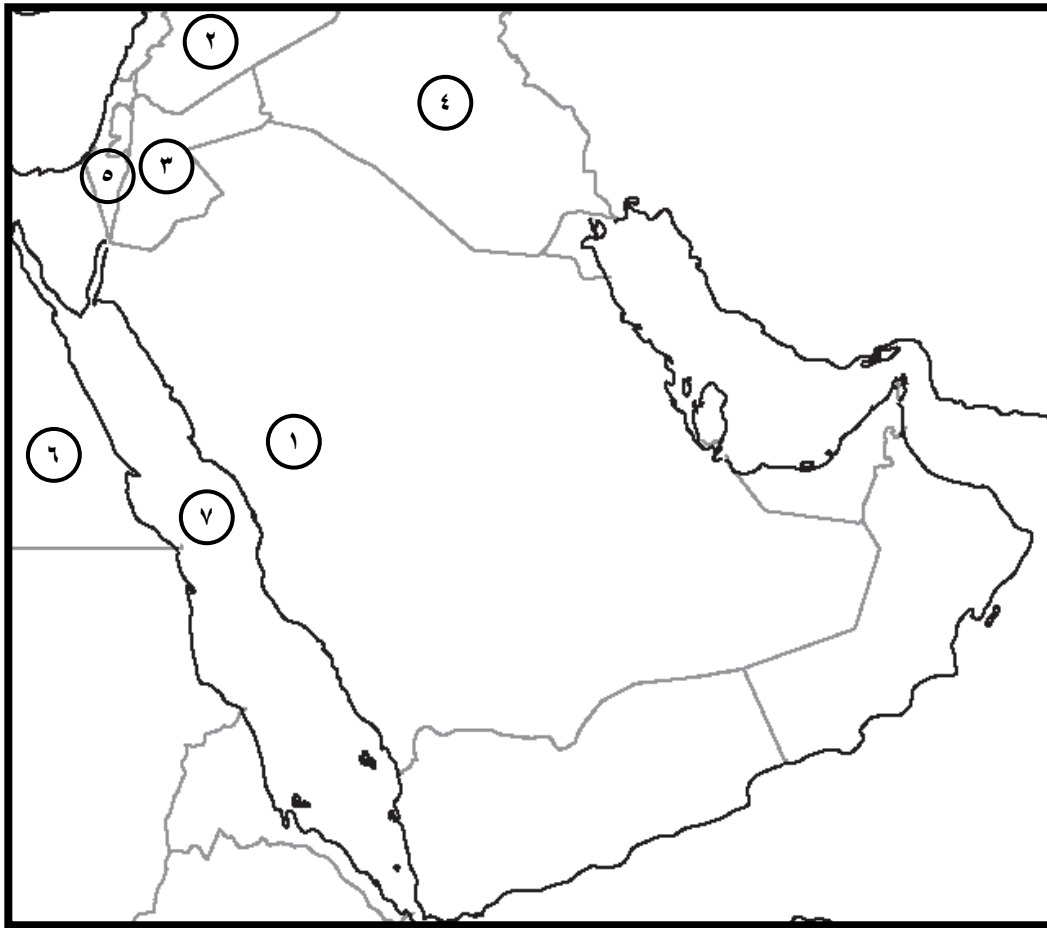
- استفادت الحضارة الأوروبية من شبكة المياه الجوفية التي أقامها المسلمون حيث شق المسلمون القنوات الجوفية تحت الأرض بطريقة هندسية وصنعت هذه القنوات من الفخار والخزف ووضع على جوانبها انابيب من الرصاص لحفظ المياه من الدنس.

• أكمل الجمل التالية بما يناسبها :

١. العالم الإنجليزي الذي تأثر بكتاب الكندي في الهندسة في القرن السابع الهجري اسمه ((روجر بيكون))
٢. العالم المسلم الذي ترجم الأوروبيين كتابه نزهة المشتاق في اختراق الافاق اسمه ((الشريف الإدريسي))
٣. العالم المسلم الذي تأثر الأوروبيين بكتابه عن كروية الأرض اسمه ((الشريف الإدريسي))
٤. المدينة التي استفاد منها الأوروبيون من شبكة موارد المياه الجوفية للمسلمين اسمها ((مجريط))
٥. الطائر الذي استغله المسلمون في نقل البريد الجوي المستعجل اسمه ((الحمام الزاجل))
٦. الخريطة المقابلة توضح كروية الأرض لعالم مسلم يسمى ((الشريف الإدريسي))



• لاحظ الخريطة التالية ثم أكتب الرقم الدال على العبارات التي تليها:



١. المدينة التي انطلقت منها الحضارة الإسلامية تحمل على الخريطة الرقم ((١))
٢. بحر القلزم يمثله على الخريطة الرقم ((٧))
٣. الدولة التي يوجد بها مسجد عمرو بن العاص تحمل على الخريطة الرقم ((٦))
٤. الدولة التي يوجد بها الجامع الأزهر تحمل على الخريطة الرقم ((٦))
٥. الدولة التي يوجد بها المسجد الأموي تحمل على الخريطة الرقم ((٢))
٦. الدولة التي يوجد بها المسجد الأقصى المبارك تحمل على الخريطة الرقم ((٥))
٧. الدولة التي يوجد بها قصر الرصافة تحمل على الخريطة الرقم ((٢))
٨. الدولة التي يوجد بها قصر عمرة تحمل على الخريطة الرقم ((٣))
٩. الدولة التي يوجد بها قصر الخضراء تحمل على الخريطة الرقم ((٢))

الوحدة الثانية: البيئة الطبيعية للعالم الإسلامي

البيئة الطبيعية لدول العالم الإسلامي اطعاصر ص ٥١

• اكتب فيما يلي مما درست : موقع العالم الإسلامي

- يشغل العالم الإسلامي موقعاً جغرافياً مهماً على خريطة العالم.
- يمتد ضمن أربعة قارات (آسيا، أفريقيا ، أوروبا) القارات القديمة بالإضافة إلى (أمريكا الجنوبية).
- يمتد بين خطي طول من ١٨ غرباً إلى ١٤١ شرقاً ، ودائرتي عرض من ١٣ جنوباً إلى ٥٥ شمال خط الاستواء.

• أكمل الجمل التالية بما يناسبها :

١. القارات التي يمتد فيها العالم الإسلامي آسيا ، أفريقيا ، أوروبا بالإضافة إلى قارة تسمى ((أمريكا الشمالية))
٢. إجمالي عدد الدول الإسلامية في القارات الأربعة يقدر بنحو ((٥٦)) دولة
٣. عدد الدول الإسلامية في قارة أفريقيا يقدر بنحو ((٢٦)) دولة
٤. عدد الدول الإسلامية في قارة آسيا يقدر بنحو ((٢٧)) دولة
٥. القارة التي تضم دولتين فقط من إجمالي عدد الدول الإسلامية تسمى ((أوروبا))
٦. الدولة الإسلامية الوحيدة التي تقع في قارة أمريكا الجنوبية اسمها ((سورينام))
٧. مساحة العالم الإسلامي من إجمالي مساحة العالم يقدر بنحو ((٣٢)) مليون كم^٢
٨. نسبة مساحة العالم الإسلامي من جملة مساحة العالم يقدر بنحو ((٢٢,٢)) %
٩. يمتد العالم الإسلامي بين خطي طول ١٨ درجة غرباً إلى ((١٤١)) درجة شرقاً
١٠. يمتد العالم الإسلامي بين دائرتي عرض ١٣ درجات جنوباً إلى ((٥٥)) درجة شمالاً
١١. الدولة الإسلامية الأكبر مساحة على مستوى العالم اسمها ((كازاخستان))
١٢. الدولة الإسلامية الأصغر مساحة على مستوى العالم اسمها ((جمهورية المالديف))

• علل : تنوع التضاريس في العالم الإسلامي.

- بسبب اتساع رقعة العالم الإسلامي حيث يبلغ مساحته ٣٢ مليون كم^٢.
- امتداد العالم الإسلامي في أربع قارات من أصل سبعة .

• فرق بين أشكال سطح الأرض واذكر تعريف كل واحد فيهم.

الوادي	التل	الجبل	الهضبة	السهل
حوض أو منخفض طبيعي على سطح الأرض.	يشبه الجبل ولكن ارتفاعه أقل من ١٠٠٠ م	هو كل قمة لا يقل ارتفاعها عن ١٠٠٠ متر تقريباً	أرض مرتفع سطحها مستوي وتمتد في مساحة واسعة	- أجزاء فسيحة من سطح الأرض تتميز باستوائها
				

• أذكر أهم التضاريس (الجبال - الهضاب - السهول) في العالم الإسلامي.

السهول	الهضبة في العالم الإسلامي	الجبال في العالم الإسلامي
<p><u>سهول ساحلية</u></p> <ul style="list-style-type: none"> - سهول المحيط الأطلسي - سهول المحيط الهندي <p><u>سهول فيضيه</u></p> <ul style="list-style-type: none"> - سهل نهر النيل - سهل نهر دجلة - سهل نهر جوبا - سهل نهر الأردن <p><u>السهول في دولة الكويت</u></p> <ul style="list-style-type: none"> - سهل برقان في الجنوب - سهل الروضتين في الشمال 	<p><u>أولاً : قارة آسيا</u></p> <ul style="list-style-type: none"> - الهضبة الإيرانية (إيران) - هضبة نجد (السعودية) - هضبة الأناضول (تركيا) <p><u>ثانياً : قارة افريقيا</u></p> <ul style="list-style-type: none"> - هضبة الصحراء الكبرى (مصر ، ليبيا ، الجزائر) 	<p><u>أولاً : قارة آسيا</u></p> <ul style="list-style-type: none"> - جبال زاغروس (إيران) - جبال اليمن (اليمن) - جبال باكستان (باكستان) - جبال كشمير (كشمير) <p><u>ثانياً : قارة افريقيا</u></p> <ul style="list-style-type: none"> - جبال البحر الأحمر (مصر والسودان) - جبال تبستي (تشاد) - جبل مرة (السودان) - الجبل الأخضر (ليبيا) - جبال اطلس (الجزائر والمغرب) - جبال الأحجار (الجزائر) <p><u>ثالثاً : قارة أوروبا</u></p> <ul style="list-style-type: none"> - جبال الألب الدينارية (البانيا والبوسنة والهرسك) <p><u>رابعاً : قارة أمريكا الجنوبية</u></p> <ul style="list-style-type: none"> - قمة جبل جوليا ناتوب (سورينام)

• علل : تسمية مرتفعات الحجاز بهذا الاسم.

- حيث تحجز سهل تهامة في الغرب عن هضبة نجد في الشرق.

• **علل : قلة عدد السكان في المناطق الجبلية في دول العالم الإسلامي.**

- بسبب شدة انحدارها
- انخفاض الضغط الجوي.
- قلة وجود الأوكسجين.
- ندرة المياه.

• **اكتب فيما يلي مما درست : هضبة الصحراء الكبرى**

- من أكبر الهضاب في العالم
- تمتد من ساحل المحيط الأطلسي غرباً حتى مرتفعات البحر الأحمر شرقاً

• **عدد أهمية السهول في دول العالم الإسلامي.**

- تستخدم كموانئ طبيعية.
- تشييد المدن.
- تركز السكان فيها لسهولة التنقل.

• **فرق بين كل من**

أهم السهول الساحلية في دول العالم الإسلامي	أهم السهول الفيضية في دول العالم الإسلامي
- السهول الساحلية على المحيط الأطلسي	- سهل نهر النيل
- السهول الساحلية على المحيط الهندي	- سهل نهر دجلة والفرات
	- سهل نهر جوبا وشيلي
	- سهل نهر الأردن

تلال الكويت التي تقع في الشمال	واردات العالم الإسلامي
- تلال جال الزور/ تلال كراع المرو/ تلال اللياح	- تلال وارة / تلال القرين/ تلال برقان

• **أكمل الجمل التالية بما يناسبها :**

١. القارة التي يقع بها جبال عسير والحجاز اسمها ((**آسيا**))
٢. الهضبة التي تمتد في الأراضي التركية بقارة آسيا اسمها ((**الأناضول**))
٣. الهضبة التي تمتد في مصر وليبيا والجزائر بقارة افريقيا اسمها ((**الصحراء الكبرى**))
٤. السهل الذي يقع في شمال دولة الكويت يسمى ((**الروضتين**))
٥. السهل الذي يقع جنوب دولة الكويت يسمى ((**برقان**))
٦. جبال الأحجار توجد في دولة إسلامية تسمى ((**الجزائر**))
٧. القارة التي يقع بها جبال الألب الدينارية اسمها ((**أوروبا**))
٨. القمة الجبلية التي تقع في أمريكا الجنوبية في دولة سورينام تسمى ((**جوليا ناتوب**))
٩. المرتفعات التي تحجز سهل تامة في الغرب عن هضبة نجد في الغرب اسمها ((**مرتفعات الحجاز**))
١٠. الهضبة التي تمتد من ساحل المحيط الأطلسي غرباً حتى مرتفعات البحر الأحمر شرقاً اسمها ((**الصحراء الكبرى**))
١١. الهضبة التي تقع في دولة الكويت تسمى ((**الأحمدي**)) ويقدر امتداها ب ((**٣٠**)) كم

• عدد العوامل التي ساهمت في تنوع المناخ في دول العالم الإسلامي

- امتداد دول العالم الإسلامي على مساحة شاسعة.
- الموقع الفلكي بالنسبة لدوائر العرض.
- الإطالة على عدة مسطحات مائية.
- التنوع في التضاريس (جبال، هضاب، سهول، وديان)

• فرق بين مفهوم الطقس والمناخ

المناخ	الطقس
- حالة الجو خلال فترة زمنية قصيرة (يوم أو عدة أيام)	- حالة الطقس خلال فترة زمنية طويلة.

• أذكر عناصر المناخ.

- درجة الحرارة
- الرطوبة
- الامطار
- الضغط الجوي.

• عرف ((الإقليم المناخي)): مساحة من الأرض تتصف بعناصر مناخية متشابهة.

• عدد الأقاليم المناخية التي توجد بدول العالم الإسلامي

اسم الإقليم	مميزاته المناخية	توزيعه في الدول
إقليم المناخ الاستوائي	حار ممطر طوال العام	ماليزيا وإندونيسيا والصومال ودول غرب افريقيا
إقليم المناخ الموسمي	حار ممطر صيفاً	بنغلاديش وباكستان وسلطنة عمان واليمن
إقليم المناخ المداري	ممطر صيفاً	السنغال وغينيا وبنين ونيجريا وموزمبيق
إقليم المناخ المعتدل	دافئ ممطر شتاً	مثل البانيا والبوسنة والمهرسك وتركيا وكشمير
إقليم المناخ القاري الصحراوي	حار	الكويت والخليج وكازاخستان ومصر وليبيا والجزائر وتشاد

• أكمل الجمل التالية بما يناسبها:

١. الإقليم المناخي التي تقع معظم أراضي دولة الكويت فيه اسمه ((الإقليم القاري الصحراوي))
٢. أكبر الأقاليم المناخية انتشاراً في دول العالم الإسلامي اسمه ((الإقليم القاري الصحراوي))
٣. حالة الجو خلال فترة زمنية قصيرة يعرف ب ((الطقس))
٤. حالة الجو خلال فترة زمنية طويلة يعرف ب ((المناخ))
٥. الإقليم المناخي الذي يمر بأراضي بعض الدول الإسلامية مثل ماليزيا وإندونيسيا اسمه ((إقليم المناخ الاستوائي))

• **علل: تنوع الموارد الطبيعية في العالم الإسلامي.**

- بسبب اتساع مساحة العالم الإسلامي وتنوع تضاريسه ومناخه.
- تنوع التضاريس والمناخ.

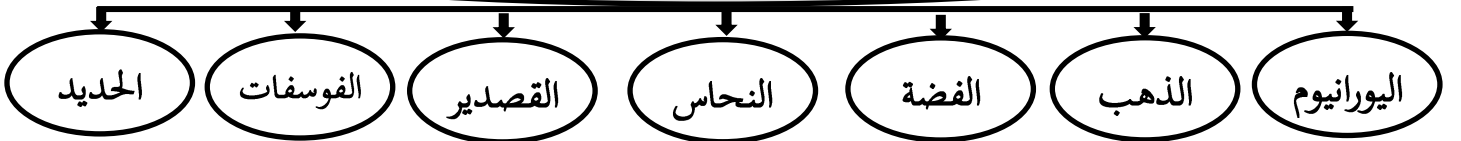
• **فرق بين مفهوم انتاج النفط ومفهوم احتياطي النفط**

احتياطي النفط	انتاج النفط
- كمية النفط المخزونة في باطن الأرض.	- كمية النفط المستخرجة من باطن الأرض.

• **أكمل الجمل التالية بما يناسبها:**

١. نسبة انتاج العالم الإسلامي من النفط الخام من إجمالي الإنتاج العالمي يقدر بنحو ((٤١,٥)) %
٢. نسبة احتياطي العالم الإسلامي من النفط الخام من إجمالي الاحتياطي العالمي يقدر بنحو ((٥٨,٥)) %
٣. نسبة انتاج العالم الإسلامي من الغاز الطبيعي من إجمالي الإنتاج العالمي يقدر بنحو ((٣٦)) %
٤. أولى دول العالم الإسلامي في إنتاج النفط دولة تسمى ((السعودية))
٥. أولى دول العالم الإسلامي في احتياطي النفط دولة تسمى ((السعودية))
٦. أولى دول العالم الإسلامي في إنتاج الغاز الطبيعي دولة تسمى ((ايران))
٧. أولى دول العالم الإسلامي في احتياطي الغاز الطبيعي دولة تسمى ((ايران))

أهم وأكثر المعادن انتشاراً في دول العالم الإسلامي



• **أكمل الجمل التالية بما يناسبها:**

١. أولى دول العالم الإسلامي إنتاجاً لمعدن اليورانيوم حسب إحصاء عام ٢٠١٤ م تسمى ((كازاخستان))
٢. أولى دول العالم الإسلامي إنتاجاً لمعدن الذهب حسب إحصاء عام ٢٠١٤ م تسمى ((أوزباكستان))
٣. أولى دول العالم الإسلامي إنتاجاً لمعدن الفضة حسب إحصاء عام ٢٠١٤ م تسمى ((إندونيسيا - كازاخستان))

• عدد العوامل التي ساعدت على زيادة الإنتاج الزراعي في دول العالم الإسلامي

- التربة الخصبة
- المناخ
- سقوط الامطار.
- وجود موارد مائية (أنهار، آبار، وبحيرات)
- توفر الأيدي العاملة .

• فرق بين الحبوب والغلات النقدية في دول العالم الإسلامي

الغلات النقدية	الحبوب
- القطن/ الجوت/ المطاط الطبيعي	- الذرة/ القمح/ الأرز (تمثل ١٤% من إجمالي الإنتاج العالمي)

• عرف المفاهيم التالية :

- ((الغلات النقدية)): هي المحاصيل التي تزرع من أجل التصدير مثل (القطن/ الجوت/ المطاط الطبيعي)
- ((الجوت)): نوع من أنواع المحاصيل النقدية ينمو في المناطق الاستوائية والموسمية تؤخذ أغصانه وتوضع تحت الماء وتغطى بالطين وبعد أيام تستخرج وتغزل ويصنع منها الحبال والأحذية والحقائب والملابس الخشنة.

• علل: تركز زراعة الأرز في ماليزيا وباكستان وإندونيسيا وبنغلادش.

- حيث يحتاج الأرز إلى درجة حرارة معتدلة ووفرة في المياه وخصوبة في التربة وهذا ما يتوفر في الدول الثلاث.

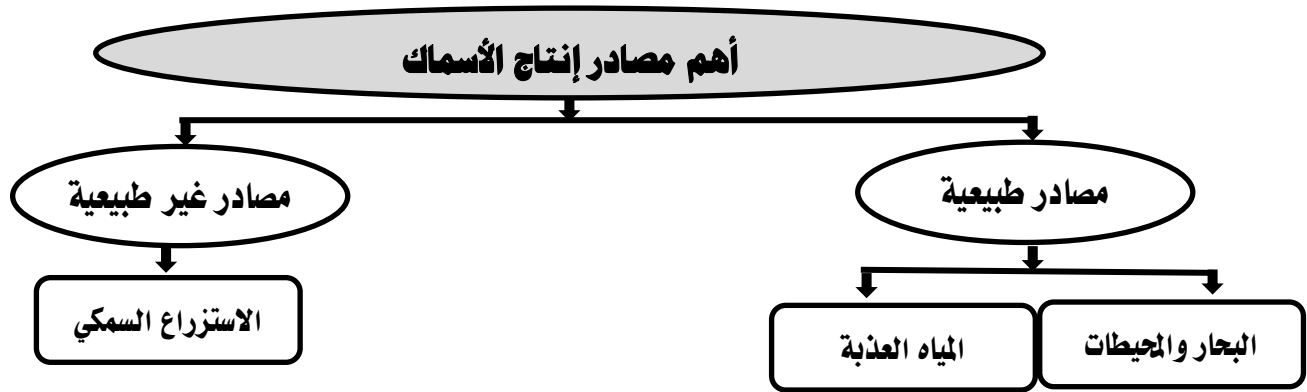
• علل: لحصول الجوت أهمية كبيرة في دول العالم الإسلامي.

- حيث يعتبر من المحاصيل النقدية ويدخل في العديد من الصناعات مثل صناعة الحبال والأحذية والحقائب والملابس الخشنة.

• أكمل الجمل التالية بما يناسبها:

١. نسبة إنتاج العالم الإسلامي من الحبوب من إجمالي الإنتاج العالمي يقدر بنحو ((١٤)) %
٢. المحاصيل التي تزرع من أجل التصدير مثل القطن والمطاط الطبيعي تعرف بـ ((المحاصيل النقدية))
٣. نوع من أنواع المحاصيل النقدية يدخل في صناعة الحبال والأحذية والحقائب والملابس الخشنة. ((الجوت))

• أكمل المخططات التالية بما يناسبها



• اذكر أسماء الدول الإسلامية التي تطل على أكثر من مسطح مائي .

– مصر ، المغرب ، السعودية ، سلطنة عمان ، اليمن ، تركيا ، إيران ، إندونيسيا ، ماليزيا

• اذكر أسماء الدول الإسلامية التي لا تطل على أي مسطح مائي (مغلقة) .

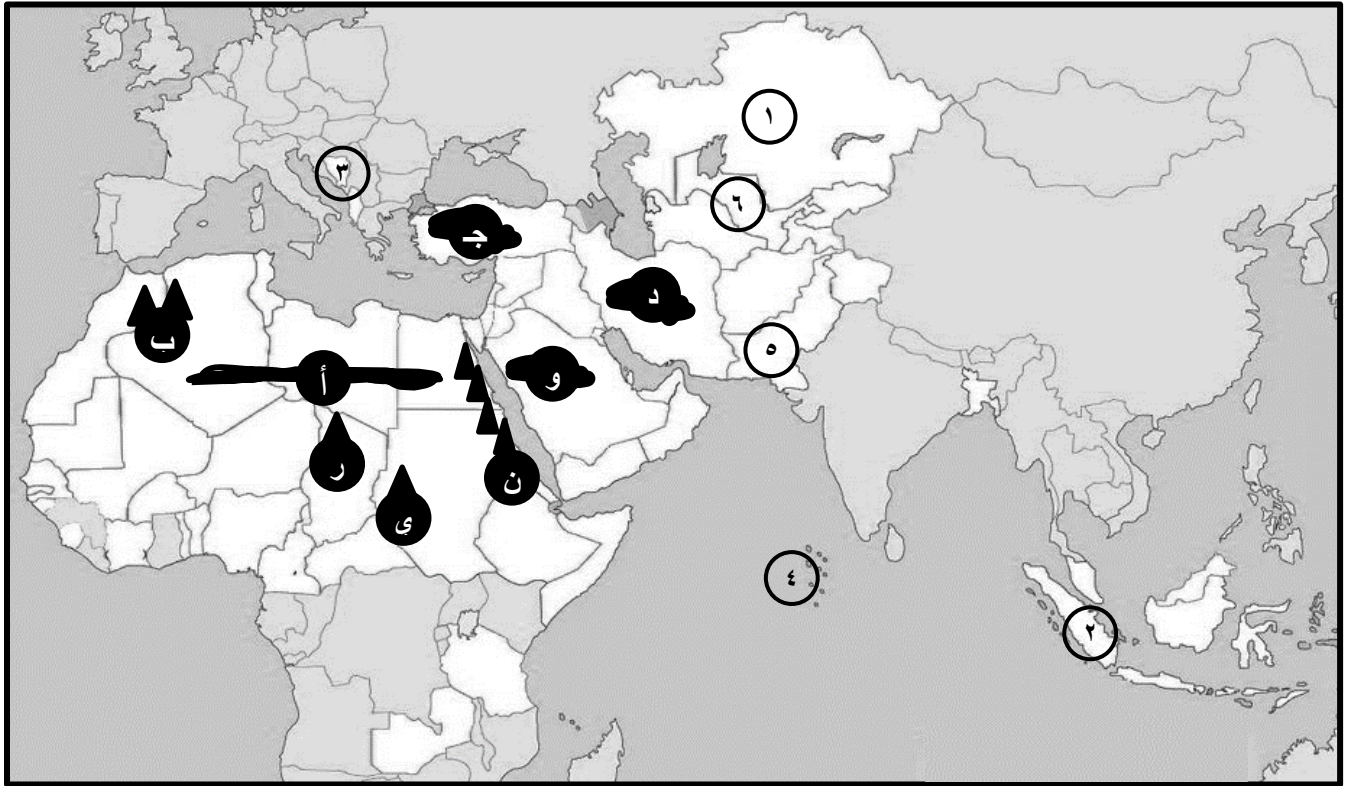
– أفغانستان ، كازاخستان ، قيرغيزستان ، طاجيكستان ، تركمانستان ، أوزبكستان ، تشاد ، النيجر ، مالي ، أوغندا

• أكمل الجمل التالية بما يناسبها:

١ . الدولة الإسلامية التي احتلت المركز الثاني عالمياً في الإنتاج البحري تسمى ((إندونيسيا))

٢ . أحد المصادر غير الطبيعية لإنتاج الأسماك اسمه ((الاستزراع السمكي))

• **لاحظ الخريطة التالية ثم أكتب الرقم الدال على العبارات التي تليها:**



١. الدولة الإسلامية الأولى من حيث المساحة تحمل على الخريطة الرقم ((١))
٢. الدولة الإسلامية الأصغر من حيث المساحة تحمل على الخريطة الرقم ((٤))
٣. الدولة الإسلامية الثانية عالمياً في الإنتاج البحري تحمل على الخريطة الرقم ((٢))
٤. أولى دول العالم الإسلامي إنتاجاً لمعدن الذهب تحمل على الخريطة ((٦))
٥. أولى دول العالم الإسلامي إنتاجاً لمعدن اليورانيوم تحمل على الخريطة الرقم ((١))
٦. هضبة الاناضول يمثلها على الخريطة الحرف ((ج))
٧. هضبة الصحراء الكبرى يمثلها على الخريطة الحرف ((أ))
١٠. هضبة ايران يمثلها على الخريطة الحرف ((د))
١١. هضبة نجد يمثلها على الخريطة الحرف ((و))
١٢. جبال أطلس يمثلها على الخريطة الحرف ((ب))
١٣. جبال البحر الأحمر يمثلها على الخريطة الحرف ((ن))
١٤. جبل مرو يمثلها على الخريطة الحرف ((ي))
١٥. جبل تبستي يمثلها على الخريطة الحرف ((ز))