



وزارة التربية

اللجنة الفنية المشتركة للمرحلة الابتدائية

بنك أسئلة للصف الخامس الفصل الدراسي الأول

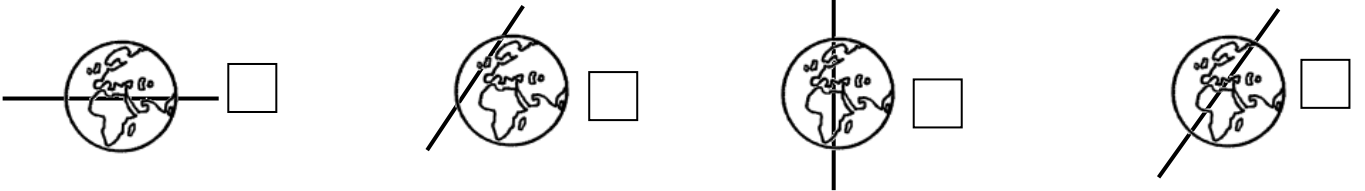
للعام الدراسي (٢٠١٩ / ٢٠٢٠ م)

نموذج (٣)

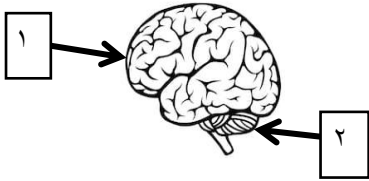
السؤال الأول : اختر الإجابة الصحيحة علمياً لكل من العبارات التالية بوضع علامة (✓) في المربع

المقابل لها:

١- الشكل الذي يمثل محور الأرض هو :



٢- وظيفة الجزء رقم (٢) هي :



التحكم في التنفس

حفظ التوازن

التحكم في خفقان القلب

نقل الرسائل العصبية الحركية

٣- الترتيب الصحيح للمراحل التي تمر بها لقمة البسكويت هي:

(الفم - المرئ - المعدة - الأمعاء الدقيقة)

(الفم - المعدة - الأمعاء الدقيقة - المرئ)

(الفم - المرئ - الأمعاء الدقيقة - المعدة)

(الفم - المعدة - المرئ - الأمعاء الدقيقة)

٤- يرمز لغاز الأوزون بالرمز :

O₄

O₃

O₂

O

٥- طبقة في الغلاف الجوي تتميز بخلوها من الظواهر الجوية هي :

التروبوسفير

الستراتوسفير

الميزوسفير

الثيرموسفير

السؤال الثاني : ضع كلمة (صحيحة) للعبارة الصحيحة وكلمة (خطأ) للعبارة الغير صحيحة لكل مما

يلي :

- ١- يتكون الغلاف الجوي للأرض من ٣ طبقات . (.....)
- ٢- ينشأ غاز الأوزون بتأثير الأشعة فوق البنفسجية . (.....)
- ٣- استخدام المبيدات الحشرية يؤثر سلبا على طبقات الغلاف الجوي . (.....)
- ٤- أول خطوات الإسعافات الأولية للإغماء هي إعطاء المغمى عليه ماء. (.....)
- ٥- الحبل الشوكي هو العضو المسؤول عن الفعل المنعكس . (.....)

السؤال الثالث / في الجداول التالية اختر العبارة من المجموعة (ب) وأكتب رقمها أمام مايناسبها من عبارات المجموعة (أ) :

الإجابة	المجموعة (أ)	المجموعة (ب)
(....)	أقرب كواكب النظام الشمسي إلى الشمس.	١ - الزهرة
(....)	أبعد كواكب النظام الشمسي عن الشمس.	٢ - عطارد ٣ - نبتون
(....)	أعلى طبقات الغلاف الجوي حرارة.	١ - الميزوسفير
(....)	أكثر طبقات الغلاف الجوي برودة.	٢ - الستراتوسفير ٣ - الثيرموسفير

السؤال الرابع: اكتب بين القوسين الاسم أو المصطلح العلمي الذي تدل عليه كل من العبارات التالية:

- ١- خط وهمي مائل يمر بالقطبين الشمالي والجنوبي للكرة الأرضية. (.....)
- ٢- نسيج قوي مرن يمنع احتكاك العظام وتآكلها . (.....)
- ٣- وعاء دموي ينقل الدم من الجسم عائداً به إلى القلب . (.....)
- ٤- تمزق أو تهتك يصيب العظام لعدة أسباب . (.....)
- ٥- تجمع من النجوم والكواكب والأقمار وأجسام كونية أخرى . (.....)

السؤال الخامس: ضع كلمة (صحيحة) للعبارة الصحيحة وكلمة (خطأ) للعبارة الغير صحيحة مع

تصحيح الخطأ إن وجد في كل مما يلي :

- ١- يتكون النظام الشمسي من ٩ كواكب . (.....)
تصحيح الخطأ :
- ٢- المبيدات الصديقة للبيئة لا تضر بصحتنا أو بالغلاف الجوي. (.....)
تصحيح الخطأ :
- ٣- الجهاز التنفسي يزود خلايا أجسامنا بالمغذيات. (.....)
تصحيح الخطأ :

السؤال السادس : أجب عن الأسئلة التالية :

- ١- عدد اثنان من مقومات الحياة على كوكب الأرض.
أ-
ب-.....
- ٢- اذكر اثنان من الممارسات السلبية التي تؤثر على طبقة الأوزون .
أ-
ب-.....

السؤال السابع : أكمل جداول المقارنة التالية:

النجم	الكوكب	أوجه المقارنة
.....	مصدر الضوء (ذاتي الإضاءة / غير ذاتي الإضاءة)

الأكسجين	الأوزون	أوجه المقارنة
.....	عدد ذرات الأكسجين

السؤال الثامن: علل لكل ما يأتي تعليلا علميا سليما :

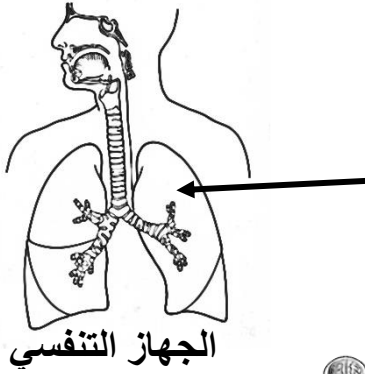
١- يخفق قلبك بشكل أسرع عند الركض .

.....

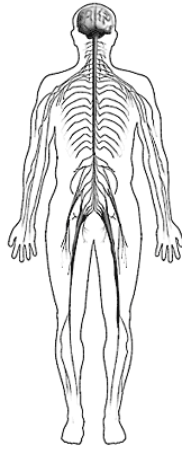
٢- إصابة رواد الفضاء بالعديد من الأمراض أثناء السفر للفضاء.

.....

السؤال التاسع : أكمل البيانات على الرسم :

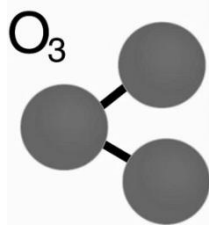


١- العضو المشار إليه بالرسم يسمى.....



٢- الجهاز الموضح أمامك يسمى

السؤال العاشر: ادرس الصورتين وأوجد العلاقة بينهما :



.....

انتهت الأسئلة