

المذكرة محلولة على مواقع
التواصل

Inst:Hussein_almaani

Face:الاستاذ حسين المعاني

مراجعة للصف الخامس
بالوحدة الثانية
الاعداد العشريّة

لمشاهدة شرح المذكرة وحلها
انزل على قناة الأستاذ حسين
المعاني على اليوتيوب ومن قوائم
التشغيل اختر الصف الخامس

اُكْتُبْ فِي الصُّورَةِ الْعَشْرِيَّةِ كَلًّا مِمَّا يَلِي:

ثَمَانِمِئَةٌ وَسَبْعَةٌ وَثَمَانُونَ جُزْءًا مِنْ أَلْفٍ.

تِسْعَةٌ صَحِيحٌ وَتِسْعَةٌ أَجْزَاءٍ مِنْ أَلْفٍ.

اُكْتُبِ الْإِسْمَ اللَّفْظِيَّ لِكُلِّ مِمَّا يَلِي:

١٦,٠٠٧

اُكْتُبِ الْقِيَمَةَ الْمَكَانِيَّةَ لِلرَّقْمِ الْمَلَوْنِ بِاللَّوْنِ الْأَحْمَرِ.

٢,٥٢

٩,٧١٦

٠,٤٣٨

اُكْتُبْ عَدَدًا عَشْرِيًّا مُكَافِئًا لِكُلِّ مِمَّا يَلِي:

٥,٣ ج

٠,٧٥ ب

٠,٩ أ

١ ضَعُ رَمَزَ الْعَلَاقَةِ الْمُنَاسِبِ (< أَوْ > أَوْ =).

$$١,٢٦ \bigcirc ١,٢ \text{ ج}$$

$$١,٧٠ \bigcirc ١,٧ \text{ ب}$$

$$١,٥ \bigcirc ١,١٥ \text{ أ}$$

$$٢٢,٨ \bigcirc ٣,٢٨ \text{ و}$$

$$١٤,٠ \bigcirc ١,٤ \text{ هـ}$$

$$١,٩٩ \bigcirc ١ \text{ د}$$

١ رَتَّبْ تَصَاعُدِيًّا.

$$١,٤٢ \text{ ، } ١,١٨ \text{ ، } ١,٣٣ \text{ أ}$$

رَتَّبْ تَنَازُلِيًّا.

$$١,٥ \text{ ، } ٤,٠٣ \text{ ، } ١,٠٥$$

قَرِّبْ إِلَى أَقْرَبِ جُزْءٍ مِنْ عَشْرَةٍ.

$$\approx ١,٣٧٤ \text{ ب}$$


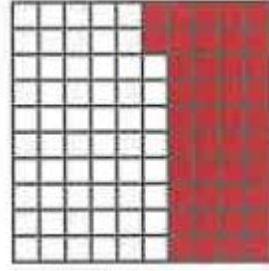

$$\approx ١,١٣ \text{ أ}$$

قَرِّبْ إِلَى أَقْرَبِ جُزْءٍ مِنْ مِئَةٍ.

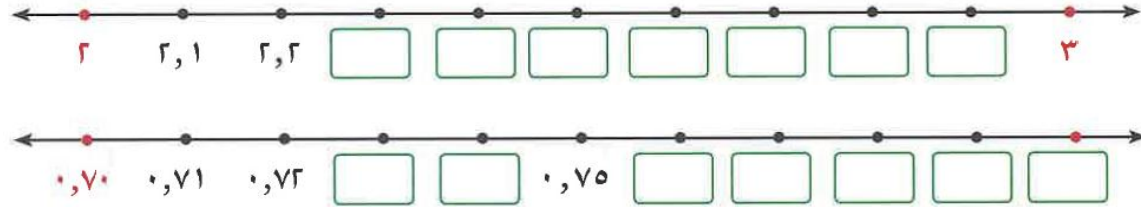
$$\approx ١,٤٤٤ \text{ ب}$$

$$\approx ١,١٤٦ \text{ أ}$$

اكتب في الصورة المعتادة والصورة العشرية ما يدل على الأجزاء الملونة فيما يلي:



أكمل رموز الأعداد العشرية على خط الأعداد.



اكتب في الصورة العشرية كلا مما يلي:

$$= 6 \frac{53}{100} \qquad = \frac{3}{10}$$

واحد صحيح وستون جزءاً من مئة.