

كشكول علاء
الدين
تدريبات الصف
الثامن

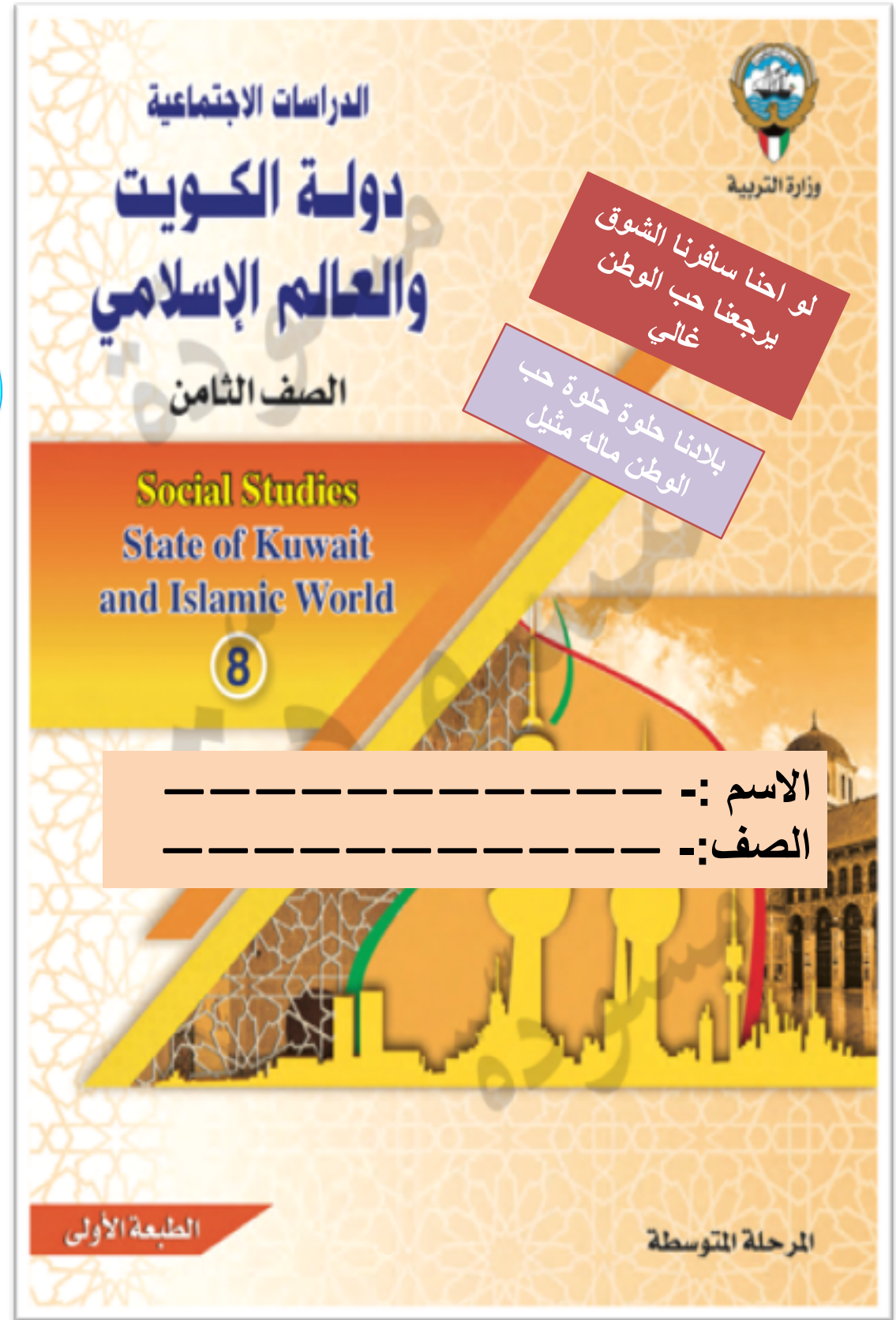


فكرة وإعداد المعلمة
شيماء العبدالرحمن

مديرة المدرسة :-
أ. وفاء العريعر

الموجهة الفنية :-
أ. هدى الختلان

رئيسة القسم :-
أ. عايشة الغريب



الدرس الأول :- لمحة تاريخية عن الحضارة الإسلامية



طالبتي الذكية تفاعلت الحضارة الإسلامية من
الحضارات التي سبقتها وتفاعلت معها ضع
الرقم الصحيح امام كل حضارة :-
1- الحضارة الفارسية 2- الحضارة
البيزنطية

.....
.....



سجلي يا ذكية
داخل الجدول اسم
العالم واهم ما
اشتهر به



إعداد المعلمة :- شيماء عبدالرحمن



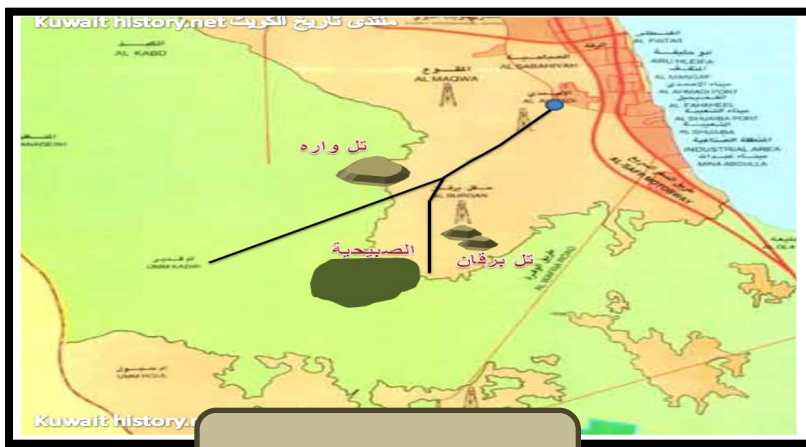
افتخري يا طالبتى بالمناطق الكويتية
التي ذكرت قديما كوني سريعة البديهة
واستعين بالخرائط لاكتشاف الأسماء



الدرس الثاني:-
أسس الحضارة
الإسلامية



سجلي على
أسس الحضارة
الإسلامية علي
الأيس كريم



الدرس الثالث خصائص الحضارة الإسلامية

مصباح علاء الدين السحري يبحث
عن الإجابات الصحيحة حوط الإجابة
المناسبة للسؤال التالي :- ما هي
خصائص الحضارة الإسلامية ؟



حضارة ايمان
وعمل



الدين
الإسلامي



الحضارات
المجاورة



حضارة
إنسانية



من أنا ؟
تعرف علي صور الشخصيات
مع كتابة اسم كل شخصية تحت الصورة



المشترك بين
الشخصيتين





من خلال النظر عن قرب تعرف على
الشخصيات التالية من هم ؟

انا من اتسعت رقعة العالم الإسلامي
في عهدي

.....

النايفة

انا من استحدثت نظام المحتسب

.....

النايفة




الدرس الرابع
ثانياً مظاهر
الحضارة
الإسلامية



اكمل الفراغات
التالية
المناصب القيادية في
الدولة الإسلامية

إعداد المعلمة :- شيماء عبدالرحمن


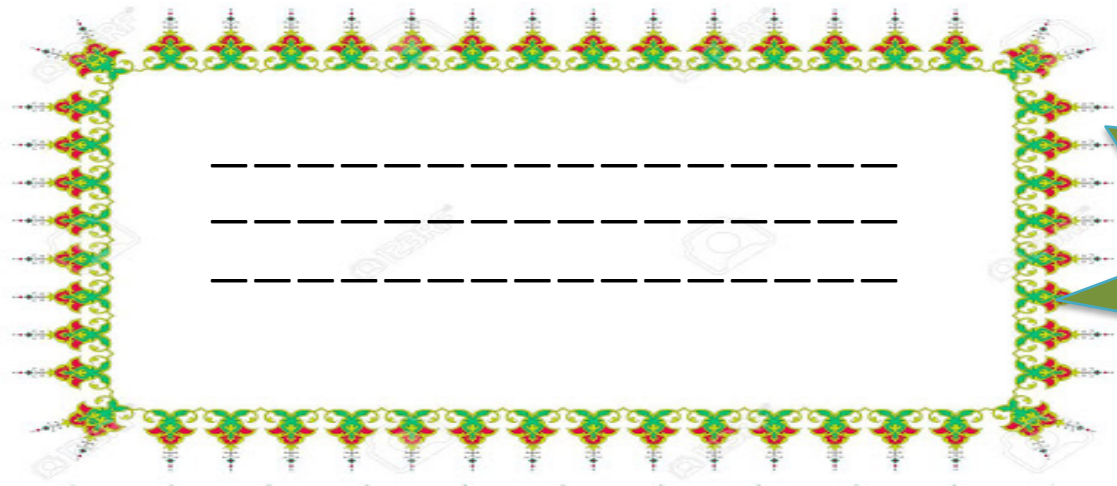


الدرس الخامس
تابع الموارد الاقتصادية
*الزراعة - الصناعة -
التجارة

ما هي جهود
المسلمين قديما
في الزراعة

عمل المسلمون كخلية النحل
في شتى مجالات الصناعة
فظهرت صناعات متعددة أذكر
الصناعات داخل خلية النحل

فرق في بين كل
من الصادرات
والواردات من حيث
المفهوم



الواردات

الصادرات



صل ما بين كل مفهوم والتعريف الخاص به

الدرس الخامس المظاهر الاقتصادية مصادر بيت مال المسلمين



ركن من اركان الإسلام يخرجها المسلمون الأغنياء للمستحقين من
الفقراء تزكية للنفس وتطهيرها



ضريبة الأرض الزراعية التي تخرج مبلغاً مالياً معيناً من ناتج المحصول
الزراعي

مبلغ مالي يدفعه الرجال غير المسلمين من (أهل الذمة)



الجزية

الزكاة

الخراج

لديك رسالة من الأمانة
العامّة للأوقاف
قومي بقراءتها
لستخرجي منها أهمية
الوقف الإسلامي



عرفت الكويت الوقف منذ نشأتها تأكيداً على حب اهل الكويت الدائم
الخير فهي صدقات يوقفها المرء لسد حاجات الفقراء والمساكين
والمرضى ونشر العلم النافع وبناء المدارس ودور الايتام


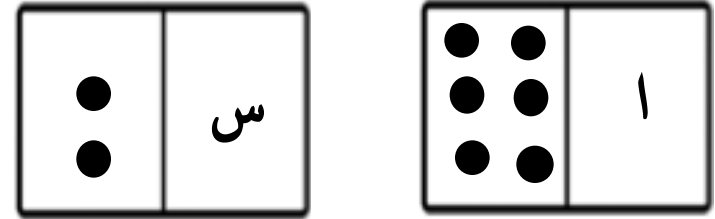
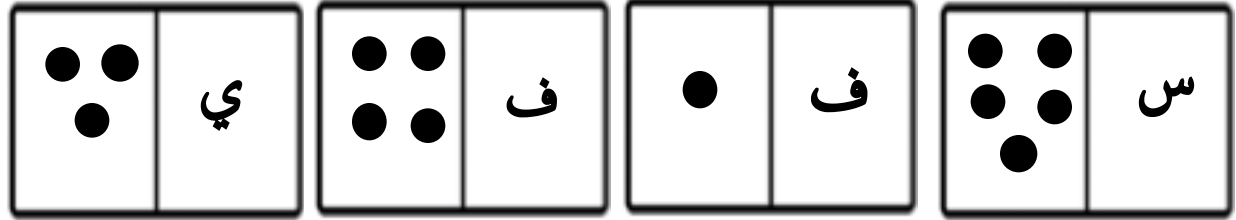
ضع اسفل كل صورة مظهر من
مظاهر الحضارة الاسلامية

3- المظاهر العمرانية

الدرس الخامس
تابع الموارد الاقتصادية



رتبي الأحرف من على حجر النرد ثم ضعني التعريف اسفلها



اكمل العبارة التالية بما يناسبها :-
تم افتتاح المسجد الكبير في
عام _____

إعداد المعلمة :- شيماء عبدالرحمن



المظاهر العمرانية
ب - العمار الدينية
والمدنية



اكمل المخططات
السهمية التالية

أسماء المساجد الرئيسيّة
الثلاث

الكعبة المشرفة

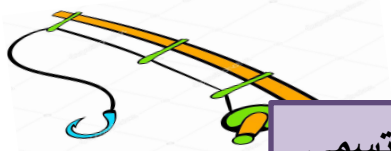
أشهر القصور في الحضارة
الإسلامية

قصر عمرة

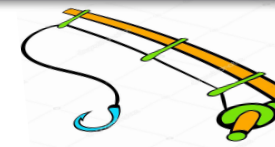
قومي باصطياد السمكة التي تحمل الإجابة
الصحيحة



2 - يقع قصر الحمراء في مدينة تسمى



1 - يوجد المسجد الأموي بمدينة
تسمى :-



إعداد المعلمة :- شيماء العبدالرحمن

الدرس السابع

مظاهر الحياة الاجتماعية



صَلِّ المِفْتَاحَ الصَّحِيحَ
الَّذِي يَحْمِلُ الإِجَابَةَ
الصَّحِيحَةَ لِفَتْحِ القِفْلِ

رجال
الدين



فئة تهتم بشؤون الدولة
الاسلامية. من الناحية
السياسية والعسكرية

الحكام



النصارى واليهود الذين ظلوا على
دينهم مع. دفع الجزية
هم

اهل
الذمة




فئة متخصصة بالناحية الدينية من
فتاوى دينية. وغيرها
بما يخدم المسلمين



ما هي العوامل التي
أدت الى ازدهار
العلم و العلماء؟!
استخدم ذاكرتك
القوية

الدرس الثامن

مظاهر الإنجازات العلمية
والثقافية



حدد على الخريطة التي امامك اهم المراكز العلمية
في الحضارة الاسلامية

أعد كتاب المعرفة الخاص بك من خلال الاستعانة بالصورة التالية لتستخرج منها أهم ما اشتهر به كل عالم من العلماء الأربعة

1

2

3

4

قُمرة = كاميرا

العالم المسلم **الحسن بن الهيثم** عام 1000 م غيّر مفهوم التصوير بإثباته قاعدة كلما صغر الثقب في الغرفة المظلمة كلما انتقلت الصور بشكل أوضح وتفصيل أكثر عبر الضوء الداخل لها !!

كلمة قمرّة العربية اشتقت من اللاتينية camera obscura وتعني الغرفة المظلمة

فكرة القمرة والغرفة المظلمة

تدرجت الكاميرا وتطورت عبر الأزمنة لتظهر لنا أول صورة موثقة عام 1826

وحتى يومنا هذا تشكل الكاميرا لنا ضرورة مهمة من ضروريات الحياة واعتمادها

#شكرا_ابن_الهيثم

الحسن بن الهيثم

أفضل علماء العرب في الطب

My Health Up

هو أبو علي الحسن بن الحسن بن الهيثم ولد عام 965م - 1040م اشتهر في طب العيون والبصريات والأدراك البصري وينسب إليه أساسيات اختراع الكاميرا فهو من أثبت بأن الضوء يأتي من الأجسام التي تبعثه:

- ✓ كتاب المناظر (ثورة في علم البصريات)
- ✓ كتاب في تقويم المناجاة الطبية
- ✓ كتاب في منافع الأعضاء
- ✓ كتاب عيون الأنبياء في طبقات الأطباء

علماء العرب

معادلة الخوارزمي عن الإنسان

إذا كان الإنسان ذو (أخلاق) فهو = 1 وإذا كان الإنسان ذو (جمال) فأضف إلى الواحد صفراً = 10 وإذا كان ذو (مال) أيضاً فأضف صفراً آخر = 100 وإذا كان ذو (حسب ونسب) فأضف صفراً آخر = 1000 فإذا ذهب العدد واحد وهو (الأخلاق) ذهبت قيمة الإنسان وبقيت الأصفار التي لا قيمة لها .

الفوارزمي

المكتبة العامة

وإنك لو تأملت أحوال الناس
لوجدت أكثرهم عيوباً
أشدّهم تعيباً !!

الجاحظ

أبو بكر الرازي

أفضل علماء العرب في الطب

My Health Up

أبو بكر محمد بن يحيى بن زكريا الرازي ولد في عام 865م - 923م وهو عالم فارسي وهو أول جراح في العالم الإسلامي وأول من اكتشف خيوط الجراحة ولقى بأعظم أطباء العالم الإسلامي أهم كتبه في الطب:

- ✓ كتاب الحاوي في الطب
- ✓ كتاب المنصور
- ✓ كتاب الطب الروحاني
- ✓ كتاب الكيمياء وانما للحمّة أقرني

علماء العرب

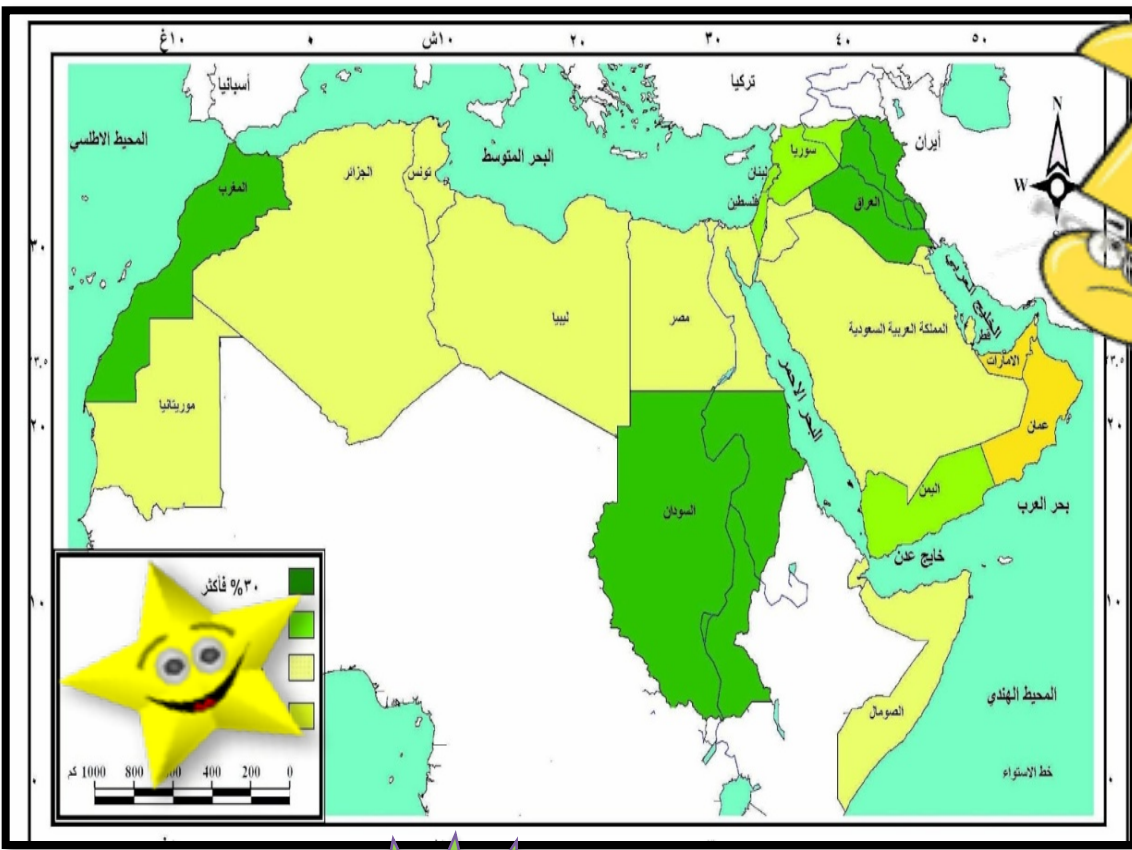
أبو بكر الرازي

إعداد المعلمة :- شيماء العبدالرحمن

الدرس التاسع

مراكز اشعاع الحضارة الإسلامية ودورها
في النهضة الاوربية الحديثة

ضع نجمة على الدول الحالية لمعابر
الحضارة الإسلامية الى أوروبا



انكري المجالات
التي كانت
للحضارة
الإسلامية الفضل
في نقلها الى
أوروبا



قدم لك المعلم وسيلة مساعدة وهي الصورة للإجابة علي الأسئلة التالية :-
1- ما التخصص الذي برع به العالم الإدريسي ؟
2- وما اسم النظرية التي اكتشفها؟



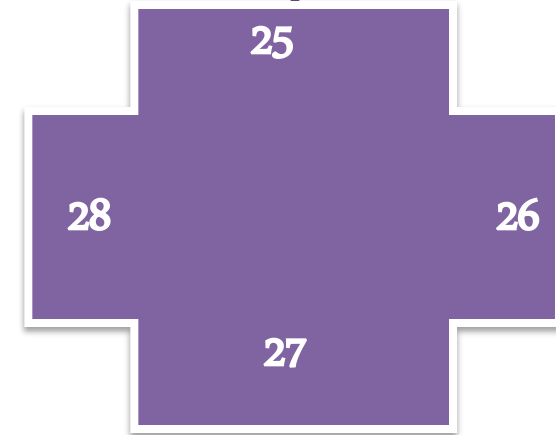

إعداد المعلمة :- شيماء العبدالرحمن

الدرس الأول
البيئة الطبيعية لدول العالم
الإسلامي المعاصرة

اختر الإجابة الصحيحة من بين البدائل التالية :

2 - أكبر الدول الإسلامية من حيث المساحة

1 - تضم قارة اسيا دولة اسلامية



علي الأهمية الجغرافية للعالم الإسلامي

ارسم دائرة بيانية
عن نسبة مساحة
العالم الإسلامي
من مساحة العالم

.....


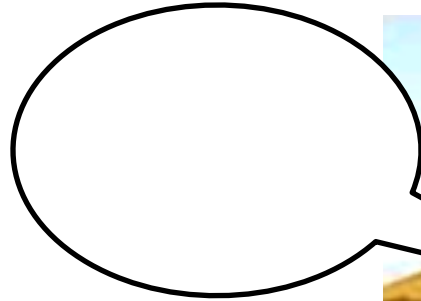
.....

الدرس الثاني

البيئة الطبيعية لدول العالم
الاسلامس المعاصرة
ب التضاريس



عرف المظاهر التضاريسية المشار اليها
ثم اذكر بعض منها في دولة الكويت:-



- 1



- 2



- 3

إعداد المعلمة :- شيماء العبدالرحمن



بذكاء وقوة ملاحظة قم بمساعدة الدول لتتعرف على
مناخها بايصال الدولة بالاقليم المناخي المناسب لها



عددي العوامل التي أدت الى تنوع المناخ في العالم
الاسلامي

باكستان



الموسمي الاستوائي

الكويت



الصحراوي الاستوائي

تركيا







المعتدل الاستوائي

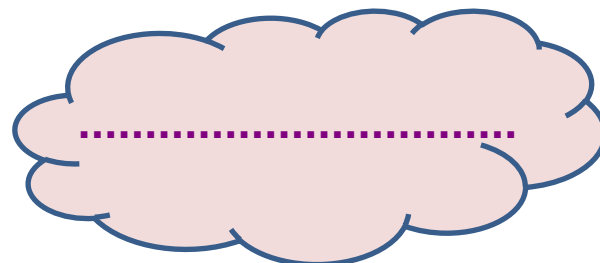
مصر



المداري القاري الصحراوي



إعداد المعلمة :- شيماء العبدالرحمن



ما هي عناصر المناخ؟



السودان

الصحراء
الكبرى

تقع جبال الأحجار في دولة

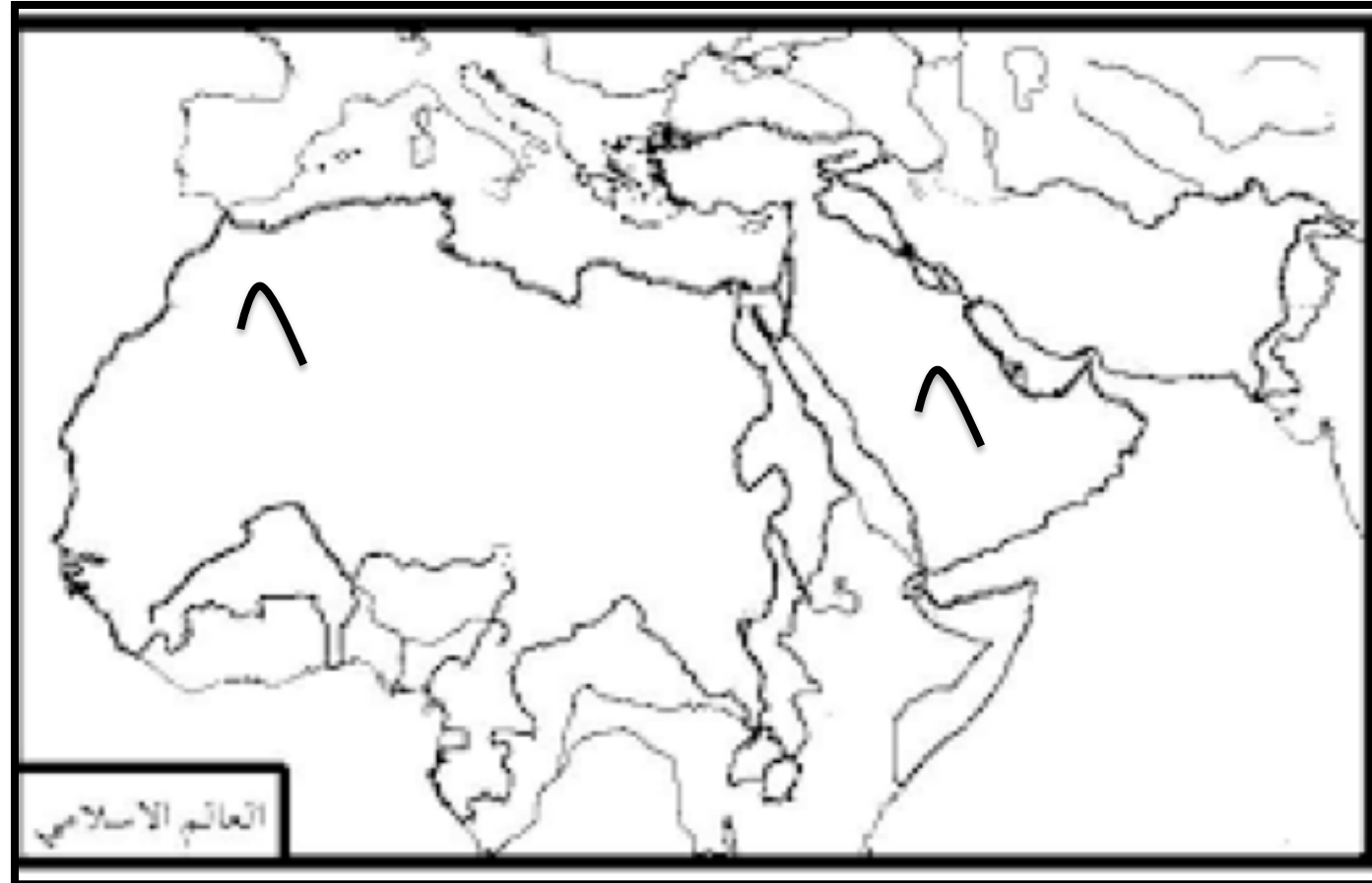
أكبر الهضاب في الوطن العربي

الجزائر

نجد



اقرأ بتمعن لتستطيع
تظليل الإجابة
الصحيحة



حدد على خريطة العالم الإسلامي
ما هو مطلوب منك :-
1- اذكر أسماء الجبال علي خريطة
العالم الإسلامي ؟
2- دون أهم الهضاب في العالم
الإسلامي ؟



إعداد المعلمة :- شيماء العبدالرحمن



رتب أحرف كل سطر مما يلي حسب التعريف
المناسب له الدقة المطلوبة أثناء الحل

ص	ا	ح	ع	ر
س	س	ن	ن	ة
ل	ج	ب		
ة	ن	ق	ب	
س	ن	ق		
ل	ث			
ي	و	ا	د	
و	ة	ا	ح	



تتميز بالجفاف
مجموعة متصلة من الجبال
أعلاه قمة
تشبه المائدة
أنسب الأماكن للسكان
أقل ارتفاعاً من الجبل
نشأ من الأمطار
أرض خصبة وسط الصحراء



سهل	وادي	تلل

في هذا الصندوق
جمعنا بعض أسماء
المظاهر التضاريسية
في دولة الكويت
صنفيها في الجدول
التالي،

أذكىاء الصف الثامن
اكمل المخطط السهمي
بشكل دقيق وصحيح

الموارد المائية في
العالم الإسلامي

مصادر المياه في العالم الإسلامي

صنف الموارد المائية في العالم الإسلامي في الجدول التالي

جبل طارق - الأطلسي - موزمبيق - الأسود - الدردنيل - هرمز - عمان -
عدن - الهندي - السويس - ملقا - البسفور

البحار المحيطات الخلجان المضائق والقنوات

البحار	المحيطات	الخلجان	المضائق والقنوات

إعداد المعلمة :- شيماء عبدالرحمن



اكمل العبارة التالية
تم اكتشاف حقل الروضتين
في عام

استخرج من الخريطة
التالية المنطقة التي تمثل
مصدر المياه لدولة
الكويت قديما





ما النتائج المترتبة على
التنوع التضاريسي
والمناخي للعالم الإسلامي

تأثير البيئة الطبيعية في دول العالم الإسلامي على الاقتصاد والمجتمع



يبلغ انتاج العالم الإسلامي من النفط الخام 36 %

أولى الدول الإسلامية في انتاج الذهب دولة السودان

يوجد اكبر حقل غاز طبيعي في دولة قطر

اكتشف الخطأ؟




يستخدم اليورانيوم في انتاج الطاقة النووية لأغراض عسكرية، وفي صناعة الدبابات والصواريخ ومن الجدير بالذكر أن القنبلة الذرية الأولى التي أُطلقت في الحرب العالمية الثانية عام 1945م على مدينة نجازاكي في اليابان كانت تحتوي على نظير اليورانيوم-235، وتسببت في تدمير البنى التحتية وقتل عشرات الآلاف من البشر كما يستخدم في تصنيع الأسمدة الفوسفاتية.




أقرني الفقرة التالية ثم
استخرجي منها أثنان من
استخدامات اليورانيوم

إعداد المعلمة :- شيماء العبدالرحمن



سجلي على أوراق الشجرة
ما هي اهم العوامل التي
ساعدت على زيادة الإنتاج
الزراعي في العالم الاسلامي

الثروة الزراعية



استعن بمهاراتك الحسابية
وحول نسبة السكان الذين
يعملون في الزراعة بالعالم
الإسلامي إلى دائرة بيانية

ابعث برسالة تناشد
من مسئولين في الدول
الإسلامية لتطوير
الزراعة في دولنا

.....

إعداد المعلمة :- شيماء عبدالرحمن



الجوت




الغلات النقدية

عرفي كل
من



رتب الأحرف لتستطيع
الوصول للإجابة :-
من هي الدولة الإسلامية
التي احتلت المركز الثاني
في الإنتاج البحري ؟



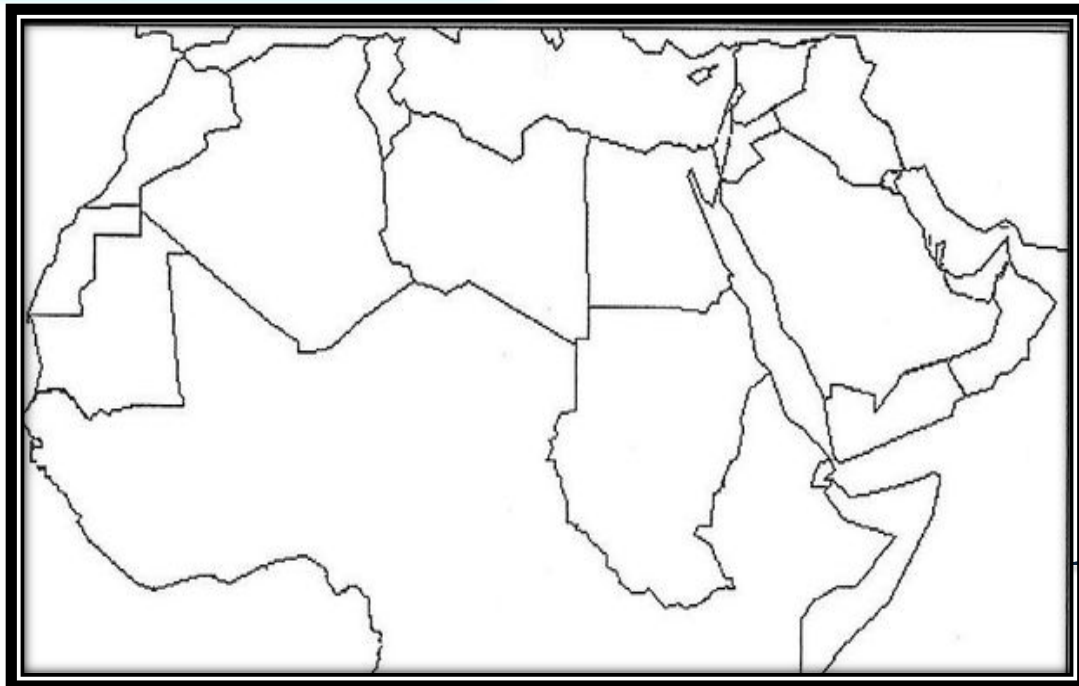
تتكون مصادر
إنتاج الأسماك
من

مصادر طبيعية

- 1
- 2

مصادر غير
طبيعية

- 1



ارسمي
على

الدولة العربية الأولى في
الإنتاج السمكي

إعداد المعلمة :- شيماء عبدالرحمن