



تم تحميل الملف من  
موقع مدرستي الكويتية  
[www.q8-online.com](http://www.q8-online.com)  
هنا تجد كل ما تحتاجه من ملفات



وزارة التربية  
الإدارة العامة لمنطقة الأحمدية التعليمية  
سهيل بن عمرو المتوسطة بنين

## قسم الرياضيات



# متابعة

## الصف السادس

# الفصل الدراسي الأول

إعداد : قسم الرياضيات  
رئيس القسم : أ / زيدان العجمي  
مدير المدرسة : أ / سعد العويهان

العام الدراسي ٢٠١٧ / ٢٠١٨ م

س ١- من الجدول التالي احسب :

المبيعات في الساعة الواحدة بالدينار في أحد المجمعات	
٨	المحل الأول
٧	المحل الثاني
٣	المحل الثالث
٥	المحل الرابع
٧	المحل الخامس

١- المتوسط الحسابي =

٢- الوسيط =

٣- المنوال =

٤- المدى =

س ٢- أوجد المتوسط الحسابي و الوسيط والمنوال والمدى للبيانات التالية

١٠ ، ٣٠ ، ٣٥ ، ٤٠ ، ٣٠

١- المتوسط الحسابي =

٢- الوسيط =

٣- المنوال =

٤- المدى =

س ٣- أوجد المتوسط الحسابي و الوسيط والمنوال والمدى للبيانات التالية

٨٠ ، ٥٠ ، ٩٥ ، ٨٠ ، ١٥

١- المتوسط الحسابي =

٢- الوسيط =

٣- المنوال =

٤- المدى =

س ٤- أوجد المتوسط الحسابي و الوسيط والمنوال والمدى للبيانات التالية

٤٠ ، ٧٠ ، ٣٥ ، ٥٥ ، ٧٠

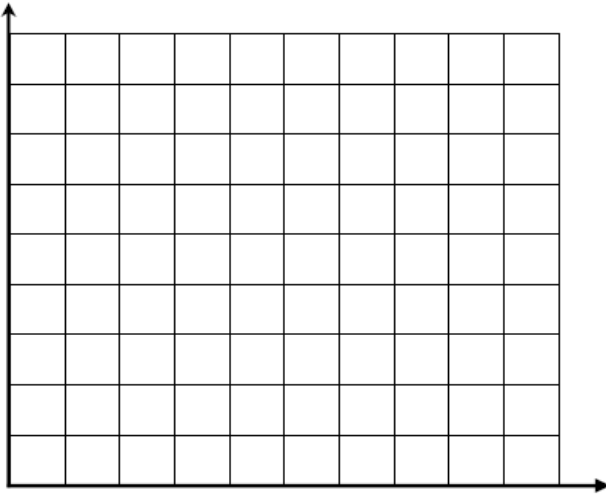
١- المتوسط الحسابي =

٢- الوسيط =

٣- المنوال =


٤- المدى =

س ٥ - استخدم جدول التكرار لتصنع مدرجاً تكرارياً :



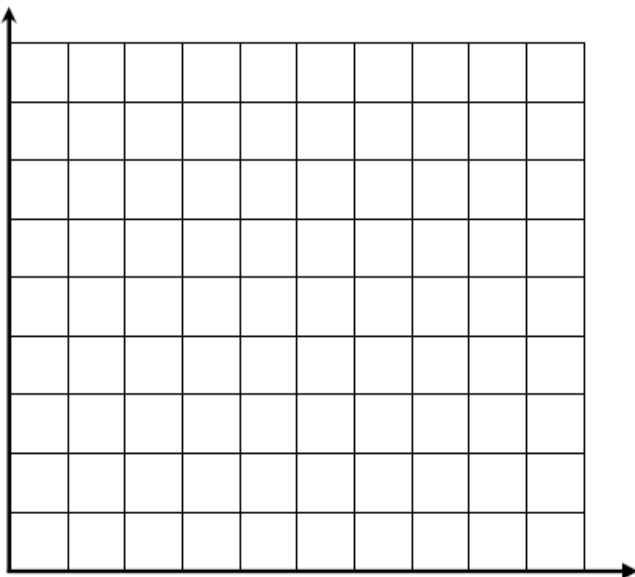
المدة التي استغرقها سليمان للدراسة لكل مادة		
التكرار	علامات العد	الفترة (دقائق)
١٠		-٥
٣		-١٠
٧		-١٥
١٤		-٢٠
٤		

س ٦ - ١ مثل البيانات الواردة في الجدول باستخدام الأعمدة المزدوجة :



السنة	ثمن القلم بالفلس	ثمن الكتاب بالفلس
٢٠٠٥م	٢٠٠	١٠٠
٢٠٠٦م	٢٥٠	١٥٠
٢٠٠٧م	٣٠٠	١٥٠
٢٠٠٨م	٣٠٠	٢٠٠
٢٠٠٩م	٣٥٠	٢٥٠

س ٧ - ١ مثل البيانات الواردة في الجدول باستخدام الخطوط :



السنة	عدد المشاركين في عمل خيري
١٩٩٥م	٨
١٩٩٦م	١٢
١٩٩٧م	٧
١٩٩٨م	١٥
١٩٩٩م	١٦



تم تحميل الملف من  
موقع مدرستي الكويتية  
[www.q8-online.com](http://www.q8-online.com)  
هنا تجد كل ما تحتاجه من ملفات

س ٨- في العدد ٦٥٣٩٨٧٤١٠٢  
أوجد :

القيمة المكانية للرقم ٧ هو

القيمة المكانية للرقم ٩ هو

القيمة المكانية للرقم ٥ هو

س ٩- أكمل ما يأتي :

١- العدد ٥١٣٨٠٨٦٥٣ بالشكل الموجز

٢- العدد ٥١٣٨٠٨٦٥٣ بالشكل الموجز

٣- العدد ٥١٣٨٥٥٦٥٣ بالشكل الموجز

س ١٠- أكمل ما يأتي :

١- العدد ٣٤١ ألف و ٥٠٩ بالشكل النظامي

٢- العدد ١٧ مليون و ٨٤٦ ألف و ٢٠٣ بالشكل النظامي

٣- العدد ٩٤٣ مليون و ٧ آلاف و ٨ بالشكل النظامي

س ١١- أكمل ما يأتي :

١- قرب العدد ٢٤٩٧.٥٨٦٣ مقرباً لأقرب جزء من عشرة

٢- قرب العدد ٥٨٦٣,٢٤٩٧ مقرباً لأقرب جزء من مائة

٣- قرب العدد ٥٨٦٣,٢٤٩٧ مقرباً لأقرب جزء من ألف

٤- قرب العدد ٥٨٦٣,٢٤٩٧ مقرباً لأقرب وحدة

٥- قرب العدد ٥٨٦٣,٢٤٩٧ مقرباً لأقرب عشرة

٦- قرب العدد ٢٤٩٧.٥٨٦٣ مقرباً لأقرب مائة

٧- قرب العدد ٥٨٦٣,٢٤٩٧ مقرباً لأقرب ألف



س ١٦ - أوجد ناتج قسمة كلا مما يأتي :

$$\begin{array}{r} \phantom{00} \\ 76 \overline{) 120.84} \\ \phantom{00} \end{array} \quad \text{ب}$$

$$\begin{array}{r} \phantom{00} \\ 34 \overline{) 731.0} \\ \phantom{00} \end{array} \quad \text{پ}$$

$$\begin{array}{r} \phantom{00} \\ 26 \overline{) 28.86} \\ \phantom{00} \end{array} \quad \text{د}$$

$$\begin{array}{r} \phantom{00} \\ \phantom{00} \end{array} \quad \text{ج}$$
$$= 4.5 \div 36.49$$
$$= \dots \div \dots$$

$$\begin{array}{r} \phantom{00} \\ \phantom{00} \end{array} \quad \text{و}$$
$$= 1.17 \div 1.497$$
$$= \dots \div \dots$$

$$\begin{array}{r} \phantom{00} \\ 27 \overline{) 5751} \\ \phantom{00} \end{array} \quad \text{ه}$$

$$\begin{array}{r} \phantom{00} \\ \phantom{00} \end{array} \quad \text{م}$$
$$= 1.3 \div 1.228$$
$$= \dots \div \dots$$

$$\begin{array}{r} \phantom{00} \\ 52 \overline{) 126.8} \\ \phantom{00} \end{array} \quad \text{ن}$$

(ك)

$$\sqrt{4507} \approx 32 \text{ لاقرب آحاد}$$

(ي)

$$\sqrt{41956} \approx 204$$

س ١٧ - أوجد قيمة "ص" في كلاً مما يلي:

$$\square = \text{ص} \times 4 = 400$$

$$\square = \text{ص} \times 2.7 = 27$$

$$\square = \text{ص} \times 0.59 = 590$$

$$\square = \text{ص} \div 5.16 = 0.516$$

$$\square = \text{ص} \div 6 = 0.006$$

$$\square = \text{ص} \div 0.07 = 0.0007$$

س ١٨ - قدر الناتج باستخدام التقريب المناسب:

$$\square = 31 \times 53$$

$$\square = 209 \times 675$$

$$\square = 57 \div 346.4$$

$$\square = 6090 \div 12007$$

$$\square = 79 \times 9$$

$$\square = 4.9 \times 8.03$$

$$\square = 63 \div 370.5$$

$$\square = 32 \div 584$$

س ١٩ - اكمل الجدول التالي:

م	العدد يقبل القسمة على	٢	٣	٤	٥	٦	٩	١٠
١	٢٢٣٤							
٢	٣٦١٤٠							
٣	٧٥٩٣							
٤	٦٥٤٣							
٥	٧٢٨١٢							

س ٢٠ - أكتب كلا من نواتج الضرب أدناه على شكل عدد مرفوع لأس

$$(1) = 6 \times 6 \times 6 \times 6 \times 6$$

$$(2) = 11 \times 11 \times 11 \times 11$$

$$= 21 \times 21 \times 21 \times 21 \times 21 \times 21 \quad (3)$$

$$= 9 \times 9 \times 9 \times 9 \times 9 \times 9 \times 9 \times 9 \times 9 \times 9 \quad (4)$$

$$= 7 \times 7 \times 7 \times 7 \times 7 \times 7 \times 7 \times 7 \times 7 \times 7 \times 7 \times 7 \quad (5)$$

س ٢١- أوجد قيمة كل مما يأتي :

$$= 3^6 \quad (1)$$

$$= 4^5 \quad (2)$$

$$= 2^8 \quad (3)$$

$$= 7 + 2^2 \quad (4)$$

$$= 5^2 - 2^3 + 3^4 \quad (5)$$

س ٢٣- أوجد العامل المشترك الأكبر لكل مما يأتي :

$$(1) \quad 36, 24$$

$$(2) \quad 28, 35$$

$$(3) \quad 16, 24$$

س ٢٢- أكمل الجدول التالي :

م	العدد	أولي	غير أولي
١	٤١		
٢	٩		
٣	٢٩		
٤	١		
٥	٤٧		

س ٢٤- أوجد المضاعف المشترك الأصغر لكل مما يأتي :

$$(5) \quad 5, 4$$

$$(6) \quad 8, 6$$

$$(8) \quad 9, 12$$

$$(9) \quad 4, 15$$

$$(1) \quad 7, 5$$

$$(2) \quad 9, 6$$

$$(3) \quad 8, 14$$

$$(4) \quad 4, 3$$



س ٢٥- أكتب كلا من الكسور المركبة على شكل عدد كسري أو على شكل عدد كلي :

$$\frac{69}{9} \quad \boxed{2}$$
$$\frac{41}{5} \quad \boxed{4}$$
$$\frac{29}{3} \quad \boxed{6}$$
$$\frac{38}{4} \quad \boxed{8}$$
$$\frac{65}{8} \quad \boxed{10}$$

$$\frac{15}{7} \quad \boxed{1}$$
$$\frac{17}{3} \quad \boxed{3}$$
$$\frac{75}{8} \quad \boxed{5}$$
$$\frac{58}{5} \quad \boxed{7}$$
$$\frac{37}{9} \quad \boxed{9}$$

س ٢٦- رتب الكسور الآتية تصاعديا ثم تنازليا :

$$\frac{3}{18}, \frac{1}{2}, \frac{7}{9} \quad \boxed{2}$$

تصاعديا :

تنازليا :

$$\frac{4}{6}, \frac{1}{4}, \frac{3}{8} \quad \boxed{4}$$

تصاعديا :

تنازليا :

$$\frac{4}{15}, \frac{3}{5}, \frac{1}{3} \quad \boxed{1}$$

تصاعديا :

تنازليا :

$$\frac{2}{6}, \frac{1}{2}, \frac{5}{12} \quad \boxed{3}$$

تصاعديا :

تنازليا :

س ٢٧- أكتب كلا من الكسور الاعتيادية الآتية في صورة كسر عشري :

$$\frac{3}{5} \quad \boxed{2}$$

$$\frac{6}{8} \quad \boxed{4}$$

$$\frac{7}{20} \quad \boxed{6}$$

$$\frac{6}{125} \quad \boxed{8}$$

$$\frac{1}{2} \quad \boxed{1}$$

$$\frac{1}{4} \quad \boxed{3}$$

$$\frac{7}{25} \quad \boxed{5}$$

$$\frac{3}{10} \quad \boxed{7}$$

س ٢٨- قارن بين الكسور باستخدام < أو > أو = فيما يأتي :

$$\frac{2}{3} \bigcirc \frac{7}{9} \quad \boxed{4}$$

$$\frac{1}{4} \bigcirc \frac{3}{4} \quad \boxed{1}$$

$$\frac{5}{12} \bigcirc \frac{5}{8} \quad \boxed{5}$$

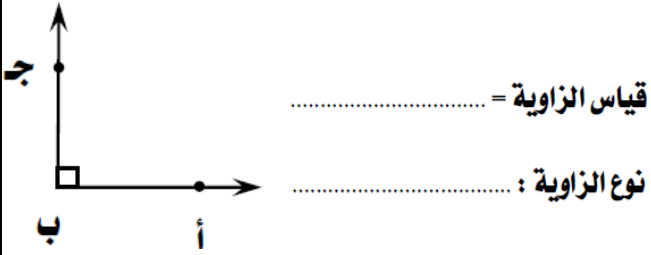
$$\frac{10}{16} \bigcirc \frac{5}{8} \quad \boxed{2}$$

$$\frac{9}{6} \bigcirc \frac{7}{6} \quad \boxed{6}$$

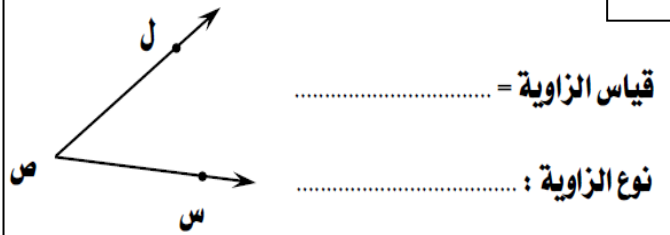
$$\frac{4}{9} \bigcirc \frac{7}{10} \quad \boxed{3}$$

س ٢٩ - استخدم المنقلة لإيجاد قياس الزوايا التالية ثم أكتب نوعها :

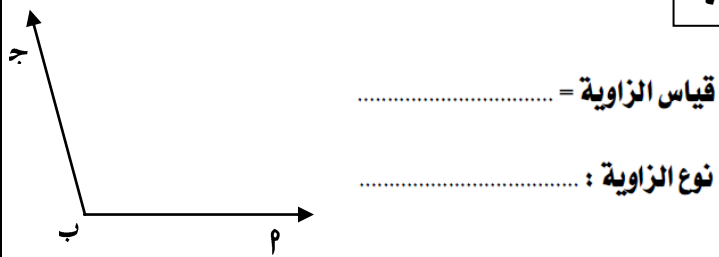
٢



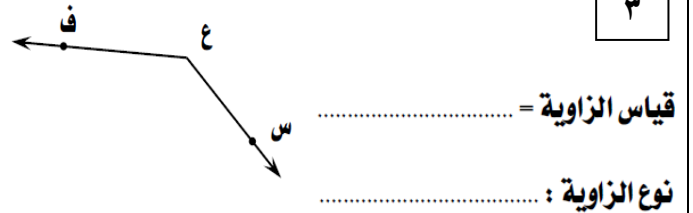
١



٤



٣



س ٣٠ - استخدم المنقلة لرسم الزوايا التالية :

٢

الزاوية س ص ع التي قياسها ١٣٠ °

١

الزاوية م ب ج التي قياسها ٦٠ °

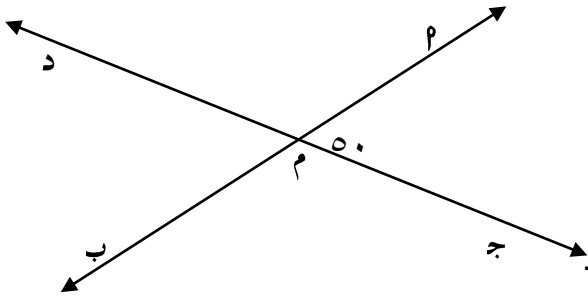
٤

الزاوية م ب ج التي قياسها ١٥٠ °

٣

الزاوية م ب ج التي قياسها ٩٠ °

س ٣١ - في الشكل المرسوم من ( المعلومات على الرسم ) أكمل كلا مما يلي :



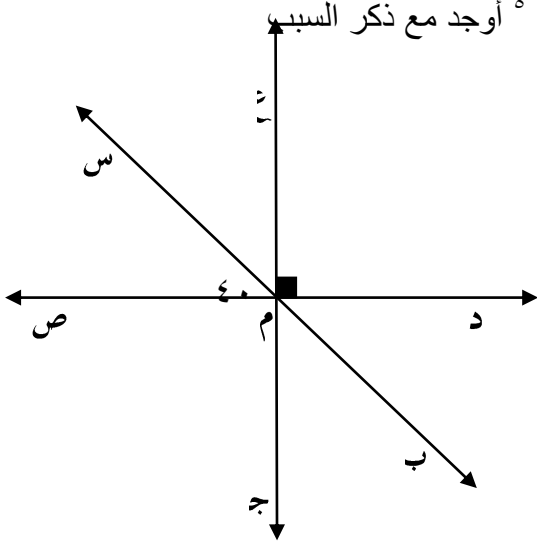
د م ج تقابل بالرأس د .....

د م د د، د ..... متجاورتان على خط مستقيم

د م د د، د ..... متقابلتان بالرأس

و ( د م ب ) = ..... السبب .....  
و ( د م د ) = ..... السبب .....

س ٣٢ - في الشكل المقابل و ( د س م ص ) =  $40^\circ$  ، و ( د م د م ) =  $90^\circ$  أوجد مع ذكر السبب



و ( د م ب ) = ..... السبب .....

و ( د م س ) = ..... السبب .....

و ( د م س ) = ..... السبب .....

و ( د م ج ) = ..... السبب .....

س ٣٣ -

استخدم الشكل المبين أدناه وأعط مثال عن كل مفهوم هندسي

زاوية قائمة: .....

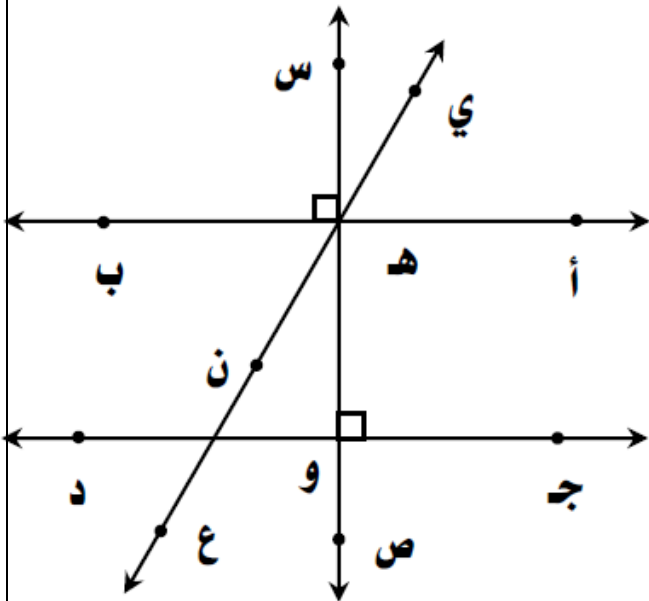
زاوية حادة: .....

زاوية منفرجة: .....

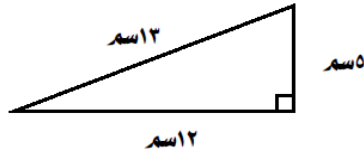
مستقيمان متقاطعان غير متعامدان: .....

مستقيمان متعامدان: .....

مستقيمان متوازيان: .....

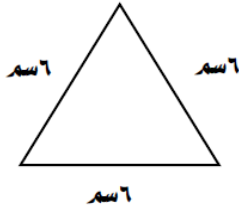


س ٣٤ - صنف المثلثات التالية بحسب أطوال أضلاعها وقياس الزوايا



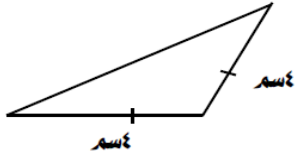
نوع المثلث من حيث أطوال الأضلاع: .....

نوع المثلث من حيث قياس الزوايا: .....



نوع المثلث من حيث أطوال الأضلاع: .....

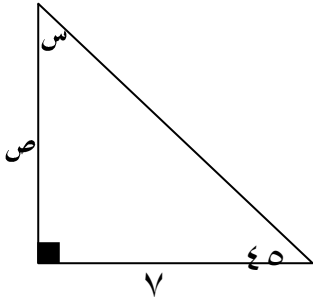
نوع المثلث من حيث قياس الزوايا: .....



نوع المثلث من حيث أطوال الأضلاع: .....

نوع المثلث من حيث قياس الزوايا: .....

س ٣٥ - أوجد قيمة كل من المتغيرات الموضحة على كل شكل من الأشكال الآتية :-



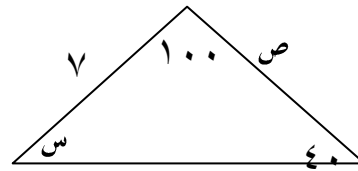
( ٢ )

س = السبب

ص = السبب

نوع المثلث بالنسبة لأضلاعه هو :

نوع المثلث بالنسبة لزاوياه هو :



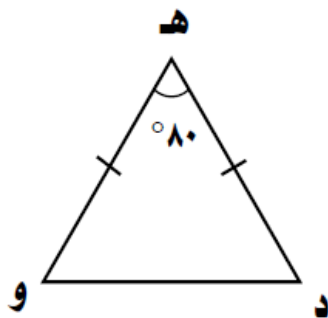
( ١ )

س = السبب

ص = السبب

نوع المثلث بالنسبة لأضلاعه هو :

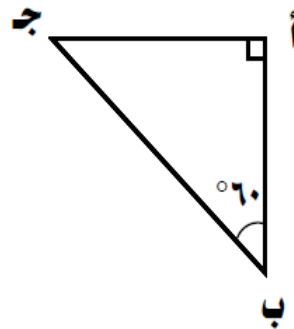
نوع المثلث بالنسبة لزاوياه هو :



( ٤ )

ق ( د ) = ق ( و ) =

السبب: .....

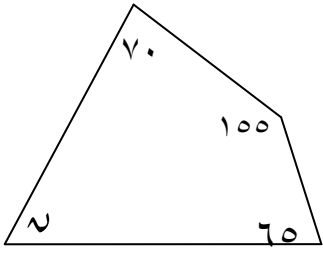


( ٣ )

ق ( ج ) = .....

السبب: .....

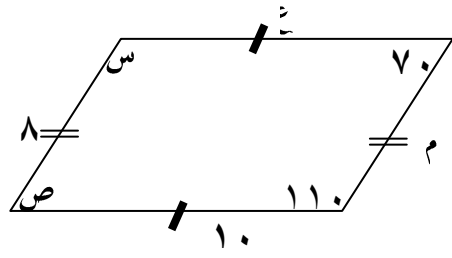
س ٣٦ - وجد قياس الزاوية المجهولة في الشكلين التاليين :



٢

= ٢

اسم الشكل هو :



١


= س

= ص

= ع

= م

اسم الشكل هو



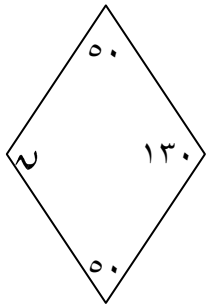
٤

..... = ( ن ) ق  
..... السبب :



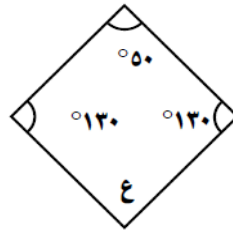
٣

..... = ( ن ) ق  
..... السبب :



٦


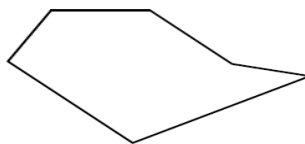
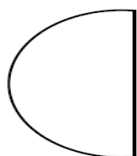
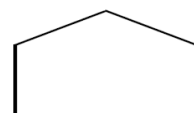
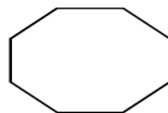
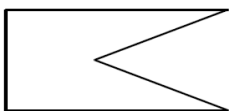
..... = ( ن ) ق  
..... السبب :



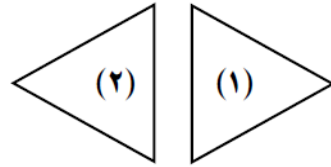
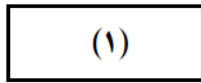
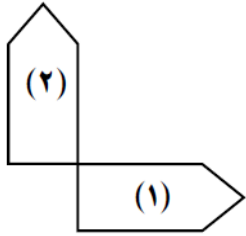
٥

..... = ( ن ) ق  
..... السبب :



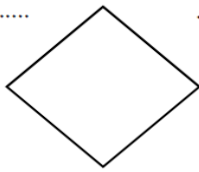
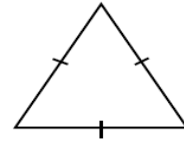
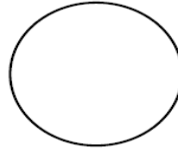
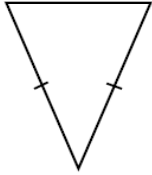
س ٣٧ - اكتب اسم كل من المضلعات التالية :



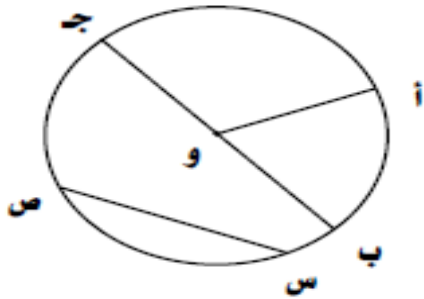
س ٣٨ - صف الحركة في كل شكل مما يلي :



س ٣٩ - أوجد خطوط التناظر لكل شكل مما يلي :



س ٤٠ - (ع) اكتب ما تمثله كل من الرموز التالية :



أ ج

ب ج

و ج

س ص

أ و ب

س ٤١ - باستخدام الفرجار والمسطرة ارسم المثلث  $ABC$  الذي فيه طول  $AB = 7$  سم ،  $BC = 5$  سم ،

،  $AC = 4$  سم

س ٤٢ - باستخدام الفرجار والمسطرة ارسم المثلث  $٢$  ب ج الذي فيه طول  $٢$  ب =  $٦$  سم ،  $٦$  ج =  $٦$  سم ،  $٦$  سم

س ٤٣ - باستخدام الفرجار والمسطرة ارسم الدائرة التي مركزها م وطول نصف قطرها  $٤$  سم

س ٤٤ - باستخدام الفرجار والمسطرة ارسم الدائرة التي مركزها ن وطول نصف قطرها  $٦$  سم